

# دفترچه خود آزمای آزمون های استخدامی

(ششمین بسته - ویژه فراگیر نهم)



سرویس خصوصی خدمات عام المنفعه اخبار شغل و استخدام

[Www.IranEstekhdam.Ir](http://www.IranEstekhdam.Ir)

خواننده گرامی؛ در جهت بهبود کیفیت این فایل؛ لطفاً هرگونه انتقاد و پیشنهاد خود در مورد مطالب آن و یا گزارش مشکل را به آدرس ایمیل و یا با شماره تلفن زیر مطرح نمایید:

آدرس ایمیل: [soal@iranestekhdam.ir](mailto:soal@iranestekhdam.ir)

شماره تلفن تماس: ۰۲۱-۹۱۳۰۰۰۱۳

## اخطار مهم

محتوای این فایل به شماره شابک ۸-۵۹۶-۴۴۸-۶۰۰-۹۷۸ نزد وزارت ارشاد جمهوری اسلامی ایران ثبت گردیده؛ لذا هرگونه کپی برداری یا فروش؛ تغییر و دستکاری در محتوای آن مانند حذف آرم یا لوگوی سایت ایران استخدام و یا اضافه کردن آرم؛ نوشته و محتوای دیگر؛ غیر مجاز بوده و متخلف بدون اطلاع قبلی از طریق مبانی قانونی تحت پیگرد قرار خواهد گرفت. مجاز بوده و متخلف بدون اطلاع قبلی از طریق مبانی قانونی تحت پیگرد قرار خواهد گرفت.

[Www.IranEstekhdam.Ir](http://www.IranEstekhdam.Ir)

## توجه مهم»

جهت تهیه کتابهای آموزشی و دانلود سایر نمونه سوالات استخدامی به همراه پاسخنامه  
به آدرس زیر مراجعه بفرمایید:

[اینجا کلیک نمایید](#)



### توجه:

پاسخنامه ششمین بسته رایگان خودآزما و آمادگی برای آزمون های استخدامی سال ۱۴۰۱، به جهت سنجش سطح آمادگی شما کاربران گرامی، سه روز آینده در صفحه اختصاصی ششمین خودآزما در سایت ایران استخدام (جهت مشاهده صفحه اینجا کلیک نمایید) منتشر خواهد شد.

## فهرست مطالب

۴	ششمین بسته رایگان خودآزما و آمادگی برای آزمون های استخدامی سال ۱۴۰۱
۵	فناوری اطلاعات و مهارت های هفتگانه I.C.D.L
۹	ریاضی و آمار مقدماتی
۱۲	زبان و ادبیات فارسی و آیین نگارش
۱۵	معارف اسلامی
۲۰	زبان انگلیسی-عمومی
۲۴	اطلاعات عمومی، دانش اجتماعی و قانون اساسی
۱۵	هوش و استعداد تحصیلی

# ششمین بسته رایگان خودآزما و آمادگی برای آزمون های استخدامی سال ۱۴۰۱

تعداد سوال: ۱۰۵      مدت پاسخگویی: ۱۱۰ دقیقه

ردیف	مواد امتحانی	تعداد سوال	از شماره	تا شماره
۱	I.C.D.L فناوری اطلاعات و مهارت های هفتگانه	۱۵	۱	۱۵
۲	ریاضی و آمار مقدماتی	۱۵	۱۶	۳۰
۳	زبان و ادبیات فارسی و آیین نگارش	۱۵	۳۱	۴۵
۴	معارف اسلامی	۱۵	۴۶	۶۰
۵	زبان انگلیسی - عمومی	۱۵	۶۱	۷۵
۶	اطلاعات عمومی، دانش اجتماعی و قانون اساسی	۱۵	۷۶	۹۰
۷	هوش و استعداد تحصیلی و شغلی	۱۵	۹۱	۱۰۵

این آزمون نمره منفی دارد.  
استفاده از ماشین حساب مجاز نیست



**بخش اول:**

---

**فناوری اطلاعات و مهارت های هفتگانه *I.C.D.L***



۱- کدام مورد در خصوص درستی یا نادرستی گزاره های زیر در نرم افزار Excel، به ترتیب، صحیح است؟  
([www.iranestekhdam.ir](http://www.iranestekhdam.ir))

- برای سربرگ کاربرد ها (Worksheet Tabs)، می توان رنگ های دلخواه تعیین کرد.  
- می توان تصویری را به عنوان زمینه یک کاربرد انتخاب کرد.

(۱) درست - نادرست (۲) نادرست - درست (۳) نادرست - نادرست (۴) درست - درست

۲- در نرم افزار Word، با استفاده از خطکش، کدام مورد را نمی توان تغییر داد؟ ([www.iranestekhdam.ir](http://www.iranestekhdam.ir))

(۱) Right Indent (۲) Center Indent (۳) Tab Stop Position (۴) Left Indent

۳- عملیات Restore در سیستم عامل Windows ۷، چه تعداد از موارد زیر را انجام می دهد؟ ([www.iranestekhdam.ir](http://www.iranestekhdam.ir))

- برگرداندن فایل های پاک شده

- حذف کردن برنامه های نصب شده پس از Restore Point

- برگرداندن تنظیمات سیستم به هنگام ایجاد Restore Point

(۱) صفر (۲) ۱ (۳) ۲ (۴) ۳

۴- هنگام چاپ یک اسلاید در نرم افزار PowerPoint، انتخاب گزینه Outline View، باعث چاپ کدام یک از موارد زیر خواهد شد؟ ([www.iranestekhdam.ir](http://www.iranestekhdam.ir))

(۱) فقط متن (۲) متن و تصاویر

(۳) فقط تصاویر (۴) متن، تصاویر و Notes

۵- فرض کنید یک پوشه را جهت تغییر نام آماده کرده و اسم آن را حذف کرده و شروع به تایپ کردن نام جدید برای این پوشه نموده اید. اگر کلید ESC را فشار دهید، چه وضعیت برای نام پوشه حاصل خواهد شد؟ ([www.iranestekhdam.ir](http://www.iranestekhdam.ir))

(۱) حروف تایپ شده به عنوان نام انتخاب می شود (۲) خطای نامگذاری حاصل می شود

(۳) به همان نام اولیه خود بر می گردد (۴) نام آن به Untitled تغییر می کند

۶- با توجه به جدول زیر، نتیجه دستور = sum (A1;C2) کدام مورد خواهد بود؟ ([www.iranestekhdam.ir](http://www.iranestekhdam.ir))

	A	B	C
1	3	1	4
2	2	7	5
3			
4			

(۱) ۸

(۲) ۲۲ (۳) ۳۹ (۴) ۶

۷- در پست الکترونیکی، ابزار Compose، به کدام منظور استفاده می شود؟ ([www.iranestekhdam.ir](http://www.iranestekhdam.ir))

(۱) ترکیب کردن دو یا چند نامه الکترونیکی با یکدیگر (۲) الحاق یک فایل به نامه الکترونیکی جهت ارسال

(۳) آماده کردن یک نامه الکترونیکی جهت ارسال (۴) دریافت یک نامه الکترونیکی

۸- دلیل فشردن سازی یک فایل در سیستم عامل Windows 7 ، کدام است؟ ([Www.iranestekhdam.ir](http://www.iranestekhdam.ir))

- (۱) Save Space (۲) Repair (۳) Share (۴) Improve Visualization

۹- حاصل تابع N (TRUE) در نرم افزار Excel 2013، کدام است؟ ([Www.iranestekhdam.ir](http://www.iranestekhdam.ir))

- (۱) #NAME? (۲) ۰ (۳) ۱ (۴) # VALUE!

۱۰- در نرم افزار Power Point ۲۰۱۳، در صورت انتخاب کدام مورد، انیمیشن انتخاب شده بلافاصله پس از انیمیشن قبلی آغاز می شود؟ ([Www.iranestekhdam.ir](http://www.iranestekhdam.ir))

- (۱) On Click (۲) Duration (۳) With Previous (۴) Start After

۱۱- انتخاب Theme برای رنگ پنجره ها، تصاویر پس زمینه و Screen saver، در کدام قسمت از سیستم عامل Windows ۷ انجام می شود؟ ([Www.iranestekhdam.ir](http://www.iranestekhdam.ir))

- (۱) Device Manager (۲) Folder Options (۳) Personalization (۴) Screen Resolution

۱۲- کدام مورد می تواند دلیل عدم ثبت برخی از سایت های مشاهده شده در مرورگر Internet Explorer باشد؟ ([Www.iranestekhdam.ir](http://www.iranestekhdam.ir))

- (۱) حذف سایت ها راز روی سرور (۲) استفاده از In Private Browsing (۳) درج دامنه اشتباه (۴) استفاده از Proxy

۱۳- کدام مورد، به ترتیب برای ادغام و جدا کردن سلول های یک جدول استفاده می شود؟ ([Www.iranestekhdam.ir](http://www.iranestekhdam.ir))

- (۱) Split Table – Split Cell (۲) Split Cell – Merge Cell (۳) Insert Cell – Merge Cell (۴) Insert Cell – Split Cell

۱۴- فایل Text.rar، چه نوع فایلی است؟ ([Www.iranestekhdam.ir](http://www.iranestekhdam.ir))

- (۱) یک فایل متنی (۲) یک فایل موقت برای یک برنامه کاربردی (۳) یک تصویر (۴) یک فایل فشرده

۱۵- کدام گذر واژه برای پیشگیری از هک شدن مناسب تر است؟ ([Www.iranestekhdam.ir](http://www.iranestekhdam.ir))

- (۱) ALI REZA (۲) ۲۰۱۰۲۲ (۳) ۳hhamed۵ (۴) #۱۲۳۴p-



**بخش دوم:**

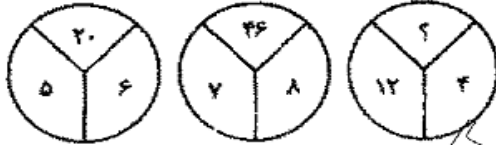
---

**ریاضی و آمار مقدماتی**

۱۶- اگر  $A$  و  $B$  دو مجموعه ناتهی باشند، مجموعه  $A - (A \cap B)$  کدام است؟ (Www.iranestekhdam.ir)

- (۱)  $A \cap B$       (۲)  $A \cap B'$       (۳)  $B \cap A'$       (۴)  $(A \cup B)'$

۱۷- با توجه به شکلهای مقابل مقدار ؟ را بیابید: (Www.iranestekhdam.ir)



- (۱) ۱۶      (۲) ۱۸      (۳) ۳۸      (۴) ۵۸

۱۸- ۱۲۰ داده آماری در ۹ طبقه دسته بندی شده اند. درصد فراوانی تجمع نسبی در دسته های چهارم و پنجم به ترتیب ۶۷ و ۸۲ است. فراوانی دسته پنجم کدام است؟ (Www.iranestekhdam.ir)

- (۱) ۱۵      (۲) ۱۶      (۳) ۱۸      (۴) ۲۰

۱۹- دو خط  $ax - y = -\frac{9}{4}$  و  $-4x + y = 8a$  بر هم عمودند. مقدار  $a$  کدام است؟ (Www.iranestekhdam.ir)

- (۱)  $\frac{1}{4}$       (۲)  $-\frac{1}{4}$       (۳) ۴      (۴) ۱

۲۰- به ازای کدام مقادیر  $m$  خط  $y = mx + m - 2$  از ناحیه دوم نمی گذرد؟ (Www.iranestekhdam.ir)

- (۱)  $m \leq 2$       (۲)  $m \geq 2$       (۳)  $m \leq 0$       (۴) هیچ مقدار  $m$

۲۱- اگر  $f(x) = \begin{cases} ax^2 + x - a & \text{اگر } x < 2 \\ ax + 1 & \text{اگر } x \geq 2 \end{cases}$  و  $\lim_{x \rightarrow 2^-} f(x) + \lim_{x \rightarrow 2^+} f(x) = 2$  باشد،  $a$  کدام است؟ (Www.iranestekhdam.ir)

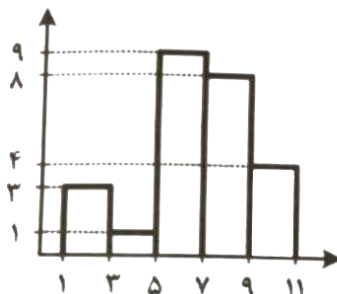
- (۱) ۳      (۲) -۳      (۳) ۴      (۴) -۴

۲۲- در یک جامعه آماری، دامنه تغییرات برابر ۲۰ است. اگر کران بالای دسته آخر ۲۱ و مرکز دسته اول ۳ باشد. تعداد دسته‌ها

کدام است؟ (کران پایین و بالای هر دسته، عضوی از این جامعه آماری است.) (Www.iranestekhdam.ir)

- (۱) ۹      (۲) ۸      (۳) ۶      (۴) ۵

۲۳- میانگین داده های نمودار مستطیلی روبه رو، کدام است؟ (Www.iranestekhdam.ir)



- (۱) ۵/۲۵      (۲) ۵/۷۵

- (۳) ۶/۶۴      (۴) ۶/۷۲

۲۴- عبارت  $\frac{1-\sin 2x}{\sin x - \cos x}$  ، پس از ساده شدن معادل کدام مورد است؟ (Www.iranestekhdam.ir)

(۱)  $\sin x - \cos x$  (۲)  $\sin x + \cos x$  (۳)  $\sin x \cos x$  (۴)  $-(\sin x + \cos x)$

۲۵- ۶۰ درصد کارمندان یک سازمان ، از اینترنت برای پرداخت قبض های خود استفاده می کنند و سایر افراد از طرق دیگر این کار را انجام می دهند. احتمال این که کارمندی قبض تلفن خود را پرداخت کند، به شرط این که از اینترنت و سایر راه ها استفاده شود، به ترتیب برابر با  $\frac{0}{24}$  و  $\frac{0}{14}$  است. اگر کارمندی به تصادف انتخاب شود، احتمال این که وی قبض تلفن همراه خود را پرداخت کند ، چقدر است ؟ (Www.iranestekhdam.ir)

(۱)  $\frac{0}{208}$  (۲)  $\frac{0}{1}$  (۳)  $\frac{0}{144}$  (۴)  $\frac{0}{2}$

۲۶- مثلثی با اضلاع ۳، ۵ و ۷ با مثلثی با اضلاع ۴، a و b متشابه است. اگر a و b بزرگ تر از ۴ باشند، مقدار  $a + b$  کدام است؟ (Www.iranestekhdam.ir)

(۱) ۱۵ (۲) ۱۶ (۳)  $\frac{49}{3}$  (۴)  $\frac{44}{3}$

۲۷- در یک تصاعد حسابی جمله هفتم برابر ۴ و هر جمله از جمله ماقبل خود به اندازه  $\frac{1}{2}$  کمتر است. مجموع هشت جمله اول این تصاعد کدام است؟ (Www.iranestekhdam.ir)

(۱)  $\frac{59}{5}$  (۲)  $\frac{49}{5}$  (۳) ۴۲ (۴) ۷۰


۲۸- منحنی y به صورت  $y = x^2 + x + 1$  است. اگر مبدأ مختصات را به نقطه A انتقال دهیم، منحنی y در دستگاه جدید به صورت  $y = x^2 + 5x + 8$  می شود. مختصات نقطه A کدام است؟ (Www.iranestekhdam.ir)

(۱) (-۱, ۲) (۲) (-۲, ۱) (۳) (۱, -۲) (۴) (۲, -۱)

۲۹- داده های ۱۱ و ۱۶ و ۱۸ و ۱۸ و ۱۰ و ۱۴ و ۷.۵ و ۴ و ۳ و ۱۳.۵ و ۹ در نمودار جعبه ای نمایش داده می شود. طول دامنه میان چارکی کدام است؟ (Www.iranestekhdam.ir)

(۱) ۸.۵ (۲) ۹.۵ (۳) ۱۲ (۴) ۱۵

۳۰- در نمودار روبه رو، اختلاف میانه و مد داده ها، کدام است؟ (Www.iranestekhdam.ir)



(۱) ۳ (۲) ۱ (۳) ۲ (۴) صفر

**بخش سوم:**

---

**زبان و ادبیات فارسی**

۳۱- معنی واژه ی «استمالت»، کدام است؟

(Www.iranestekhdam.ir)

- (۱) برانگیختن (۲) بی نیازی (۳) دل جوئی (۴) زیاده روی کردن

۳۲- اگر بیت زیر، اولین بیت از یک شعر ده بیتی باشد، آن شعر، در کدام قالب، سروده شده است؟ (Www.iranestekhdam.ir)

«آب حیات من است خاک سر کوی دوست گر دو جهان خرمی است ما وغم روی دوست»

- (۱) قطعه (۲) مثنوی (۳) قصیده (۴) غزل

۳۳- کدام بیت، با بیت زیر ارتباط مفهومی دارد؟ (Www.iranestekhdam.ir)

«حجاب راه تویی حافظ از میان برخیز خوشا کسی که در این راه بی حجاب رود»

- (۱) ز دعوی پری زان تهی می روی تهی آی تا پر معانی روی  
(۲) چشمت به غمزه، خانه ی مردم خراب کرد مخموری ات مباد که خوش مست می روی  
(۳) ای نسیم کوی معشوق این چه باد خرم است تا کجا بودی که جانم تازه می گردد به بوی  
(۴) گر بیارید کلید همه درهای بهشت جان عاشق به تماشاگاه رضوان نرود

۳۴- مفهوم کدام بیت، با سایر ابیات متفاوت است؟ (Www.iranestekhdam.ir)

- (۱) کنون باید این مرغ را پای بست نه آن گه که سررشته بردت زدست  
(۲) سرگرگ باید هم اول برید نه چون گوسفندان مردم درید  
(۳) مگو مرغ دولت ز قیدم بچست هنوزش سر رشته داری به دست  
(۴) کنون کوش کاب از کمر درگذشت نه وقتی که سیالبت از سر گذشت

۳۵- کدام گروه کلمه ها، فاقد «غلط املایی» است؟ (Www.iranestekhdam.ir)

- (۱) جملات تأثیرگذار - افراط و تفریط - سلامت و روانی (۲) حظّ زیباشناسی - بیت معمور ادب - مظهر اعتدال  
(۳) اغتنام فرصت - حسن خطام - مخلّ اعتدال (۴) مدح و زم - تفقد و دلجویی - آرایش صوری

۳۶- واژه های کدام مورد، «صفت لیاقت» محسوب می شوند؟ (Www.iranestekhdam.ir)

- (۱) بی خردی - دشمنی (۲) پوشیدنی - خوانندی (۳) پاکدامنی - بزرگی (۴) نویسندگی - تشنگی

۳۷- آرایه های بیت زیر کدام اند؟ (Www.iranestekhdam.ir)

«کاکل مشک فشان برمه شب پوش میپوش / سنبل غالیه سا بر گل خود روی مسای»

- (۱) تشبیه - حس تعلیل (۲) استعاره - واج آرایی (۳) جناس - تلمیح (۴) مجاز - حس تعلیل

۳۸- در کدام مصراع، حذف فعل به قرینهء معنوی صورت گرفته است؟ (Www.iranestekhdam.ir)



- (۱) قضا روزگاری زمن در ربود  
(۲) گر آن باد پایان برفتند تیز  
(۳) جوانا ره طاعت امروز گیر  
(۴) من آن روز را قدر نشناختم

## ۳۹- کدام اثر از «آلبر کامو» است؟ (Www.iranestekhdam.ir)

- (۱) محاکمه (۲) مسخ (۳) وداع با اسلحه (۴) سوء تفاهم

## ۴۰- نگارش کدام یک از جملات زیر درست است؟ (Www.iranestekhdam.ir)

- (۱) برادرم از سلامت جسمی و روحی برخوردار است. (۲) شما را در جریان خبرهای این ساعت قرار می دهیم.  
(۳) من روی شما حساب می کنم. (۴) هنرمندان به ابداع و ابتکار، پربها می دهند.

## ۴۱- معنی مصرع دوم بیت: «آن کس که نه آدمی است گرگ است / آهوکشی آهوپی بزرگ است» کدام گزینه است؟

(Www.iranestekhdam.ir)

- (۱) کشت آهو کاری بزرگ است. (۲) کشیدن آهو بسیار ناپسند است.  
(۳) کشتن آهو عیب و گناه بزرگی است. (۴) آهو ی فربه را کشتن خطاست.

## ۴۲- در کدام مورد، معنی «هر دو واژه» درست است؟ (Www.iranestekhdam.ir)

- (۱) (آرمیدن: آسودگی) - (بالیدن: رشد دادن)  
(۲) (کام: آرزو) - (عبوس: گرفتار)  
(۳) (محزن: اندوهگین) - (مظاهر: نشانه)  
(۴) (نهضت: خیزش) - (ژیان: خروشنده)

## ۴۳- در کدام بیت، «ردیف و قافیه» هر دو وجود دارد؟ (Www.iranestekhdam.ir)


- (۱) به بازیچه مشغول مردم شدم در آشوب خلق از پدر گم شدم  
(۲) ابلهی دید اشتری به چرا گفت نقشت همه کژ است چرا  
(۳) چشمه کوچک چو به آنجا رسید وان همه هنگامه دریا بدید  
(۴) یکی مال مردم به تلبیس خورد چو برخاست لعنت بر ابلیس کرد

## ۴۴- واژه های «هم خانواده» در کدام مورد، «غلط» است؟ (Www.iranestekhdam.ir)

- (۱) ضمن- مضمون- ضامن (۲) ممد- امداد- دوام (۳) ساعد- سعید- مسعود (۴) رقیب- مراقب- مراقبت

## ۴۵- کدام مصراع، به «شیوه عادی» سروده شده است؟ (Www.iranestekhdam.ir)

- (۱) به کام دل نرسیدیم و جان به حلق رسید  
(۲) سعدی چراغ می نکنند در شب فراق  
(۳) سروها دیدم در باغ و تأمل کردم  
(۴) به کام دشمن و بیگانه رفت چندین روز



**بخش چهارم:**

---

**معارف اسلامی**



## ۴۶- صفات فعل خداوند ، از کدام دسته صفات اند؟ (Www.iranestekhdam.ir)

- (۱) از ارتباط ذات الهی با مخلوقات انتزاع می شوند ، مانند خالقیت  
 (۲) از ارتباط ذات الهی با مخلوقات انتزاع می شوند ، مانند قادریت  
 (۳) همواره با ذات الهی اند و در انتزاع آنها ، نیاز به تصور موجودات دیگر نیست ، مانند خالقیت  
 (۴) همواره با ذات الهی اند و در انتزاع آنها ، نیاز به تصور موجودات دیگر نیست ، مانند قادریت

## ۴۷- انسان قبل از پرداختن به شناخت جهان پیرامون خود و نیک و بد آن، باید به کدام موضوع بپردازد؟ (Www.iranestekhdam.ir)

- (۱) شناخت خدا و به دست آوردن راه های رسیدن به کمال  
 (۲) شناخت خدا و توصیه های پیرامون الهی و عمل به دستورات آنها  
 (۳) شناخت نیازها و گرایش های معنوی خود و شکوفا ساختن آنها  
 (۴) شناخت خود و کشف گنجینه های فطرت و نهاد خویش

## ۴۸- آیه شریفه «قُلْ إِنَّمَا أَعِظُكُمْ بِوَاحِدَةٍ أَنْ تَقُومُوا لِلَّهِ مَثْنَىٰ وَفِرَادَىٰ...»، به کدام موضوع اشاره دارد؟ (Www.iranestekhdam.ir)

- (۱) ایثار و گذشت (۲) ایمان فردی (۳) اخلاص در بندگی (۴) ایمان اجتماعی

## ۴۹- از آیه شریفه «فَمَنْ يَعْمَلْ مِثْقَالَ ذَرَّةٍ خَيْرًا يَرَهُ»، کدام مفهوم دریافت می شود؟ (Www.iranestekhdam.ir)

- (۱) پاداش و کیفر عمل نمایان می شود.  
 (۲) عمل در قیامت تجسم می یابد.  
 (۳) تصویر عمل و پاداش آن را می بیند.  
 (۴) عمل در نامه اعمالش ضبط می شود.

## ۵۰- انسان برای آنکه نیّت و تمایل درونی خود را نشان دهد و نتیجه آنچه را که برگزیده است، مشاهده کند، همواره در معرض کدام سنت الهی خواهد بود؟ (Www.iranestekhdam.ir)

- (۱) ابتلا (۲) امداد (۳) امهال (۴) املا

## ۵۱- سمیع و بصیر به صفت ..... برمی گردد و از صفات ..... خداوند است. (Www.iranestekhdam.ir)

- (۱) علم الهی - فعل (۲) قدرت الهی - ذات (۳) علم الهی - ذات (۴) قدرت الهی - فعل

## ۵۲- «آگاهی انسان به قوای ادراکی خود» و «آگاهی از طریق مفاهیم ذهنی»، به ترتیب، بیانگر کدام نوع شناخت است؟ (Www.iranestekhdam.ir)

- (۱) علم حصولی - علم حضوری (۲) علم حضوری - علم حضوری  
 (۳) علم حضوری - علم حصولی (۴) علم حصولی - علم حصولی

## ۵۳- شرط پذیرفته شدن نماز چیست؟ (Www.iranestekhdam.ir)

- (۱) دوری از گناه (۲) اطاعت پذیری (۳) آرامش روحی (۴) اخلاص در نماز



۵۴- با توجه به آیه شریفه ( و لقد بعثنا فی کل امه رسولاً..... )، مهم ترین هدف انبیای الهی چیست؟

(Www.iranestekhdam.ir)

- (۱) به کمال رساندن فضایل اخلاقی  
(۲) دعوت به توحید و پرهیز از شرک  
(۳) برپایی قسط و عدل در جامعه  
(۴) آشنا کردن مردم با حکمت الهی

۵۵- شیطان سوگند یاد کرده است آدم را فریب دهد. کار او چگونه است و خطاب به دوزخیان، چه می گوید؟

(Www.iranestekhdam.ir)

- (۱) آراستن و زیبا نشان دادن دنیا - من اختیاری بر شما نداشتم، پس مرا ملامت نکنید و خود را ملامت کنید  
(۲) دادن وعده های دروغین به پیروان خود - مرا بر شما هیچ تسلطی نبود، جز اینکه شما را دعوت کردم و اجابت نمودید.  
(۳) دادن وعده های دروغین به پیروان خود - من اختیاری بر شما نداشتم ، پس مرا ملامت نکنید و خود را ملامت کنید.  
(۴) آراستن و زیبا نشان دادن دنیا - مرا بر شما هیچ تسلطی نبود. جز اینکه شما را دعوت کردم و اجابت نمودید

۵۶- بهترین گواهان قیامت، چه کسانی هستند و چرا؟ (Www.iranestekhdam.ir)

- (۱) فرشتگان الهی - معیار سنجش اعمال دیگر انسان ها هستند.  
(۲) پیامبران و امامان - ظاهر و باطن اعمال انسان ها را در دنیا دیده اند.  
(۳) فرشتگان الهی - ظاهر و باطن اعمال انسان ها را در دنیا دیده اند.  
(۴) پیامبران و امامان - معیار سنجش اعمال دیگر انسان ها هستند.

۵۷- قیام قبل از رکوع، از کدام واجبات نماز است و اگر بر اثر فراموشی ترک شود، نمازش چه حکمی دارد؟

(Www.iranestekhdam.ir)

- (۱) رکنی - صحیح  
(۲) غیررکنی - باطل  
(۳) غیررکنی - صحیح  
(۴) رکنی - باطل

۵۸- کدام مورد ، موجب وجوب پرداخت کفاره می شود ؟ (Www.iranestekhdam.ir)

- (۱) غسل جنابت بر او واجب شد و سهل انگاری نماید تا وقت تنگ شود  
(۲) به علت عذری روزه نگیرد و تا ماه رمضان آینده نیز قضای آن را به جا نیاورد .  
(۳) عمداً روزه ماه رمضان را نگیرد باید هم قضای آن را به جا آورد و هم کفاره بدهد .  
(۴) کمتر از چهار فرسخ شرعی از وطن خود دور شود و رفت و برگشتش بیش از هشت فرسخ باشد

۵۹- توحید در «ربوبیت»، به کدام معناست؟ (Www.iranestekhdam.ir)

- (۱) در عالم، آفریدگار و خالق جز خدا وجود ندارد و هر موجودی، وابسته به اراده پروردگار است.  
(۲) حاکمیت و اطاعت، اصالتاً مربوط به خداست و انتصاب و اجازه خاص باید به اذن الهی باشد.  
(۳) کشیدن خط بطلان بر هر نوع اندیشه و تدبیر مستقل از اذن الهی برای غیر خداست.  
(۴) تنها خدا در اداره و تدبیر و کارگردانی جهانی مؤثر است و اراده انسان در کنار اداره الهی می باشد.

۶۰- آیه شریفه «أَمْ نَجْعَلُ الَّذِينَ آمَنُوا وَعَمِلُوا الصَّالِحَاتِ كَالْمُفْسِدِينَ فِي الْأَرْضِ أَمْ نَجْعَلُ الْمُتَّقِينَ كَالْفُجَّارِ» ناظر بر کدام یک از اقسام

عدل است؟ (Www.iranestekhdam.ir)

- (۱) جزایی (۲) تکوینی (۳) تشریحی (۴) قضائی

**بخش پنجم:**

---

**زبان انگلیسی – عمومی**

## Part A. Grammar and vocabulary

Direction: choose the number of the answer choice (۱), (۲), (۳) or (۴) that best completes the blank. Then mark it on your answer sheet. ([Www.iranestekhdam.ir](http://www.iranestekhdam.ir))

۶۱- A contract of sale goods is a contract ..... the seller transfers or agrees to transfer the property in good to the buyer for a price. ([Www.iranestekhdam.ir](http://www.iranestekhdam.ir))

- ۱) that                      ۲) by that                      ۳) that with                      ۴) by which

۶۲- Why did you lend .....? ([Www.iranestekhdam.ir](http://www.iranestekhdam.ir))

- ۱) My jacket to Angela                      ۲) Angela my jacket  
۳) Angela to my jacket                      ۴) My jacket Angela

۶۳- We need to provide enough gas because it is vital to organizations..... Food among the poor. ([Www.iranestekhdam.ir](http://www.iranestekhdam.ir))

- ۱) sustaining              ۲) revealing              ۳) distributing              ۴) facilitating

۶۴- Anita went to the dentist ..... get some relief from her toothache. ([Www.iranestekhdam.ir](http://www.iranestekhdam.ir))

- ۱) in order that                      ۲) so that                      ۳) in order to                      ۴) so as

۶۵- It is very odd that the books ..... several months ago are now out of stock. I terribly need some of them. ([Www.iranestekhdam.ir](http://www.iranestekhdam.ir))

- ۱) had published              ۲) published                      ۳) were published                      ۴) WHICH published

۶۶- This must be kept a ... between us. Nobody should know it. ([Www.iranestekhdam.ir](http://www.iranestekhdam.ir))

- ۱) Covered                      ۲) Secret                      ۳) Known                      ۴) Puzzle

۶۷- There ..... be someone at home; I can hear voices in the living room. ([Www.iranestekhdam.ir](http://www.iranestekhdam.ir))

- ۱) will                      ۲) would                      ۳) shall                      ۴) must

۶۸- You are advised to save electricity by reducing the number of computers ..... on overnight. ([Www.iranestekhdam.ir](http://www.iranestekhdam.ir))

- ۱) left                      ۲) leaving                      ۳) that left                      ۴) which are leaving

۶۹- one of the features of the Zika virus posing difficulties for its diagnostics is that only one out of four..... By an infection-transmitting mosquito develops any symptoms. ([Www.iranestekhdam.ir](http://www.iranestekhdam.ir))





۷۵- Anti- bullying organizations are against the game because it might .....(Www.iranestekhdam.ir)

- ۱) affect the way young people interpret violence      ۲) encourage British politicians not to ban it at all  
۳) make people respond violently to bullies              ۴) make life more complicated for bullies

**بخش ششم:**

---

**اطلاعات عمومی ، دانش اجتماعی و حقوق اساسی**

۷۶- دومین رود بلند ایران که پس از طی کردن عرض استان گیلان به دریای خزر می ریزد، کدام است؟  
([Www.iranestekhdam.ir](http://www.iranestekhdam.ir))

- (۱) سپیدرود (۲) تجن (۳) چالوس (۴) بابلرود

۷۷- تشکیل دولت کدام نخست وزیر در ایران، به «کابینه سپاه» شهرت یافت؟ ([Www.iranestekhdam.ir](http://www.iranestekhdam.ir))

- (۱) حسن مستوفی الممالک (۲) حسن مشیرالدوله  
(۳) احمد قوام السلطنه (۴) ضیاءالدین طباطبایی

۷۸- محل برگزاری جلسات پارلمان اروپا، کدام شهر است؟ ([Www.iranestekhdam.ir](http://www.iranestekhdam.ir))

- (۱) زوریخ (۲) ژنو (۳) استراسبورگ (۴) بروکسل

۷۹- کالاهایی که به تنهایی و به خودی خود قابل استفاده نیستند، چه نام دارند؟ ([Www.iranestekhdam.ir](http://www.iranestekhdam.ir))

- (۱) مصرفی (۲) واسطه‌ای (۳) غیراقتصادی (۴) سرمایه‌ای

۸۰- کدام فعال سیاسی دوره مشروطه، در زمان جنگ جهانی اول در تبریز قیام نمود و جمهوری آزادستان را تشکیل داد؟  
([Www.iranestekhdam.ir](http://www.iranestekhdam.ir))

- (۱) شیخ محمد خیابانی (۲) پیرم‌خان (۳) ستارخان (۴) باقرخان

۸۱- کتاب راهنمای حقائق، اثر کیست؟ ([Www.iranestekhdam.ir](http://www.iranestekhdam.ir))

- (۱) شهید مطهری (ره) (۲) شهید بهشتی (ره)  
(۳) شهید نواب صفوی (ره) (۴) شهید چمران (ره)

۸۲- چنانچه رئیس جمهور، مصوبات مجلس شورای اسلامی را جهت اجرا امضا ننماید، چه وضعیت حقوقی پیش می آید؟  
([Www.iranestekhdam.ir](http://www.iranestekhdam.ir))

- (۱) ۷۲ ساعت بعد، رئیس مجلس دستور انتشار آن را به روزنامه رسمی می دهد.  
(۲) مصوبه خود به خود لازم الاجرا می شود  
(۳) مصوبه جهت تصمیم گیری به مجلس عودت داده می شود  
(۴) دبیر شورای نگهبان، دستور لازم الاجرا شدن را صادر می کند.

۸۳- نهج البلاغه توسط کدام یک از افراد زیر، گردآوری شد؟ ([Www.iranestekhdam.ir](http://www.iranestekhdam.ir))

- (۱) شیخ صدوق (۲) شیخ کلینی (۳) سیدرضی (۴) علامه مجلسی

۸۴- مقبره اوحدی مراغه‌ای، در کدام استان قرار دارد؟ ([Www.iranestekhdam.ir](http://www.iranestekhdam.ir))

- (۱) زنجان (۲) کردستان (۳) آذربایجان شرقی (۴) لرستان

۸۵- - کدام رخداد، از عواقب جنگ جهانی دوم در ایران است؟ ([Www.iranestekhdam.ir](http://www.iranestekhdam.ir))

(۱) امضای فرمان مشروطه توسط مظفرالدین شاه (۲) اشغال ایران توسط ارتش شوروی و بریتانیا  
(۳) انتقال پایتخت از تبریز به تهران (۴) کودتا علیه دولت دکتر محمد مصدق

۸۶- تیم ملی فوتبال مردان ایران، در کدام سال های میلادی، موفق به حضور در جام جهانی بوده است؟

([Www.iranestekhdam.ir](http://www.iranestekhdam.ir))

(۱) ۲۰۱۴، ۲۰۰۶، ۱۹۹۸، ۱۹۷۸ (۲) ۲۰۱۰، ۲۰۰۶، ۱۹۹۴، ۱۹۷۸  
(۳) ۲۰۱۴، ۲۰۰۲، ۱۹۸۲، ۱۹۹۸ (۴) ۲۰۱۴، ۲۰۰۶، ۱۹۸۲، ۱۹۹۸

۸۷- کدام شخصیت علمی، پدر علم ژنتیک ایران است؟ ([Www.iranestekhdam.ir](http://www.iranestekhdam.ir))

(۱) داریوش فرهود (۲) مجید سمیعی (۳) رحیم رحمان زاده (۴) توفیق موسیوند

۸۸- روز ملی فناوری هسته ای چه روزی است؟ ([Www.iranestekhdam.ir](http://www.iranestekhdam.ir))

(۱) ۲۲ اردیبهشت (۲) ۲۴ فروردین (۳) ۲۰ اردیبهشت (۴) ۲۰ فروردین

۸۹- تنها غزوه ای که حضرت علی به واسطه جانشینی پیامبر (ص) در مدینه در آن شرکت نکرد کدام است؟

([Www.iranestekhdam.ir](http://www.iranestekhdam.ir))

(۱) تبوک (۲) احد (۳) خندق (۴) بدر

۹۰- جلسات مجلس شورای اسلامی، با حضور چه تعداد از نمایندگان رسمیت می یابد؟ ([Www.iranestekhdam.ir](http://www.iranestekhdam.ir))

(۱) یک سوم (۲) دوسوم (۳) سه چهارم (۴) اکثریت

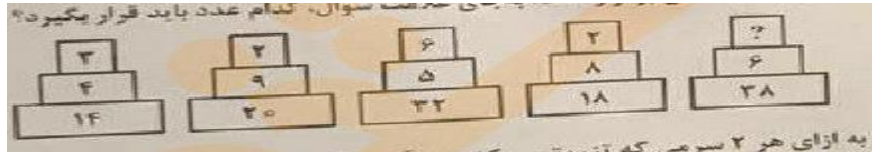


**بخش هفتم:**

---

**هوش و توانمندی های عمومی**

۹۱- هر کدام از اشکال زیر بین اعداد ، ارتباط یکسانی برقرار است ، به جای علامت سوال ، کدام عدد باید قرار بگیرد.



۶ (۴)

۵ (۳)

۱۰ (۲)

۸ (۱)

۹۲- در فروشگاهی که قیمت هر شلوار ۵۰ هزار تومان است این اطلاعیه نصب شده که اگر فردی ۲ عدد شلوار بخرد یک عدد شلوار اضافی و اگر فردی ۲ عدد شلوار بخر، ۲ عدد شلوار اضافی هدیه داده می شود. در روزی که ۹۹ شلوار از این فروشگاه توسط مشتریان خارج شده حداقل مبلغی که فروشنده از فروش کسب کرده، کدام است؟ ([www.iranestekhdam.ir](http://www.iranestekhdam.ir))

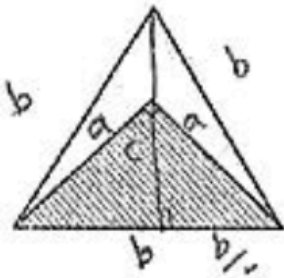
(۲) سه میلیون و دویست و پنجاه هزار تومان

(۱) سه میلیون تومان

(۴) چهار میلیون و صد هزار تومان

(۳) سه میلیون و هفتصد هزار تومان

۹۳- در مثلث متساوی الاضلاع بزرگ زیر، یک مثلث قائم الزاویه متساوی الساقین رسم شده است. نسبت مساحت ناحیه هاشور خورده به مساحت مثلث بزرگ، کدام است؟ ([www.iranestekhdam.ir](http://www.iranestekhdam.ir))



$\frac{\sqrt{3}}{3}$  (۲)

$\frac{1}{4}$  (۱)

$\frac{1}{3}$  (۴)

$\frac{\sqrt{2}}{4}$  (۳)

۹۴- در یک مکعب  $۵ \times ۴ \times ۴$ ، چند مکعب مستطیل  $۳ \times ۲ \times ۱$  جای می گیرد؟ ([www.iranestekhdam.ir](http://www.iranestekhdam.ir))

۱۲ (۴)

۱۳ (۳)

۱۴ (۲)

۱۱ (۱)

راهنمایی: برای پاسخگویی به سوالات ۹۵ تا ۱۰۰، لازم است موقعیتی را که در هر سوال مطرح شده ، مورد تجزیه و تحلیل قرار دهید و سپس گزینه ای را که فکر می کنید پاسخ مناسب تری برای آن سوال است ، انتخاب کنید. هر سؤال را با دقت بخوانید و با توجه به واقعیت های مطرح شده در هر سؤال و نتایجی که بیان شده و بیان نشده ولی قابل استنتاج است، پاسخی که صحیح تر به نظر می رسد، انتخاب و در پاسخنامه علامت بزنید. ([www.iranestekhdam.ir](http://www.iranestekhdam.ir))

۹۵- تعداد صندلی های سینما برای هر کشور مهم است. این صندلی ها شاخص توسعه فرهنگی کشور ها به حساب می آیند و نشان می دهند کشور در چه رده ای قرار دارد. اینکه بخواهیم به جز توسعه یافتگی فرهنگی در آسیا، رده جهانی هم داشته باشیم، این امر نیازمند افزایش معینی تعداد صندلی و سالن های سینماست. پس باید سینماهای بیشتر با ظرفیت بالاتر ساخته شوند تا در عرصه جهانی ؛ هم ضریب توسعه فرهنگی مان بالا رود.

نتیجه گیری متن فوق، بر کدام یک از فرضیات زیر ، استوار است؟ ([www.iranestekhdam.ir](http://www.iranestekhdam.ir))

(۱) کشورهای موجود در آسیا، همگی به فکر تأسیس سینماهای جدید هستند.

- (۲) سینماها را متناسب با صندلی های جدیدی که ایجاد می شود، افزایش می یابند.
- (۳) سینماهای جدید، از لحاظ امکانات، از سینماهای موجود در سطحی بالاتر خواهند بود.
- (۴) افزایش تعداد سینما، باعث رشد فرهنگی و رشد فرهنگی، باعث ارتقای کیفی فیلم ها می شود که این به نوبه خود، مخاطبین بیشتری را به سینما می کشاند.

۹۶- افراد سالمی که عمر طولانی دارند، با افرادی که از مشکلات جسمی وخیم جان سالم به دربرده و به سنین بالا (بالتر از ۱۰۰) می رسند، تفاوت ژنتیکی دارند. سالمندان سالم به طور متوسط، سطح سواد بالاتری نسبت به جمعیت عمومی دارند و دانشمندان سال هاست حدس می زنند که تحصیلات عالی با طول عمر بیشتر مرتبط است. متاسفانه هنوز نمی توان با قطعیت گفت که آیا سالمندان سالم، به خاطر حفاظت ژنتیکی از افت توانای های شناختی، بیشتر عمر می کنند. یا آنکه به خاطر آگاهی بیشتر از خطر بیماری ها و دسترسی بهتر به مراقبت ها و پیشگیری های پزشکی، به سنین بالاتر می رسند. کدام مورد، در صورتی که صحیح فرض شود، به بهترین وجه استدلال متن فوق را زیر سوال می برد؟ ([Www.iranestekhdam.ir](http://www.iranestekhdam.ir))

- (۱) تمامی افرادی که برای حفظ سلامت خود از مراقبت ها و پیشگیری های پزشکی استفاده می کنند، از سیستم حفاظت ژنتیکی افت توانایی های شناختی برخوردارند.
- (۲) امید به زندگی در همه کشورهای توسعه یافته، بیشتر از کشورهای در حال توسعه است.
- (۳) توجه به مراقبت ها و پیشگیری های پزشکی، مختص افراد سالمند نیست، بلکه این امر مورد توجه میانسالان و جوانان نیز هست.
- (۴) تاثیر ساختار ژنتیکی بر احتمال ایجاد گسترش تمام بیماری ها به یک اندازه نیست، اگرچه محافل علمی هنوز میزان این اختلاف تاثیر را دقیقاً مشخص نکرده اند.

۹۷- اصولاً چه ارتباطی میان رنج و هرروزینگی است؟ به نظر می رسد که رنج، استثنایی بر قاعده هر روزه است، پس رابطه میان رنج و هرروزینگی، همان رابطه میان استثنا و قاعده است، اما برخلاف آنچه معمولاً می پنداریم، استثنا قاعده را نقض نمی کند، بلکه آن را به نهایت خویش می رساند. استثنا حد قاعده است و حد هرچیز، حقیقت آن چیز است و اگر متن یک چیز در حدش نقض می شود، صرفاً به آن خاطر است که آن چیز در متن خویش، حامل تناقض است و گرنه حد کاری نکرده است، مگر تکرار بی لکنت متن. کدام مورد، با نتیجه گیری متن مغایرت دارد؟ ([Www.iranestekhdam.ir](http://www.iranestekhdam.ir))

- (۱) حد هر چیز، متن آن چیز را نقض نمی کند.
- (۲) رنج، هویتی مستقل از هرروزینگی دارد.
- (۳) برخی حد هر چیز را به غلط، استثنای قاعده می دانند.
- (۴) استثنا را نباید جزو لاینفک قاعده دانست.

۹۸- در این دنیای انسانی ما نمی توانیم چرخ زایش و میرش را از حرکت بازداریم، ولی در سطح دیگری، اختیار همه چیز در دست ماست. اگر واقعاً روی عمیق ترین آرزوهایمان تعمق کنیم ..... ([Www.iranestekhdam.ir](http://www.iranestekhdam.ir))

کدام مورد ، به بهترین وجه ، جای خالی در مطلب فوق را کامل می کند ؟

- (۱) آنگاه تحمل آنچه هست ، آسان می شود
- (۲) آنها چاره ای جز به واقعیت پیوستن ندارند
- (۳) همین نیز برای معنی بخشیدن به زندگی، کافی است
- (۴) فراموشی این که روزی ما نیز خواهیم رفت، پذیرفتنی تر می شود

۹۹ - ژورنالیسم و تاریخ نگاری اگر چه یکی نیستند. اما در نسبتی که باوقایع دارند، مشترک اند. فرق رویکرد این دو اما، در اندک بودن منابع ژورنالیسم، به حد کافی ورز ندادن دادهها و مشاهدات است. حقیقتی که ژورنالیست به آن می پردازد، حقیقتی است متواضع و ژورنالیستها آرتیزان داده های حقیقی اما خرد هستند.

کدام مورد را می توان از اطلاعات مندرج در متن فوق، به درستی استنباط کرد؟ ([Www.iranestekhdam.ir](http://www.iranestekhdam.ir))



همچنین، در نظر گرفتن توانایی یادگیرنده و تطبیق محتوا و آزمون ها با توانایی وی، عملکرد و کیفیت یادگیری یادگیرنده را افزایش خواهد داد. لازمه تحقق این امر، شناخت کامل و جامعی از یادگیرنده است. نظریات مختلفی در این مسیر راه گشاست که مهم ترین آنها نظریات سبک یادگیری و سبک شناختی برای تفسیر تفاوت های فردی افراد و خلق مدل یادگیرنده شخصی شده و نیز نظریه پرسش و پاسخ برای تطبیق آزمون ها و درس پاره ها با توانمندی یادگیرنده است.

۱۰۲- موضوع اصلی متن، کدام است؟ (Www.iranestekhdam.ir)

- (۱) یک ضرورت اصلی در یادگیری الکترونیکی
- (۲) ویژگی های مشترک نظام های آموزش الکترونیکی
- (۳) یکی از نظریات موثر درباره افزایش کارایی محیط های یادگیری هوشمند
- (۴) چگونگی بهره مندی گروه های مختلف یادگیرندگان، از محیط های یادگیری هوشمند

۱۰۳- بر اساس متن، کدام مورد، از ویژگی های محیط های یادگیری هوشمند است؟ (Www.iranestekhdam.ir)

- (۱) یک سوبه بودن رابطه یادگیرنده و سیستم توصیه گر
- (۲) تعامل میان یادگیرندگان در حین انجام تکالیف
- (۳) سرعت بیشتر و هزینه کمتر فرایند یادگیری
- (۴) عملی بودن ارزیابی عملکرد کاربر

۱۰۴- جمله زیر، در کدام یک از بخش های متن که با شماره مشخص شده اند، قرار می گیرد؟ (Www.iranestekhdam.ir)

« کیفیت توصیه ها در محیط آموزش الکترونیکی ، بسیار حائز اهمیت است. »

- (۱) [۱]      (۲) [۲]      (۳) [۳]      (۴) [۴]

۱۰۵- هدف نویسنده از اشاره به منطق فازی و مدل یادگیرنده قابل اعتماد. در پاراگراف سوم، کدام است؟

(Www.iranestekhdam.ir)

- (۱) ارائه راه حل برای مشکلی که قبل از آن، مورد بحث قرار گرفته است.
- (۲) مقایسه تاثیر آنها بر کیفیت توصیه ها در محیط آموزش الکترونیکی
- (۳) ارائه مثال هایی از نظریات موثر که در ادامه متن ، مورد بحث قرار می گیرند.
- (۴) معرفی آنها به عنوان روش های بررسی نگرش یادگیرندگان به توصیه های یاددهنده

## «توجه مهم»

جهت تهیه کتابهای آموزشی و دانلود سایر نمونه سوالات استخدامی به همراه پاسخنامه  
به آدرس زیر مراجعه بفرمایید:

**اینجا کلیک نمایید**



# ایران استخدا

سرویس خصوصی خدمات عام المنفعه اخبار شغل و استخدام

[Www.IranEstekhdam.Ir](http://www.IranEstekhdam.Ir)

خواننده گرامی؛ در جهت بهبود کیفیت این فایل؛ لطفاً هرگونه انتقاد و پیشنهاد خود در مورد مطالب آن  
و یا گزارش مشکل را به آدرس ایمیل و یا با شماره تلفن زیر مطرح نمایید:

شماره تلفن تماس: ۰۲۱-۹۱۳۰۰۱۳  آدرس ایمیل: [soal@iranestekhdam.ir](mailto:soal@iranestekhdam.ir) 

## اخطار مهم

محتوای این فایل به شماره شاپک ۸-۵۹۶-۴۴۸-۶۰۰-۹۷۸ نزد وزارت ارشاد جمهوری اسلامی ایران ثبت گردیده ؛ لذا هرگونه کپی برداری یا فروش؛ تغییر و دستکاری در محتوای آن مانند حذف آرم یا لوگوی سایت ایران استخدام و یا اضافه کردن آرم؛ نوشته و محتوای دیگر؛ غیر مجاز بوده و متخلف بدون اطلاع قبلی از طریق مبانی قانونی تحت پیگرد قرار خواهد گرفت.

[Www.IranEstekhdam.Ir](http://www.IranEstekhdam.Ir)