




بخشی از محصول:

اصل دفترچه سوالات آزمون های استخدام دیوان محاسبات کشور



سرویس خصوصی خدمات عام المنفعه اخبار شغل و استخدام

Www.IranEstekhdam.Ir

کاربران گرامی لطفا توجه فرمایید: همان طور که در توضیحات پیش از خرید محصول ذکر شده است این بسته حاوی اصل دفترچه سوالات عمومی و تخصصی دیوان محاسبات کشور در سال های ۱۴۰۰، ۹۸، ۹۷ و ۹۴ می باشد.

این بسته در ۳ بخش تهیه شده است که بخش اول شامل اصل سوالات عمومی دیوان محاسبات کشور در سال های ۱۴۰۰ و ۹۴ با پاسخ تشریحی، بخش دوم شامل اصل سوالات تخصصی دیوان محاسبات کشور در سال های ۱۴۰۰، ۹۸، ۹۷ و ۹۴ فاقد پاسخنامه و بخش سوم شامل سوالات طبقه بندی شده و خودآزمای دروس عمومی با پاسخ تشریحی می باشد.

اخطار مهم

این فایل بخشی از محصول اصل دفترچه سوالات عمومی و تخصصی دیوان محاسبات کشور می باشد که به صورت رایگان و برای آشنایی شما عزیزان از کیفیت و محتوای فایل معرفی شده ارائه شده است. هرگونه سوء استفاده از این فایل همانند استفاده از محتوا در تهیه کتب و یا قرار دادن تمام یا بخشی از آن در وب سایت های دیگر، چه برای فروش و چه به صورت رایگان شرعاً حرام و قانوناً خلاف مقررات و قوانین کشورمان می باشد. با توجه به هزینه های صرف شده و تلاش صورت گرفته برای تهیه این بسته، در صورت مشاهده یا گزارش هرگونه کپی برداری از آن؛ بدون هیچ گونه تماس قبلی و هشدار اقدام به پیگیری حقوقی خواهیم نمود.

Www.IranEstekhdam.Ir

کاربران گرامی لطفاً دقت فرمایید، این فایل بخشی از محصول اصل دفترچه سوالات عمومی و تخصصی دیوان محاسبات کشور می باشد که به صورت رایگان و برای آشنایی شما عزیزان از کیفیت و محتوای فایل معرفی شده ارائه شده است، لطفاً جهت خرید و دانلود کامل این محصول، روی لینک زیر کلیک فرمایید.

لینک دانلود و خرید بسته کامل

**بخشی از سوالات عمومی آزمون‌های استخدامی دیوان
محاسبات کشور**

بخش اول:

فناوری اطلاعات و مهارت‌های هفتگانه I.C.D.L

سوالات عمومی طبقه بندی شده آزمون‌های استخدامی سال‌های اخیر

۱- در نرم‌افزار **Power Point**، با استفاده از کدام یک از ابزارهای زیر، می‌توان زمان‌بندی ارائه را قبل از انجام آن، تنظیم کرد؟ (www.iranestekhdam.ir)

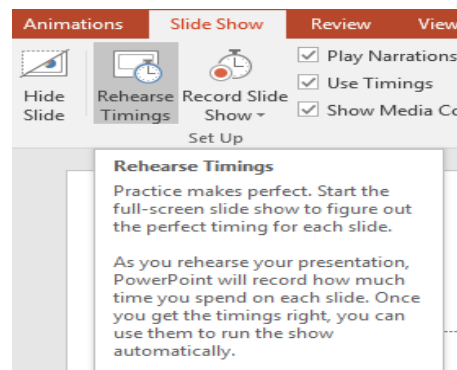
Animation Duration (۲)

Present online (۱)

Animation Timing (۴)

Rehearse Timings (۳)

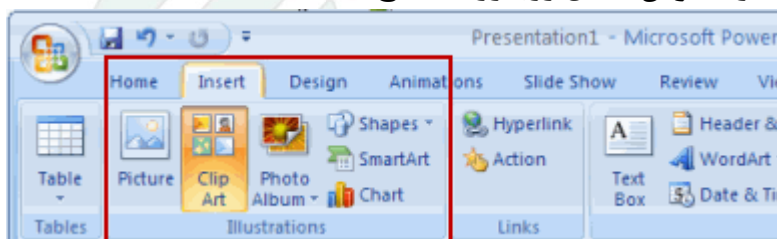
پاسخ کارشناس ایران استکدام: گزینه ۴



گزینه **Rehearse Timings** برای تنظیم زمان بندی بین اسلایدها بکار می‌رود.

با کلیک بر روی این گزینه اسلایدها به صورت تمام صفحه اجرا خواهند شد و در گوشه کادر نمایش، نوار ابزار **Rehearse Timings** قابل نمایش است که زمان نمایش هر اسلاید را ضبط خواهد کرد، در آخر نمایش تمامی اسلایدها از شما سوال خواهد شد که آیا دوست دارید که زمان بندی اجرای اسلایدهای شما به همین زمان ضبط شده نمایش داده شود یا خیر؟ که در صورت مثبت بودن پاسخ اسلایدهایتان طبق همین وضعیتی که الان زمان بندی کردید، نمایش داده خواهد شد.

۲- در نرم‌افزار **Power Point**، کدام مورد در خصوص شکل روبه‌رو، صحیح است؟



(www.iranestekhdam.ir)

(۱) با استفاده از آیکون‌های موجود، می‌توان به سرعت، عکس یا نموداری را در اسلاید درج کرد.

(۲) تنها می‌توان متن در این بخش درج کرد.

۳) امکان درج همزمان عکس و نمودار در اسلاید وجود دارد.

۴) در صورت درج عکس یا نمودار، می‌توان به سادگی بر روی آن، متن نوشت.

پاسخ کارشناس ایران استخدا: **گزینه ۱**

ایران استخدا

بخش دوم:

ریاضی و آمار مقدماتی

آزمون استخدام دیوان محاسبات کشور سال ۱۴۰۰

۳- حسن ۵ کتاب متمایز دارد. دوتای آنها با موضوع ریاضی و سه تای آنها با موضوع آمار است. او به چند طریق می تواند کتابها را در یک قفسه قرار دهد. به طوری که هیچ دو کتاب هم موضوع، کنار هم قرار نگیرند؟ (www.iranestekhdam.ir)

- (۱) ۶
(۲) ۱۵
(۳) ۱۲
(۴) ۹

پاسخ کارشناس ایران استخدام: گزینه ۳

چون ۳ کتاب آمار داریم باید چیدن را با کتاب آمار آغاز کنیم و یک در میان قرار دهیم. برای انتخاب اولین کتاب که آمار است ۳ حق انتخاب داریم، برای ریاضی ۲ حق انتخاب و همین طور محاسبه می کنیم:

$$3 * 2 * 2 * 1 * 1 = 12$$

بنابراین ۱۲ حق انتخاب و چینش متفاوت داریم.

۴- ۹۰ درصد مردان شهر X و ۶۰ درصد مردان شهر Y، شاغل هستند. تعداد مردان شهر X، نصف مردان شهر Y است. اگر فردی را به طور تصادف از بین مردهای شاغل انتخاب کنیم با کدام احتمال از شهر Y خواهد بود؟ (www.iranestekhdam.ir)

- (۱) $\frac{8}{27}$
(۲) $\frac{4}{7}$
(۳) $\frac{3}{7}$
(۴) $\frac{19}{27}$

پاسخ کارشناس ایران استخدام: گزینه ۲

طبق قانون احتمال کل باید پیش برویم. احتمال انتخاب از شهر Y را باید محاسبه کنیم وقتی می دانیم فرد شاغل است. فرمول زیر را برای احتمال کل خواهیم داشت:

$$p(y | \text{شاغل بودن}) = \frac{P(\text{شاغل} | y)P(y)}{P(\text{شاغل} | x)p(x) + P(\text{شاغل} | y)p(y)}$$

$$p(y | \text{شاغل}) = \frac{\frac{6}{10} * \frac{2}{3}}{\frac{9}{10} * \frac{1}{3} + \frac{6}{10} * \frac{2}{3}} = \frac{\frac{4}{10}}{\frac{4}{10} + \frac{3}{10}} = \frac{4}{7}$$

دقت کنید چون تعداد مردان شهر X ، نصف مردان شهر Y است بنابراین احتمال انتخاب از شهر X ، $\frac{1}{3}$ و افراد شهر Y ، $\frac{2}{3}$ است.

آزمون استخدام دیوان محاسبات کشور سال ۹۴

۵- منحنی $x^2 - 3x - 4 = 0$ ، محور x ها را در دو نقطه قطع می کند. فاصله این دو نقطه از یکدیگر کدام است؟ (www.iranestekhdam.ir)

- (۱) ۶
(۲) ۵
(۳) ۳
(۴) ۲

پاسخ کارشناس ایران استخدام: گزینه ۲

$$x^2 - 3x - 4 = 0 \Rightarrow (x + 1)(x - 4) = 0 \rightarrow x = -1, 4 \Rightarrow (-1, 0) \text{ و } (4, 0)$$

$$d = \sqrt{(y_2 - y_1)^2 + (x_2 - x_1)^2} = \sqrt{5^2 + 0} = 5$$

۶- اگر مجموعه های $B - A$ و C طوری باشند که $A \subseteq B - C$ ، در این صورت مجموعه $C - A$ با کدامیک از مجموعه های زیر، به طور قطع برابر است؟ (www.iranestekhdam.ir)

- (۱) $C \Delta A$
(۲) $B - A$
(۳) $C \cap A$
(۴) C

پاسخ کارشناس ایران استخدام: گزینه ۴

سوالات عمومی طبقه بندی شده آزمون های استخدامی سال های اخیر

۷- ریشه های معادله $4x^2 - 2mx - 1 = 0$ ، سینوس و کسینوس زاویه α هستند. مقدار مثبت m کدام است؟ (www.iranestekhdam.ir)

- (۱) $\sqrt{3}$
(۲) $\sqrt{2}$
(۳) $3\sqrt{2}$
(۴) $\sqrt{6}$

پاسخ کارشناس ایران استخدام: گزینه ۲

با توجه به روابط بین ریشه‌های معادله درجه دوم داریم:

$$\begin{cases} x_1 + x_2 = -\frac{b}{a} \\ x_1 \times x_2 = \frac{c}{a} \end{cases} \Rightarrow \begin{cases} \sin\alpha + \cos\alpha = \frac{m}{2} \quad (1) \\ \sin\alpha \times \cos\alpha = \frac{-1}{4} \quad (2) \end{cases}$$

$$(\sin\alpha + \cos\alpha)^2 = \frac{m^2}{4} \rightarrow \sin^2\alpha + \cos^2\alpha + 2\sin\alpha \times \cos\alpha = \frac{m^2}{4}$$

از روابط مثلثاتی به یاد داریم که: $\sin^2\alpha + \cos^2\alpha = 1$
آنگاه داریم:

$$\sin^2\alpha + \cos^2\alpha = 1 \Rightarrow 1 + 2\sin\alpha \times \cos\alpha = \frac{m^2}{4}$$

با جاگذاری رابطه (۲) در معادله بالا داریم:

$$1 + 2\left(-\frac{1}{4}\right) = \frac{m^2}{4} \rightarrow 1 - \frac{1}{2} = \frac{m^2}{4} \rightarrow \frac{1}{2} = \frac{m^2}{4} \Rightarrow 2m^2 = 4$$

$$m = \pm\sqrt{2}$$

با توجه به اینکه تنها مقدار مثبت m مد نظر میباشد، لذا تنها مقدار مثبت $\sqrt{2}$ جواب سوال می‌باشد.

۸- دو پیشامد A و B از فضای نمونه‌ای S هستند. اگر $P(A \cap B) = \frac{1}{6}$ و $P(A) = \frac{2}{3}$ باشد، مقدار $P(A \cap B')$ کدام است؟ (www.iranestekhdam.ir)

$$\frac{3}{4} \quad (۴)$$

$$\frac{5}{6} \quad (۳)$$

$$\frac{1}{2} \quad (۲)$$

$$\frac{1}{3} \quad (۱)$$

پاسخ کارشناس ایران استکدام: گزینه ۲

$$P(A \cap B') = P(A - B) = P(A) - P(A \cap B) = \frac{2}{3} - \frac{1}{6} = \frac{4 - 1}{6} = \frac{1}{2}$$

بخش سوم:

زبان و ادبیات فارسی

آزمون استخدام دیوان محاسبات کشور سال ۱۴۰۰

۹- مفهوم عبارت روبه رو کدام است؟ (www.iranestekhdam.ir)

«اقوال و افعال هیچکس را به قبح محاکات نکند»

(۱) گفته‌ها و کارهای هیچ کس را به زشتی تغییر نکند

(۲) حرف‌ها و اعمال زشت هیچ کس را تایید نکند

(۳) سخن‌ها و کردار هیچ کس را به زشتی تقلید نکند

(۴) سخن‌ها و اعمال زشت هیچ کس را مسخره نکند

پاسخ کارشناس ایران استخدام: گزینه ۳

سخن‌ها و کردار کسی را به زشتی تقلید نکند. از کتاب اخلاق ناصری در آداب سخن گفتن.

۱۰- کدام بیت زیر، قرابت مفهومی دارد؟ (www.iranestekhdam.ir)

«صورت زیبای ظاهر هیچ نیست ای برادر سیرت زیبا بیار»

(۱) اگر از خویش برون آمده ای چون مردان باش آسوده که دیگر سفری نیست تو را

(۲) به صورت آدمی کرده است نقاش اگر مردی به معنی آدمی باش

(۳) چو بسی ابلیس آدم روی هست پس به هر دستی نشاید داد دست

(۴) روی اگر چند پری چهره و زیبا باشد نتوان دید در آینه که نورانی نیست

پاسخ کارشناس ایران استخدام: گزینه ۲

بیت اصلی اشاره‌ی مستقیم به سیرت زیبا دارد و اینکه صورت زیبا مهم نیست وقتی سیرت تو زشت باشد.

نزدیک‌ترین و درست‌ترین بیت هم‌معنی با آن، «به صورت آدمی کرده‌ست نقاش / اگر مردی به معنی آدمی باش»

است.

آزمون استخدام دیوان محاسبات کشور سال ۹۴

۱۱- معنی آیه «إِنَّ مَعَ الْعُسْرِ يُسْرًا»، از کدام بیت دریافت می‌شود؟ (www.iranestekhdam.ir)

- | | |
|---------------------------------|-----------------------------|
| (۱) بس گره، کاو کلید پنهانی است | بس درشتی که در وی آسانی است |
| (۲) چون تو عهد خدای نشکستی | عهده بر من کز این و آن رستی |
| (۳) خویشان را چو خضر بازشناس | تاخوری آب زندگی به قیاس |
| (۴) عهد خود با خدای محکم دار | دل ز دیگر علاقه بی غم دار |

پاسخ کارشناس ایران استخدام: **گزینه ۱**

«إِنَّ مَعَ الْعُسْرِ يُسْرًا؛ به درستی که به همراه هرسختی، آسایشی نیز هست»

۱۲- نام نویسنده یا سراینده ی «آزادی مجسمه، جاوید نامه، آیینه اسکندری، بحر در کوزه، شبخوانی» به ترتیب کدام است؟ (www.iranestekhdam.ir)

- | |
|---|
| (۱) دهخدا، اقبال لاهوری، نظامی گنجوی، بزرگ علوی، شفیعی کدکنی |
| (۲) اسلامی ندوشن، دهخدا، بیدل دهلوی، عبدالحسین زرینکوب، شفیعی کدکنی |
| (۳) اسلامی ندوشن، دهخدا، امیر خسرو دهلوی، عبدالحسین زرینکوب، سهراب سپهری |
| (۴) اسلامی ندوشن، اقبال لاهوری، امیر خسرو دهلوی، عبدالحسین زرینکوب، شفیعی کدکنی |

پاسخ کارشناس ایران استخدام: **گزینه ۴**

آزادی مجسمه = اسلامی ندوشن، جاوید نامه = اقبال لاهوری، آیینه اسکندری = امیر خسرو دهلوی، بحر در کوزه = عبدالحسین زرین کوب، شبخوانی = شفیعی کدکنی

سوالات عمومی طبقه بندی شده آزمون‌های استخدامی سال‌های اخیر

۱۳- معنی واژه های «جولاهه - حلیه - اهمال»، به ترتیب، کدام است؟ (www.iranestekhdam.ir)

- | | |
|--|--------------------------------|
| (۱) عنکبوت - آرایش - بی نظیر و بی‌همتا | (۲) بافنده - زیور - فرو گذاشتن |
| (۳) بافته - شیرینی - سستی کردن در کاری | (۴) نساج - زینت - همتا و نظیر |

پاسخ کارشناس ایران استخدام: **گزینه ۲**

جولاهه: بافنده

حلیه: زیور؛ زینت؛ پیرایه

اهمال: فرو گذاشتن؛ وا گذاشتن؛ درکاری یا درباره چیزی سستی و تنبلی و سهل انگاری کردن.

۱۴- در متن زیر، چند «غلط املائی» یافت می‌شود؟ (www.iranestekhdam.ir)

«اگر پیش از این نسیم این راحت به دماغ من رسیده بودی و لذت فراغت و حلاوت قناعت به کام من پیوسته بودی، هرگز خویشتن بدان ملک بسیار طبیعتِ اندک منفعت آلوده نگردانیدمی.»

(۱) دو (۲) سه

(۳) چهار (۴) یک

پاسخ کارشناس ایران استخدام: **گزینه ۴**

در متن بالا املائی واژه طبیعت غلط بوده و شکل صحیح نوشتاری آن بصورت «تبعث» می‌باشد.

تبعث به معنی نتیجه ناگوار، نتیجه بد؛ رنج و سختی می‌باشد.

بخش چهارم:

معارف اسلامی

آزمون استخدام دیوان محاسبات کشور سال ۱۴۰۰

۱۵- در آموزه‌های دینی تصدیق قلبی و اقرار زبانی و عمل به ارکان و اعضا را چه می‌نامند؟

(www.iranestekhdam.ir)

- (۱) تزکیه
(۲) اخلاص
(۳) ایمان
(۴) تقوا

پاسخ کارشناس ایران استخدام: گزینه ۳

امام رضا علیه السلام فرمودند:

الإيمانُ هُوَ مَعْرِفَةٌ بِالْقَلْبِ وَ إِقْرَارٌ بِاللِّسَانِ وَ عَمَلٌ بِالْأَرْكَانِ؛

ایمان عبارت است از: شناخت قلبی، اقرار و اعتراف زبانی و عمل با اعضا و جوارح.

طبق این حدیث ایمان تنها اقرار زبانی و گفتن "شهادتین" نیست.

۱۶- به ترتیب، ایمان مبتنی بر چیست و جلوه آن کدام است؟ (www.iranestekhdam.ir)

- (۱) معرفت - عمل صالح
(۲) باور - سعادت
(۳) معرفت - سعادت
(۴) باور - عمل صالح

پاسخ کارشناس ایران استخدام: گزینه ۱

ایمان مبتنی بر معرفت است و جلوه آن، عمل صالح است، بنابراین اگر معرفت مومن عمیق تر گردد و عمل صالح

او بیشتر شود ایمان او نیز استواری بیشتری می‌گیرد.

سوالات عمومی طبقه بندی شده آزمون‌های استخدامی سال‌های اخیر

۱۷- تاریخ انبیا نشان می‌دهد که مسئله توحید در مورد مناقشه امت‌های آنان نبوده و

اگر شرکی در کار بوده بیشتر مربوط به بوده است. (www.iranestekhdam.ir)

- (۱) ولایت - مالکیت
(۲) مالکیت - ولایت
(۳) ربوبیت - خالقیت
(۴) خالقیت - ربوبیت

پاسخ کارشناس ایران استکدام: گزینه ۴

تاریخ انبیا نشان می دهد که مسئله ی توحید در خالقیت مورد مناقشه ی امت های آنان نبوده و اگر شرکی در کار بوده، بیشتر مربوط به تدبیر و کارگردانی عالم (ربوبیت) بوده است.

۱۸- از آیه شریفه (أَفَحَسِبْتُمْ أَنَّمَا خَلَقْنَاكُمْ عَبَثًا وَأَنَّكُمْ إِلَيْنَا لَا تُرْجَعُونَ)، کدام برهان دریافت می شود؟ (www.iranestekhdam.ir)

- (۱) عدالت برای اثبات توحید
(۲) حکمت برای اثبات معاد
(۳) عدالت برای اثبات معاد
(۴) حکمت برای اثبات توحید

پاسخ کارشناس ایران استکدام: گزینه ۲

معنی آیه شریفه فوق این چنین است: آیا گمان می کنید که ما شما را بیهوده آفریدیم و شما به سوی ما بازگردانده نمی شود؟

این آیه بیانگر ضرورت معاد در پرتو حکمت الهی می باشد. (دین و زندگی سال دوم دبیرستان-درس ششم)

بخش پنجم:

زبان انگلیسی – عمومی

سوالات عمومی طبقه بندی شده آزمون‌های استخدامی سال‌های اخیر

19- Because the ... of the test was 99.9% accurate, they decided to trust it.

(www.iranestekhdam.ir)

- | | |
|-------------|--------------|
| 1) validity | 2) intensity |
| 3) priority | 4) capacity |

پاسخ کارشناس ایران استخدام: گزینه ۱

با توجه به ترجمه جمله، به دلیل دقت ۹۹ درصدی میزان صحت امتحان، آن‌ها تصمیم گرفتند تا بر امتحان اعتماد کنند، گزینه ۱ به معنی میزان صحت می‌تواند بهترین پاسخ باشد.

20- The team owners engaged in About whether or not they should give the star athlete his desired salary. (www.iranestekhdam.ir)

- | | |
|--------------|----------------|
| 1) welfare | 2) controversy |
| 3) integrity | 4) maintenance |

پاسخ کارشناس ایران استخدام: گزینه ۲

با توجه به ترجمه جمله، صاحبان تیم مشغول بحث و جدل درباره اینکه آیا به ورزش کار ستاره دستمزد مطلوب را بدهند یا نه، شدند، گزینه ۲ به معنی بحث و جدل می‌تواند بهترین پاسخ باشد.

بخش ششم:

اطلاعات عمومی، دانش اجتماعی و قانون اساسی

آزمون استخدام دیوان محاسبات کشور سال ۹۴

۲۱- کمیته منتخب شورای عالی فرهنگی، برای تأیید یا رد صلاحیت رؤسای پیشنهادی دانشگاه‌ها را چه کسانی تشکیل می‌دهند؟ (www.iranestekhdam.ir)

- ۱) وزیر علوم، وزیر بهداشت، رئیس نهاد نمایندگی ولایت فقیه در دانشگاه‌ها، دبیر شورای عالی انقلاب فرهنگی، رئیس هیئت نظارت و بازرسی شورای عالی انقلاب فرهنگی
- ۲) وزیر علوم، وزیر بهداشت، دبیر شورای عالی انقلاب فرهنگی، رئیس دانشگاه آزاد اسلامی، رئیس دانشگاه پیام نور، رئیس هیئت نظارت و بازرسی شورای عالی انقلاب فرهنگی
- ۳) وزیر علوم، وزیر بهداشت، دبیر شورای عالی انقلاب فرهنگی، رئیس نهاد نمایندگی ولایت فقیه در دانشگاه‌ها، رئیس دانشگاه آزاد اسلامی
- ۴) وزیر علوم، وزیر بهداشت، رئیس نهاد نمایندگی ولایت فقیه در دانشگاه‌ها، رئیس دانشگاه آزاد اسلامی، رئیس دانشگاه پیام نور

پاسخ کارشناس ایران استخدام: گزینه ۱

تأیید صلاحیت سرپرستان دانشگاه‌ها پس از معرفی وزیر علوم به دبیرخانه شورای عالی انقلاب فرهنگی به جای مطرح شدن در صحن شورا در این کمیته متشکل از وزیر علوم، وزیر بهداشت، دبیر شورای عالی انقلاب فرهنگی، رئیس نهاد نمایندگی مقام معظم رهبری در دانشگاه‌ها و رئیس هیئت بازرسی و هیئت نظارت شورا بررسی می‌شود.

۲۲- میر عماد، خطاط نامی ایرانی، معاصر کدام حاکم بوده است؟ (www.iranestekhdam.ir)

- ۱) آقامحمدخان قاجار
- ۲) شاه عباس صفوی
- ۳) هولاکوخان
- ۴) مظفرالدین شاه قاجار

پاسخ کارشناس ایران استخدام: گزینه ۲

"میر عماد الحسینی" (۱۰۲۴ هجری قمری) معاصر شاه عباس صفوی بود.

سوالات عمومی طبقه بندی شده آزمون‌های استخدامی سال‌های اخیر

۲۳- شمالی‌ترین شهر ایران، کدام است؟ (www.iranestekhdam.ir)

(۲) مشهد

(۱) سرخس

(۴) پارس آباد

(۳) تبریز

پاسخ کارشناس ایران استکدام: گزینه ۴

از دید جغرافیایی، غربی‌ترین شهر ایران کلیساکندی؛ شرقی‌ترین شهر جالق؛ شمالی‌ترین شهر پارس‌آباد؛ و جنوبی‌ترین شهر چابهار است.

۲۴- از میان چهار شخصیت زیر، چه کسی کتاب «علی از زبان علی» را نوشته است؟

(www.iranestekhdam.ir)

(۲) سیدجعفر شهیدی

(۱) علامه طباطبایی (ره)

(۴) دکتر علی شریعتی

(۳) شهید مرتضی مطهری (ره)

پاسخ کارشناس ایران استکدام: گزینه ۲

کتاب «علی از زبان علی» در مورد زندگانی امیرمومنان علی (ع) می‌باشد که توسط مرحوم سید جعفر شهیدی نوشته شده است.

بخش هفتم:

هوش و توانمندی های عمومی

سوالات عمومی طبقه بندی شده آزمون‌های استخدامی سال‌های اخیر

۲۵- کدام گزینه، نظر نویسنده متن را درباره استفاده از کلمه نانو را به خوبی بیان می‌کند؟

(www.iranestekhdam.ir)

- (۱) اگر تعریف جامع و کاملی از آن در دست نبود، انتقادهای مجامع علمی به استفاده متداول از آن، وارد بود
- (۲) به نادیده گرفته شدن نقش علوم دیگر در حوزه فناوری می‌انجامد.
- (۳) استفاده متداول از آن، در افزایش فرصت‌های سرمایه گذاری تاثیر مثبت دارد.
- (۴) می‌تواند بر افزایش کیفیت پژوهش‌های حوزه نانو تکنولوژی، تاثیر مثبت بگذارد.

پاسخ کارشناس ایران استخدام: گزینه ۴

با توجه به پاراگراف دوم قسمتهای آخر درستی گزینه اشکار می‌شود.

«باید متوجه بود که علم نانو به طور اساسی از علوم دیگری از قبیل شیمی، علوم چند بخشی و فناوری های زیر ساخت شکل گرفته است. با این حال استفاده از این کلمه به محققان اجازه می‌دهد تا اثر فرایندها و ساختارهای مواد را نمایان تر کنند»

۲۶- کدام یک از موارد زیر، درباره تجاری سازی فناوری را می‌توان از پاراگراف سوم متن نتیجه گرفت؟

(www.iranestekhdam.ir)

- (۱) بالفعل شدن اثر درآمد زایی آن، تحت شرایطی خاص امکان پذیر است.
- (۲) گرچه به ظاهر پیچیده می‌نماید، اما در عمل، یک فرایند ساده خطی بیش نیست.
- (۳) تاثیرات آن در بخش مالی اقتصاد، بسیار گسترده تر از اثرات آن در بخش غیر مالی است.

(۱) ۱ و ۲ و ۳ (۲) فقط ۱

(۳) فقط ۳ (۴) ۲ و ۳

پاسخ کارشناس ایران استخدام: گزینه ۲

جمله اول کاملا درست است. جمله دوم با توجه به دو سطر آخر پاراگراف غلط است.

جمله سوم نیز با توجه به قسمت اول پاراگراف نادرست است. چون تاثیر آن بر هردو قابل توجه است.

**بخشی از سوالات تخصصی آزمون‌های استخدامی
دیوان محاسبات کشور**

آزمون استخدام دیوان محاسبات کشور سال ۱۴۰۰ - حسابرس و کارشناس حساب

۱- کدام یک از مراحل خرج در مبنای نقدی، احتیاج به ثبت حسابداری دارد؟

(www.iranestekhdam.ir)

- | | |
|----------------|------------------|
| (۱) صدور حواله | (۲) تسجیل |
| (۳) تعهد | (۴) تامین اعتبار |

۲- در صورتی که سهامدار شرکت سهامی ظرف مهلت تعیین شده مابقی مبلغ سهام را پرداخت نکند. کدام مورد زیر، از ضمانت اجرای های قانونی آن محسوب نمی شود؟ (www.iranestekhdam.ir)

- | | |
|--------------------------------------|--|
| (۱) فروش سهام از طریق بورس یا مزایده | (۲) محرومیت از حق حضور و حق رای در مجامع عمومی |
| (۳) خسارت تاخیر در تادیه | (۴) از بین رفتن حق دریافت سود سالیانه |

آزمون استخدام دیوان محاسبات کشور سال ۹۸ - حسابرس و کارشناس حساب

۳- مجموع مبالغ قابل پرداخت تحت عنوان اضافه کار و حق التدریس به هر یک از کارمندان، نباید حداکثر از چند درصد حقوق ثابت و فوق العاده های آنان تجاوز کند؟ (www.iranestekhdam.ir)

- | | |
|--------|--------|
| (۱) ۷۰ | (۲) ۵۰ |
| (۳) ۳۰ | (۴) ۲۵ |

۴- کدام مورد، از عوامل مرتبط با "حق شغل" به شمار می آید؟ (www.iranestekhdam.ir)

- | | |
|---------------------|-------------------|
| (۱) سنوات خدمت | (۲) تحصیلات |
| (۳) دوره های آموزشی | (۴) اهمیت مسئولیت |

آزمون استخدام دیوان محاسبات کشور سال ۹۷ - کارشناس فناوری اطلاعات مجلس

۵- فرض کنید کلاس C از کلاس B و کلاس B از کلاس A مشتق شده است. این ارث بری بیانگر کدام نوع وراثت است؟ (www.iranestekhdam.ir)

- (۱) Hybrid
(۲) Multilevel
(۳) Multiple
(۴) Hierarchical

۶- در صورت برقراری کدام مورد برای همه صفت های B در رابطه R ، A کلید کاندید رابطه R خواهد بود؟ (www.iranestekhdam.ir)

- (۱) وابستگی $A \rightarrow B$ ، از نوع وابستگی تابعی کامل باشد.
(۲) B زیر مجموعه ای از A باشد.
(۳) $B \rightarrow A$
(۴) $A \rightarrow B$

آزمون استخدام دیوان محاسبات کشور سال ۹۴ - کارشناس بودجه و تشکیلات

۷- در صورت نیاز به هیئت های مستشاری، کمیسیون از میان افراد پیشنهادی ریاست، به ترتیب چند نفر را به عنوان عضو اصلی و چند نفر را به عنوان عضو جانشین انتخاب می نماید؟ (www.iranestekhdam.ir)

- (۱) ۱ و ۳
(۲) ۳ و ۵
(۳) ۳ و ۷
(۴) ۵ و ۷

۸- کدام مورد، سپرده تلقی نمی شود؟ (www.iranestekhdam.ir)

(۱) توسط دستگا های دولتی به موجب مقررات تحت عنوان ودیعه و یا حق اشتراک آب و برق و ... از اشخاص دریافت می شود.

۲) بر اساس مقررات قانونی توسط اشخاص نزد دستگاه‌های دولتی به نفع اشخاص ثالث تودیع می‌گردد تا با رعایت مقررات مربوطه به ذی نفع پرداخت شود.

۳) طبق قوانین و مقررات به منظور تامین و جلوگیری از تضییع حقوق دولت دریافت می‌گردد و استرداد و یا ضبط آن تابع شرایط مقرر در قوانین و قراردادهای مربوط است.

۴) به منظور قرارها و یا احکام صادره از طرف مراجع قضایی از اشخاص حقیقی یا حقوقی دریافت می‌گردد و به موجب قرارها و احکام مراجع مذکور کلاً و یا بعضاً قابل استرداد می‌باشد.

کاربران گرامی لطفاً دقت فرمایید، این فایل بخشی از محصول اصل دفترچه سوالات عمومی و تخصصی دیوان محاسبات کشور می باشد که به صورت رایگان و برای آشنایی شما عزیزان از کیفیت و محتوای فایل معرفی شده ارائه شده است، لطفاً جهت خرید و دانلود کامل این محصول، روی لینک زیر کلیک فرمایید.

لینک دانلود و خرید بسته کامل



ایران استخدا

سرویس خصوصی خدمات عام المنفعه اخبار شغل و استخدام

Www.IranEstekhdam.Ir

کاربران گرامی لطفا توجه فرمایید: همان طور که در توضیحات پیش از خرید محصول ذکر شده است این بسته حاوی اصل دفترچه سوالات عمومی و تخصصی دیوان محاسبات کشور در سال های ۱۴۰۰، ۹۸، ۹۷ و ۹۴ می باشد.

این بسته در ۳ بخش تهیه شده است که بخش اول شامل اصل سوالات عمومی دیوان محاسبات کشور در سال های ۱۴۰۰ و ۹۴ با پاسخ تشریحی، بخش دوم شامل اصل سوالات تخصصی دیوان محاسبات کشور در سال های ۱۴۰۰، ۹۸، ۹۷ و ۹۴ فاقد پاسخنامه و بخش سوم شامل سوالات طبقه بندی شده و خودآزمای دروس عمومی با پاسخ تشریحی می باشد.

اخطار مهم

این فایل بخشی از محصول اصل دفترچه سوالات عمومی و تخصصی دیوان محاسبات کشور می باشد که به صورت رایگان و برای آشنایی شما عزیزان از کیفیت و محتوای فایل معرفی شده ارائه شده است. هرگونه سوء استفاده از این فایل همانند استفاده از محتوا در تهیه کتب و یا قرار دادن تمام یا بخشی از آن در وب سایت های دیگر، چه برای فروش و چه به صورت رایگان شرعاً حرام و قانوناً خلاف مقررات و قوانین کشورمان می باشد. با توجه به هزینه های صرف شده و تلاش صورت گرفته برای تهیه این بسته، در صورت مشاهده یا گزارش هرگونه کپی برداری از آن؛ بدون هیچ گونه تماس قبلی و هشدار اقدام به پیگیری حقوقی خواهیم نمود.

Www.IranEstekhdam.Ir