




# اصل دفترچه سوالات عمومی آزمون استخدامی سازمان تامین اجتماعی سال ۱۴۰۳ (ارسالی کاربران)




سرویس خصوصی خدمات عام المنفعه اخبار شغل و استخدام

[Www.IranEstekhdam.Ir](http://www.IranEstekhdam.Ir)

خواننده گرامی؛ در جهت بهبود کیفیت این فایل؛ لطفاً هرگونه انتقاد و پیشنهاد خود در مورد مطالب آن  
و یا گزارش مشکل را به آدرس ایمیل و یا با شماره تلفن زیر مطرح نمایید:

آدرس ایمیل: [soal@iranestekhdam.ir](mailto:soal@iranestekhdam.ir) 

شماره تلفن تماس: ۰۲۱-۹۱۳۰۰۰۱۳ 

[Www.IranEstekhdam.Ir](http://www.IranEstekhdam.Ir)

## «توجه مهم»

جهت تهیه کتابهای آموزشی و دانلود سایر نمونه سوالات استخدامی به همراه پاسخنامه  
به آدرس زیر مراجعه بفرمایید:

**اینجا کلیک نمایید**

## زبان و ادبیات فارسی

۱۱- همه آثار زیر متعلق به جامی هستند؛ به جز:

(الف) رساله دلگشا

(ب) نفحات الانس

(ج) تحفه الاحرار

(د) بهارستان

۱۲- در کدام گزینه «موضوع بی اعتباری دنیا» مشهود است؟

(الف) ده روز مهر گردون افسانه است و افسون

(ب) این قافله بر قافله پویان سوی آن مرحله

(ج) نومید شو ز هر که توانی و هر چه هست

(د) کی رسد آسفتگی از روزگار بوالعجب

نیکی به جای یاران فرصت شمار یارا

چون بر نمی گردد سرت چون دل نمی جوشد تو را

که امیدهای باطل ما را شمار نیست

آنچه از چشمت بدین آشفته کاران می رسد

۱۴- در کدام گزینه « کنایه » به کار رفته است؟

- الف) بزم نیر بر چشم استغفار / سینه بند جهان پیش آن نامدار  
ب) نهشتی گز اندر گمان رفت زود / او آن سان که سیخ بر فرموده بود  
ج) تو را گر غمی بار باید / بار او را هر چه گر نماید به کار  
د) بفرمود تا زمین بر است سیاه نهادند / بردند نزدیک شاه

۱۵- مفهوم کلی بیت زیر با کدام بیت تناسب دارد؟

« موی سپید را فلکیم رایگان نداد / این رشته را به نقد جوانی خریدام »

- الف) چگونه بپر جوانی و جاهلی نکند  
ب) برف ببری می نشیند بر سرم  
ج) فدح بر کن که من از دولت عشق  
د) سال ها با بار ببری خم شدم در جست و جویش
- در این فضا که گرده جهان ببرد جوان  
شخصی طبع جوانی می کند  
جوان باشد جهانم گر چه بزم  
داده بزم گور خم رفتم نماند پیدا جوانی

۱۶- در کدام گزینه نام اثری منسوب به « محمد تقی بهار » آمده است؟

- الف) ایده آل  
ب) گنجینه نشانی  
ج) تاریخ نظر شعر فارسی ✓  
د) خداوندنامه

۱۷- مهم ترین قالب نثر دوره معاصر کدام است؟

- الف) نثر داستانی ✓  
ب) ادبیات نمایشی  
ج) سفرنامه  
د) مقاله

(د) مقاله

(ج) سفرنامه

(ب) ادبیات نمایشی

(الف) نثر داستانی

۱۸- در بیت زیر کدام آرایه به کار رفته است؟

«طاووس این بهارم، ساعر کش خمارم در راه انظارم صد چشم و یک پریدن»

(د) تضمین

(ج) تشبیه

(ب) تلمیح

(الف) سجع

۱۹- در کدام بیت «الحراق» به کار رفته است؟

ز منکبت برآکندگی دور باد  
از نازگی از لر رساند بدش را  
که من مستی و مستوری ندانم  
در ظاهر اگر مالک دینار نبودیم

(الف) دل و کسرت جمع و معمور باد

(ب) اگر برگ گل سرخ کسی بپرهش با

(ج) بگویم تا بماند نسیم و دوست

(د) «صائب» مدد خلق نمودیم به همت

۲۰- در کدام گزینه به مفهوم «تأثیرگذاری زنان» اشاره نشده است؟

که مام مردم فردایی ای زن  
که زن اسلن برآید با کم و بیش  
ز مادر است میسر بزرگی بسرن  
بزرگ بوده پرستار خردی ایشان

(الف) به کار علم و عفت کوش امروز

(ب) من این را یافتم از شاه و درویش

(ج) همیشه دختر امروز مادر فرداست

(د) اگر فلاحن و سغراط بوده‌اند بزرگ

### ریاضی و آمار مقدماتی

۲۱- اگر  $A = \{1, 3, 4, 7\}$  و  $B = \{3, 7, 9\}$  باشد آنگاه حاصل  $(A-B) \cup (B-A)$  عبارتست از:

(د)  $\{1, 4, 9\}$

(ج)  $\{3, 4, 7\}$

(ب)  $\{1, 4, 7\}$

(الف)  $\{1, 3, 9\}$

۲۲- اگر  $x = 1 + \sqrt{2}$  و  $y = -1 + \sqrt{2}$  باشد، حاصل عبارت  $\frac{xy^2 + x^2y - 2x^2y^2}{x^2y - xy^2}$  کدام است؟

(د)  $2\sqrt{2}$

(ج)  $-\frac{\sqrt{2}}{2}$

(ب)  $\frac{\sqrt{2}}{2}$

(الف)  $-2\sqrt{2}$

۲۳- در تجزیه عبارت  $(x^2 - 20)^2 - x^2$  کدام عامل ضرب زیر وجود ندارد؟

(د)  $x+5$

(ج)  $x-1$

(ب)  $x+4$

(الف)  $x-5$

۲۴- حاصل عبارت گویای  $\frac{2x}{2x+1} + \frac{2}{2x-1} - \frac{2x+3}{4x^2-1}$  کدام است؟

(د) ۲

(ج) ۱

(ب) -۲

(الف) -۱

۲۵- اگر  $f(x) = \sqrt{x^2 - 3}$  آنگاه  $f(2) - f(3\sqrt{2})$  برابر است با:

(د)  $1 - 3\sqrt{5}$

(ج)  $1 - \sqrt{15}$

(ب)  $\sqrt{15} - 1$

(الف)  $1 + \sqrt{5}$

۲۶- در تابع  $f(x) = mx^2 + nx - 1$  اگر  $f(1) = 6$  و  $f(2) = 13$  مقدار  $n$  برابر است با:

- الف) ۶ (ب) ۲ (ج) ۷ (د) ۲

۲۷- میانگین ۸ داده آماری  $16/5$  است. اگر دو داده ۱۸ و ۲۲ را از آن داده‌ها کنار بگذاریم. میانگین ۶ داده حاصل کدام است؟

- الف)  $14/22$  (ب)  $15/22$  (ج)  $14/52$  (د)  $15/52$

۲۸- در جدول فراوانی مقابل میانگین به صورت  $\bar{x} = 11 + 2a$  محاسبه شده است. مقدار  $a$  کدام است؟

X	7	9	11	13	15
f	1	4	4	9	2

- الف) ۰/۲۵ (ب) ۰/۴۶ (ج) ۰/۵۲ (د) ۰/۶۲

۲۹- اگر تمام داده‌ها را ۲ برابر کنیم مد و میانگین داده‌های حاصل چگونه خواهند بود؟

- الف) فقط مد تغییر می‌کند (ب) فقط میانگین تغییر می‌کند (ج) هر دو تغییر می‌کنند (د) هیچ کدام تغییر نمی‌کنند

۳۰- واریانس داده‌های آماری ۱۲ و ۱۵ و ۱۳ و ۱۲ و ۱۴ و ۱۳ و ۱۰ و ۱۵ کدام است؟

- الف)  $1/75$  (ب)  $2/25$  (ج)  $2/5$  (د) ۲

### اطلاعات عمومی، دانش اجتماعی و حقوق اساسی

۳۱- طبق اصل ..... قانون اساسی جمهوری اسلامی ایران.

هر خورداری از تأمین اجتماعی از نظر بازنشستگی، بیکاری، پیری، از کار افتادگی، بی سرپرستی، در راه ماندگی، حوادث و سوانح، نیاز به خدمات بهداشتی درمانی و مراقبت‌های پزشکی به صورت بیمه و غیره حقی است همگانی»

- الف) اصل ۲۹ (ب) اصل ۴۴ (ج) اصل ۲۷ (د) اصل ۲۴

۳۲- شناخت و آگاهی هر فرد نسبت به جهان هستی، چه نام دارد؟

- الف) ایدئولوژی (ب) اصول عقاید (ج) جهان بینی (د) علم‌الاشیاء

۳۳- کوچک‌ترین استان ایران از لحاظ وسعت کدام است؟

- الف) البرز (ب) لرزین (ج) قم (د) کهگیلویه و بویراحمد

۳۴- سوسیالیسم یعنی چی؟

- الف) برابری اقدار مختلف جامعه در سود (ب) مالکیت مردم بر دارایی (ج) اعتقاد به اصالت امور دنیوی (د) اعتقاد به لزوم آداب و رسوم

### Vocabulary

Choose the word or phrase (a), (b), (c) or (d) that best completes each sentence.

41- I don't know how we are going to \_\_\_\_\_ the expected surge of immigrants into the country.

- a) run through
- b) put out
- c) cope with
- d) take down

42- In Ethiopia, primitive farming practices of natural vegetation have transformed much of the country's highlands..... bare landscapes, but all destroyed .....

- a) into / by
- b) above / of
- c) for / with
- d) in / under

43- We have relatively \_\_\_\_\_ gold and uranium on Earth only because many supernova explosions had occurred just before the solar system formed.

- a) feeble
- b) hinder
- c) pedestrian
- d) abundant

44- If you realize mid-climb that your rock climbing rope is frayed, you might be in .....

- a) reckless
- b) peril
- c) transparent
- d) vandal

45- Her voice had become ..... from shouting. Her last words were almost inaudible.

- a) hoarse
- b) flexible
- c) duplicate
- d) comprehensive

### Grammar

46- Tourists ..... when large numbers of middle-class people..... to join the wealthier aristocratic travelers.

- a) have originated / had begun
- b) had originated / began
- c) originated / began
- d) were originating / are beginning

47- As the tree was too high to climb, the mischievous boys.....their ball down only by throwing sticks at it.

- a) could have knocked
- b) will have to knock
- c) would have knocked
- d) were able to knock

48- Certain serious diseases can be successfully treated .....detected in an initial stage.

- a) unless
- b) even when
- c) before
- d) if

49- ..... you have made minimal progress; it is by no means the kind of progress that you need to make.

- a) Despite
- b) According
- c) While
- d) Considering

50- A combination of imagination and determination ..... Peter.....entirely new lines of research concerned with the way animals survive extreme environmental conditions.

- a) have allowed / being developed
- b) allowed / to develop
- c) will allow / to be developing
- d) will allow / to be developing

a) unless

b) even when

c) before

d) if

49- ..... you have made minimal progress; it is by no means the kind of progress that you need to make.

a) Despite

b) According

c) While

d) Considering

50- A combination of imagination and determination ..... Peter ..... entirely new lines of research concerned with the way animals survive extreme environmental conditions.

a) have allowed / being developed

b) allowed /to develop

c) were allowed / to have developed

d) will allow / to be developing

### هوش و استعداد شفلی

۵۱- در یک مستطیل همواره:

الف) دو ضلع مجاور با هم مساوی‌اند

ب) دو ضلع مجاور بر هم عمودند

ج) قطر‌ها بر هم عمودند

د) قطر‌ها یا هم زاویه ۴۵ درجه می‌سازند

۵۲- ۵ به  $2\frac{3}{4}$  مانند ۲۰ است به:

الف)  $8\frac{3}{4}$

ب) ۱۱

ج)  $13\frac{3}{4}$

د) ۱۵

۵۳- در یک کلاس دوسوم دانشجویان انگلیسی می‌دانند. دوسوم همین کلاس فرانسه می‌دانند. علی دانشجوی این کلاس است. او .....

الف) قطعاً انگلیسی و فرانسه را با هم نمی‌داند

ب) ممکن است انگلیسی و فرانسه را با هم بداند

ج) حتماً فرانسه می‌داند.

د) حتماً انگلیسی می‌داند.

۵۴- قطاری ۲۰ متر را در  $\frac{1}{5}$  ثانیه طی می‌کند. با همین سرعت چند متر را در ۳ ثانیه طی می‌کند؟

الف) ۲۰۰

ب) ۲۵۰

ج) ۳۰۰

د) ۳۵۰



- ۵۵- رابطه‌ی مقابل را کدام یک از گزینه‌ها تکمیل می‌کند؟ نسبت « زمان » به « جوان » مثل نسبت ۵۳۲۲ است به ...
- (الف) ۲۵۲۲ (ب) ۳۲۵۲ (ج) ۳۱۲۲ (د) ۳۲۲۵
- ۵۶- به جای علامت سؤال چه عددی را باید نوشت؟
- ۱۴ (الف) ۱۲ (ب) ۲۰ (ج) ۸ (د)
- ۵۷- در یک زبان ناشناخته، «سافل گیمور بیمون» یعنی «خانه بزرگ آجری» و «گیمور شاسیل» یعنی «دیوار آجری» و «فراسی سافل» یعنی «خانه درختی». در این زبان به «بزرگ» چه می‌گویند؟
- (الف) سافل (ب) گیمور (ج) شاسیل (د) بیمون
- ۵۸- «اهالی پایین دره در دسر ساز اند» همین معنا را می‌دهد که:
- (الف) افراد در دسر ساز نیستند، مگر اینکه از اهالی پایین دره باشند.  
(ب) اگر فردی از اهالی پایین دره باشد، پس آن فرد در دسر ساز است.  
(ج) حداقل یک فرد وجود دارد که اهل پایین دره است و در دسر ساز است.  
(د) اگر فردی در دسر ساز باشد پس آن فرد از اهالی پایین دره است.
- ۵۹- در سرشماری از ۱۰۰۰ خانواده معلوم شد ۷۰۰ مورد از آنها دارای تلفن و ۵۰۰ مورد از آنها فاقد اتومبیل هستند و هیچ خانواده‌ای نبود که حداقل یکی از این دو وسیله را نداشته باشد. چند نفر از خانواده‌هایی که فاقد تلفن هستند دارای اتومبیل می‌باشند؟
- (الف) ۲۰۰ (ب) ۳۰۰ (ج) ۲۰۰ (د) ۵۰۰
- ۶۰- اگر فروشندگانی ابتدا قیمت جنسی را ۴۰ درصد افزایش داده و سپس با ۳۰ درصد تخفیف آن را بفروشند، در نتیجه او جنس خود را:
- (الف) به همان قیمت اولیه فروخته است  
(ب) گران‌تر از قیمت اولیه فروخته است  
(ج) ارزان‌تر از قیمت اولیه فروخته است  
(د) اطلاعات مساله کافی نیست

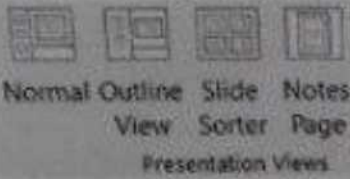
### فناوری اطلاعات

- ۶۱- وقتی در نرم‌افزار ورد تصویری را انتخاب کرده‌ایم، با کدام گزینه می‌توانیم بخشی از آن تصویر را برش بزنیم؟
- (الف) Size (ب) Crop (ج) Color (د) Corrections
- ۶۲- در نرم‌افزار اکسل، فرمول روبرو چه عملی را انجام می‌دهد؟
- (الف) مجموع دو سلول A1 و C5  
(ب) میانگین دو سلول A1 و C5  
(ج) مجموع سلول‌های موجود بین دو سلول A1 و C5  
(د) میانگین سلول‌های موجود بین دو سلول A1 و C5
- ۶۳- کدام یک از توابع زیر در نرم‌افزار اکسل، مربوط به شمارش سلول‌های انتخاب شده و دارای یک شرط خاص است؟
- (الف) count (ب) counta (ج) countblank (د) countif
- ۶۴- در نرم‌افزار اکسل، محل یا نشانی یک سلول از چه اجزایی تشکیل شده است؟
- (الف) نام ستون + نام سطر  
(ب) نام ستون + شماره ردیف سطر  
(ج) نام سطر + نام ستون  
(د) نام سطر + شماره ردیف ستون
- ۶۵- کدام بخش از URL، معمولاً نشان دهنده زمینه فعالیت سایت می‌باشد؟
- (الف) پروتکل (ب) نام سرویس دهنده (ج) نام ثبت شده (د) دامنه
- ۶۶- کلیدهای ترکیبی Ctrl+M در پاورپوینت چه عملی را انجام می‌دهد؟
- (الف) ایجاد اسلاید جدید  
(ب) کپی ساختن از اسلاید انتخاب شده  
(ج) ایجاد یک سند جدید پاورپوینت  
(د) شروع نمایش اسلایدهای پاورپوینت
- ۶۷- home page در مرورگرهای اینترنتی چیست؟
- (الف) صفحه سایت اصلی تولید کننده مرورگر  
(ب) اولین صفحه‌ای که کاربر در مرورگر آن را مشاهده کرده است  
(ج) اولین صفحه‌ای که هر وقت مرورگر فعال می‌شود، نمایش داده می‌شود  
(د) صفحه اصلی سایت گوگل

۶۸- یا کدام یک از ترکیب کلیدهای زیر در نرم‌افزار ورد، مکان‌نما به ابتدای پاراگراف بعدی می‌رود؟

- الف) Ctrl+Shift+1 (ب) Ctrl+1 (ج) Ctrl+4 (د) Shift+1

۶۹- در تصویر روبرو، نحوه نمایش یک فایل پاورپوینت در منوی View آمده است. کدام گزینه برای جابجایی و زمان‌بندی اسلایدها استفاده می‌شود؟



- الف) Normal (ب) Outline view (ج) Slide sorter (د) Notes page

۷۰- ترکیب کلیدهای Ctrl+y یا Redo چه عملی را در نرم‌افزار ورد انجام می‌دهد؟

- الف) بازگرداندن آخرین عملیات لغو شده (ب) لغو آخرین عملیات انجام شده (ج) Paste کردن اطلاعات کپی گرفته شده (د) کپی گرفتن از بخش انتخاب شده متن

### شناخت تأمین اجتماعی

۷۱- کدام جمله صحیح است؟

- الف) سازمان تأمین اجتماعی براساس قانون یک نهاد عمومی دولتی است که منابع مالی آن از محل حق بیمه‌ها با مشارکت کارفرما و بیمه شده تأمین می‌گردد.  
 ب) سازمان تأمین اجتماعی متکی به دولت نیست ولی قابلیت انضمام یا دیگر سازمان‌های حمایتی دولتی یا غیر دولتی را دارد.  
 ج) سازمان تأمین اجتماعی براساس قانون یک نهاد عمومی غیر دولتی است که عمده منابع مالی آن از محل حق بیمه‌ها با مشارکت کارفرما و بیمه شده تأمین می‌گردد.  
 د) تکیه‌گاه اصلی سازمان مشارکت دو جانبه کارفرمایان و بیمه شدگان می‌باشد.

۷۲- کدام قانون تنظیم کننده روابط کار و تضمین کننده حقوق کارفرما و کارگر است؟

- الف) قانون کار (ب) قانون تأمین اجتماعی (ج) قانون تجارت (د) قانون بیمه بیکاری

۷۳- بزرگترین نماینده بیمه کشور ..... می‌باشد.

- الف) صندوق تأمین اجتماعی نیروهای مسلح (ب) صندوق بیمه اجتماعی روستاییان و عشایر (ج) صندوق بازنشستگی کشور (د) صندوق تأمین اجتماعی

۷۴- قانون بازنشستگی پیش از موعد در چه سالی به تصویب رسیده است؟

- الف) ۱۳۶۵ (ب) ۱۳۶۶ (ج) ۱۳۶۷ (د) ۱۳۶۸

۷۵- هیئت امنای سازمان تأمین اجتماعی چند نفر بوده و چند نفر از آنها با پیشنهاد وزیر تعاون، کار و رفاه اجتماعی و تصویب شورای عالی رفاه تأمین اجتماعی تعیین می‌شوند؟

- الف) ۹ نفر - ۶ نفر (ب) ۷ نفر - ۵ نفر (ج) ۱۱ نفر - ۷ نفر (د) ۹ نفر - ۵ نفر

۷۶- کدامیک از ادارات کل، زیر مجموعه معاونت اقتصادی و سرمایه‌گذاری نمی‌باشد؟

- الف) اداره کل نظارت بر امور شوراها (ب) اداره کل امور مجلس و دولت (ج) اداره کل ذخایر، سرمایه‌گذاری املاک (د) اداره کل امور مجامع و شرکت‌ها

۷۷- ادارات کل معاونت بیمه‌ای عبارتند از:

- الف) اداره کل مستمری‌ها - اداره کل امور بیمه شدگان - اداره کل حقوقی و قوانین - اداره کل نامنویسی و حسابهای انفرادی  
 ب) اداره کل مستمری‌ها - اداره کل امور بیمه شدگان - اداره کل حقوقی و قوانین - اداره کل امور بین‌الملل  
 ج) اداره کل مستمری‌ها - اداره کل امور بیمه شدگان - اداره کل وصول حق بیمه - اداره کل حقوقی و قوانین  
 د) اداره کل مستمری‌ها - اداره کل امور بیمه شدگان - اداره کل وصول حق بیمه - اداره کل نامنویسی و حسابهای انفرادی

۷۸- راهبردی فعالیت‌های نظارتی و ارزشیابی واحدهای اجرایی تابعه از دو بعد مدیریتی / عملیاتی از وظایف کدام یک از معاونتهای سازمان تأمین اجتماعی می‌باشد؟

- الف) معاونت برنامه ریزی، مالی و پشتیبانی (ب) معاونت فرهنگی، اجتماعی و امور استان‌ها (ج) معاونت توسعه مدیریت و منابع انسانی (د) معاونت بیمه ای

۷۹- اگر در اثر حادثه ناشی از کار یا بیماری حرفه‌ای از کار افتادگی کلی شناخته شود، شرایط دریافت مستمری چگونه است؟

- الف) بدون در نظر گرفتن مدت حق بیمه استحقاقی دریافت مستمری را خواهد داشت ✓  
 ب) بیمه شده حداقل شش ماه قبل از وقوع حادثه، سابقه پرداخت یک سال بیمه را داشته باشد  
 ج) بیمه شده حداقل طی یک سال منتهی به حادثه حداقل ۹۰ روز حق بیمه پرداخت کرده باشد  
 د) مجموعه سنوات بیمه‌ای پرداخت شده تا روز حادثه حداقل ۱۲ ماه باشد
- ۸۰- کدام دسته مشمول دریافت عیدی می‌شوند؟

- الف) مستمری بگیران بازنشسته  
 ب) مستمری بگیران از کار افتاده کلی و بازماندگان  
 ج) مستمری بگیران بازمانده (ن که دارای حداقل یک فرزند باشند)  
 د) موارد الف و ب ✓

## «توجه مهم»

جهت تهیه کتابهای آموزشی و دانلود سایر نمونه سوالات استخدامی به همراه پاسخنامه  
به آدرس زیر مراجعه بفرمایید:

**اینجا کلیک نمایید**



# ایران استخدا

سرویس خصوصی خدمات عام المنفعه اخبار شغل و استخدام

[Www.IranEstekhdam.Ir](http://www.IranEstekhdam.Ir)

خواننده گرامی؛ در جهت بهبود کیفیت این فایل؛ لطفاً هرگونه انتقاد و پیشنهاد خود در مورد مطالب آن  
و یا گزارش مشکل را به آدرس ایمیل و یا با شماره تلفن زیر مطرح نمایید:

آدرس ایمیل: [soal@iranestekhdam.ir](mailto:soal@iranestekhdam.ir) 

شماره تلفن تماس: ۰۲۱-۹۱۳۰۰۱۱۳ 

[Www.IranEstekhdam.Ir](http://www.IranEstekhdam.Ir)