




دانلود رایگان اصل سوالات استخدامی تامین اجتماعی ۱۴۰۳ (با پاسخنامه تستی)




سرویس خصوصی خدمات عام المنفعه اخبار شغل و استخدام

[Www.IranEstekhdam.Ir](http://www.IranEstekhdam.Ir)

خواننده گرامی؛ در جهت بهبود کیفیت این فایل؛ لطفاً هرگونه انتقاد و پیشنهاد خود در مورد مطالب آن

و یا گزارش مشکل را به آدرس ایمیل و یا با شماره تلفن زیر مطرح نمایید:

آدرس ایمیل: soal@iranestekhdam.ir 

شماره تلفن تماس: ۰۲۱-۹۱۳۰۰۰۱۳ 

توجه مهم!!!



این فایل به صورت ویژه برای کاربران ایران استکدام منتشر شده است و هرگونه فروش و استفاده تجاری از آن ممنوع می باشد.

انتشار این فایل به شرط عدم تغییر در محتوای آن و عدم حذف لوگو بلامانع می باشد.

« محصولات مرتبط دانلودی »

دانلود نمونه سوالات عمومی و تخصصی تامین اجتماعی

خرید و دانلود

دانلود درسنامه‌های آموزشی برای آمادگی در آزمون‌های استخدامی

خرید و دانلود

« محصولات مرتبط چاپ شده »

سفارش کتاب‌های چاپ شده برای آمادگی در آزمون‌های استخدامی

ثبت و سفارش

فهرست مطالب

- ۵..... اصل سوالات تایپ شده استخدامی تامین اجتماعی ۱۴۰۳
- ۶..... فناوری اطلاعات و مهارت‌های هفتگانه I.C.D.L.....
با پاسخنامه تستی
- ۱۱..... ریاضی و آمار مقدماتی.....
با پاسخنامه تستی
- ۱۵..... زبان و ادبیات فارسی.....
با پاسخنامه تستی
- ۱۹..... زبان انگلیسی عمومی.....
با پاسخنامه تستی
- ۲۴..... اطلاعات عمومی، دانش اجتماعی و حقوق اساسی.....
با پاسخنامه تستی
- ۲۷..... هوش و استعداد شغلی.....
با پاسخنامه تستی
- ۳۲..... شناخت تامین اجتماعی.....
با پاسخنامه تستی
- ۳۷..... تصویر اصل سوالات استخدامی تامین اجتماعی ۱۴۰۳

اصل سوالات تایپ شده استخدامی تامین اجتماعی ۱۴۰۳

بخش اول:

فناوری اطلاعات و مهارت‌های هفتگانه I.C.D.L

۱- وقتی در نرم افزار ورد تصویری را انتخاب کرده ایم، با کدام گزینه می توانیم بخشی از آن تصویر را برش بزنیم؟ (www.iranestekhdam.ir)

- (۱) Size
(۲) Crop
(۳) Color
(۴) Corrections

۲- در نرم افزار اکسل، فرمول روبرو چه عملی را انجام می دهد؟
Sum(A1:C5)

(www.iranestekhdam.ir)

- (۱) مجموع دو سلول A1 و C5
(۲) میانگین دو سلول A1 و C5
(۳) مجموع سلول های موجود بین دو سلول A1 و C5
(۴) میانگین سلول های موجود بین دو سلول A1 و C5

۳- کدام یک از توابع زیر در نرم افزار اکسل، مربوط به شمارش سلول های انتخاب شده و دارای یک شرط خاص است؟ (www.iranestekhdam.ir)

- (۱) count
(۲) counta
(۳) countblank
(۴) countif

۴- در نرم افزار اکسل، محل یا نشانی یک سلول از چه اجزایی تشکیل شده است؟

(www.iranestekhdam.ir)

- (۱) نام ستون + نام سطر
(۲) نام ستون + شماره ردیف سطر
(۳) نام سطر + نام ستون
(۴) نام سطر + شماره ردیف ستون

۵- کدام بخش از URL، معمولا نشان دهنده زمینه فعالیت سایت می باشد؟

(www.iranestekhdam.ir)

- (۱) پروتکل
(۲) نام سرویس دهنده
(۳) نام ثبت شده
(۴) دامنه
-

۶- کلیدهای ترکیبی Ctrl+M در پاورپوینت چه عملی را انجام می دهد؟

(www.iranestekhdam.ir)

- (۱) ایجاد اسلاید جدید
(۲) کپی ساختن از اسلاید انتخاب شده
(۳) ایجاد یک سند جدید پاورپوینت
(۴) شروع نمایش اسلایدهای پاورپوینت
-

۷- home page در مرورگرهای اینترنتی چیست؟ (www.iranestekhdam.ir)

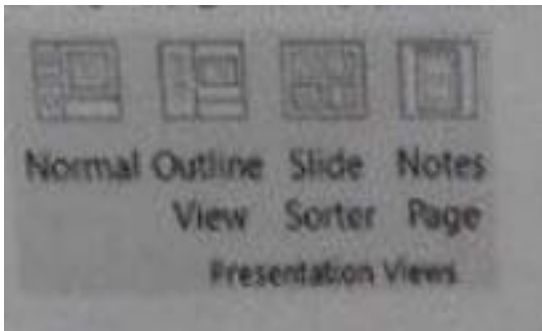
- (۱) صفحه سایت اصلی تولید کننده مرورگر
(۲) اولین صفحه‌ای که کاربر در مرورگر آن را مشاهده کرده است.
(۳) اولین صفحه‌ای که هر وقت مرورگر فعال می شود، نمایش داده می شود.
(۴) صفحه اصلی سایت گوگل
-

۸- با کدام یک از ترکیب کلیدهای زیر در نرم افزار ورد، مکان نما به ابتدای پاراگراف بعدی می رود؟

(www.iranestekhdam.ir)

- (۱) Ctrl+Shift+↑
(۲) Ctrl+↑
(۳) Ctrl+↓
(۴) Shift+↓
-

۹- در تصویر روبرو، نحوه نمایش یک فایل پاورپوینت در منوی **view** آمده است. کدام گزینه برای جابجایی و زمان بندی اسلایدها استفاده می شود؟ (www.iranestekhdam.ir)



Normal (۱)

Outline view (۲)

Slide sorter (۳)

notes page (۴)

۱۰- ترکیب کلیدهای **Ctrl+y** یا **Redo** چه عملی را در نرم افزار ورد انجام می دهد؟

(www.iranestekhdam.ir)

(۱) بازگرداندن آخرین عملیات لغو شده

(۲) لغو آخرین عملیات انجام شده

(۳) Paste کردن اطلاعات کپی گرفته شده

(۴) کپی گرفتن از بخش انتخاب شده متن

پاسخنامه تستی فناوری اطلاعات و مهارت‌های هفتگانه I.C.D.L

گزینه صحیح	شماره سوال	گزینه صحیح	شماره سوال
۱	سوال ۶	۲	سوال ۱
۲	سوال ۷	۳	سوال ۲
۳	سوال ۸	۴	سوال ۳
۳	سوال ۹	۲	سوال ۴
۱	سوال ۱۰	۴	سوال ۵

بخش دوم:

ریاضی و آمار مقدماتی

۱- اگر $A = \{1, 3, 4, 7\}$ و $B = \{3, 7, 9\}$ باشد آنگاه حاصل $(A - B) \cup (B - A)$ عبارت است از:

(www.iranestekhdam.ir)

(۱) $\{1, 3, 9\}$ (۲) $\{1, 4, 7\}$

(۳) $\{3, 4, 7\}$ (۴) $\{1, 4, 9\}$

۲- اگر $x = 1 + \sqrt{2}$ و $y = -1 + \sqrt{2}$ باشد، حاصل عبارت $\frac{xy^2 + x^2y - 2x^2y^2}{x^2y - xy^2}$ کدام است؟

(www.iranestekhdam.ir)

(۱) $-2\sqrt{2}$ (۲) $\frac{\sqrt{2}}{2}$

(۳) $-\frac{\sqrt{2}}{2}$ (۴) $2\sqrt{2}$

۳- در تجزیه عبارت $x^2 - (x^2 - 20)^2$ کدام عامل ضرب زیر وجود ندارد؟

(www.iranestekhdam.ir)

(۱) $x - 5$ (۲) $x + 4$

(۳) $x - 1$ (۴) $x + 5$

۴- حاصل عبارت گویای $\frac{2x}{2x+1} + \frac{2}{2x-1} - \frac{2x+3}{4x^2-1}$ کدام است؟ (www.iranestekhdam.ir)

(۱) -1 (۲) -2

(۳) 1 (۴) 2

۵- اگر $f(x) = \sqrt{x^2 - 3}$ آنگاه $f(2) - f(3\sqrt{2})$ برابر است با: (www.iranestekhdam.ir)

(۱) $1 + \sqrt{5}$ (۲) $\sqrt{15} - 1$

(۳) $1 - \sqrt{15}$ (۴) $1 - 3\sqrt{5}$

۶- در تابع با ضابطه $f(X) = mx^2 + nx - 1$ اگر $f(1) = 6$ و $f(2) = 13$ مقدار n برابر است با:

(www.iranestekhdam.ir)

- (۱) ۶
(۲) ۳
(۳) ۷
(۴) ۲

۷- میانگین ۸ داده آماری $16/5$ است. اگر دو داده ۱۸ و ۲۲ را از داده‌ها کنار بگذاریم. میانگین ۶ داده حاصل کدام است؟ (www.iranestekhdam.ir)

- (۱) $14/33$
(۲) $15/33$
(۳) $14/52$
(۴) $15/52$

۸- در جدول فراوانی مقابل، میانگین به صورت $\bar{X} = 11 + 2a$ محاسبه شده است. مقدار a کدام است؟ (www.iranestekhdam.ir)

x	۷	۹	۱۱	۱۳	۱۵
f	۱	۴	۴	۹	۲

- (۱) $0/35$
(۲) $0/46$
(۳) $0/52$
(۴) $0/63$

۹- اگر تمام داده‌ها را ۲ برابر کنیم مد و میانه داده‌های حاصل چگونه خواهند بود؟ (www.iranestekhdam.ir)

- (۱) فقط مد تغییر می‌کند.
(۲) فقط میانه تغییر می‌کند.
(۳) هر دو تغییر می‌کنند.
(۴) هیچ کدام تغییر نمی‌کنند.

۱۰- واریانس داده‌های آماری ۱۲ و ۱۵ و ۱۳ و ۱۲ و ۱۴ و ۱۳ و ۱۰ و ۱۵ کدام است؟ (www.iranestekhdam.ir)

- (۱) $1/75$
(۲) $2/25$
(۳) $2/5$
(۴) ۳

پاسخنامه تستی ریاضی و آمار مقدماتی

گزینه صحیح	شماره سوال	گزینه صحیح	شماره سوال
۳	سوال ۶	۴	سوال ۱
۲	سوال ۷	۲	سوال ۲
۱	سوال ۸	۳	سوال ۳
۳	سوال ۹	۳	سوال ۴
۳	سوال ۱۰	۳	سوال ۵

بخش سوم:

زبان و ادبیات فارسی

۱- همه آثار زیر متعلق به جامی هستند؛ به جز: (www.iranestekhdam.ir)

- (۱) رساله دلگشا
(۲) نفحات الانس
(۳) تحفه الاحرار
(۴) بهارستان

۲- در کدام گزینه «موضوع بی اعتباری دنیا» مشهود است؟ (www.iranestekhdam.ir)

- (۱) ده روز مهر گردون افسانه است و افسون
(۲) این قافله بر قافله پویان سوی آن مرحله
(۳) نومید شو ز هر که توانی و هر چه هست
(۴) کی رسد آشفته‌گی از روزگار بوالعجب
نیکی به جای یاران فرصت شمار یارا
چون بر نمی‌گردد سرت چون دل نمی‌جوشد تو را
که امیدهای باطل ما را شمار نیست
آنچه از چشمت بدین آشفته کاران می‌رسد.

۳- در کدام گزینه «کنایه» به کار رفته است؟ (www.iranestekhdam.ir)

- (۱) بزد تبر بر چشم اسفندیار
(۲) تهمتن گز اندر کمان راند زود
(۳) ترا گر همی یار باید بیار
(۴) بفرمود تا زین بر اسب سیاه
سیه شد جهان پیش آن نامدار
بر آن سان که سیمرخ فرموده بود
مرا یار هرگز نیاید به کار
نهادند و بردند نزدیک شاه

۴- مفهوم کلی بیت زیر با کدام بیت تناسب دارد؟ (www.iranestekhdam.ir)

- «موی سپید را فلکم رایگان نداد»
(۱) چگونه پیر جوانی و جاهلی نکند
(۲) برف پیروی می‌نشیند بر سرم
(۳) قدح پر کن که من از دولت عشق
(۴) سال‌ها با بار پیروی خم شدم در جست و جویش
این رشته را به نقد جوانی خریده‌ام»
در این قضیه که گردد جهان پیر جوان
همچنین طبعم جوانی می‌کند
جوانبخت جهانم گر چه پیرم
تا به چاه گور هم رفتم نشد پیدا جوانی

۵- در کدام گزینه نام اثری منسوب به «محمد تقی بهار» آمده است؟ (www.iranestekhdam.ir)

- (۱) ایده آل
(۲) گنجینه نشاط
(۳) تاریخ تطور شعر فارسی
(۴) خداوند نامه
-

۶- مهم‌ترین قالب نثر دوره معاصر کدام است؟ (www.iranestekhdam.ir)

- (۱) نثر داستانی
(۲) ادبیات نمایشی
(۳) سفر نامه
(۴) مقاله
-

۷- در بیت زیر کدام آرایه به کار نرفته است؟ (www.iranestekhdam.ir)

- «طاووس این بهارم، ساغر کش خمارم
در انتظارم صد چشم و یک پریدن»
- (۱) سجع
(۲) تلمیح
(۳) تشبیه
(۴) تضمین
-

۸- در کدام بیت «اغراق» به کار رفته است؟ (www.iranestekhdam.ir)

- (۱) دل و کثورت جمع و معمور باد
ز ملکوت پراکندگی دور باد
(۲) گر برگ گل سرخ کنی پیرهنش را
از تازگی آزار رساند بدنش را
(۳) بگویم تا بداند دشمن و دوست
که من مستی و مستوری ندانم
(۴) «صائب» مدد خلق نمودیم به همت
در ظاهر اگر مالک دینار نبودیم
-

۹- در کدام گزینه به مفهوم «تاثیر گذاری زنان» اشاره نشده است؟ (www.iranestekhdam.ir)

- (۱) به کار علم و عفت کوش امروز
که مام مردم فردایی‌ای زن
(۲) من این را یافتم از شاه و درویش
که زن آسان براید با کم و بیش
(۳) همیشه دختر امروز مادر فرداست
ز مادرست میسر بزرگی پسران
(۴) اگر فلاطن و سقراط بوده‌اند بزرگ
بزرگ بوده پرستار خردی ایشان.

پاسخنامه تستی زبان و ادبیات فارسی

گزینه صحیح	شماره سوال	گزینه صحیح	شماره سوال
۳	سوال ۶	۱	سوال ۱
۴	سوال ۷	۱	سوال ۲
۲	سوال ۸	۱	سوال ۳
۲	سوال ۹	۴	سوال ۴
-	-	۳	سوال ۵

بخش چهارم:

زبان انگلیسی عمومی

Vocabulary

Choose the word or phrase (۱), (۲), (۳) or (۴) that best completes each sentence.

۱- I don't know how we are going to the expected surge of immigrants into the country. (www.iranestekhdam.ir)

- | | |
|----------------|--------------|
| ۱) run through | ۲) put out |
| ۳) cope with | ۴) take down |

۲- In Ethiopia, primitive farming practices of natural vegetation have transformed much of country's highlands bare landscapes. But all destroyed erosion. (www.iranestekhdam.ir)

- | | |
|---------------|---------------|
| ۱) into / by | ۲) above / of |
| ۳) for / with | ۴) in / under |

۳- we have relatively gold and uranium on Earth only because many supernova explosions had occurred just before the solar system formed. (www.iranestekhdam.ir)

- | | |
|---------------|-------------|
| ۱) feeble | ۲) hinder |
| ۳) pedestrian | ۴) abundant |

۴- If you realize mid-climb that your rock climbing rope is frayed, you might be in (www.iranestekhdam.ir)

- | | |
|----------------|-----------|
| ۱) reckless | ۲) peril |
| ۳) transparent | ۴) vandal |

۱) Deposit

۲) According

۳) While

۴) Considering

۱۰- A combination of imagination and determination Peter entirely new lines of research concerned with the way animals survive extreme environmental conditions. (www.iranestekhdam.ir)

۱) have allowed / being developed

۲) allowed / to develop

۳) were allowed / to have developed

۴) will allow / to be developing

پاسخنامه تستی زبان انگلیسی عمومی

گزینه صحیح	شماره سوال	گزینه صحیح	شماره سوال
۱	سوال ۶	۳	سوال ۱
۴	سوال ۷	۱	سوال ۲
۴	سوال ۸	۴	سوال ۳
۳	سوال ۹	۲	سوال ۴
۲	سوال ۱۰	۱	سوال ۵

بخش پنجم:

اطلاعات عمومی، دانش اجتماعی و حقوق اساسی

۱- طبق اصل..... قانون اساسی جمهوری اسلامی ایران، (www.iranestekhdam.ir)

«برخورداری از تامین اجتماعی از نظر بازنشستگی، بیکاری، پیری، از کارافتادگی، بی سرپرستی، در راه ماندگی، حوادث و سوانح نیاز به خدمات بهداشتی درمانی و مراقبت‌های پزشکی به صورت بیمه و غیره حقی است همگانی»

(۱) اصل ۲۹

(۲) اصل ۴۴

(۳) اصل ۲۷

(۴) اصل ۲۲

۲- شناخت و آگاهی هر فرد نسبت به جهان هستی چه نام دارد؟ (www.iranestekhdam.ir)

(۱) ایدئولوژی

(۲) اصول عقاید

(۳) جهان بینی

(۴) علم الاشیا

۳- کوچک ترین استان ایران از لحاظ وسعت کدام است؟ (www.iranestekhdam.ir)

(۱) البرز

(۲) قزوین

(۳) قم

(۴) کهگیلویه و بویر احمد

۴- سوسیالیسم یعنی چه؟ (www.iranestekhdam.ir)

(۱) برابری اقشار مختلف جامعه در سود

(۲) مالکیت مردم بر دارایی

(۳) اعتقاد به اصالت امور دنیوی

(۴) اعتقاد به لزوم آداب و رسوم

پاسخنامه تستی اطلاعات عمومی، دانش اجتماعی و حقوق اساسی

شماره سوال	گزینه صحیح
سوال ۱	۱
سوال ۲	۳
سوال ۳	۱
سوال ۴	۱

بخش ششم:

هوش و استعداد شغلی

۱- در یک مستطیل همواره: (www.iranestekhdam.ir)

- (۱) دوزلع مجاور با هم مساوی‌اند.
 (۲) دو ضلع مجاور بر هم عمودند.
 (۳) قطرها بر هم عمودند.
 (۴) قطرها با هم زاویه ۴۵ درجه می‌سازند.

۲- ۵ به $2\frac{3}{4}$ مانند ۲۰ است به: (www.iranestekhdam.ir)

- (۱) $8\frac{3}{4}$
 (۲) ۱۱
 (۳) $13\frac{2}{4}$
 (۴) ۱۵

۳- در یک کلاس دوسوم دانشجویان انگلیسی می‌دانند. دوسوم همین کلاس فرانسه می‌دانند. علی دانشجوی این کلاس است. او..... (www.iranestekhdam.ir)

- (۱) قطعا انگلیسی و فرانسه را باهم نمی‌داند.
 (۲) ممکن است انگلیسی و فرانسه را با هم بداند.
 (۳) حتما فرانسه می‌داند.
 (۴) حتما انگلیسی می‌داند.

۴- قطاری ۲۰ متر را در $\frac{1}{5}$ ثانیه طی می‌کند، با همین سرعت چند متر را در ۳ ثانیه طی می‌کند؟

(www.iranestekhdam.ir)

- (۱) ۲۰۰
 (۲) ۲۵۰
 (۳) ۳۰۰
 (۴) ۳۵۰

۵- رابطه‌ی مقابل را کدام یک از گزینه‌ها تکمیل می‌کند؟ نسبت «زمان» به «جوان» مثل نسبت ۵۳۳۲ است به (www.iranestekhdam.ir)

- (۱) ۲۵۲۳
 (۲) ۳۲۵۲

۶- به جای علامت سوال چه عددی را باید نوشت؟ (www.iranestekhdam.ir)

۱۳, ۲۶, ۱۱, ۳۳, ۸, ۳۲, ۴, ?

۱۲ (۲)

۱۶ (۱)

۸ (۴)

۲۰ (۳)

۷- در یک زبان ناشناخته، «سافل گیمور پیمون» یعنی «خانه بزرگ آجری» و «گیمور شاسیل» یعنی «دیوار آجری» و «فراسی سافل» یعنی «خانه درختی». در این زبان به «بزرگ» چه می‌گویند؟

(www.iranestekhdam.ir)

گیمور (۲)

سافل (۱)

پیمون (۴)

شاسیل (۳)

۸- «اهالی پایین دره دردرس سازاند» همین معنا را می‌دهد که: (www.iranestekhdam.ir)

(۱) افراد دردرساز نیستند، مگر اینکه از اهالی پایین دره باشند.

(۲) اگر فردی از اهالی پایین دره باشد، پس آن فرد دردرساز است.

(۳) حداقل یک فرد وجود دارد که اهل پایین دره است و دردرساز است.

(۴) اگر فردی دردرساز باشد پس آن فرد از اهالی پایین دره است.

۹- در سرشماری از ۱۰۰۰ خانواده معلوم شد ۷۰۰ مورد از آن‌ها دارای تلفن و ۵۰۰ مورد از آن‌ها فاقد اتومبیل هستند و هیچ خانواده‌ای نبود که حداقل یکی از این دو وسیله را نداشته باشد. چند نفر از خانواده‌هایی که فاقد تلفن هستند دارای اتومبیل می‌باشند؟ (www.iranestekhdam.ir)

۳۰۰ (۲)

۲۰۰ (۱)

۵۰۰ (۴)

۴۰۰ (۳)

۱۰- اگر فروشنده‌ای ابتدا قیمت جنسی را ۴۰ درصد افزایش داده و سپس با ۳۰ درصد تخفیف آن را بفروشد، در نتیجه اوجنس خود را: (www.iranestekhdam.ir)

- (۱) به همان قیمت اولیه فروخته است.
(۲) گران‌تر از قیمت اولیه فروخته است.
(۳) ارزان‌تر از قیمت اولیه فروخته است.
(۴) اطلاعات مساله کافی نیست.



پاسخنامه تستی هوش و استعداد شغلی

گزینه صحیح	شماره سوال	گزینه صحیح	شماره سوال
۳	سوال ۶	۲	سوال ۱
۴	سوال ۷	۲	سوال ۲
۲	سوال ۸	۲	سوال ۳
۲	سوال ۹	۳	سوال ۴
۳	سوال ۱۰	۳	سوال ۵

بخش هفتم:

شناخت تامین اجتماعی

۱- کدام جمله صحیح است؟ (www.iranestekhdam.ir)

- (۱) سازمان تامین اجتماعی براساس قانون یک نهاد عمومی دولتی است که منابع مالی آن از محل حق بیمه‌ها با مشارکت کارفرما و بیمه‌شده تامین می‌گردد.
- (۲) سازمان تامین اجتماعی متکی به دولت نیست ولی قابلیت ادغام با دیگر سازمان‌های حمایتی دولتی یا غیردولتی را دارد.
- (۳) سازمان تامین اجتماعی براساس قانون یک نهاد عمومی غیردولتی است که عمده منابع مالی آن از محل حق بیمه‌ها یا مشارکت کارفرما و بیمه‌شده تامین می‌گردد.
- (۴) تکیه‌گاه اصلی سازمان مشارکت دو جانبه کارفرمایان و بیمه‌شدگان می‌باشد.

۲- کدام قانون تنظیم‌کننده روابط کار و تضمین‌کننده حقوق کارفرما و کارگر است؟

(www.iranestekhdam.ir)

- (۱) قانون کار
(۲) قانون تامین اجتماعی
(۳) قانون تجارت
(۴) قانون بیمه بیکاری

۳- بزرگ‌ترین نماینده بیمه کشور می‌باشد. (www.iranestekhdam.ir)

- (۱) صندوق تامین اجتماعی نیروهای مسلح
(۲) صندوق بیمه اجتماعی روستاییان و عشایر
(۳) صندوق بازنشستگی کشور
(۴) صندوق تامین اجتماعی

۴- قانون بازنشستگی پیش از موعد در چه سالی به تصویب رسیده است؟

(www.iranestekhdam.ir)

- (۱) ۱۳۶۵
(۲) ۱۳۶۶
(۳) ۱۳۶۷
(۴) ۱۳۶۸

۵- هیئت امنای سازمان تامین اجتماعی چند نفر بوده و چند نفر از آنها با پیشنهاد وزیر تعاون، کار و رفاه اجتماعی و تصویب شورای عالی رفاه تامین اجتماعی تعیین می‌شوند؟

(www.iranestekhdam.ir)

(۱) ۹ نفر _ ۶ نفر

(۲) ۷ نفر _ ۵ نفر

(۳) ۱۱ نفر _ ۷ نفر

(۴) ۹ نفر _ ۵ نفر

۶- کدامیک از ادارات کل، زیرمجموعه معاونت اقتصادی و سرمایه‌گذاری نمی‌باشد؟

(www.iranestekhdam.ir)

(۱) اداره کل نظارت بر امور شوراها

(۲) اداره کل امور مجلس و دولت

(۳) اداره کل ذخایر، سرمایه‌گذاری املاک

(۴) اداره کل امور مجامع و شرکتها

۷- ادارات کل معاونت بیمه‌ای عبارتند از: (www.iranestekhdam.ir)

(۱) اداره کل مستمری‌ها _ اداره کل امور بیمه‌شدگان _ اداره کل حقوقی و قوانین _ اداره کل نام‌نویسی و حساب‌های انفرادی

(۲) اداره کل مستمری‌ها _ اداره کل امور بیمه‌شدگان _ اداره کل حقوقی و قوانین _ اداره کل امور بین‌الملل

(۳) اداره کل مستمری‌ها _ اداره کل امور بیمه‌شدگان _ اداره کل وصول حق بیمه _ اداره کل حقوقی و قوانین

(۴) اداره کل مستمری‌ها _ اداره کل امور بیمه‌شدگان _ اداره کل وصول حق بیمه _ اداره کل نام‌نویسی و حساب‌های انفرادی

۸- راهبری فعالیت‌های نظارتی و ارزشیابی واحدهای اجرایی تابعه از دو بعد مدیریتی / عملیاتی از وظایف کدامیک از معاونت‌های سازمان تامین اجتماعی می‌باشد؟ (www.iranestekhdam.ir)

(۱) معاونت برنامه‌ریزی، مالی و پشتیبانی

(۲) معاونت فرهنگی، اجتماعی و امور استان‌ها

(۳) معاونت توسعه مدیریت و منابع انسانی

(۴) معاونت بیمه‌ای

۹- اگر در یک حادثه ناشی از کار یا بیماری حرفه‌ای از کار افتادگی کلی شناخته شود. شرایط دریافت مستمری چگونه است؟ (www.iranestekhdam.ir)

- ۱) بدون در نظر گرفتن مدیریت حق بیمه استحقاق دریافت مستمری را خواهد داشت.
- ۲) بیمه‌شده حداقل ظرف ده سال قبل از وقوع حادثه، سابقه پرداخت یک سال بیمه را داشته باشد.
- ۳) بیمه شده حداقل طی یک سال منتهی به حادثه حداقل ۹۰ روز حق بیمه پرداخت کرده باشد.
- ۴) مجموعه سنوات بیمه‌ای پرداخت شده تا روز حادثه حداقل ۱۲ ماه باشد.

۱۰- کدام دسته مشمول دریافت عیدی می‌شوند؟ (www.iranestekhdam.ir)

- ۱) مستمری بگیران بازنشسته
- ۲) مستمری بگیران از کارافتاده کلی و بازماندگان
- ۳) مستمری بگیران بازمانده زن که دارای حداقل یک فرزند باشند.
- ۴) گزینه‌های ۱ و ۲

پاسخنامه تستی شناخت تامین اجتماعی

گزینه صحیح	شماره سوال	گزینه صحیح	شماره سوال
-	سوال ۶	۳	سوال ۱
۴	سوال ۷	۱	سوال ۲
۳	سوال ۸	۴	سوال ۳
۱	سوال ۹	۳	سوال ۴
۴	سوال ۱۰	۱	سوال ۵

تصویر اصل سوالات استخدامی تامین اجتماعی ۱۴۰۳

« محصولات مرتبط دانلودی »

دانلود نمونه سوالات عمومی و تخصصی تامین اجتماعی

خرید و دانلود

دانلود در سنامه های آموزشی برای آمادگی در آزمون های استخدامی

خرید و دانلود

« محصولات مرتبط چاپ شده »

سفارش کتاب های چاپ شده برای آمادگی در آزمون های استخدامی

ثبت و سفارش

زبان و ادبیات فارسی

۱۱- همه آثار زیر متعلق به جامی هستند؛ به جز:

(الف) رساله دلگشا

(ب) نفحات الانس

(ج) تحفه الاحرار

(د) بهارستان

۱۲- در کدام گزینه «موضوع بی اعتباری دنیا» مشهود است؟

(الف) ده روز مهر گردون افسانه است و افسون

(ب) این قافله بر قافله پویان سوی آن مرحله

(ج) نومید شو ز هر که توانی و هر چه هست

(د) کی رسد آسفتگی از روزگار بوالعجب

نیکی به جای یاران فرصت شمار یارا

چون بر نمی گردد سرت چون دل نمی جوشد تو را

که امیدهای باطل ما را شمار نیست

آنچه از چشمت بدین آشفته کاران می رسد

۱۴- در کدام گزینه « کنایه » به کار رفته است؟

- الف) بزه نیر بر چشم استغفار / سینه بند جهان پیش آن نامدار / (ب) نهستی گر اندر گمان رفت زود / او آن سان که سیخ بر فرموده بود
 ج) تو را گر غمی بار باید / بار او را بار هم گر نماید / به کار / (د) بفرمود تا زمین بر است / سیاه نهادند / و بردند / نزدیک شاه

۱۵- مفهوم کلی بیت زیر با کدام بیت تناسب دارد؟

« موی سپید را فلکیم رایگان نداد / این رشته را به نقد جوانی خریدام »

- الف) چگونه بپر جوانی و جاهلی نکند / (ب) برف ببری می‌تابند بر سرم
 ج) فدح بر کن که من از دولت عشق / (د) سال‌ها با بار ببری خم شدم در جست و جویش
 در این فضا که گرده جهان ببرد / جوان / طبع / جوانی می‌کند
 جوانی بشارت جهانم گر چه بپر / (ب) به بزم گور خم رفتم / بلند پیدا جوانی

۱۶- در کدام گزینه نام اثری منسوب به « محمد تقی بهار » آمده است؟

- الف) ایده‌آل / (ب) گنجینه نشانی
 ج) تاریخ تطور شعر فارسی ✓ / (د) خداوندنامه

۱۷- مهم‌ترین قالب نثر دوره معاصر کدام است؟

- الف) نثر داستانی ✓ / (ب) ادبیات نمایشی
 ج) سفرنامه / (د) مقاله

(د) مقاله

(ج) سفرنامه

(ب) ادبیات نمایشی

(الف) متر داستانی

۱۸- در بیت زیر کدام آرایه به کار رفته است؟

«طاووس این بهارم، ساغرکش خمیازم در راه انتظارم صد چشم و یک پریدن»

(د) تضمین

(ج) تشبیه

(ب) تلمیح

(الف) سجع

۱۹- در کدام بیت «اغراق» به کار رفته است؟

(الف) دل و کشته‌ت جمع و معمور باد

(ب) گو برگ گل سرخ کسی بیرهنش با

(ج) بگویم تا بماند دشمن و دوست

(د) «صائب» مدد خلق نمودیم به همت

ز منکت پراکندگی دور باد

از نازگی آزار رساند بدنش را

که من مستی و مستوری ندانم

در ظاهر اگر مالک دینار نبودیم

۲۰- در کدام گزینه به مفهوم «تأثیرگذاری زنان» اشاره نشده است؟

(الف) به کار علم و عفت کوش امروز

(ب) من این را یافتم از شاه و درویش

(ج) همیشه دختر امروز مادر فرداست

(د) اگر فلاخن و سقراط بوده‌اند بزرگ

که نام مردم فردایی ای زن

که زن اسل را برآید با کم و بیش

ز مادر است میسر بزرگی پسران

بزرگ بوده پرستار خردی ایشان

ریاضی و آمار مقدماتی

۲۱- اگر $A = \{1, 3, 4, 7\}$ و $B = \{3, 7, 9\}$ باشد آنگاه حاصل $(A-B) \cup (B-A)$ عبارتست از:

(د) $\{1, 4, 9\}$

(ج) $\{3, 4, 7\}$

(ب) $\{1, 4, 7\}$

(الف) $\{1, 3, 9\}$

۲۲- اگر $x = 1 + \sqrt{2}$ و $y = -1 + \sqrt{2}$ باشد، حاصل عبارت $\frac{xy^2 + x^2y - 2x^2y^2}{x^2y - xy^2}$ کدام است؟

(د) $2\sqrt{2}$

(ج) $-\frac{\sqrt{2}}{2}$

(ب) $\frac{\sqrt{2}}{2}$

(الف) $-2\sqrt{2}$

۲۳- در تجزیه عبارت $(x^2 - 20)^2 - x^2$ کدام عامل ضرب زیر وجود ندارد؟

(د) $x+5$

(ج) $x-1$

(ب) $x+4$

(الف) $x-5$

۲۴- حاصل عبارت گویای $\frac{2x}{2x+1} + \frac{2}{2x-1} - \frac{2x+3}{4x^2-1}$ کدام است؟

(د) ۲

(ج) ۱

(ب) -۲

(الف) -۱

۲۵- اگر $f(x) = \sqrt{x^2 - 3}$ آنگاه $f(2) - f(3\sqrt{2})$ برابر است با:

(د) $1 - 3\sqrt{5}$

(ج) $1 - \sqrt{15}$

(ب) $\sqrt{15} - 1$

(الف) $1 + \sqrt{5}$

۲۶- در تابع $f(x) = mx^2 + nx - 1$ اگر $f(1) = 6$ و $f(2) = 13$ مقدار n برابر است با:

- الف) ۶ (ب) ۳ (ج) ۲ (د) ۲

۲۷- میانگین ۸ داده آماری $16/5$ است. اگر دو داده ۱۸ و ۲۲ را از آن داده‌ها کنار بگذاریم. میانگین ۶ داده حاصل کدام است؟

- الف) $14/22$ (ب) $15/22$ (ج) $14/52$ (د) $15/52$

۲۸- در جدول فراوانی مقابل میانگین به صورت $\bar{x} = 11 + 2a$ محاسبه شده است. مقدار a کدام است؟

X	7	9	11	13	15
f	1	4	4	9	2

- الف) ۰.۳۵ (ب) ۰.۴۶ (ج) ۰.۵۲ (د) ۰.۶۳

۲۹- اگر تمام داده‌ها را ۲ برابر کنیم مد و میانگین داده‌های حاصل چگونه خواهند بود؟

- الف) فقط مد تغییر می‌کند (ب) فقط میانگین تغییر می‌کند (ج) هر دو تغییر می‌کنند (د) هیچ کدام تغییر نمی‌کنند

۳۰- واریانس داده‌های آماری ۱۲ و ۱۵ و ۱۳ و ۱۲ و ۱۴ و ۱۳ و ۱۰ و ۱۵ کدام است؟

- الف) $1/75$ (ب) $2/25$ (ج) $2/5$ (د) ۲

اطلاعات عمومی، دانش اجتماعی و حقوق اساسی

۳۱- طبق اصل قانون اساسی جمهوری اسلامی ایران،

هر خورداری از تأمین اجتماعی از نظر بازنشستگی، بیکاری، پیری، از کار افتادگی، بی سرپرستی، در راه ماندگی، حوادث و سوانح، نیاز به خدمات بهداشتی درمانی و مراقبت‌های پزشکی به صورت بیمه و غیره حقی است همگانی؟

- الف) اصل ۲۹ (ب) اصل ۴۴ (ج) اصل ۲۷ (د) اصل ۲۲

۳۲- شناخت و آگاهی هر فرد نسبت به جهان هستی، چه نام دارد؟

- الف) ابتدائوزی (ب) اصول عقاید (ج) جهان بینی (د) علم‌الاشیاء

۳۳- کوچک‌ترین استان ایران از لحاظ وسعت کدام است؟

- الف) البرز (ب) لرزین (ج) قم (د) کهگیلویه و بویراحمد

۳۴- سوسیالیسم یعنی چی؟

- الف) برابری اقشار مختلف جامعه در سود (ب) مالکیت مردم بر دارایی (ج) اعتقاد به اصالت امور دنیوی (د) اعتقاد به لزوم آداب و رسوم

Vocabulary

Choose the word or phrase (a), (b), (c) or (d) that best completes each sentence.

41- I don't know how we are going to _____ the expected surge of immigrants into the country.

- a) run through
- b) put out
- c) cope with
- d) take down

42- In Ethiopia, primitive farming practices of natural vegetation have transformed much of the country's highlands..... bare landscapes, but all destroyed by.....erosion.

- a) into / by
- b) above / of
- c) for / with
- d) in / under

43- We have relatively _____ gold and uranium on Earth only because many supernova explosions had occurred just before the solar system formed.

- a) feeble
- b) hinder
- c) pedestrian
- d) abundant

44- If you realize mid-climb that your rock climbing rope is frayed, you might be in

- a) reckless
- b) peril
- c) transparent
- d) vandal

45- Her voice had become from shouting. Her last words were almost inaudible.

- a) hoarse
- b) flexible
- c) duplicate
- d) comprehensive

Grammar

46- Tourists when large numbers of middle-class people..... to join the wealthier aristocratic travelers.

- a) have originated / had begun
- b) had originated / began
- c) originated / began
- d) were originating / are beginning

47- As the tree was too high to climb, the mischievous boys.....their ball down only by throwing sticks at it.

- a) could have knocked
- b) will have to knock
- c) would have knocked
- d) were able to knock

48- Certain serious diseases can be successfully treateddetected in an initial stage.

- a) unless
- b) even when
- c) before
- d) if

49- you have made minimal progress; it is by no means the kind of progress that you need to make.

- a) Despite
- b) According
- c) While
- d) Considering

50- A combination of imagination and determination Peter.....entirely new lines of research concerned with the way animals survive extreme environmental conditions.

- a) have allowed / being developed
- b) allowed /to develop
- c) will allow / to be developing
- d) will allow / to be developed

a) unless

b) even when

c) before

d) if

49- you have made minimal progress; it is by no means the kind of progress that you need to make.

a) Despite

b) According

c) While

d) Considering

50- A combination of imagination and determination Peter entirely new lines of research concerned with the way animals survive extreme environmental conditions.

a) have allowed / being developed

b) allowed /to develop

c) were allowed / to have developed

d) will allow / to be developing

هوش و استعداد شفلی

۵۱- در یک مستطیل همواره:

الف) دو ضلع مجاور با هم مساوی‌اند

ج) قطر‌ها بر هم عمودند

۵۲- ۵ به $2\frac{3}{4}$ مانند ۲۰ است به:

الف) $8\frac{3}{4}$

ج) $13\frac{3}{4}$

ب) دو ضلع مجاور بر هم عمودند

د) قطر‌ها با هم زاویه ۴۵ درجه می‌سازند

ب) ۱۱

د) ۱۵

۵۳- در یک کلاس دوسوم دانشجویان انگلیسی می‌دانند، دوسوم همین کلاس فرانسه می‌دانند، علی دانشجوی این

کلاس است، او

ب) ممکن است انگلیسی و فرانسه را با هم بداند

د) حتماً انگلیسی می‌داند

الف) قطعاً انگلیسی و فرانسه را با هم نمی‌داند

ج) حتماً فرانسه می‌داند

۵۴- قطاری ۲۰ متر را در $\frac{1}{5}$ ثانیه طی می‌کند، با همین سرعت چند متر را در ۳ ثانیه طی می‌کند؟

د) ۳۵۰

ج) ۳۰۰

ب) ۲۵۰

الف) ۲۰۰

- ۵۵- رابطه‌ی مقابل را کدام یک از گزینه‌ها تکمیل می‌کند؟ نسبت « زمان » به « جوان » مثل نسبت ۵۳۳۲ است به ...
- الف) ۲۵۲۳ (ب) ۲۲۵۲ (ج) ۲۱۲۲ (د) ۲۲۲۵
- ۵۶- به جای علامت سؤال چه عددی را باید نوشت؟
- الف) ۱۶ (ب) ۱۲ (ج) ۲۰ (د) ۸
- ۵۷- در یک زبان ناشناخته، «سافل گیمور بیمون» یعنی «خانه بزرگ آجری» و «گیمور شاسیل» یعنی «دیوار آجری» و «فراسی سافل» یعنی «خانه درختی». در این زبان به «بزرگ» چه می‌گویند؟
- الف) سافل (ب) گیمور (ج) شاسیل (د) بیمون
- ۵۸- «اهالی پایین دره در دسر ساز اند» همین معنا را می‌دهد که:
- الف) افراد در دسر ساز نیستند، مگر اینکه از اهالی پایین دره باشند.
ب) اگر فردی از اهالی پایین دره باشد، پس آن فرد در دسر ساز است.
ج) حداقل یک فرد وجود دارد که اهل پایین دره است و در دسر ساز است.
د) اگر فردی در دسر ساز باشد پس آن فرد از اهالی پایین دره است.
- ۵۹- در سرشماری از ۱۰۰۰ خانواده معلوم شد ۷۰۰ مورد از آنها دارای تلفن و ۵۰۰ مورد از آنها فاقد اتومبیل هستند و هیچ خانواده‌ای نبود که حداقل یکی از این دو وسیله را نداشته باشد. چند نفر از خانواده‌هایی که فاقد تلفن هستند دارای اتومبیل می‌باشند؟
- الف) ۲۰۰ (ب) ۳۰۰ (ج) ۲۰۰ (د) ۵۰۰
- ۶۰- اگر فروشنده‌ای ابتدا قیمت جنسی را ۴۰ درصد افزایش داده و سپس با ۳۰ درصد تخفیف آن را بفروشد، در نتیجه او جنس خود را:
- الف) به همان قیمت اولیه فروخته است
ب) گران‌تر از قیمت اولیه فروخته است
ج) ارزان‌تر از قیمت اولیه فروخته است
د) اطلاعات مساله کافی نیست

فناوری اطلاعات

- ۶۱- وقتی در نرم‌افزار ورد تصویری را انتخاب کرده‌ایم، با کدام گزینه می‌توانیم بخشی از آن تصویر را برش بزنیم؟
- الف) Size (ب) Crop (ج) Color (د) Corrections
- ۶۲- در نرم‌افزار اکسل، فرمول روبرو چه عملی را انجام می‌دهد؟
- الف) مجموع دو سلول A1 و C5 (ب) میانگین دو سلول A1 و C5
ج) مجموع سلول‌های موجود بین دو سلول A1 و C5 (د) میانگین سلول‌های موجود بین دو سلول A1 و C5
- ۶۳- کدام یک از توابع زیر در نرم‌افزار اکسل، مربوط به شمارش سلول‌های انتخاب شده و دارای یک شرط خاص است؟
- الف) count (ب) counta (ج) countblank (د) countif
- ۶۴- در نرم‌افزار اکسل، محل یا نشانی یک سلول از چه اجزایی تشکیل شده است؟
- الف) نام ستون + نام سطر (ب) نام ستون + شماره ردیف سطر
ج) نام سطر + نام ستون (د) نام سطر + شماره ردیف ستون
- ۶۵- کدام بخش از URL، معمولاً نشان دهنده زمینه فعالیت سایت می‌باشد؟
- الف) پروتکل (ب) نام سرویس دهنده (ج) نام ثبت شده (د) دامنه
- ۶۶- کلیدهای ترکیبی Ctrl+M در پاورپوینت چه عملی را انجام می‌دهد؟
- الف) ایجاد اسلاید جدید (ب) کپی ساختن از اسلاید انتخاب شده
ج) ایجاد یک سند جدید پاورپوینت (د) شروع نمایش اسلایدهای پاورپوینت
- ۶۷- home page در مرورگرهای اینترنتی چیست؟
- الف) صفحه سایت اصلی تولید کننده مرورگر (ب) اولین صفحه‌ای که کاربر در مرورگر آن را مشاهده کرده است
ج) اولین صفحه‌ای که هر وقت مرورگر فعال می‌شود، نمایش داده می‌شود (د) صفحه اصلی سایت گوگل

۶۸- یا کدام یک از ترکیب کلیدهای زیر در نرم‌افزار ورد، مکان‌نما به ابتدای پاراگراف بعدی می‌رود؟

- الف) Ctrl+Shift+↑ (ب) Ctrl+↑ (ج) Ctrl+↓ (د) Shift+↓

۶۹- در تصویر روبرو، نحوه نمایش یک فایل پاورپوینت در منوی view آمده است. کدام گزینه برای جابجایی و زمان‌بندی اسلایدها استفاده می‌شود؟



Normal Outline Slide Notes
View Sorter Page
Presentation Views

- الف) Normal (ب) Outline view
ج) slide sorter (د) notes page

۷۰- ترکیب کلیدهای Ctrl+y یا Redo چه عملی را در نرم‌افزار ورد انجام می‌دهد؟

- الف) بازگرداندن آخرین عملیات لغو شده (ب) لغو آخرین عملیات انجام شده
ج) Paste کردن اطلاعات کپی گرفته شده (د) کپی گرفتن از بخش انتخاب شده متن

شناخت تامین اجتماعی

۷۱- کدام جمله صحیح است؟

- الف) سازمان تامین اجتماعی براساس قانون یک نهاد عمومی دولتی است که منابع مالی آن از محل حق بیمه‌ها با مشارکت کارفرما و بیمه شده تامین می‌گردد
ب) سازمان تامین اجتماعی متکی به دولت نیست ولی قابلیت انقلام یا دیگر سازمان‌های حمایتی دولتی یا غیر دولتی را دارد
ج) سازمان تامین اجتماعی براساس قانون یک نهاد عمومی غیر دولتی است که عمده منابع مالی آن از محل حق بیمه‌ها با مشارکت کارفرما و بیمه شده تامین می‌گردد
د) تکیه‌گاه اصلی سازمان مشارکت دو جانبه کارفرمایان و بیمه شدگان می‌باشد

۷۲- کدام قانون تنظیم کننده روابط کار و تضمین کننده حقوق کارفرما و کارگر است؟

- الف) قانون کار (ب) قانون تامین اجتماعی
ج) قانون تجارت (د) قانون بیمه بیکاری

۷۳- بزرگترین نماینده بیمه کشور می‌باشد.

- الف) صندوق تامین اجتماعی نیروهای مسلح (ب) صندوق بیمه اجتماعی روستاییان و عشایر
ج) صندوق بازنشستگی کشور (د) صندوق تامین اجتماعی

۷۴- قانون بازنشستگی پیش از موعد در چه سالی به تصویب رسیده است؟

- الف) ۱۳۶۵ (ب) ۱۳۶۶ (ج) ۱۳۶۷ (د) ۱۳۶۸

۷۵- هیئت امنای سازمان تامین اجتماعی چند نفر بوده و چند نفر از آنها با پیشنهاد وزیر تعاون، کار و رفاه اجتماعی و تصویب شورای عالی رفاه تامین اجتماعی تعیین می‌شوند؟

- الف) ۹ نفر - ۶ نفر (ب) ۷ نفر - ۵ نفر (ج) ۱۱ نفر - ۷ نفر (د) ۹ نفر - ۵ نفر

۷۶- کدامیک از ادارات کل، زیر مجموعه معاونت اقتصادی و سرمایه گذاری نمی‌باشد؟

- الف) اداره کل نظارت بر امور شوراهای (ب) اداره کل امور مجلس و دولت
ج) اداره کل ذخایر، سرمایه گذاری املاک (د) اداره کل امور مجامع و شرکت‌ها

۷۷- ادارات کل معاونت بیمه‌ای عبارتند از:

- الف) اداره کل مستمری‌ها - اداره کل امور بیمه شدگان - اداره کل حقوقی و قوانین - اداره کل نامنویسی و حسابهای انفرادی
ب) اداره کل مستمری‌ها - اداره کل امور بیمه شدگان - اداره کل حقوقی و قوانین - اداره کل امور بین‌المللی
ج) اداره کل مستمری‌ها - اداره کل امور بیمه شدگان - اداره کل وصول حق بیمه - اداره کل حقوقی و قوانین
د) اداره کل مستمری‌ها - اداره کل امور بیمه شدگان - اداره کل وصول حق بیمه - اداره کل نامنویسی و حسابهای انفرادی

۷۸- راهبردی فعالیت‌های نظارتی و ارزشیابی واحدهای اجرایی تابعه از دو بعد مدیریتی / عملیاتی از وظایف کدام یک از معاونتهای سازمان تامین اجتماعی می‌باشد؟

- الف) معاونت برنامه ریزی، مالی و پشتیبانی (ب) معاونت فرهنگی، اجتماعی و امور استان‌ها
ج) معاونت توسعه مدیریت و منابع انسانی (د) معاونت بیمه ای

۷۹- اگر در اثر حادثه ناشی از کار یا بیماری حرفه‌ای از کار افتادگی کلی شناخته شود، شرایط دریافت مستمری چگونه است؟

- الف) بدون در نظر گرفتن مدت حق بیمه استحقاق دریافت مستمری را خواهد داشت
 ب) بیمه شده حداقل ظرف ده سال قبل از وقوع حادثه سابقه پرداخت یک سال بیمه را داشته باشد
 ج) بیمه شده حداقل طی یک سال منتهی به حادثه حداقل ۹۰ روز حق بیمه پرداخت کرده باشد
 د) مجموعه سنوات بیمه‌ای پرداخت شده تا روز حادثه حداقل ۱۲ ماه باشد

۸۰- کدام دسته مشمول دریافت عیدی می‌شوند؟

- الف) مستمری بگیران بازنشسته
 ب) مستمری بگیران از کار افتاده کلی و بازماندگان
 ج) مستمری بگیران بازمانده زن که دارای حداقل یک فرزند باشند
 د) موارد الف و ب

برای دانلود بسته کامل اصل سوالات همراه با پاسخ تشریحی اینجا کلیک کنید



ایران استخدا

سرویس خصوصی خدمات عام المنفعه اخبار شغل و استخدام

[Www.IranEstekhdam.Ir](http://www.IranEstekhdam.Ir)

خواننده گرامی؛ در جهت بهبود کیفیت این فایل؛ لطفاً هرگونه انتقاد و پیشنهاد خود در مورد مطالب آن و یا گزارش مشکل را به آدرس ایمیل و یا با شماره تلفن زیر مطرح نمایید:

آدرس ایمیل: soal@iranestekhdam.ir

شماره تلفن تماس: ۰۲۱-۹۱۳۰۰۱۱۳

اخطار مهم

محتوای این فایل به شماره شابک ۸-۵۹۶-۴۴۸-۶۰۰-۹۷۸ نزد وزارت ارشاد جمهوری اسلامی ایران ثبت گردیده؛ لذا هرگونه کپی برداری یا فروش؛ تغییر و دستکاری در محتوای آن مانند حذف آرم یا لوگوی سایت ایران استخدام و یا اضافه کردن آرم؛ نوشته و محتوای دیگر؛ غیر مجاز بوده و متخلف بدون اطلاع قبلی از طریق مبنای قانونی تحت پیگیری قرار خواهد گرفت.

[Www.IranEstekhdam.Ir](http://www.IranEstekhdam.Ir)