



بخشی از محصول:

اصل سوالات آزمون‌های استخدامی وزارت بهداشت و دانشگاه‌های علوم پزشکی
(حیطه عمومی – با پاسخ تشریحی)

ایران استخدام

سرویس خصوصی خدمات عام المنفعه اخبار شغل و استخدام

Www.IranEstekhdam.Ir

کاربران گرامی لطفا توجه فرمایید: همان طور که در توضیحات پیش از خرید محصول ذکر شده است این بسته حاوی اصل سوالات عمومی وزارت بهداشت و دانشگاه‌های علوم پزشکی می‌باشد.

اخطار مهم

این فایل بخشی از محصول اصل دفترچه سوالات عمومی استخدامی وزارت بهداشت و دانشگاه‌های علوم پزشکی می‌باشد که به صورت رایگان و برای آشنایی شما عزیزان از کیفیت و محتوای فایل معرفی شده ارائه شده است. هرگونه سوء استفاده از این فایل همانند استفاده از محتوا در تهیه کتب و یا قرار دادن تمام یا بخشی از آن در وب سایت‌های دیگر، چه برای فروش و چه به صورت رایگان شرعاً حرام و قانوناً خلاف مقررات و قوانین کشورمان می‌باشد. با توجه به هزینه‌های صرف شده و تلاش صورت گرفته برای تهیه این بسته، در صورت مشاهده یا گزارش هرگونه کپی برداری از آن؛ بدون هیچ گونه تماس قبلی و هشدار اقدام به پیگیری حقوقی خواهیم نمود.

کاربران گرامی لطفاً دقت فرمایید، این فایل بخشی از محصول اصل سوالات عمومی و استخدای وزارت بهداشت و دانشگاه‌های علوم پزشکی می‌باشد که به صورت رایگان و برای آشنایی شما عزیزان از کیفیت و محتوای فایل معرفی شده ارائه شده است، لطفاً جهت خرید و دانلود کامل این محصول، روی لینک زیر کلیک فرمایید.

لینک دانلود و خرید بسته کامل

بخش اول:

فناوری اطلاعات و مهارت‌های هفتگانه I.C.D.L

سوالات عمومی آزمون استخدامی وزارت بهداشت ۱۴۰۴

۱- کدام گزینه زیر آخرین سایت‌های بازدید شده در مرورگر را به ما نشان می‌دهد؟

(www.iranestekhdam.ir)

History (۲)

Favorites (۱)

Forward (۴)

Refresh (۳)

پاسخ کارشناس ایران استکدام: گزینه ۲

به بررسی تمامی گزینه‌ها می‌پردازیم:

- Favorites: لیست سایت‌هایی است که کاربر خودش ذخیره کرده تا بعداً سریع‌تر به آن‌ها دسترسی داشته باشد.
- History: فهرست آخرین سایت‌ها و صفحاتی را که کاربر بازدید کرده نشان می‌دهد.
- Refresh: همان دکمه‌ی «تازه‌سازی» است که صفحه‌ی کنونی را دوباره بارگذاری می‌کند.
- Forward: وقتی از دکمه «Back» به صفحه‌ی قبلی برگشته‌ایم، با «Forward» می‌توانیم دوباره به صفحه بعد برویم.

بنابراین برای مشاهده آخرین سایت‌های بازدید شده باید از History استفاده کنیم.

۲- بخش freeze Pans در نرم افزار اکسل چه کاری را انجام می‌دهد؟

(www.iranestekhdam.ir)

- (۱) ثابت نگه داشتن طول با عرض ستون‌ها با ردیف‌های انتخاب شده
- (۲) ثابت نگه داشتن محتویات ستون‌ها یا ردیف‌های انتخاب شده
- (۳) ثابت نگه داشتن نمایش ستون‌ها یا ردیف‌های انتخاب شده با پیمایش طولی و عرضی در فایل اکسل
- (۴) ثابت نگه داشتن نوع اطلاعات ثبت شده در سلول

پاسخ کارشناس ایران استکدام: گزینه ۳

در اکسل، دستور Freeze Panes باعث می‌شود هنگام پیمایش صفحه به طرف پایین یا راست، ردیف‌ها یا ستون‌های انتخاب‌شده همیشه در دید باقی بمانند. این قابلیت معمولاً برای ثابت نگه داشتن ردیف عنوان یا ستون‌های مهم استفاده می‌شود.

سوالات عمومی آزمون استخدامی وزارت بهداشت ۱۴۰۲

۳- یکی از گزینه‌های زیر، یک مرورگر اینترنتی است؟ (www.iranestekhdam.ir)

Microsoft office (۲)

photoshop (۱)

hyperlink (۴)

Microsoft edge (۳)

پاسخ کارشناس ایران استخدام: گزینه ۳

مرورگر یک برنامه کاربردی یا نرم افزاری است که امکان مشاهده و تعامل با تمام اطلاعات موجود در وب جهانی را فراهم می‌کند. این اطلاعات صفحات وب می‌تواند شامل فیلم‌ها و تصاویر و مطالب شود. کلمه مرورگر یا browser قبل از وب به عنوان یک اصطلاح عمومی برای رابط‌های کاربری است که به شما امکان می‌دهد فایل‌های متنی را به صورت آنلاین پیمایش و مطالعه کنید. امروزه بسیاری از مردم از مرورگرهای وب برای دسترسی به اینترنت استفاده می‌کنند و تقریباً به عنوان یک ضرورت در زندگی روزمره خود دیده می‌شود.

۴- کلیدهای ترکیبی Ctrl+M در powerpoint چه عملی را انجام می‌دهد؟

(www.iranestekhdam.ir)

(۲) کپی ساختن از اسلاید انتخاب شده

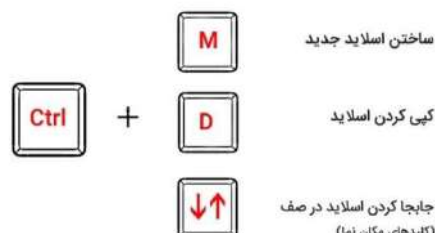
(۱) ایجاد اسلاید جدید

(۴) شروع نمایش اسلاید‌های پاورپوینت

(۳) ایجاد یک سند جدید پاورپوینت

پاسخ کارشناس ایران استخدام: گزینه ۱

Ctrl + M: کلید میانبر اسلاید جدید در پاورپوینت



۵- اگر در نرم افزار excel، مکان نما در سلولی با آدرس C۱۲ قرار داشته باشد. با زدن دکمه‌های **Ctrl+Home** مکان نما به کدام سلول زیر منتقل می‌شود؟ (www.iranestekhdam.ir)

(۱) A۱ (۲) C۱

(۳) A ۱۲ (۴) اولین سلول دارای محتوا در ستون C

پاسخ کارشناس ایران استکدام: گزینه ۱

Ctrl + Home: به ابتدای کاربرد (سلول A۱) می‌رود.

سوالات عمومی آزمون استخدامی وزارت بهداشت گروه اول ۹۹

۶- در نرم افزار ۲۰۱۶ EXCEL نسخه کدام یک از توابع زیر TRUE یا FALSE نیست؟

(www.iranestekhdam.ir)

(۱) IF (۲) OR

(۳) AND (۴) NOT

پاسخ کارشناس ایران استکدام: گزینه ۱

تابع IF تابع اصلی اکسل است و سه جز اطلاعاتی دارد: تست منطقی، مقدار خروجی در صورت درست بودن و مقدار خروجی در صورت نادرست بودن. تابع IF به تنهایی می‌تواند تنها یک شرط یا مقایسه را مدیریت کند. تابع AND و OR زمانی استفاده میشوند که بخواهیم بیش از یک مقایسه در فرمول خود داشته باشیم. تابع AND در صورتی مقدار TRUE را بازگشت می‌دهد که همه شرایط آن برقرار باشند و در غیر این صورت مقدار FALSE را بازگشت می‌دهد و تابع OR در صورتی مقدار TRUE را بازگشت می‌دهد که یک یا همه شرایط برقرار باشند و در صورتی مقدار FALSE را بازگشت می‌دهد که هیچ کدام از شرایط برقرار نباشند. پس AND و OR وقتی به تنهایی استفاده میشوند مقدار TRUE یا FALSE را بازگشت میدهند. تابع NOT مقدار آرگومان خود را معکوس می‌کند. پس اگر مقدار منطقی آن TRUE باشد مقدار FALSE را بازگشت می‌دهد و اگر مقدار منطقی آن FALSE باشد مقدار TRUE را باز می‌گرداند.

۷- در نرم افزار ۲۰۱۶ WORD مجموعه‌ای از عناصر و طرح‌های رنگی از پیش تعریف شده که قابل استفاده در سند هستند چه نامیده می‌شوند؟ (www.iranestekhdam.ir)

LAYOUT (۲)

PALETTIC (۱)

FORMAT (۴)

THEME (۳)

پاسخ کارشناس ایران استکدام: گزینه ۳

یک تم مجموعه‌ای از رنگ و فونت و افکت‌ها است که در سند نمایش داده می‌شود و به آن حالت حرفه‌ای می‌دهد. رنگ تم برای تمام تم قابل استفاده است. از تب DESIGN گزینه THEME را انتخاب می‌کنیم و رنگ تم را تغییر می‌دهیم.

۸- در یک پایگاه داده ACCESS زبان نوشتن دستورات برای انجام عملیات پرس و جو (QUERY) کدام است؟ (www.iranestekhdam.ir)

DBMS (۲)

SQL (۱)

RECORD (۴)

WIZARD (۳)

پاسخ کارشناس ایران استکدام: گزینه ۱

کوئری (query) یا پرس و جو درخواست کاربر برای بازیابی اطلاعات از رکوردهای جدول‌های ذخیره شده در پایگاه داده است. این عمل توسط دستور Select به زبان SQL انجام می‌پذیرد که یک زبان استاندارد برای ایجاد، دسترسی و دستکاری پایگاه‌های داده رابطه‌ای است. محیط SQL Server امکانی برای تولید پرس و جو در اختیار قرار می‌دهد.

سوالات عمومی آزمون استخدامی وزارت بهداشت گروه دوم ۹۹

۹- کدام مورد در خصوص RECYCLE BIN در windows ۱۰ صحیح است؟

(www.iranestekhdam.ir)

(۱) در windows ۱۰ وجود ندارد.

(۲) قابلیت SHOW و HIDE کردن آن بر روی DESKTOP وجود دارد.

۳) برای اضافه کردن آن به سیستم عامل، باید سیستم عامل به روز رسانی شود.

۴) برای اضافه کردن آن به سیستم عامل، باید MICROSOFT UTILITIES نصب شود.

پاسخ کارشناس ایران استخدام: گزینه ۲

برای حذف این آیکن در ویندوز ۱۰ ابتدا بر روی دسکتاپ ویندوز کلیک راست کرده و گزینه personalize را انتخاب کنید. حال تنظیمات personalize در صفحه settings باز خواهد شد. در سمت چپ این صفحه بر روی گزینه Themes کلیک کرده و بعد از سمت راست صفحه و از ناحیه Related settings گزینه Desktop icon settings را انتخاب نمایید. اکنون پنجره Desktop Icon Settings باز خواهد شد. در این پنجره می‌توانید تیک مواردی که نمی‌خواهید در دسکتاپ نمایش داده شوند را بردارید. حال تنظیمات را ذخیره کنید.

۱۰- با استفاده ترکیبی از توابع SUM و COUNT کدام یک از توابع زیر را می‌توان در نرم افزارهای EXCEL ۲۰۱۶ ساده سازی کرد؟ (www.iranestekhdam.ir)

- | | |
|---------------|----------|
| CONCAHNAH (۲) | TRUE (۱) |
| AVERAGL (۴) | MAX (۳) |

پاسخ کارشناس ایران استخدام: گزینه ۴

تابع AVERAGE در اکسل یکی از اعضای خانواده توابع آماری (Statistical) است. این تابع با جمع کردن تعدادی عدد و تقسیم حاصل جمع بر تعداد اعداد، میانگین آنها را محاسبه می‌کند. محاسبه میانگین با استفاده از دو تابع SUM و COUNT نیز امکان‌پذیر است ولی طبیعی است که راه حل کوتاهتر، پرطرفدارتر و راحت‌تر است.

۱۱- نامه دریافت شده از یک کاربر دیگر، در کدام پوشه زیر، ممکن است قرار گیرد؟

(www.iranestekhdam.ir)

- | | |
|----------|------------|
| SPAM (۲) | DRAFT (۱) |
| SENT (۴) | OUTBOX (۳) |

پاسخ کارشناس ایران استخدام: گزینه ۲

اسپم به معنای پیام الکترونیکی است که بدون درخواست گیرنده و برای افراد بی شمار فرستاده می شود. یکی از مشهورترین انواع اسپم، هرزنامه‌ها هستند اما اسپم می تواند شامل اسپم در پیام‌رسان‌ها، اسپم در گروه‌های خبری، اسپم در بخش نظرات وبلاگ‌ها و مواردی از این قبیل باشد.

سوالات عمومی آزمون استخدامی علوم پزشکی نوبت صبح ۹۹

۱۲- پسوند آدرس اینترنتی **ac** نشان دهنده می باشد. (www.iranestekhdam.ir)

- (۱) سازمان تجاری
(۲) سازمان دانشگاهی
(۳) سازمان آموزشی
(۴) سازمان دولتی

پاسخ کارشناس ایران استخدام: گزینه ۳

دامنه نام منحصر بفردی است که برای شناسایی سایت اینترنتی مورد استفاده قرار می گیرد و از چند قسمت تشکیل شده است که با نقطه (دات) از هم جدا شده اند. قسمت اول ماهیت آدرس می باشد مانند WWW، قسمت دوم نام دامنه می باشد و قسمت سوم پسوند موضوعی دامنه سطح بالا می باشد که می تواند شامل یک دامنه سطح بالای عمومی و یا یک پسوند باشد و یا ترکیبی از این دو.

ac پسوند ملی مجموعه جزایر آسکنشن است. اما به دلیل شباهتی که به مخفف کلمه academy به معنای تحصیلات عالی دارد، مورد توجه سازمان های آموزشی می باشد.

۱۳- کدامیک از موارد زیر نادرست است؟ (www.iranestekhdam.ir)

- (۱) شبکه های LAN که از لحاظ جغرافیایی پراکنده می باشند، می توانند از طریق WAN متصل شوند.
(۲) URL آدرسی است که به یک صفحه وب را هر منبعی بر روی وب جهانی اشاره می کند.
(۳) ETP پروتکلی است جهت اشغال فایل ها بر روی اینترنت
(۴) سرقت مودم با bit اندازه گیری می شود.

پاسخ کارشناس ایران استخدام: گزینه ۳

FTP مخف File Transfer Protocol ، به معنای پروتکل انتقال فایل / داده می‌باشد که یکی از سریعترین و در عین حال ساده‌ترین روش برای انتقال فایل از کامپیوتر در هاست است. پروتکلی که بر اساس آن اطلاعات وب سایت را روی هاست قرار می‌دهد تا از طریق اینترنت، وب سایت ما برای همگان قابل بازدید باشد.

۱۴- هنگام استفاده از نرم افزار اکسل یک تابع (Function)

(www.iranestekhdam.ir)

- ۱) یک داده‌ها را به صورت گرافیکی به تصویر می‌کشد.
- ۲) مقادیر خاصی را تغییر می‌دهد تا اثرات تغییرات را نشان دهد.
- ۳) فرمول از پیش تعریف شده ای است که محاسبات مشترک را انجام می‌دهد.
- ۴) شامل قالب بندی لازم برای یک نوع sheet خاص است.

پاسخ کارشناس ایران استخدام: گزینه ۳

یک تابع در واقع یک فرمول از پیش نوشته شده است که مقادیر خاصی را در ترتیب خاصی مورد محاسبه قرار می‌دهد. اکسل توابع عمومی خیلی زیادی دارد که با استفاده از آنها می‌توانید مجموع، میانگین، تعداد، بیشترین مقدار و کمترین مقدار یک دسته از سلول‌ها را محاسبه کنید. برای استفاده صحیح از توابع اکسل لازم است تا قسمت‌های مختلف یک تابع را بشناسید و همینطور نحوه ارسال پارامترها به تابع را بدانید.

سوالات عمومی آزمون استخدامی علوم پزشکی نوبت عصر ۹۹

۱۵- در جستجوی گوگل، کدام جمله زیر تعریف صحیح از عملگرهای جستجو را ارائه می‌دهد؟

(www.iranestekhdam.ir)

- ۱) عملگر OR: محدود کننده میزان بازیابی
- ۲) عملگر OR نسبت به AND میزان بازیابی بیشتری دارد
- ۳) عملگر AND: گسترش دهنده میزان بازیابی
- ۴) عملگر AND نسبت به OR میزان بازیابی بیشتری دارد

پاسخ کارشناس ایران استخدام: گزینه ۲

عملگرهای منطقی یکی از برجسته‌ترین و مهمترین قابلیت‌های اکثر موتورهای جستجو به شمار می‌آید، با استفاده از عملگرهای منطقی که عبارتند از (AND/ OR/ NOT) می‌توان چندین کلمه را با هم به صورت ترکیبی جستجو کرد.

عملگر AND هنگامی مورد استفاده قرار می‌گیرد که در صدد محدود کردن نتیجه جستجو باشیم، در صورتی که این اپراتور را بین دو یا تعداد بیشتری کلید واژه قرار دهیم، به این معنا است که فقط مدارکی بازیابی خواهند شد که تمامی کلید واژه‌های مورد جستجو در آن‌ها آمده باشد. به همین دلیل است که نتیجه جستجو محدودتر می‌شود. عملگر OR اپراتور دیگری است که در صورت وارد کردن آن بین دو یا تعداد بیشتری از کلید واژه‌ها باعث گسترش و بسط جستجو می‌شود. در صورت استفاده از این اپراتور تمامی مدارکی که در آنها صرفاً یکی از کلید واژه‌های مورد جستجو آمده باشد بازیابی می‌شود.

۱۶- معادل دهدهی عبارت $(10101011)_2$ کدام است؟ (www.iranestekhdam.ir)

- (۱) ۴۱
(۲) ۱۷۰
(۳) ۱۷۱
(۴) ۱۵۱

پاسخ کارشناس ایران استکدام: گزینه ۳

برای تبدیل اعداد باینری به دسیمال کافیست تمام اعدادی را که عدد ۱ بر روی آنها قرار دارد با هم جمع کنیم.

	۱	۰	۱	۰	۱	۰	۱	۱
۲۷	۲۶	۲۵	۲۴	۲۳	۲۲	۲۱	۲۰	
۱۲۸	۶۴	۳۲	۱۶	۸	۴	۲	۱	

$$128 + 32 + 8 + 2 + 1 = 171$$

۱۷- با زدن ۳ بار کلید F۸ در Word..... انتخاب می شود. (www.iranestekhdam.ir)

- (۱) یک کلمه
(۲) یک پاراگراف
(۳) یک خط
(۴) کل صفحه

پاسخ کارشناس ایران استخدام: گزینه ۳

- انتخاب یک کلمه : کلید F۸ را برای انتخاب یک کلمه‌ی کامل، دو بار فشار می دهیم.
- انتخاب یک جمله : برای انتخاب یک جمله، سه بار کلید F۸ را فشار می دهیم.
- انتخاب یک پاراگراف : برای انتخاب کل متن در یک پاراگراف، چهار بار کلید F۸ فشار می دهیم.
- انتخاب کل یک سند : اگر پنج بار کلید F۸ را فشار دهید، کل سند انتخاب می شود.

سوالات عمومی آزمون استخدامی علوم پزشکی یاسوج ۹۹

۱۸- در یک URL کدام بخش وجود ندارد؟ (www.iranestekhdam.ir)

- (۱) نام شخص
(۲) قرارداد ارسال صفحات
(۳) نام سرویس
(۴) نام دامنه

پاسخ کارشناس ایران استخدام: گزینه ۲

URL (Uniform Resource Locator) یک نشانی اینترنتی منحصر به فرد وب سایت، صفحه یا پرونده در اینترنت است. از URLها برای آدرس دهی یک سند در وب استفاده می شود. به عبارت دیگر، URL یک رشته متنی است که مشخص می کند که چگونه باید به منبع دسترسی پیدا کرد. هر URL از چند بخش تشکیل یافته است. پروتکل - نام دامنه - پورت - مسیر - پارامترها - لنگر. یک آدرس وب مانند

<https://jobteam.ir/category/Html> از قوانین سینتکسی زیر پیروی می کند:

scheme://prefix.domain:port/path/filename

توضیح سینتکس بالا:

Scheme: نوع سرویس اینترنتی را تعریف می کند. (می تواند http و یا https باشد)

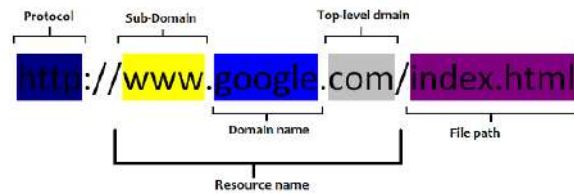
Prefix: یک پیشوند دامنه تعریف می کند. (به صورت پیش فرض برای http مقدار www است)

Domain: نام دامنه اینترنت را تعریف می کند. (مانند jobteam.ir)

Port: شماره پورت در هاست را مشخص می کند. (به صورت پیش فرض برای <http> مقدار ۸۰ است)

Path: مسیری را در سرور مشخص می کند. (در صورت حذف مسیر، فهرست اصلی سایت پیش فرض خواهد بود)

Filename: نام یک منبع یا سند را تعریف می کند.

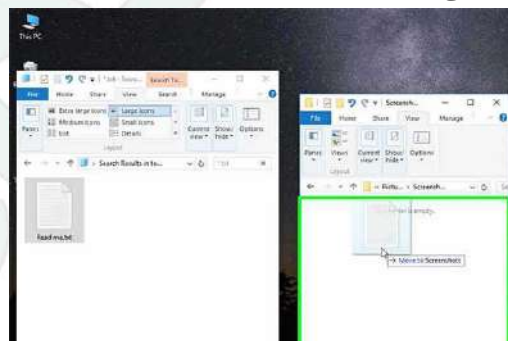


۱۹- منظور از Drag چیست؟ (www.iranestekhdam.ir)

- (۱) یکبار فشردن و رها کردن دکمه چپ ماوس
- (۲) دو بار فشردن و رها کردن دکمه چپ ماوس
- (۳) یکبار فشردن و رها کردن دکمه راست ماوس
- (۴) حرکت ماوس درحالیکه دکمه چپ پایین است

پاسخ کارشناس ایران استخدام: گزینه ۴

در علوم رایانه، کشیدن و رها کردن (drag-and-drop) عملی است که طی آن، یک شیء مجازی در محیط رایانه با استفاده از **mouse** گرفته و جا به جا می شود. نتیجه این کار می تواند از جابه جا شدن یک پرونده در حافظه رایانه تا برقراری نوعی ارتباط منطقی بین دو شیء مجازی باشد. عمل کشیدن و رها کردن از مراحل زیر تشکیل می شود: کلیک کردن روی شیء مورد نظر و نگاه داشتن دکمه موشی - جا به جا کردن نشانگر روی صفحه به طرف مقصد مورد نظر - رها کردن دکمه موشی



سوالات عمومی آزمون استخدامی وزارت بهداشت گروه سوم - کاردان فوریت پزشکی ۹۸

۲۰- در سیستم عامل Windows ۷ منوی Context با استفاده از کدام مورد باز می شود؟

(www.iranestekhdam.ir)

Right Click (۲)

F۶ (۱)

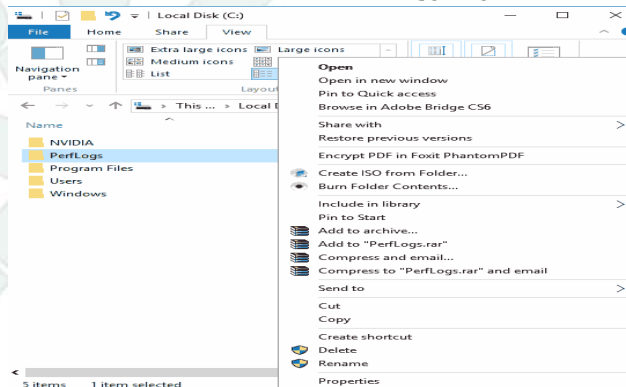
F۱ (۴)

Double Click (۳)

پاسخ کارشناس ایران استخدام: گزینه ۲

منوی زمینه یا Context Menu چیست؟ Context Menu (منوی زمینه) که با عنوان pop-up menu نیز شناخته می شود المانی از رابط کاربری گرافیکی (GUI) است که معمولاً هنگام راست کلیک کردن در قالب یک منو ظاهر می شود. این منو معمولاً حاوی آیتم‌ها و دستوراتی است که با شرایط کنونی (زمینه‌ی محیطی) نرم افزار تناسب دارد. به عنوان مثال با راست کلیک کردن روی آیکون یک فایل در پنجره‌ی File Explorer، منوی زمینه‌ای نمایان می شود که دارای گزینه‌هایی برای کپی، حذف، تغییر نام و ... می باشد. در سیستم عامل ویندوز علاوه بر راست کلیک می توان با فشردن کلید منو و یا کلیدهای ترکیبی Shift + F۱۰ منوی زمینه را باز نمود. گفتنی است در این سیستم عامل، پس از رها کردن کلید سمت راست ماوس، منوی زمینه باز می شود درحالی که این روند در برخی سیستم عامل‌ها متفاوت می باشد.

منوی زمینه در پنجره File Explorer ویندوز



۲۱- پسوند پیش فرض در نرم افزار Excel ۲۰۱۳ کدام است؟ (www.iranestekhdam.ir)

CSV (۲)


ods (۱)

xlsx (۴)

xls (۳)

پاسخ کارشناس ایران استخدام: گزینه ۴

خروجی نرم افزار اکسل می تواند شامل پسوندهای مختلفی باشد اما دو فرمت xls (نام کامل: Excel ۲۰۰۳-۹۷ Workbook) و xlsx (نام کامل: Excel Workbook) دو پسوند رایج خروجی این نرم افزار می باشند. با توجه به تغییرات عمده ای که از نسخه ۲۰۰۷ در این نرم افزار رخ داد پسوند فایل اصلی برنامه اکسل از xls به xlsx تغییر کرد که این امر با توجه به استفاده از تکنولوژی های جدید فشرده سازی و فرمت xml در پسوند فایل با حرف X نمایان شده است.



بخش دوم:

ریاضی و آمار مقدماتی

سوالات عمومی آزمون استخدامی وزارت بهداشت ۱۴۰۴

۱- مجموع دو عدد ۴۰ و کوچک‌ترین مضرب مشترک آن‌ها ۸۴ است. آن دو عدد کدام هستند؟

(www.iranestekhdam.ir)

۱) ۸ و ۳۲

۲) ۱۲ و ۲۸

۳) ۱۸ و ۲۲

۴) ۱۲ و ۲۶

پاسخ کارشناس ایران استخدام: گزینه ۲

ابتدا بررسی می‌کنیم مجموع دو عدد کدام گزینه برابر ۴۰ نیست.

۱) $۸ + ۳۲ = ۴۰$,

۲) $۲۸ + ۱۲ = ۴۰$,

۳) $۱۸ + ۲۲ = ۴۰$,

۴) $۱۲ + ۲۶ = ۳۸$

بنابراین گزینه ۴ حذف می‌شود.

حال بررسی می‌کنیم ک.م.م دو عدد کدام گزینه برابر ۸۴ است:

گزینه ۱:

$[۸, ۳۲] = ۳۲$

گزینه ۲:

$[۱۲, ۲۸] = ۲^۲ \times ۳ \times ۷ = ۸۴$

گزینه ۳:

$[۱۸, ۲۲] = ۲ \times ۳^۲ \times ۱۱ = ۱۹۸$

بنابراین گزینه ۲ صحیح است. ■

۲- در توزیع‌های فاصله‌ای اگر بخواهیم نما را به طور گرافیکی تعیین کنیم، از کدام نمودار استفاده

خواهیم کرد؟ (www.iranestekhdam.ir)

۱) اجایو

۲) چند گوش

۳) قطاعی

۴) هیستوگرام

پاسخ کارشناس ایران استخدام: گزینه ۴

نما مقداری است که بیشترین تکرار را دارد. در توزیع‌های فاصله‌ای برای تعیین آن به صورت گرافیکی از هیستوگرام استفاده می‌کنیم، زیرا بلندترین ستون نمایانگر کلاس ناست. ■

سوالات عمومی آزمون استخدامی وزارت بهداشت گروه اول ۹۹

۳- ۱۲۰ داده آماری در ۹ طبقه دسته بندی شده‌اند. درصد فراوانی تجمع نسبی در دسته‌های چهارم و پنجم به ترتیب ۶۷ و ۸۲ است. فراوانی دسته پنجم کدام است؟ (www.iranestekhdam.ir)

- (۱) ۱۵
(۲) ۱۶
(۳) ۱۸
(۴) ۲۰

پاسخ کارشناس ایران استخدام: گزینه ۳

درصد فراوانی تجمعی دو دسته را از هم کم می‌کنیم، این درصد نشان دهنده فراوانی دسته پنجم است.

$$82 - 67 = 15\% \Rightarrow \frac{15}{100} = \frac{x}{120} \Rightarrow x = 18$$

۴- انتهای کمان $\frac{13\pi}{5}$ رادیان، در کدام ناحیه مثلثاتی واقع است؟ (www.iranestekhdam.ir)

- (۱) چهارم
(۲) سوم
(۳) دوم
(۴) اول

پاسخ کارشناس ایران استخدام: گزینه ۳

با توجه به این که $2\pi = \frac{10\pi}{5}$ می‌باشد و این یعنی یک دور کامل، بنابراین:

$$\frac{13\pi}{5} = \frac{10\pi}{5} + \frac{3\pi}{5} = 2\pi + \frac{3\pi}{5} \Rightarrow \frac{3\pi}{5} = \frac{3 \times 180}{5} = 108$$

که در ناحیه دوم قرار دارد.

۵- حاصل عبارت $\sqrt{5\sqrt{2}-1} \times \sqrt{5\sqrt{2}+1}$ کدام است؟ (www.iranestekhdam.ir)

- (۱) ۷
(۲) ۵

پاسخ کارشناس ایران استکدام: گزینه ۱

با استفاده از خواص رادیکال‌ها و توان و اتحاد مزدوج به صورت زیر عمل می‌کنیم:

$$\sqrt{5\sqrt{2}-1} \times \sqrt{5\sqrt{2}+1} = \sqrt{(5\sqrt{2}-1)(5\sqrt{2}+1)} = \sqrt{50-1} = \sqrt{49} = 7$$

سوالات عمومی آزمون استخدامی وزارت بهداشت گروه دوم ۹۹

۶- اگر $A = A \cap C$ و $A \cap B = B$ باشد. مجموعه $B \cup C$ با کدام مجموعه برابر است؟ (M: مجموعه

مرجه است) (www.iranestekhdam.ir)

- (۱) M
(۲) \emptyset
(۳) A
(۴) A'

پاسخ کارشناس ایران استکدام: گزینه ۱

در صورت سؤال داریم: $A \cap C = A$ و $A \cap B = B$ بنابراین طبق قوانین اجتماع و اشتراک در مجموعه‌ها خواهیم داشت:

$$\left. \begin{array}{l} A \cap C = A \Rightarrow A \subset C \\ A \cap B = B \Rightarrow B \subset A \end{array} \right\} \Rightarrow B' \subset C \Rightarrow B \cup C = M$$

۷- دو خط $ax - y = -\frac{9}{4}$ و $-4x + y = 8a$ بر هم عمودند. مقدار a کدام است؟

(www.iranestekhdam.ir)

- (۱) $\frac{1}{4}$
(۲) $-\frac{1}{4}$
(۳) ۴
(۴) ۱

پاسخ کارشناس ایران استکدام: گزینه ۲

وقتی دو خط بر هم عمودند یعنی حاصلضرب شیب دو خط برابر با -۱ است. برای محاسبه شیب خط ابتدا آنها را طبق الگوی $y = ax + b$ مرتب می‌کنیم و سپس ضریب x، معرف شیب خط خواهد بود.

$$4-x+y = \lambda a \Rightarrow 4+x+\lambda a$$

$$ax-y = -\frac{9}{4} \Rightarrow y = ax + \frac{9}{4} \Rightarrow 4 \times a = 1- \Rightarrow a = -\frac{1}{4}$$

۸- حسن و ۶ نفر دیگر وارد اتاقی می‌شوند که در آن ۷ صندلی تعبیه شده است. با کدام احتمال،

حسن روی صندلی وسط می‌نشیند. (www.iranestekhdam.ir)

$$\frac{6}{7} \text{ (۲)}$$

$$\frac{5}{6} \text{ (۱)}$$

$$\frac{1}{7} \text{ (۴)}$$

$$\frac{1}{6} \text{ (۳)}$$

پاسخ کارشناس ایران استکدام: گزینه ۴

نشستن روی صندلی وسط به ۷ حالت امکان‌پذیر است، یعنی یا حسن روی صندلی وسط می‌نشیند یا هر یک از آن ۶ نفر دیگر، بنابراین حسن با احتمال $\frac{1}{7}$ روس صندلی وسط می‌نشیند.

سوالات عمومی آزمون استخدامی علوم پزشکی نوبت صبح ۹۹

۹- دامنه تابع $y = \sqrt{x+2}$ کدام است؟ (www.iranestekhdam.ir)

$$x \leq 4 \text{ (۲)}$$

$$x \geq 4 \text{ (۱)}$$

$$x \leq -4 \text{ (۴)}$$

$$x \geq -4 \text{ (۳)}$$

پاسخ کارشناس ایران استکدام: گزینه ۳

دقت کنید در صورت سؤال به جای ۲ باید عدد ۴ قرار گیرد. با توجه به این که مقدار زیر رادیکال باید بزرگ‌تر یا مساوی صفر باشد خواهیم داشت:

$$x + 4 \geq 0 \Rightarrow x \geq -4$$

۱۰- به ازای کدام مقدار m رابطه $\{(m, 3), (m^2, 3), (3, 5), (3, 1), (1, 4)\}$ تابع است؟

(www.iranestekhdam.ir)

$$1 \text{ (۲)}$$

$$-1 \text{ (۱)}$$

$$5 \text{ (۴)}$$

$$2 \text{ (۳)}$$

پاسخ کارشناس ایران استخدام: گزینه ۱

با توجه به تعریف تابع، به ازای هر x ، تنها یک y خواهیم داشت و اگر یک x دو y به ما بدهد، رابطه تابع نیست. از این موضوع برمی آید که اگر مؤلفه‌های اول یکسان باشند، باید مؤلفه‌های دوم هم یکسان باشند. بنابراین چون داریم، (۱ و ۳) و (۳ و m^2) پس

$$m^2 = 1 \Rightarrow m = \pm 1$$

اگر $m = 1$ قرار دهیم، با توجه به زوج آخر، خواهیم داشت، (۳ و ۱) و (۴ و ۱) که با تعریف تابع تناقض دارد. بنابراین فقط $m = -1$ قابل قبول است.

سوالات عمومی آزمون استخدامی علوم پزشکی نوبت عصر ۹۹

۱۱- تابع با ضابطه‌ی $f(x) = \frac{x(x+1)}{x+4}$ مفروض است. $f'(0)$ کدام است؟ (www.iranestekhdam.ir)

- (۱) $\frac{1}{6}$
(۲) ۰
(۳) $\frac{1}{2}$
(۴) $\frac{1}{4}$

پاسخ کارشناس ایران استخدام: گزینه ۴

توابع کسری مانند $f(x) = \frac{u(x)}{v(x)}$ به صورت زیر محاسبه می‌شود.

$$f'(x) = \frac{u'(x).v(x) - v'(x).u(x)}{v^2(x)}$$

در این سؤال هم باتوجه به این فرمول داریم:

$$f'(x) = \frac{\frac{x^2+8x+4}{x^2+8x+16} \cdot (2x^2+8x+x+4) - (x^2-x) \cdot (2x+1)}{(x+4)^2} = \frac{(2x+1)(x+4) - 1(x^2+x)}{(x+4)^2}$$

$$f'(0) = \frac{4}{16} = \frac{1}{4}$$

۱۲- تابع درآمد حاصله از فروش X کالا به صورت $y = -\frac{1}{4}x^2 + 50x$ و تابع هزینه آن به صورت $y = kx + 30$ می‌باشد. اگر به ازای ۲۰ واحد از این کالا مقدار سود ماکسیمم باشد، k کدام است؟

(www.iranestekhdam.ir)

- (۱) ۱۰
(۲) ۲۰
(۳) ۳۰
(۴) ۴۰

پاسخ کارشناس ایران استکدام: گزینه ۱

با جای گذاری ۲۰ در هر دو تابع داریم، تابع درآمد $y = 900$ و تابع هزینه $y = 20k + 30$ که برای بدست آوردن بیشترین سود باید تابع هزینه کمترین مقدار شود، پس کمترین مقدار را به جای k قرار می‌دهیم، یعنی $h = 10$.

۱۳- اگر $f(x) = \begin{cases} ax^2 + x - a & \text{if } x > 2 \\ ax + 1 & \text{if } x < 2 \end{cases}$ و $\lim_{x \rightarrow 2^-} f(x) + \lim_{x \rightarrow 2^+} f(x) = 2$ باشد، a کدام است؟

(www.iranestekhdam.ir)

- (۱) ۳
(۲) -۳
(۳) ۴
(۴) -۴

پاسخ کارشناس ایران استکدام: گزینه ۲

متأسفانه در صورت سؤال دامنه تابع $f(x)$ مشخص نشده است، اگر تابع را به صورت

$f(x) = \begin{cases} ax^2 + x - a & ; x > 2 \\ ax + 1 & ; x < 2 \end{cases}$ در نظر بگیریم، مقدار a از معادله زیر به دست می‌آید:

$$\lim_{x \rightarrow 2^-} f(x) - \lim_{x \rightarrow 2^+} f(x) = 2 \quad \rightarrow \quad 2a + 1 \quad 4a - 2 + a = 2 \quad \rightarrow \quad a = -3$$

گزینه (۲) صحیح می‌باشد.

سوالات عمومی آزمون استخدامی وزارت بهداشت گروه سوم - کاردان فوریت پزشکی ۹۸

۱۴- اگر $\frac{2a+10}{10+2a} = \frac{2b+7}{7+2b}$ باشد. عدد $\frac{b}{a}$ کدام است؟ (www.iranestekhdam.ir)

(۱) ۰.۷

(۲) ۰.۶

(۳) ۰.۵

(۴) ۰.۴

پاسخ کارشناس ایران استخدام: گزینه ۱

با حل کردن معادله خواهیم داشت:

$$\frac{2a+10}{10+2a} = \frac{2b+7}{7+2b} \Rightarrow 21a + 70 + 6ab + 20b = 30b + 6ab + 70 + 14a$$

$$\Rightarrow 7a = 10b \Rightarrow \frac{b}{a} = 0.7$$

۱۵- اگر زاویه میان شعاع OA با جهت مثبت محور X ها و $A = (-1, \sqrt{3})$ باشد. مقدار $\sin \hat{\alpha}$ کدام

است؟ (www.iranestekhdam.ir)

(۱) $\frac{1}{2}$

(۲) $-\frac{1}{\sqrt{3}}$

(۳) $\frac{\sqrt{3}}{2}$

(۴) $-\frac{1}{2}$

پاسخ کارشناس ایران استخدام: گزینه ۳

با توجه به خواص و فرمول‌های مثلثاتی داریم:

$$\sin(180^\circ - \alpha) = \sin \alpha$$

طبق فرمول فیثاغورس در مثلثی که توسط شعاع OA ایجاد می‌شود، وتر مثلث برابر ۲ است. طبق فرمول \sin خواهیم داشت:

$$\sin \alpha = \frac{\text{ضلع مقابل}}{\text{وتر}} = \frac{\sqrt{3}}{2}$$

سوالات عمومی آزمون‌های استخدامی علوم پزشکی ۹۶

۱۶- حاصل $(\cos \theta + 1)(\cos \theta - 1) + \cos^2 \theta (1 + 2 \tan^2 \theta)$ کدام است؟

(www.iranestekhdam.ir)

۱ (۲)

۲ (۱)

-۱ (۴)

-۲ (۳)

پاسخ کارشناس ایران استکدام: گزینه ۲

می دانیم که:

$$1 + \tan^2 \theta = \frac{1}{\cos^2 \theta}$$

$$\sin^2 \theta + \cos^2 \theta = 1$$

آنگاه برای حل داریم:

$$\cos^2 \theta (1 + 2 \tan^2 \theta) + (\cos \theta - 1)(\cos \theta + 1) =$$

$$\cos^2 \theta (1 + \tan^2 \theta + \tan^2 \theta) + (\cos \theta - 1)(\cos \theta + 1) =$$

$$\cos^2 \theta \left(\frac{1}{\cos^2 \theta} + \tan^2 \theta \right) + (\cos^2 \theta - 1) =$$

$$\cos^2 \theta \left(\frac{1}{\cos^2 \theta} + \tan^2 \theta \right) + (-\sin^2 \theta) =$$

$$1 + \cos^2 \theta \left(\frac{\sin^2 \theta}{\cos^2 \theta} \right) - \sin^2 \theta = 1 + \sin^2 \theta - \sin^2 \theta = 1$$

بخش سوم:

زبان و ادبیات فارسی

سوالات عمومی آزمون استخدامی وزارت بهداشت ۱۴۰۴

۱- «عدت» به چه معناست؟ (www.iranestekhdam.ir)

- (۱) ارزیابی کردن
(۲) فرصت دادن
(۳) جنگ و دعوا
(۴) ساز و برگ

پاسخ کارشناس ایران استخدام: گزینه ۲

واژه «عدت» در فارسی و عربی به معنای مدت و فرصت معین برای انتظار است.

۲- هر یک از آثار روبه‌رو به ترتیب نمونه کدام نثر است؟ (احسن التواریخ - عالم آرای عباسی)

(www.iranestekhdam.ir)

- (۱) مصنوع، ساده
(۲) ساده، مصنوع
(۳) بینابین، ساده
(۴) مصنوع، بینابین

پاسخ کارشناس ایران استخدام: گزینه ۳

بینابین: نثری است نه چندان ساده و نه چندان دشوار؛ می‌توان گفت که قصد نویسنده در اصل آسان‌نویسی بوده است؛ هر چند امروزه چندان روان و آسان به نظر نمی‌رسد. از نمونه‌های معروف نثر بینابین، کتاب حبیب‌السیر از خواندمیر و احسن‌التواریخ از حسن بیک روملو است.

ساده: مراد از نثر ساده در این دوره، نثر مرسل در آثاری مانند تاریخ بلعمی نیست. در نثر ساده‌ی این دوره، لغات و ترکیبات عربی، اشاره به آیات و احادیث و درآمیختگی شعر و نثر یافت می‌شود. از جمله کتب معروفی که به این شیوه نوشته شده‌اند: عالم‌آرای عباسی از اسکندر بیک ترکمان است.

سوالات عمومی آزمون استخدامی وزارت بهداشت ۱۴۰۲

۳- در این شعر چه صنعت بیانی دیده می‌شود؟ (www.iranestekhdam.ir)

قاصدک! از چه خبر آورده؟ / وز کجا؟ از که خبر آوردی؟ / خوش خبر باشی اما، اما / گرد بام و در ما بی
ثمر می‌گردی

- (۱) تشبیه
(۲) تشخیص
(۳) استعاره
(۴) کنایه

پاسخ کارشناس ایران استخدام: گزینه ۲

جان بخشی به قاصدک بکار رفته پس تشخیص است

۴- معنی نافه و جعد در این بیت چیست؟ (www.iranestekhdam.ir)

به بوی نافه ای کاخر صبا زان طره بگشاید / ز تاب جعد مشکینش چه خون افتاد در دل‌ها

- (۱) ناف / خال
(۲) بوی خوش / موی تابدار
(۳) کیسه ای که زیر شکم آهو قرار دارد / زلف آهو
(۴) ماده ای که در کیسه زیر شکم آهو قرار دارد / موی درهم گره خورده

پاسخ کارشناس ایران استخدام: گزینه ۴

نافه به ماده‌یی که در کیسه که زیر شکم آهو قرار دارد می‌گویند
و جعد به موهای تابدار می‌گویند

۵- کدام گزینه درست است؟ (www.iranestekhdam.ir)

- (۱) طالب آملی، بیدل دهلوی و غنی کشمیری شاعران سبک هندی هستند.
(۲) فرخی، منوچهری، عنصری نمایندگان سبک عراقی هستند.
(۳) قآنی، نشاط اصفهانی، سوش اصفهانی نمایندگان سبک بازگشت ادبی هستند.

۴) عراقی، کمال الدین اصفهانی، سنایی نمایندگان سبک خراسانی هستند.

پاسخ کارشناس ایران استخدام: گزینه ۳

با وجود اینکه هر سه از شاعران سبک بازگشت هستند ولی نمایندگان آن سبک و پیشگامان آن نیستند.

سوالات عمومی آزمون استخدامی وزارت بهداشت – گروه اول ۹۹

۶- کدام سروده، «فاقد» تشبیه است؟ (www.iranestekhdam.ir)

(۱) او به شیوه ی باران پز از طراوت تکرار بود

(۲) آینه ی ضمیر من جز تو نمی دهد نشان

(۳) پاسی از شب رفته بود و برف می بارید

(۴) زندگی آتشگهی دیرینه پا بر جاست

پاسخ کارشناس ایران استخدام: گزینه ۳

در گزینه ی اول او مانند باران است. در گزینه ی دوم ضمیر من مانند آینه است. در گزینه ی چهارم زندگی مانند آتشگه است.

۷- نوع ساخت کدام واژه ها، متفاوت است؟ (www.iranestekhdam.ir)

(۱) غمگین – اندوهگین

(۲) رنگین – ننگین

(۳) سهمگین – شرمگین

(۴) خشمگین – آزمگین

پاسخ کارشناس ایران استخدام: گزینه ۲

در گزینه های دیگر اسم با پسوند «گین» جمع بسته شده است اما در گزینه ی ۲ رنگ و ننگ با «ین» جمع بسته شده اند.

۸- کدام واژه، به معنی «ایراد گرفتن» است؟ (www.iranestekhdam.ir)

(۱) دل گرداندن

(۲) حرف گیری

(۳) رازخابی

(۴) دلیری کردن

پاسخ کارشناس ایران استخدام: گزینه ۲

دل گرداندن به معنی روی و مهر برگرفتن است. اما حرف گیری به معنای دنبال ایراد گشتن است.

سوالات عمومی آزمون استخدامی وزارت بهداشت - گروه دوم ۹۹

۹- در کدام عبارت، معنی واژه مشخص شده «غلط» است؟ (www.iranestekhdam.ir)

(۱) تحصیل باید با فراغ بال و تانی انجام گیرد (آهستگی)

(۲) خود را از تعلق به جیفه های ناچیز روزگار بی نیاز کن (لاشه)

(۳) روز دیگر گوشت مضمحل شده بود (نابود)

(۴) روزه اهتزاز هر چه تمام تر بنمود (علاقه مندی)

پاسخ کارشناس ایران استخدام: گزینه ۴

معنای واژه‌ها در گزینه‌های دیگر درست است. اهتزاز علاوه بر حرکت و جنبیدن، به معنای شادمانی کردن نیز معنا شده است که به «علاقه‌مندی» نزدیک است اما در این جمله کاربردی ندارد.

۱۰- نقش دستوری «ت» در بیت زیر، به ترتیب کدام است؟ (www.iranestekhdam.ir)

" لب شیرینت ار شیرین بدیدی در سخن گفتن بر او شکرانه بودی گر بدادی ملک پرویزت "

(۱) مضاف الیه - مفعول

(۲) مفعول - مضاف الیه

(۳) متمم - مفعول

(۴) مضاف الیه - متمم

پاسخ کارشناس ایران استخدام: گزینه ۱

لب شیرین تو. (تو در نقش مضاف‌الیه است) و ملک پرویزت را (تو را در نقش مفعول است)

۱۱- عبارت « آنچه گوید به لطف گوید نه به عنف » با کدام بیت ، ارتباط مفهومی دارد؟

(www.iranestekhdam.ir)

(۱) چو کردت لطف و احسان و نکویی

حرامت باد اگر شکرش نکویی

(۲) تو با این لطف طبع و دلربایی

چنین سنگین دل و سرکش چرایی

۳) بنده حلقه به گوش ار ننوازی برود لطف کن لطف که بیگانه شود حلقه به گوش

۴) هر جا که لطف اوست کند سوسن از نبر هر جا که عنف اوست کند خنجر از گیا

پاسخ کارشناس ایران استخدام: گزینه ۳

اگر با بنده‌ی حلقه به گوش با خشم و درشتی سخن بگویی می‌رود و برعکس اگر با بیگانه با لطف رفتار کنی حلقه به گوش می‌شود. پس آنچه گوید به لطف گوید نه عنف.

سوالات عمومی آزمون استخدامی علوم پزشکی – نوبت صبح ۹۹

۱۲- در همه ابیات مفهوم «غنیمت دانستن وقت» دیده می‌شود، بجز: (www.iranestekhdam.ir)

۱) نگه دار فرصت که عالم دمی است / دمی پیش دانا به از عالمی است

۲) به اشک دل چه کوشی صبر کن تا یار باز آید / غم فرصت مخور کاین جا تعلل می کند کاری

۳) وقت خوشی چو روی دهد مغتنم شمار / دایم نسیم مصر به کنعان نمی‌رسد

۴) شیباب و شاهد و گل مفتنم بود ساقی / شتاب کن که جهان با شتاب می گذرد

پاسخ کارشناس ایران استخدام: گزینه ۲

برخلاف دیگر گزینه‌ها که می‌گویند وقت را عزیز و مغتنم شمار در این گزینه توصیه به صبوری می‌کند.

۱۳- همه عبارات نیاز به ویرایش دارند، بجز: (www.iranestekhdam.ir)

۱) نویسنده باید ذوق و فریحه لازم، برای نوشتن اثر خویش را داشته باشد

۲) در سال عام الفیل، حوالی رخ داد که مهم ترین آن لشکر کشی ابرهه بود

۳) سراسر تاریخ بیهقی و لابه لای حواث آن، پر از اندرز و عبرت و سخنان خردمندانه است

۴) حوالی شهر همه کشاورزی بود و بستان و اشجارها و نی شکر بسیار بود

پاسخ کارشناس ایران استخدام: گزینه ۱

در گزینه‌ی ۲ جمله ناتمام و نامفهوم است. در گزینه‌ی ۳ «از اندرزاها پر است» میان مسند و فعل نباید فاصله بیفتد. در گزینه‌ی ۴ یکی از فعل‌های تکراری باید به قرینه حذف شود.

سوالات عمومی آزمون استخدامی علوم پزشکی - نوبت عصر ۹۹

۱۴- نقش دستوری << را >> در کدام بیت متفاوت است؟ (www.iranestekhdam.ir)

- (۱) ای صاحب کرامت شکرانه سلامت / روزی تفقدی کن درویش بی نوا را
- (۲) بوسم همه روز خاک پایت را / محراب من است خاک پای تو
- (۳) گر کسی را وصل دادی بی طلب / دیدم او در درد بی درمان بماند
- (۴) ای گل خوش نسیم من بلبل خویش را مسوز / کز سر صدق می‌کند شب همه شب دعای تو

پاسخ کارشناس ایران استخدام: گزینه ۳

نقش «را» در گزینه‌های دیگر نقش مفعولی است اما در گزینه‌ی سوم متممی است. کسی را وصل دادی: به کسی وصل دادی.

۱۵- در گروه کلمات زیر املاي چند واژه نادرست است؟ (www.iranestekhdam.ir)

لهو لعب - متابعت و پیروی - غریب و بیگانه - اصلاف و گذشتگان - منسوب و گماشته - قدر و ارزش - فراغت و آسایش - قصد و عزیمت - سور و شادی - محجوب و پنهان

- | | |
|--------|----------|
| (۱) یک | (۲) دو |
| (۳) سه | (۴) چهار |

پاسخ کارشناس ایران استخدام: گزینه ۲

اصلاف: اسلاف. منسوب: منصوب.

۱۶- نقش دستوری واژه‌های مشخص شده در کدام گزینه به ترتیب درست است؟

(www.iranestekhdam.ir)

مدام این دو چون حاجبان بردرند / ز سلطان به سلطان خبر می برند

نه دوری دلیل صبوری بود / که بسیار دوری ضروری بود

(۱) صفت - نهاد

(۲) صفت - قید

(۳) نهاد - مسند

(۴) صفت - مسند

پاسخ کارشناس ایران استخدا: گزینه ۴

«این» صفت اشاره و ضروری در جایگاه مسند نشسته است.

سوالات عمومی آزمون استخدامی علوم پزشکی یاسوج ۹۹

۱۷- ساختمان کدام کلمه با کلمه‌های دیگر متفاوت است؟ (www.iranestekhdam.ir)

(۱) نمودار

(۲) خواستار

(۳) پرستار

(۴) خریدار

پاسخ کارشناس ایران استخدا: گزینه ۳

در همه گزینه‌ها ساختمان واژه‌ها بن ماضی + دار می‌باشد به جز گزینه ۳ که بن مضارع + ار

۱۸- "دست تمنا" چه نوع اضافه‌ای است؟ (www.iranestekhdam.ir)

(۱) اقترانی

(۲) تشبیهی

(۳) استعاری

(۴) بیانی

پاسخ کارشناس ایران استخدا: گزینه ۱

دست تمنا اضافه اقترانی می‌باشد.

اضافه اقترانی: میان مضاف و مضاف الیه معنی مقارنت و همراهی باشد.

در اضافه اقترانی، مضاف الیه، معمولاً اسم معنی است، یعنی قابل دیدن و لمس کردن نیست و مفهوم یکی از خصوصیات و عواطف انسانی دارد.

مثال: پای ارادت // چشم ادب // نگاه حسرت // دست تحسر // دست تمنا // روی عبادت

نکته (۱): بین دو جزء اضافه ی اقترانی (مضاف و مضاف الیه) می توان عبارت (برای، همراه، به قصد و از روی) را قرار داد.

برای مثال دست تمنا: دست به قصد (از روی) تمنا دراز کرد.

نکته (۲): در اضافه ی اقترانی، مضاف الیه عملی است که مضاف انجام می دهد.

چشم احترام، مضاف الیه (احترام) عملی است که بوسیله مضاف انجام می گیرد.

۱۹- در کدام گزینه مفرد کلمه درست آمده است؟ (www.iranestekhdam.ir)

(۱) جوارح: جارحه (۲) مواضع: وضع

(۳) ایادی: ید (۴) مقاصد: قاصد

پاسخ کارشناس ایران استخدام: گزینه ۱

مفرد جوارح: جارحه مفرد مواضع: موضوع مفرد ایادی: ایدی و ایدی مفرد ید مفرد مقاصد: مقصد

سوالات عمومی آزمون استخدامی وزارت بهداشت گروه سوم - کاردان فوریت پزشکی ۹۸

۲۰- در بیت زیر، «مشبه به» کدام کلمه است؟ (www.iranestekhdam.ir)

«نه این ریسمان می برد با منش که احسان کمندی است در گردنش»

(۱) گردن (۲) احسان

(۳) ریسمان (۴) کمند

پاسخ کارشناس ایران استخدام: گزینه ۴

کمند. احسان کمندی است یعنی احسان مانند کمند در گردن می آویزد. احسان مشبه و کمند مشبه به است.

۲۱- معنی «الحاح» در عبارت روبه رو، چیست؟ «رستم چند بار به «الحاح» از شاهزاده خواست»

(www.iranestekhdam.ir)

(۱) اجبار (۲) اسرار

(۳) انکار (۴) اصرار

پاسخ کارشناس ایران استکدام: گزینه ۴

معنی الحاح: اصرار. "رستم چندبار به اصرار از شاهزاده خواست.

سوالات عمومی آزمون استخدامی علوم پزشکی ۹۶

۲۲- کدام عبارت، فاقد "قید" است؟ (www.iranestekhdam.ir)

(۱) نگرانی پدر، فقط به خاطر تنهایی مادرم بود. (۲) مرد فرزانه، غالباً مطلب مهمی به ما یاد می داد.

(۳) منوچهری در شعرش، بهار را ترسیم می کند. (۴) مدرسه‌ها، پاییز باز می شوند.

پاسخ کارشناس ایران استکدام: گزینه ۳

در گزینه سوم واژه بهار نه تنها قید زمان نبوده بلکه در نقش مفعول جمله قرار گرفته است.

در گزینه اول واژه تنهایی قید حالت؛ در گزینه دوم واژه غالباً قید مقدار و در گزینه سوم پاییز قید زمان می باشد. علامت مشخصه قید این است که می توان آنرا از جمله حذف کرد بدون اینکه معنی جمله غلط شود.

۲۳- کدام عبارت با ضرب المثل زیر، تقابل مفهومی دارد؟ (www.iranestekhdam.ir)

"دروغ مصلحت آمیز به از راست فتنه انگیز"

(۱) گفت این غوری بدگهر چه گرای بندی است رها کنید تا هر جا که خواهد برود .

(۲) وصیت دروغ عظیم است و نزدیکان پادشاه را تحرز و تجنب از آن لازم و فریضه باشد.

(۳) می بینیم که کارهای زمانه میل به ادبار دارد و دروغ موثر و مثمر و راستی مهجور و مردود

(۴) صدقی را اگرچه به مضرت تو سرایت خواهد کرد بر کذبی که به منفعت تو راجع باشد اختیار کن

پاسخ کارشناس ایران استخدام: گزینه ۴

در عبارت روی سوال اشاره شده که در برخی مواقع گفتن یک دروغ مصلحتی بهتر از آن راست گفتنی هست که باعث ایجاد فتنه و دشمنی می‌شود. در گزینه ۳ به این که دروغ موثر افتاده و راستی و درستی ترک و فراموش شده اعتراض شده و در گزینه ۴ به این مورد اشاره شده است که آن راست گویی که باعث ضرر دیدن تو بشود را به دروغی که به نفع تو باشد ترجیح بده؛ که در تقابل با مفهوم عبارت سوال و سایر گزینه ها می‌باشد.

۲۴- در بیت زیر معنی کنایی زردروی شدن چیست؟ (www.iranestekhdam.ir)

"نرفتم به محرومی از هیچ کوی چرا از در حق شوم زرد روی"

- | | |
|----------------|-------------------|
| (۱) شرمنده شدن | (۲) بیمارگونه شدن |
| (۳) ترسیدن | (۴) وحشت زده بودن |

پاسخ کارشناس ایران استخدام: گزینه ۱

عبارت " زرد روی شدن " در مصراع دوم بیت بالا کنایه است از شرمنده شدن و شرمندگی.

بخش چهارم:

معارف اسلامی

سوالات عمومی آزمون استخدامی وزارت بهداشت ۱۴۰۴

۱- سخن قرآن کریم در درباره کسی که هوای نفس را معبود خود بگیرد کدام است؟

(www.iranestekhdam.ir)

- (۱) آیا به آنچه از حق آمده کفر می‌ورزند؟
 (۲) آیا تو می‌توانی ضامن او باشی؟
 (۳) همانا آنان در خسران آشکار هستند.
 (۴) همانا اینان در دنیا و آخرت زیان کار هستند.

پاسخ کارشناس ایران استکدام: گزینه ۲

اگر کسی دل به هوای نفس (بت درون) بسپارد و او را معبود خود قرار دهد و او امرش را به فرمان‌های خداوند ترجیح دهد یا در پی کسب رضایت قدرت‌های مادی و طاغوت‌ها (بت‌های بیرون) برآید، چنین شخصی گرفتار شرک عملی شده است.

« أَرَأَيْتَ مَنْ اتَّخَذَ إِلَهَهُ هَوَاهُ أَفَأَنْتَ تَكُونُ عَلَيْهِ وَكِيلًا »

آیا دیدی آن کسی را که هوای نفس خود را معبود خود گرفت، آیا تو می‌توانی ضامن او باشی یا به دفاع از او برخیزی؟

۲- «توحید اسلامی» الهام در چه زمینه‌ای است؟ (www.iranestekhdam.ir)

- (۱) باورها
 (۲) حکومت
 (۳) مسئولیت‌ها
 (۴) تکالیف

پاسخ کارشناس ایران استکدام: گزینه ۲

توحید اسلامی الهامی است در زمینه حکومت، در زمینه روابط اجتماعی، سیر جامعه، هدف‌های جامعه، تکالیف مردم، در زمینه مسئولیت‌هایی که انسان‌ها در مقابل خدا، در مقابل یکدیگر، در مقابل جامعه و در مقابل پدیده‌های دیگر عالم دارا هستند، توحید این است.

سوالات عمومی آزمون استخدامی وزارت بهداشت ۱۴۰۲

۳- ثمره شفاعت چیست؟ (www.iranestekhdam.ir)

- (۱) نجات مطلق یا تخفیف عذاب
(۲) بخشیده شدن کلیه گناهان کبیره
(۳) بخشیده شدن گناهان صغیره
(۴) رهایی از محاسبات الهی در روز رستاخیز

پاسخ کارشناس ایران استخدام: گزینه ۱

یکی از مراتب و درجات شفاعت تخفیف عذاب است. شفاعت مراتبی دارد حتی جهنمی‌ها از شفاعت برخوردارند که باعث تخفیف عذاب می‌شود.

۴- منظور از مارقین در تاریخ اسلام چه کسانی هستند؟ (www.iranestekhdam.ir)

- (۱) مرتدان زمان پیامبر
(۲) دشمنان حضرت علی (س)
(۳) خوارج
(۴) مشرکان معاند در صدر اسلام

پاسخ کارشناس ایران استخدام: گزینه ۳

«مارقین» - به معنای کسانی که از جمع مسلمانان بیرون رفتند - لقب «خوارج» است که پس از جنگ صفین با شعار «لا حُکْمَ إِلَّا لِلَّهِ» بر علیه امام علی (علیه السلام) شوریدند. این گروه اولین بار در پیشگویی پیامبر اکرم (صلی الله علیه و آله) در مورد آنان، به این نام نامیده شدند.

سوالات عمومی آزمون استخدامی وزارت بهداشت گروه اول ۹۹

۵- کلمه «حق» در آیهی شریفه «خَلَقَ السَّمَاوَاتِ وَالْأَرْضَ بِالْحَقِّ» به چه معناست؟

(www.iranestekhdam.ir)

- (۱) همبستگی و وابستگی
(۲) هماهنگی و همکاری
(۳) سزاواری و شایستگی
(۴) قانونمندی و هدف داری

پاسخ کارشناس ایران استخدام: گزینه ۴

ترجمه: آسمانها و زمین را بحق آفرید.

خدای متعال در آیه مذکور می گوید: آسمانها و زمین بر حق آفریده شده است و به قانونمندی و هدفداری و حکیمانه بودن کار خدا اشاره می کند.

۶- اولین آیاتی که بر رسول خدا (ص) نازل شد تا رسالتش را آغاز کند، درباره‌ی چه موضوعی بود؟

(www.iranestekhdam.ir)

- (۱) یکتا پرستی و وحدت
(۲) حاکمیت عدالت در جامعه
(۳) دانش و آموختن
(۴) پرهیز از شرک و کفر

پاسخ کارشناس ایران استکدام: گزینه ۳

پیامبر اکرم (ص) آمد تا جامعه جاهلی را متحول کند و مردم را به سوی زندگی مبتنی بر تفکر و علم سوق دهد. لذا اولین آیاتی که بر ایشان نازل شد، درباره‌ی دانش و آموختن بود. (آیات ابتدائی سوره علق)

۷- عالی ترین هدف برای تشکیل خانواده کدام مورد است؟ (www.iranestekhdam.ir)

- (۱) انس با همسر
(۲) رشد و پرورش فرزندان
(۳) وحدت روحی زوجین
(۴) رشد اخلاقی و معنوی

پاسخ کارشناس ایران استکدام: گزینه ۴

عالی ترین هدف برای تشکیل خانواده، رشد اخلاقی و معنوی زن و مرد است. دختر و پسر جوان با تشکیل خانواده، از همان ابتدا زمینه‌های فساد را از خود دور می کنند، پس مسئولیت پذیری را تجربه می کنند، مهر و عشق به همسر و فرزندان را در خود پرورش می دهند، با گذشت و مدارا و تحمل سختی‌ها و ناگواری‌های زندگی، به درجات معنوی بالاتری نائل می شوند.

سوالات عمومی آزمون استخدامی وزارت بهداشت گروه دوم ۹۹

۸- پیامبر خدا، حضرت محمد، به ترتیب حکومتش را بر چه پایه‌ای بنا کرد و تنها ملاک گرامی بودن انسان‌ها، کدام است؟ (www.iranestekhdam.ir)

- (۱) برابری و مساوات - تقوا
(۲) تساوی و مساوات - تقوا
(۳) برابری و مساوات - ایمان
(۴) تساوی و مساوات - ایمان

پاسخ کارشناس ایران استخدام: گزینه ۱

پیامبر اسلام (ص) حکومتش را بر پایه برابری و مساوات بنا کرد. بر اساس آیه شریفه "ان اکرمکم عندالله اتقاکم" تنها ملاک گرامی بودن انسان‌ها تقوا می‌باشد.

۹- «نمود ظاهری» ایمان، کدام مورد است؟ (www.iranestekhdam.ir)

- (۱) معرفت الهی
(۲) عقلانیت
(۳) نیت پاک
(۴) عمل صالح

پاسخ کارشناس ایران استخدام: گزینه ۴

براساس روایات اسلامی معرفت الهی و عقلانیت و نیت پاک نمودهای باطنی اند اما نمود ظاهری ایمان، عمل صالح است

۱۰- اگر بگوییم «افعال فاعل، در نهایت اتقان؛ استواری و کمال است و هیچ نقص و کاستی به فعل او راه نمی‌یابد» خداوند را به کدام صفت وصف کرده‌ایم؟ (www.iranestekhdam.ir)

- (۱) علیم
(۲) حکیم
(۳) عالم
(۴) قیوم

پاسخ کارشناس ایران استخدام: گزینه ۲

وقتی که به نهایت کمال، اتقان و استواری فعل فاعل اشاره می‌کنیم که هیچ نقص و کاستی به فعل او راه نیابد، او را به حکیم بودن توصیف نموده‌ایم.

علیم: از مشتقات علم و از صفات الهی است.

عالم: دانش به ذات و تمام افعال و تمام عالم و در تمام زمانها

قیوم: پاینده و قائم به ذات

سوالات عمومی آزمون استخدامی علوم پزشکی نوبت صبح ۹۹

۱۱- مهم ترین بخش «حق الناس» و «حقوق الهی» به ترتیب کدام است؟ (www.iranestekhdam.ir)

- (۱) حقوق معنوی- توحید ذاتی
(۲) حقوق مردم- توحید ذاتی
(۳) حقوق معنوی- توحید عبادی
(۴) حقوق مردم- توحید عبادی

پاسخ کارشناس ایران استخدام: **گزینه ۳**

حقوق معنوی انسانها بسیار مهمتر از حقوق مادی آنان است. مهمترین حق خداوند، حق اطاعت و بندگی اوست. اطاعت و بندگی خدا، یعنی توحید عبادی. حق الناس نیز به معنی حق مردم حقوق است (رد گزینههای ۴ و ۲)

۱۲- همه موارد از پیامدهای سرسختی رهبران اصلی کلیسا بود، بجز: (www.iranestekhdam.ir)

- (۱) دین را مخالف خرد و علم دانستند و دین را مانع تعقل، تجربه، قانون و حقوق انسانها تلقی کردند
(۲) آگاهی به قانون و حقوق در کشورهای اروپایی و رسمیت دادن به حقوق شهروندان افزایش یافت
(۳) راه بیرون آمدن از وضع موجود را در کنار گذاشتن دین و توجه به علم و دانش تجربی دانستند
(۴) اروپا را با فقر و فساد در نظام اداری، عقب ماندگی و مشکلات دیگر دست به گریبان کرد

پاسخ کارشناس ایران استخدام: **گزینه ۲**

افزایش آگاهی به قانون و حقوق در کشورهای اروپایی و رسمیت دادن به حقوق شهروندان از پیامدهای سرسختی رهبران کلیسا نیست

سوالات عمومی آزمون استخدامی علوم پزشکی یاسوج ۹۹

۱۳- سنت خاص خداوندی در مورد کسانی که طالب حق هستند و راه سعادت آخرت را می‌پیمایند، کدام است؟ (www.iranestekhdam.ir)

- (۱) ضلالت
(۲) امداد
(۳) توفیق الهی
(۴) ابتلاء

پاسخ کارشناس ایران استخدام: گزینه ۳

این امداد خاص خداوند که سنت «توفیق الهی» نام دارد، شامل حال کسانی می‌شود که با نیت پاک، قدم در راه حق می‌گذارند و سعادت اخروی و رضایت پروردگار را هدف خود قرار می‌دهند.

۱۴- «شق القمر» معجزه کدام یک از انبیاء الهی است؟ (www.iranestekhdam.ir)

- (۱) حضرت موسی (ع)
(۲) حضرت عیسی (ع)
(۳) حضرت داوود (ع)
(۴) پیامبر اسلام (ص)

پاسخ کارشناس ایران استخدام: گزینه ۴

شق القمر معجزه پیامبر اسلام (ص) است.

۱۵- غلات اربعه به کدام مورد تعلق دارد؟ (www.iranestekhdam.ir)

- (۱) خمس
(۲) زکات
(۳) صدقه
(۴) مال امام

پاسخ کارشناس ایران استخدام: گزینه ۲

غلات اربعه یا غلات چهارگانه در اصطلاح فقه به گندم، جو، خرما و کشمش گفته می‌شود. غلات اربعه از جمله ۹ چیزی است که زکات در آنها واجب است.

سوالات عمومی آزمون استخدامی وزارت بهداشت گروه سوم - کاردان فوریت پزشکی ۹۸

۱۶- مقام و منزلت انسان با فضیلت، ثمره کدام مورد است؟ (www.iranestekhdam.ir)

- ۱) بندگی واقعی آنان در برابر خداوند متعال
- ۲) واسطه بودن برای خیر، برکت و رحمت
- ۳) هدایت های ظاهری، معنوی و فیض الهی
- ۴) تابیدن انوار حکمت و معرفت الهی بر قلب های آنان

پاسخ کارشناس ایران استخدام: گزینه ۱

ولایت معنوی امامان

پس از رسول خدا(ص)، ائمه اطهار(ع) واسطه خیر و برکت و رحمت در جهان هستی هستند و علاوه بر راهنمایی ها و یاری های ظاهری، به اذن خداوند، از طریق معنوی و غیبی نیز به نیازهای مؤمنان پاسخ می دهند و آنان را به مقصود می رسانند. بسیاری از انسان های بافضیلت که روح خود را پاک کرده و آماده دریافت معرفت الهی بوده اند، مورد توجه معنوی ائمه اطهار(ع) قرار گرفته اند و انوار حکمت و معرفت بر قلب های آنان تابیده است. این امدادهای معنوی که قطره ای از آن ها بر ما انسان های معمولی آشکار شده، آن چنان گسترده و عظیم است که همه ابعاد آن را نمی توان درک کرد. البته آن بزرگواران هرچه دارند، از خدا دارند و اگر خداوند عنایت خود را از کسی قطع کند، هیچ چیز برایش باقی نخواهد ماند. در واقع، مقام و منزلت انسان های با فضیلت (معلول) ناشی از بندگی واقعی آنان در برابر خداست (علت).

سوالات عمومی آزمون استخدامی علوم پزشکی ۹۶

۱۷- کدام انسان ها، هنگام تولد، معرفت خدا را همراه دارند؟ (www.iranestekhdam.ir)

- ۱) همه آنها، حتی اگر فرزندان مشرکان باشند.
- ۲) انسان هایی که از همه جا قطع امید کرده باشند.
- ۳) همه آنها که معرفت خدا در روح و جان شان باقی است.
- ۴) مسلمانان و فرزندان الهی متولد می شوند.

پاسخ کارشناس ایران استخدام: گزینه ۱

همه‌ی انسان‌ها حتی فرزندان مشرکان نیز هنگام تولد، معرفت خدا را به همراه دارند و با فطرت الهی متولد می‌شوند؛ یعنی، اصل معرفت خدا را به همراه دارند و با فطرت الهی متولد می‌شوند؛ به عبارتی، اصل معرفت خدا در روح و جان آدمی باقی است و به درجات مختلف در جهان کنونی به یاد انسان می‌آید. (کتاب جهان بینی اسلامی - توحید - ویژه دوره های تربیت معلم رشته آموزش دینی و عربی - درس ششم - برهان نظم)

۱۸- در اندیشه جبران برآمدن به هنگام آلودگی به گناهان برخاسته از چیست و قرآن کریم آن را چه نامیده است؟ (www.iranestekhdam.ir)

- (۱) پرورش نیروی عقل - لوامه
(۲) گرایش به خیر و نیکی - لوامه
(۳) پرورش نیروی عقل - ملهمه
(۴) گرایش به خیر و نیکی - ملهمه

پاسخ کارشناس ایران استکدام: گزینه ۲

سرزنش و ملامت انسان در مقابل گناه و در اندیشه‌ی جبران برآمدن آن، معلول گرایش انسان به خیر و نیکی است و قرآن کریم، آن را «نفس لوامه» نامیده و بدان سوگند خورده است: «و لا اُقْسِمُ بِالنَّفْسِ اللّوَامَةِ» (درس سوم دین و زندگی سال دوم)

بخش پنجم:

زبان انگلیسی – عمومی

۳) همه پروازها به خاطر مه لغو می شوند

۴) همه پروازها به خاطر مه در حال لغو شدن هستند.

اگر زمان جمله معلوم گذشته ساده باشد، برای مجهول کردن جمله از ساختار was/were+pp استفاده می شود

سوالات عمومی آزمون استخدامی وزارت بهداشت - گروه اول ۹۹

۵- More than ۵۰۰۰۰ people to have been killed in the earthquake that occurred last night. (www.iranestekhdam.ir)

۱) had supposed

۲) Believed

۳) Have believed

۴) Being believed

پاسخ کارشناس ایران استخدام: گزینه ۱

در بیان احتمالات و حدس و گمان از ساختار + to have been + P.P form of verb استفاده می شود. بنابراین تنها گزینه ۱ پاسخ صحیح می باشد.

۶- This investigation is not only one that is continuing and worldwide one that we expect to continue for quite some time.

(www.iranestekhdam.ir)

۱) and

۲) or

۳) but also

۴) nor

پاسخ کارشناس ایران استخدام: گزینه ۲

با توجه به عبارت not only قاعدتا عبارت بعدی در جمله دوم But also می باشد بنابراین گزینه ۳ پاسخ صحیح می باشد

سوالات عمومی آزمون استخدامی وزارت بهداشت گروه سوم - کاردان فوریت پزشکی ۹۸

۱۱- Anita went to the dentist get some relief from her toothache. (www.iranestekhdam.ir)

۱) in order that

۲) so that

۳) in order to

۴) so as

پاسخ کارشناس ایران استخدام: گزینه ۳

در جملاتی که دارای دو فعل متفاوت و فایل یکسان دارند از عبارت های in order to و to در وسط و ابتدای جمله به کار می رود که در این سوال عبارت in order to در گزینه ۳ پاسخ مناسب می باشد.

۱۳- The cruise ship had to speed up in order to reach in before the storm. (www.iranestekhdam.ir)

۱) instruction

۲) promotion

۳) concentration

۴) destination

پاسخ کارشناس ایران استخدام: گزینه ۴

با توجه به ترجمه جمله "کشتی کروز مجبور بود سرعت خود را زیاد کند تا قبل از وقع طوفان به مقصد برسد" گزینه ۴ به معنای مقصد پاسخ مناسب می باشد.

بخش ششم:

اطلاعات عمومی، دانش اجتماعی و حقوق اساسی

سوالات عمومی آزمون استخدامی وزارت بهداشت ۱۴۰۴

۱- کدام گاز بیشترین سهم را در جو زمین دارد؟ (www.iranestekhdam.ir)

- (۱) اکسیژن
(۲) نیتروژن
(۳) دی اکسید کربن
(۴) هیدروژن

پاسخ کارشناس ایران استخدام: گزینه ۲

جو زمین یا اتمسفر، بالاترین بخش تشکیل دهنده سیاره‌ی زمین است که ترکیبی از گازهای گوناگون، شامل نیتروژن (۷۸٪)، اکسیژن (۲۱٪)، آرگون (۹٪) و کربن دی‌اکسید (۰/۰۳٪)، می‌باشد.

۲- اصل تفکیک قوا در کدام اصل قانون اساسی ذکر شده است؟ (www.iranestekhdam.ir)

- (۱) ۶۰
(۲) ۵۷
(۳) ۱۱۰
(۴) ۹

پاسخ کارشناس ایران استخدام: گزینه ۲

اصل ۵۷ قانون اساسی جمهوری اسلامی ایران: قوای حاکم در جمهور اسلامی ایران عبارتند از: قوه مقننه، قوه مجریه و قوه قضاییه که زیر نظر ولایت مطلقه امر و امامت امت بر طبق اصول آینده این قانون اعمال می‌گردند. این قوا مستقل از یکدیگرند.

سوالات عمومی آزمون استخدامی وزارت بهداشت ۱۴۰۲

۳- علامت اختصاری سازمان جهانی خوار و بار کشاورزی کدام است؟ (www.iranestekhdam.ir)

- (۱) ILO
(۲) WHO
(۳) FAO
(۴) WTO

پاسخ کارشناس ایران استخدام: گزینه ۳

سازمان غذا و کشاورزی ملل متحد (فائو) (به انگلیسی: (Food and Agriculture Organization of the United Nations) (FAO) از سازمان‌های بین‌المللی است که در زمینه توسعه کشاورزی فعالیت دارد.

۴- هرگاه مردم نسبت به آئین نامه ها و مقررات یک سازمان دولتی اعتراض داشته باشند، باید به کجا مراجعه کنند؟ (www.iranestekhdam.ir)

- (۱) دیوان عدالت اداری
(۲) سازمان بازرسی کل کشور
(۳) رئیس قوه قضاییه
(۴) نهاد ریاست جمهوری

پاسخ کارشناس ایران استکدام: گزینه ۱

در اجرای اصل یکصد و هفتاد و سوم (۱۷۳) قانون اساسی جمهوری اسلامی ایران به منظور رسیدگی به شکایات، تظلمات و اعتراضات مردم نسبت به مأموران، واحدها و آیین نامه های دولتی خلاف قانون یا شرع یا خارج از حدود اختیارات مقام تصویب کننده، دیوان عدالت اداری که در این قانون به اختصار «دیوان» نامیده می شود زیر نظر رئیس قوه قضاییه تشکیل می گردد.

سوالات عمومی آزمون استخدامی وزارت بهداشت گروه اول ۹۹

۵- در قانون اساسی «تهیه لوایح قضایی» از وظایف کدام مقام یا مرجع زیر بر شمرده شده است؟

(www.iranestekhdam.ir)

- (۱) کمیسیون قضایی و حقوقی مجلس
(۲) دیوان عالی کشور
(۳) رئیس قوه قضاییه
(۴) وزیر دادگستری

پاسخ کارشناس ایران استکدام: گزینه ۳

مطابق با بند «۲» اصل ۱۵۸ قانون اساسی جمهوری اسلامی ایران «تهیه لوایح قضایی متناسب با جمهوری اسلامی ایران» به عنوان یکی از وظایف رئیس قوه قضاییه تعیین شده است.

۶- کدام پزشک ایرانی، مخترع نخستین قلب مصنوعی در داخل بدن انسان است؟

(www.iranestekhdam.ir)

- (۱) توفیق موسیوند
(۲) علی اصغر فرادوست
(۳) مجید سمیعی
(۴) فرهاد شکوهی

پاسخ کارشناس ایران استکدام: گزینه ۱

توفیق موسیوند فارغ‌التحصیل رشته مهندسی کشاورزی از دانشگاه تهران و دارای مدرک کارشناسی ارشد در رشته مهندسی مکانیک از کانادا و دکترای پزشکی و فوق تخصص جراحی قلب از کانادا است.

سوالات عمومی آزمون استخدامی وزارت بهداشت گروه دوم ۹۹

۷- روستای کهن و دیدنی ایبانه، از جاذبه‌های گردشگری کدام استان است؟

(www.iranestekhdam.ir)

- | | |
|-------------|------------|
| (۱) خوزستان | (۲) اصفهان |
| (۳) لرستان | (۴) فارس |

پاسخ کارشناس ایران استخدام: **گزینه ۲**

ایبانه یکی از روستاهای خاص و دیدنی نطنز در استان اصفهان است. بافت ساختاری خانه‌های روستا، حلزونی شکل بوده که مربوط به سه دوره سلجوقیه، صفویه و قاجاریه می‌باشد. بیشتر خانه‌ها به شکل مکعب با درب و پنجره مشبک چوبی ساخته شده که به صورت پلکانی بر روی هم قرار گرفته است.

۸- موزه آبگینه و سفالینه که اولین موزه شیشه و سفال ایران محسوب می‌شود، در کدام شهر است؟

(www.iranestekhdam.ir)

- | | |
|-----------|-----------|
| (۱) همدان | (۲) قزوین |
| (۳) یزد | (۴) تهران |

پاسخ کارشناس ایران استخدام: **گزینه ۴**

موزه شیشه و سفال در حدود ۹۰ سال پیش (۱۳۰۷ ه.ش) به دستور احمد قوام، مشهور به قوام السلطنه در تهران ساخته شد. موزه آبگینه و سفالینه ایران یکی از مجموعه‌های بی نظیر هنرهای میناکاری و سفال در ایران است.

۹- کدام مورد، از نهادهای تابعه وزارت بهداشت، درمان و آموزش پزشکی نیست؟

(www.iranestekhdam.ir)

- (۱) انستیتو پاستور ایران
(۲) سازمان نظام پزشکی
(۳) سازمان بهزیستی
(۴) سازمان غذا و دارو

پاسخ کارشناس ایران استکدام: گزینه ۲

سازمان‌های تابعه وزارت بهداشت عبارتند از: سازمان انتقال خون ایران - انستیتو پاستور ایران - سازمان بهزیستی - سازمان بیمه خدمات درمانی - سازمان تامین اجتماعی - سازمان غذا و دارو.

سوالات عمومی آزمون استخدامی علوم پزشکی نوبت صبح ۹۹

۱۰- کدام نهاد قانونی به رفع اختلاف بین مجلس و شورای نگهبان می پردازد؟

(www.iranestekhdam.ir)

- (۱) مجلس خبرگان
(۲) نهاد رهبری
(۳) مجمع تشخیص مصلحت نظام
(۴) قوه قضائیه

پاسخ کارشناس ایران استکدام: گزینه ۳

مجمع تشخیص مصلحت نظام از نهادهای اصلی نظام جمهوری اسلامی ایران است که مهم‌ترین مسئولیتش، حل اختلاف میان مجلس شورای اسلامی و شورای نگهبان است. تعداد اعضای این مجمع ۴۴ نفر ثابت و ۱ نفر میهمان متناسب با موضوع جلسه است که اعضای ثابت هر ۵ سال یکبار و از طریق حکم رهبر ایران انتخاب می‌شوند.

۱۱- جلسات مجلس شورای اسلامی با حضور چند نفر از نمایندگان رسمیت می یابد؟

(www.iranestekhdam.ir)

- (۱) یک سوم
(۲) دو سوم
(۳) یک چهارم
(۴) سه چهارم

پاسخ کارشناس ایران استکدام: گزینه ۲

پس از برگزاری انتخابات، جلسات مجلس شورای اسلامی با حضور دو سوم مجموع نمایندگان رسمیت می‌یابد و تصویب طرح‌ها و لوایح طبق آیین‌نامه مصوب داخلی انجام می‌گیرد مگر در مواردی که در قانون اساسی حد نصاب خاصی تعیین شده باشد.

سوالات عمومی آزمون استخدامی علوم پزشکی نوبت عصر ۹۹

۱۲- سازمان ثبت احوال کشور و سازمان ثبت اسناد و املاک کشور به ترتیب وابسته به کدامیک از دستگاه‌های زیر می‌باشند؟ (www.iranestekhdam.ir)

- (۱) وزارت کشور - وزارت دادگستری
(۲) وزارت کشور - قوه قضائیه
(۳) قوه قضائیه - وزارت دادگستری
(۴) وزارت دادگستری - وزارت امور اقتصادی و دارایی

پاسخ کارشناس ایران استخدام: گزینه ۱

"سازمان ثبت احوال کشور" سازمانی با شخصیت حقوقی مستقل از لحاظ اداری، مالی، و اجرایی و از حیث تشکیلاتی در دولت وابسته به وزارت کشور است. تمامی امور مربوط به ثبت اسناد رسمی، معاملات، شرکت‌ها، املاک و دارایی‌ها در سازمان ثبت اسناد و املاک کشور به ثبت می‌رسند. این سازمان که وابسته به قوه قضائیه جمهوری اسلامی ایران می‌باشد، وظایف و ساختار عملکردی کاملاً مستقلی دارد.

۱۳- کدامیک از کشورهای زیر عضو دائمی شورای امنیت سازمان متحد نیست؟

(www.iranestekhdam.ir)

- (۱) انگلیس
(۲) آلمان
(۳) چین
(۴) آمریکا

پاسخ کارشناس ایران استخدام: گزینه ۲

پنج عضو دائم عبارتند از: چین، فرانسه، فدراسیون روسیه، انگلستان و ایالات متحده آمریکا

سوالات عمومی آزمون‌های استخدامی علوم پزشکی یاسوج ۹۹

۱۴- امام خمینی (ره) در وصیت نامه سیاسی‌الهی، هدف شرارت‌ها و توطئه‌های داخلی را در چه می‌دانند؟ (www.iranestekhdam.ir)

- (۱) ایجاد کودتای داخلی
(۲) ایجاد اختلاف
(۳) به انزوا کشاندن روحانیت
(۴) براندازی جمهوری اسلامی

پاسخ کارشناس ایران استخدام: گزینه ۴

امام خمینی در وصیت نامه‌اش درباره هدف شرارت‌ها و توطئه‌های داخلی این چنین می‌فرماید: امروز که جنگ لعنتی و تحمیلی صدام تکریتی به امر و کمک امریکا و سایر قدرت‌ها پس از نزدیک به دو سال با شکست سیاسی و نظامی ارتش متجاوز بعث و پشتیبانان قدرتمند و وابستگان به آنان روبه رو است، باز قوای مسلح نظامی و انتظامی و سپاهی و مردمی با پشتیبانی بی دریغ ملت در جبهه‌ها و پشت جبهه‌ها این افتخار بزرگ را آفریدند و ایران را سرفراز نمودند؛ و نیز شرارت‌ها و توطئه‌های داخلی را که به دست عروسک‌های وابسته به غرب و شرق برای براندازی جمهوری اسلامی بسیج شده بودند با دست توانای جوانان کمیته‌ها و پاسداران بسیج و شهربانی و با کمک ملت غیرتمند در هم شکسته شد. همین جوانان فداکار عزیزند که شبها بیدارند تا خانواده‌ها با آرامش استراحت کنند. خدایشان یار و مددکار باد.

۱۵- احیای حقوق عامه و گسترش عدل و آزادی‌های مشروع از وظایف کدام قوه است؟

(www.iranestekhdam.ir)

- (۱) قوه مقننه
(۲) قوه مجریه
(۳) قوه قضائیه
(۴) هر سه گزینه

پاسخ کارشناس ایران استخدام: گزینه ۳

مهم‌ترین وظایف قوه قضائیه عبارتند از: رسیدگی و صدور حکم در مورد تظلمات، تعدیات، شکایات، حل و فصل دعاوی، رفع خصومات، اخذ تصمیم و اقدام لازم در آن قسمت از امور حسبیه که قانون معین می‌کند، احیای حقوق عامه و گسترش عدل و آزادی‌های مشروع- نظارت بر حسن اجرای قوانین- کشف جرم، تعقیب، مجازات و تعزیر مجرمین و اجرای حدود و مقررات مدون جزایی اسلام- اقدام مناسب برای پیشگیری از وقوع جرم و اصلاح مجرمین.

با توجه به اهمیت وظایف قوه قضائیه، قانون اساسی برای شخصی که عهده دار مسئولیت‌های آن می‌گردد شرایطی در نظر گرفته و انتخاب وی را به مقام رهبری واگذار نموده است.

۱۶- کدام مورد، وظیفه «سازمان بازرسی کل کشور» است؟ (www.iranestekhdam.ir)

- (۱) بازرسی عملکرد قوه قضائیه
- (۲) رسیدگی به اعتراضات مردم نسبت به آیین نامه‌ها
- (۳) بازرسی سازمان‌های اداری و اجرایی به وسیله ارسال هیأت‌ها
- (۴) رسیدگی به شکایت‌های مردم علیه قوه قضائیه با ارسال هیأتی به دادگاه‌ها

پاسخ کارشناس ایران استکدام: گزینه ۳

سازمان بازرسی کل کشور یکی از دستگاه‌های قوه قضائیه ایران است که به منظور اجرای اصل ۱۷۴ قانون اساسی جمهوری اسلامی ایران تشکیل شده است. فعالیت سازمان بازرسی کل کشور زیر نظر رئیس قوه قضائیه انجام می‌گیرد. نظارت بر مجموعه سازمان‌های اداری کشور در جهت مقابله با فساد به عهده سازمان بازرسی کل کشور گذاشته شده است که از طریق بازرسی‌های موردی، فوق العاده و با دستور برخی از مقامات، بر سازمان‌ها و مراجع اداری نظارت نموده و موارد تخلف و نارسایی‌ها را به مراجع ذی ربط اعلام می‌دارد.

سوالات عمومی آزمون استخدامی وزارت بهداشت گروه سوم - کاردان فوریت پزشکی ۹۸

۱۷- مجموعه اشعار «تاسیان» در قالب شعر نو، اثر کیست؟ (www.iranestekhdam.ir)

- (۱) حمید سبزواری
- (۲) نیما یوشیج
- (۳) هوشنگ ابتهاج
- (۴) مهدی اخوان ثالث

پاسخ کارشناس ایران استکدام: گزینه ۳

مجموعه شعر «تاسیان» در برگزیده آثار هوشنگ ابتهاج (متخلص به ه. ا. سایه)، در اوزان نیمایی و قالب‌های غیرسننی است. این کتاب به انتخاب شاعر، شامل شعرهایی شده که او در فاصله ۱۳۲۵ تا ۱۳۸۰ در قالب «شعر نو» سروده است.

۱۸- تامین رایگان کدام یک از حقوق زیر برای همه ملت، بر عهده دولت گذاشته شده است؟

(www.iranestekhdam.ir)

(۲) بهداشت و مسکن

(۱) وسایل آموزش و پرورش

(۴) حق دادخواهی و داشتن وکیل

(۳) بیمه و خدمات درمانی

پاسخ کارشناس ایران استخدا: **گزینه ۱**

اصل سی ام قانون اساسی جمهوری اسلامی ایران:

دولت موظف است وسایل آموزش و پرورش رایگان را برای همه ملت تا پایان دوره متوسطه فراهم سازد و وسایل تحصیلات عالی را تا سر حد خودکفایی کشور به طور رایگان گسترش دهد.

بخش هفتم:

هوش و توانمندی های عمومی

سوالات عمومی آزمون استخدامی وزارت بهداشت ۱۴۰۴

۱- یک شرکت خودروسازی، قیمت مدل خاصی از خودروهای خود را به میزان ۲۰ درصد کاهش می‌دهد. در پایان ماه تعداد فروش این مدل خاص ۵۰ درصد افزایش یافته‌است. درآمد حاصل از فروش در این ماه چند درصد افزایش داشته است؟ (www.iranestekhdam.ir)

- (۱) ۱۰ درصد
(۲) ۱۵ درصد
(۳) ۲۰ درصد
(۴) ۲۵ درصد

پاسخ کارشناس ایران استخدام: گزینه ۳

قیمت اولیه خودرو را X فرض کرده و تعداد فروش اولیه‌اش را n فرض می‌کنیم. درآمد نهایی در حالت اولیه برابر nx می‌شود.

با کاهش ۲۰ درصدی قیمت خودرو، قیمتش $0.8X$ شده و با افزایش ۵۰ درصدی تعداد فروش اولیه به $\frac{3}{2}n$ می‌رسد.

درآمد ثانویه برابر $\frac{12}{10}nx = (0.8X) \left(\frac{3}{2}n\right)$ می‌شود. درصد تغییرات درآمد به صورت زیر محاسبه می‌شود:

$$\frac{\left(\frac{12}{10} nx\right) - (nx)}{nx} = 20\% \blacksquare$$

۲- در جمع آورده شده، حرف‌های متمایز، رقم‌های مختلف هستند. مقدار $C - D + E$ کدام است؟

(www.iranestekhdam.ir)

$$\begin{array}{rcccc} A & B & C & D \\ + & E & C & B \\ \hline 2 & 0 & 1 & 0 \end{array}$$

- (۱) ۱
(۲) ۴
(۳) ۵
(۴) ۶

پاسخ کارشناس ایران استخدام: گزینه ۲

برای آنکه رقم یکان حاصل جمع برابر ۰ شود، دو حالت وجود دارد:

حالت اول: $D + B = 0$ ، که برای رعایت این حالت باید $B = D = 0$ باشد، از آنجا که در صورت سوال ذکر شده است حرف‌های متمایز رقم‌های متمایز هستند، بنابراین این حالت رد می‌شود.

حالت دوم: $(*)$ $D + B = 10$ که این حالت شرطی از سوال را نقض نمی‌کند.

بنابراین برای رعایت جمع در رقم دهگان داریم: $C + C + 1 = 11 \rightarrow 2C = 10 \rightarrow C = 5$

در رقم صدگان داریم:

$$B + E + 1 = 10 \rightarrow B + E = 9 (**)$$

از اشتراک $(*)$ و $(**)$ داریم:

$$\begin{cases} B = 10 - D \\ B = 9 - E \end{cases} \rightarrow 10 - D = 9 - E \rightarrow -D + E = -1$$

بنابراین مقدار خواسته شده برابر است با:

$$C + (-D + E) = 5 - 1 = 4 \blacksquare$$

سوالات عمومی آزمون‌های استخدامی وزارت بهداشت ۱۴۰۲

۳- قیمت ۵ دفتر، ۳ مداد و ۲ مداد پاک کن روی هم ۵۷۰ هزار تومان شده است. اگر قیمت مداد یک سوم قیمت دفتر و قیمت مداد پاک کن نصف قیمت مداد باشد، قیمت هر دفتر چقدر است؟

(www.iranestekhdam.ir)

(۱) ۸۰ هزار تومان

(۲) ۱۲۰ هزار تومان

(۳) ۹۰ هزار تومان

(۴) ۶۰ هزار تومان

پاسخ کارشناس ایران استخدام: گزینه ۳

$$5D + 3M + 2P = 570$$

$$M = \frac{1}{3}D, M = 2P$$

$$15M + 3M + M = 19M = 570 \rightarrow M = 30 \rightarrow D = 90$$

۴- ۱۰ درصد تخفیف قیمت فروش یک کالا را ۱۰۰۰ تومان کاهش می دهد، اگر پس از تخفیف فروشنده ۲۰ درصد قیمت خرید سود کرده باشد، قیمت خرید چند تومان بوده است؟

(www.iranestekhdam.ir)

۵۱۰۰ (۱)

۷۵۰۰ (۲)

۷۰۰۰ (۳)

۹۰۰۰ (۴)

پاسخ کارشناس ایران استکدام: گزینه ۲

$$\frac{10}{100}x = 1000 \rightarrow x = 10000$$

$$10000 - 1000 = 9000 = \frac{120}{100}y \rightarrow y = 7500$$

سوالات عمومی آزمون استخدامی علوم پزشکی یاسوج ۹۹

۵- با رقم های ۳ و ۶ و ۰ چند عدد فرد سه رقمی می توان نوشت؟ (www.iranestekhdam.ir)

۴ (۱)

۲ (۲)

۳ (۳)

۱ (۴)

پاسخ کارشناس ایران استکدام: گزینه ۴

رقم ۳ فقط می تواند سمت راست باشد و رقم ۰ سمت چپ نمی تواند باشد، یعنی فقط می تواند وسط باشد. اینگونه اعداد فرد سه رقمی یکتا تعریف شده و فقط شامل ۶۰۳ می شود.

۶- مجموع مقسوم علیه های عدد ۲۰ چقدر است؟ (www.iranestekhdam.ir)

۳۶ (۱)

۴۱ (۲)

۴۲ (۳)

۴۸ (۴)

پاسخ کارشناس ایران استکدام: گزینه ۳

$$20 = 2^2 \times 5$$

$$= \{1, 2, 4, 5, 10, 20\}$$

$$= 1 + 2 + 4 + 5 + 10 + 20 = 42$$

بخش هشتم:

قوانین و مقررات اداری و قانون اساسی

۱- حداقل چند ماه پیش از پایان اعتبار گواهینامه متقاضیان تمدید گواهینامه صلاحیت خدمات مشاوره مدیریتی باید درصدد تمدید آن برآیند؟ (www.iranestekhdam.ir)

(۱) دوماه پس از انقضای اعتبار گواهینامه

(۲) حداقل ۱ ماه پیش از پایان اعتبار گواهینامه

(۳) حداقل ۲ ماه پیش از پایان اعتبار گواهینامه

(۴) یک‌ماه پس از انقضای اعتبار گواهینامه

پاسخ کارشناس ایران استخدام: گزینه ۳

متقاضیان تمدید اعتبار گواهینامه بایستی حداقل ۲ ماه پیش از پایان اعتبار گواهینامه، جهت تمدید آن اقدام کنند. بدیهی است در صورت عدم تمدید، گواهینامه باطل می شود.

۲- در اجرای ماده ۲ آیین‌نامه اجرایی ماده ۲۰ قانون مدیریت خدمات کشوری هر نوع نظر، فکر و راهکاری که بتواند وضعیت موجود را آسان‌تر، سریع‌تر، صحیح‌تر، ارزان‌تر، ایمن‌تر و مطلوب‌تر کند نام دارد. (www.iranestekhdam.ir)

(۱) بهره‌وری (۲) پیشنهاد

(۳) رویکرد (۴) آیین‌نامه

پاسخ کارشناس ایران استخدام: گزینه ۲

پیشنهاد: هر نوع نظر، فکر و راهکاری که بتواند وضعیت موجود را آسان‌تر، سریع‌تر، صحیح‌تر، ارزان‌تر، ایمن‌تر و مطلوب‌تر کند.

۳- مصوبات کمیسیون‌های دولت پس از تایید کدام مقام یا مرجع لازم‌الاجرا خواهد بود؟

(www.iranestekhdam.ir)

(۱) مجلس شورای اسلامی (۲) رئیس جمهور

(۳) معاون اول (۴) هیات وزیران

پاسخ کارشناس ایران استخدام: گزینه ۲

دولت می‌تواند تصویب برخی از امور مربوط به وظایف خود را به کمیسیون‌های متشکل از چند وزیر واگذار نماید. مصوبات این کمیسیون‌ها در محدوده قوانین پس از تایید رئیس جمهور لازم‌الاجرا است.

کاربران گرامی لطفاً دقت فرمایید، این فایل بخشی از محصول اصل سوالات عمومی استخدای وزارت بهداشت و دانشگاه‌های علوم پزشکی می‌باشد که به صورت رایگان و برای آشنایی شما عزیزان از کیفیت و محتوای فایل معرفی شده ارائه شده است، لطفاً جهت خرید و دانلود کامل این محصول، روی لینک زیر کلیک فرمایید.

لینک دانلود و خرید بسته کامل



ایران استخدا

سرویس خصوصی خدمات عام المنفعه اخبار شغل و استخدام

[Www.IranEstekhdam.Ir](http://www.IranEstekhdam.Ir)

کاربران گرامی لطفا توجه فرمایید: همان طور که در توضیحات پیش از خرید محصول ذکر شده است این بسته حاوی اصل سوالات عمومی وزارت بهداشت و دانشگاه‌های علوم پزشکی می‌باشد.

اخطار مهم

این فایل بخشی از محصول اصل دفترچه سوالات عمومی استخدامی وزارت بهداشت و دانشگاه‌های علوم پزشکی می‌باشد که به صورت رایگان و برای آشنایی شما عزیزان از کیفیت و محتوای فایل معرفی شده ارائه شده است. هرگونه سوء استفاده از این فایل همانند استفاده از محتوا در تهیه کتب و یا قرار دادن تمام یا بخشی از آن در وب سایت‌های دیگر، چه برای فروش و چه به صورت رایگان شرعاً حرام و قانوناً خلاف مقررات و قوانین کشورمان می‌باشد. با توجه به هزینه‌های صرف شده و تلاش صورت گرفته برای تهیه این بسته، در صورت مشاهده یا گزارش هرگونه کپی برداری از آن؛ بدون هیچ گونه تماس قبلی و هشدار اقدام به پیگیری حقوقی خواهیم نمود.

[Www.IranEstekhdam.Ir](http://www.IranEstekhdam.Ir)