

ایران استخدام



سرویس خصوصی خدمات عام المنفعه اخبار شغل و استخدام

اخطار مهم: این فایل بخشی از نمونه سوالات اختصاصی و ثبت شده سایت ایران استخدام (شرکت آلتین سیستم) است و قوانین مربوط به حوزه حمایت از حقوق مولفان و ناشرین جمهوری اسلامی ایران بر آن حاکم می باشد.

هرگونه سوء استفاده از این فایل همانند استفاده از محتوا در تهیه کتب و یا قرار دادن آن در وبسایت های دیگر، چه برای فروش و چه به صورت رایگان شرعاً حرام و قانوناً خلاف با مقررات و قوانین کشورمان است.

با توجه به روزها تلاش و هزینه های بسیار جهت تهیه ی این بسته در صورت مشاهده و یا گزارش هرگونه کپی برداری از آن بدون هیچ گونه تماس قبلی و هشدار اقدام به پیگیری حقوقی و اخذ جریمه خواهیم نمود.

بسته رایگان ایران استخدام (دستگاه های اجرایی)

***آزمون های موجود در داخل این بسته:**

- 1- آزمون استخدامی آموزش و پرورش سال 94
- 2- آزمون استخدامی آموزش و پرورش سال 95
- 3- آزمون فراگیر دستگاه های اجرایی خرداد 94
- 4- آزمون فراگیر دستگاه های اجرایی اسفند 94
- 5- آزمون فراگیر دستگاه های اجرایی سال 95
- 5- آزمون استخدامی بانک سپه سال 93
- 5- آزمون استخدامی ثبت اسناد سال 93

***مواد امتحانی موجود در داخل این بسته:**

- 1- زبان و ادبیات فارسی
- 2- معارف اسلامی
- 3- زبان انگلیسی
- 4- ریاضی و آمار
- 5- هوش و استعداد تحصیلی
- 6- کامپیوتر (مهارت های هفتگانه)
- 7- اطلاعات عمومی و سیاسی و تاریخی

تلفن های پشتیبانی:

041-42277627

آدرس سایت:

www.IranEstekhdam.Ir

کاربران گرامی لطفا دقت فرمایید، این فایل تنها بخشی از محصول ویژه نمونه سوالات استخدامی دستگاه های اجرایی میباشد که به صورت رایگان و برای آشنایی شما عزیزان از کیفیت و محتوای فایل معرفی شده ارائه شده است، لطفا جهت خرید و دانلود کامل این محصول، روی لینک زیر کلیک فرمایید.

لینک دانلود و خرید بسته کامل

آموزش و پرورش 1394

زبان و ادبیات فارسی

1- اگر بیت زیر، اولین بیت از یک شعر ده بیتی باشد، آن شعر، در کدام قالب، سروده شده است؟ (آموزش و پرورش.94)

Www.IranEstekhdam.IR

« آب حیات من است خاک سر کوی دوست گر دو جهان خرمی است ما و غم روی دوست »

1) قطعه 2) مثنوی 3) قصیده 4) غزل

پاسخ کارشناس ایران استخدام گزینه: 4) غزل؛ در غزل و قصیده، مصراع اول بیت نخست، با همه ی مصراع های دوم ابیات، هم قافیه است.

اما فرق غزل و قصیده در محتوا و تعداد ابیات است. محتوای غزل عاشقانه و محتوای قصیده رثا، حکمت، عرفان و فلسفه و... است. غزل بین 5 تا 12 بیت است، و قصیده، حداقل شانزده بیت دارد و حداکثر آن آزاد است. پس یک شعر 10 بیتی با موضوعی عاشقانه، غزل است و قصیده نیست.

2- مفهوم بیت زیر، کدام است؟ (آموزش و پرورش.94) Www.IranEstekhdam.IR

« اندرون توست آن طوطی نهران عکس او را دیده تو بر این و آن »

1) مبارزه و مخالفت با هوای نفس 2) نادیده گرفتن استعداد های خود و دیگران

3) غفلت از اسرار جهان هستی 4) عدم شناخت انسان از خویشتن خویش

پاسخ کارشناس ایران استخدام گزینه: 4) عدم شناخت انسان از خویشتن خویش

طوطی در این داستان مولوی که بیتی را از آن آورده ایم، نفس ناطقه یا همان روح الهی دمیده شده، در کالبد ماست.

3- بیت زیر، چند جمله است؟ (آموزش و پرورش.94) Www.IranEstekhdam.IR

« قضا گفت گیر و قدر گفت ده فلک گفت احسنت مه گفت زه »

1) پنج 2) شش 3) هفت 4) هشت

پاسخ کارشناس ایران استخدام گزینه: 4) هشت

قضا گفت (اشکبوس تیر را) بگیر و قدر گفت (رستم تیر را) بزن: 4 فعل

فلک گفت، احسنت! مه گفت، زه! 4 فعل

احسنت و زه، شبه جمله هستند و در شمارش تعداد جمله ها، جمله محسوب می شوند.

آموزش و پرورش 1395

4- مصرع « کاشکی قیمت انفاس بدانندی خلق » چه نوع جمله ای است؟ (آموزش و پرورش.95) Www.IranEstekhdam.IR

(1) امری (2) پرسشی

(3) خبری (4) عاطفی

پاسخ کارشناس ایران استخدام: گزینه 4 عاطفی

در جمله های عاطفی / تعجبی، یکی از عواطف انسانی خود، مانند تعجب، خشنودی، تأسف، آرزو، خشم و دعا را بیان می کنیم. در پایان این نوع جمله، علامت (!) کاربرد دارد.

5- در بیت زیر، معنای « دم در کشیدن » کدام است؟ (آموزش و پرورش.95) Www.IranEstekhdam.IR

« مرا مگوی که خاموش باش و دم در کش که در چمن نتوان یافت مرغ را خاموش »

(1) فراموش کردن (2) صبور بودن

(3) سکوت کردن (4) بی قراری کردن

پاسخ کارشناس ایران استخدام: گزینه 3 سکوت کردن

دم در کشیدن کنایه از: خاموش شدن، سکوت کردن

کاربران گرامی لطفا دقت فرمایید، این فایل تنها بخشی از محصول ویژه نمونه سوالات استخدامی دستگاه های اجرایی میباشد که به صورت رایگان و برای آشنایی شما عزیزان از کیفیت و محتوای فایل معرفی شده ارائه شده است، لطفا جهت خرید و دانلود کامل این محصول، روی لینک زیر کلیک فرمایید.

لینک دانلود و خرید بسته کامل

فراگیر دستگاه های اجرایی خرداد 1394

6- معنی واژه میغ، در بیت زیر چیست؟ (دستگاه های اجرایی. خرداد94) Www.IranEstekhdam.IR

«ریش بر می کند و می گفت ای دریغ کآفتاب نعمتم شد زیر میغ»

(1) ابر سیاه (2) خورشید (3) رنگین کمان (4) سایه

پاسخ کارشناس ایران استخدام گزینه: 1) ابر سیاه - میغ: ابر و سحاب

7- رمان «صد سال تنهایی» از آثار کدام نویسنده مکتب واقع گرایی است؟ (دستگاه های اجرایی. خرداد94)

Www.IranEstekhdam.IR

(1) ماکسیم گورکی (2) گابریل گارسیا مارکز (3) لئون تولستوی (4) ویلیام فاکنر

پاسخ کارشناس ایران استخدام گزینه: 2) گابریل گارسیا مارکز؛ عنوان رمانی است به زبان اسپانیایی نوشته ی نویسنده مشهور «گابریل گارسیا مارکز».

فراگیر دستگاه های اجرایی اسفند 1394

8- کدام یک از شعرای نامبرده حبسیه سراسر است؟ (دستگاه های اجرایی. اسفند94) Www.IranEstekhdam.IR

(1) عبید زاکانی (2) خواجهی کرمانی

(3) مسعود سعد سلمان (4) فخرالدین عراقی

پاسخ کارشناس ایران استخدام گزینه: 3) مسعود سعد سلمان

شاعر نامی نیمه ی دوم قرن پنجم و نیمه اول قرن ششم هجری قمری است. منصوب بودن در مشاغل دیوانی موجب دو بار حبس وی شد. مجموعاً ۱۸ سال زندانی بود؛ در زندان غالباً کتاب خواند و شعر گفت. شعرهایی که در زندان سروده، در واقع شرح چگونگی زندگی او در زندان است. این حبسیه ها عالی ترین شعرهای اوست.

9- تکیه ی مفهوم بیت زیر بر کدام مطلب است؟ (دستگاه های اجرایی. اسفند94) Www.IranEstekhdam.IR

«فیض روح القدس ار باز مدد فرماید دیگران هم بکنند آنچه مسیحا می کرد»

- (1) تلاش عاشق
(2) شفاعت جبرئیل
(3) تعالی روح
(4) عنایت معشوق

پاسخ کارشناس ایران استخدام گزینه: 4) عنایت معشوق؛ این بیت حافظ اشاره ای است به اذن و اراده خداوندی؛ حتی معجزات پیامبران نیز از این قاعده مستثنی نیست و خداوند این موهبت را به هر که خواهد می دهد. (آیه ی ۷۳ سوره ی آل عمران)

فراگیر دستگاه های اجرایی سال 1395

10- معنی واژه های «مقدم و انوشه»، به ترتیب کدام است؟ (دستگاه های اجرایی. سال 95) Www.IranEstekhdam.IR

- (1) قدم نهادن - ماندگار
(2) باز آمدن از سفر - جاوید
(3) پیش افتاده - باقی
(4) وقت آمدن - باقیمانده

پاسخ کارشناس ایران استخدام: گزینه 2 باز آمدن از سفر - جاوید
مقدم: جای قدم نهادن، از سفر یا جایی باز آمدن / انوشه: جاوید و بی مرگ

11- سروده زیر، چند جمله است؟ (دستگاه های اجرایی. سال 95) Www.IranEstekhdam.IR

"آه ای زندگی، منم که هنوز با همه پوچی از تو لبریزم"

- (1) چهار
(2) یک
(3) دو
(4) سه

پاسخ کارشناس ایران استخدام: گزینه 1 چهار
آه! (1) ای زندگی! (2) منم (3) که هنوز... لبریزم (4).

کاربران گرامی لطفا دقت فرمایید، این فایل تنها بخشی از محصول ویژه نمونه سوالات استخدامی دستگاه های اجرایی میباشد که به صورت رایگان و برای آشنایی شما عزیزان از کیفیت و محتوای فایل معرفی شده ارائه شده است، لطفا جهت خرید و دانلود کامل این محصول، روی لینک زیر کلیک فرمایید.

[لینک دانلود و خرید بسته کامل](#)

بانک سپه سال 1393

12- کدام مورد از آثار مولانا جلال الدین بلخی نیست؟ (بانک سپه 93) Www.IranEstekhdam.IR

- (1) فیه ما فیه (2) مثنوی معنوی (3) مجالس سبعه (4) مقالات شمس

پاسخ کارشناس ایران استخدام گزینه: (4) مقالات شمس

مجموعه‌ای از سخنان و حکایات نغز است که در دوران اقامت شمس تبریزی در قونیه بر زبان وی جاری شده، و پس از او مریدان مولانا جلال‌الدین محمد بلخی به صورت یادداشت‌هایی پراکنده جمع‌آوری کرده‌اند. از گسیختگی و بریدگی عبارات و مطالب پیداست که این کتاب را شمس‌الدین خود تألیف نکرده؛ بلکه همان یادداشت‌های روزانه‌ی مریدان است که با کمال بی‌ترتیبی فراهم نموده‌اند.

13- معنی عبارت «دانسته بودیم» در عبارت زیر، کدام است؟ (بانک سپه 93) Www.IranEstekhdam.IR

«ما چون کارها را نیکوتر بازجستیم و این مرد را «دانسته بودیم» و آزموده، از هندوستان فرمودیم تا بیاوردنش»

- (1) شناخته بودیم (2) شایسته بودیم (3) از راز او مطلع بودیم (4) آزمایش کردیم

پاسخ کارشناس ایران استخدام گزینه: (1) شناخته بودیم

دانستن: شناختن، فهمیدن، دریافتن

ثبت اسناد سال 1393

14- هنگام آوردن کلمه یا عبارت یا جمله‌ای برای توضیح بیشتر آن رعایت کدام علایم نگارشی توصیه می‌گردد؟ (ثبت اسناد 93)

Www.IranEstekhdam.IR

- (1) کمانک (2) قلاب (3) گیومه (4) ممیز

پاسخ کارشناس ایران استخدام گزینه: (1) کمانک

موارد استفاده: برای افزودن مطالبی خارج از فحوای طبیعی کلام به متن / آوردن معنا یا معادل کلمات و عبارات / ذکر منبع مطلب / همراه با علامت سوال برای تعجب، تردید و تمسخر / برای نشان دادن کوتاه‌نوشت‌ها / ذکر تاریخ تولد یا وفات / در فرهنگ‌ها برای توضیحات لازم مقوله‌های دستوری

15- نگارش کدام مورد صحیح نیست؟ (ثبت اسناد 93) Www.IranEstekhdam.IR

(1) حسن به برادرش گفت که مقاله‌ات منتشر شده است.

(2) شاعری را از نوجوانی آغاز و تا پایان عمر ادامه داد.

(3) من له او گواهی می دهم.

(4) فکر خود را به آنچه می بیند، می سپارد.

پاسخ کارشناس ایران استخدام گزینه: (2) شاعری را از نوجوانی آغاز و تا پایان عمر ادامه داد.

معارف اسلامی

آموزش و پرورش 1394

16- با توجه به آیه شریفه ﴿لقد ارسلنا بالبینات و انزلنا معهم الکتاب و المیزان ...﴾ مسلمانان وظیفه دارند جامعه را براساس کدام

مورد بنا کنند و برترین مقام رسول خدا(ص) کدام است؟ (آموزش و پرورش.94) Www.IranEstekhdam.IR

(1) کتاب خدا - ولایت ظاهری

(2) کتاب خدا - ولایت معنوی

(3) قسط - ولایت ظاهری

(4) قسط - ولایت معنوی

پاسخ کارشناس ایران استخدام گزینه: (4)

پاسخ تشریحی: حدید (57)، آیه 25. به راستی که پیامبران را با پدیده‌های روشن‌گر فرستادیم و همراه آنان کتاب و میزان نازل

کردیم، تا مردم به دادگری برخیزند و آهن را که در آن نیروی سخت و سودهای فراوان برای مردم است، پدید آوریم.

ولایت معنوی، برترین مقام پیامبر (ص)

17- «ابتلای به بیماری در اثر عدم رعایت قوانین بهداشتی» و «خود را محاط در نتایج اعمال خویشتن یافتن»، به ترتیب منجر به

تحقق کدام یک از انواع کیفر میشود؟ (آموزش و پرورش.94) Www.IranEstekhdam.IR

(1) طبیعی - اخروی

(2) عین عمل - اخروی

(3) عین عمل - محصول عمل

(4) طبیعی - محصول عمل

پاسخ کارشناس ایران استخدام گزینه: (2)

کاربران گرامی لطفا دقت فرمایید، این فایل تنها بخشی از محصول ویژه نمونه سوالات

استخدامی دستگاه های اجرایی میباشد که به صورت رایگان و برای آشنایی شما

عزیزان از کیفیت و محتوای فایل معرفی شده ارائه شده است، لطفا جهت خرید و دانلود

کامل این محصول، روی لینک زیر کلیک فرمایید.

[لینک دانلود و خرید بسته کامل](#)

آموزش و پرورش 1395

18- قرآن کریم ، خدا را « حی لا یموت » می خواند. تعبیر « حی » بیانگر کدام مفهوم است؟؟ (آموزش و پرورش.95)

Www.IranEstekhdam.IR

(1) اشتراک لفظی جناب برای خدا و مخلوقات

(2) اشتراک معنوی حیات برای خدا و مخلوقات

(3) اختصاص حیات به صورت یک صفت فعل ، برای خداوند است

(4) انحصار وصف حیات برای ذات خداوند، ازلی و ابدی است.

پاسخ کارشناس ایران استخدام: گزینه 4

پاسخ تشریحی:

خداوند حی بالذات است، یعنی حی بالذات جز خداوند نیست، و دیگر موجودات زنده حیات خود را از خداوند دریافت کرده اند، بنابراین خداوند حی بالذات و مبدأ حیات موجودات دیگر است

19- آیه شریفه « ان الصلاه کانت علی المومنین کتاباً موثوناً » به کدام یک از اسرار نماز اشاره دارد؟؟ (آموزش و پرورش.95)

Www.IranEstekhdam.IR

(1) اختلاص

(2) پرهیز از گناه

(3) وقت شناسی

(4) یاد خدا

پاسخ کارشناس ایران استخدام: گزینه 3

پاسخ تشریحی:

«إِنَّ الصَّلَاةَ كَانَتْ عَلَى الْمُؤْمِنِينَ كِتَابًا مَوْقُوتًا(نساء: 103)؛ نماز بر مؤمنان در اوقات معین مقرر شده است.

فراگیر دستگاه های اجرایی خرداد 1394

20- تجلی توحید عملی در فرد و جامعه ، به ترتیب کدامند ؟ (دستگاه های اجرایی. خرداد94) Www.IranEstekhdam.IR

(1) یگانه شدن انسان برای خدا - تحقق قسط و عدالت

(2) یگانه شدن انسان برای خدا - اطاعت از پیامبر (ص)

(3) اعتقاد خالص به خدا داشتن - اطاعت از پیامبر (ص)

4) اعتقاد خالص به خدا داشتن - تحقق قسط و عدالت

پاسخ کارشناس ایران استخدام گزینه: 2

پاسخ تشریحی: بر اساس طبقه بندی توحید عملی در کتاب پیش دانشگاهی توحید عملی اجتماعی - عبارت است از یگانه شدن فرد در جهت یگانه پرستی خدا اطاعت از رسول اکرم (ص) و اطاعت از جانشینان آن حضرت لازم ی توحید عملی یا عبادی است.

فراگیر دستگاه های اجرایی اسفند 1394

21- از آیه شریفه (فبشر عباد الذین یستمعون القول فیتبعون احسنه)، کدام مفهوم دریافت می شود؟ (دستگاه های اجرایی).

اسفند 94) Www.IranEstekhdam.IR

- 1) اول مخلوق خدا عقل است و سعادت نهایی بشر در پرتو عقل تحقق می پذیرد.
- 2) برای کشف حقیقت از طریق تفکر باید به روش و اصول و قواعدی پایبند بود.
- 3) قرآن، عقل در شعاع هدایت تکوینی و تشریحی را فارق حق از باطل می داند.
- 4) قرآن تفکر آزاد را توصیه می کند و عقل را به استقلال در اندیشه فرا می خواند.

پاسخ کارشناس ایران استخدام گزینه: 4

پاسخ تشریحی: پس بندگان را بشارت ده! همان کسانی که آن سخن خاص را می شنوند و از آن به بهترین وجه پیروی می کنند. علامه طباطبایی در تفسیر این آیه شریفه می نویسد: حق و رشد، مطلوب بندگان خداست، و به همین جهت هر چه بشنوند به آن گوش می دهند و این طور نیست که متابعت هوای نفس کنند و هر سخنی را به صرف شنیدن بدون تفکر و تدبر رد کنند. پس جمله "الذین یستمعون القول فیتبعون احسنه" مفادش این است که: بندگان خدا طالب حق و رشدند، به هر سخنی که گوش دهند بدین امید گوش می دهند که در آن حقی بیابند و می ترسند که در اثر گوش ندادن به آن، حق از ایشان فوت شود.

فراگیر دستگاه های اجرایی سال 1395

22- پیام آیات شریفه «قل هو الله احد» و «الحمد لله»، به ترتیب بیانگر کدام بعد از ابعاد توحید است؟ (دستگاه های اجرایی). سال

95) Www.IranEstekhdam.IR

- 1) ذاتی - عبادی 2) افعالی - صفاتی 3) ذاتی - صفاتی 4) افعالی - عبادی

پاسخ کارشناس ایران استخدام: گزینه 1) ذاتی - عبادی

پاسخ تشریحی:

آیه شریفه «قل هو الله احد» دلالت بر توحید ذاتی دارد. آیه شریفه «الحمد لله» دلالت بر توحید عبادی دارد. زیرا در این آیه، حمد را که از مصداق های عبادت است، منحصر برای خداوند قرار داده است.

بانک سپه سال 1393

23- در مورد کدام یک از واجبات، امام عصر (عج) فرموده اند: «که هیچ چیز مانند آن بینی شیطان را به خاک نمی‌مالد» (بانک سپه

93) Www.IranEstekhdam.IR

(1) امر به معروف و نهی از منکر (2) روزه (3) زکات (4) نماز

پاسخ کارشناس ایران استخدام گزینه: 4

پاسخ تشریحی: هیچ چیز مثل نماز بینی شیطان را به خاک نمی‌مالد و او را خوار نمی‌کند

24- وقتی که در اثبات معاد از «قدرت نامحدود خداوند» و «حکمت الهی» سخن می‌گوییم به ترتیب به کدام یک از موارد زیر اشاره

کرده ایم؟ (بانک سپه 93) Www.IranEstekhdam.IR

(1) جسمانی بودن معاد - ضرورت معاد (2) جسمانی بودن معاد - جسمانی بودن معاد

(3) ضرورت معاد - جسمانی بودن معاد (4) ضرورت معاد - ضرورت معاد

پاسخ کارشناس ایران استخدام گزینه: 4

ثبت اسناد سال 1393

25- هدایت پیامبر آنکه حجت ظاهر هستند، چه وقت مؤثر واقع میشود؟ (ثبت اسناد 93) Www.IranEstekhdam.IR

(1) انسان خود را ملزم به ایمان و عمل صالح بداند.

(2) انسان در مقابل گناه و زشتی عکس العمل نشان دهد.

(3) انسان در قبولی ارداد عوت آنها مختار باشد.

(4) عقل یعنی حجت باطنی سرکوب نشده و قدرت عمل داشته باشد.

پاسخ کارشناس ایران استخدام گزینه: 4

کاربران گرامی لطفا دقت فرمایید، این فایل تنها بخشی از محصول ویژه نمونه

سوالات استخدامی دستگاه های اجرایی میباشد که به صورت رایگان و برای

آشنایی شما عزیزان از کیفیت و محتوای فایل معرفی شده ارائه شده است، لطفا

جهت خرید و دانلود کامل این محصول، روی لینک زیر کلیک فرمایید.

[لینک دانلود و خرید بسته کامل](#)

زبان انگلیسی

26 - Scientists have set up so many experiments to How earthquakes happen.

Www.IranEstekhdam.IR

- 1) Tend
- 2) Solve
- 3) Find out
- 4) Keep

26- دانشمندان آزمایشات بسیاری را برای کشف اینکه چگونه زلزله ها اتفاق می افتند ترتیب دادند.

- 1) متمایل بودن به
- 2) حل کردن
- 3) کشف کردن
- 4) نگاه داشتن

پاسخ کارشناس ایران استخدام گزینه: 3

27 - The teacher asked the student ... lesson 5. Www.IranEstekhdam.IR

- 1) That she had studied
- 2) That she has studied
- 3) If she had studied
- 4) Has she studied

27- معلم از دانش آموز سوال نمود که آیا او درس 5 را مطالعه کرده بود.

- 1) که او مطالعه کرده بود
- 2) که او مطالعه کرده است
- 3) اگر او مطالعه کرده بود
- 4) آیا او مطالعه کرده است.

پاسخ کارشناس ایران استخدام گزینه: 3

در این گزینه if بعد از ask به معنی " که آیا " است.

28- why does the author refer to the study conducted by Jefferson?

- 1) To present an example of appositive classroom atmosphere
- 2) To give support to the claims made in the first paragraph
- 3) To describe how a teacher can create a friendly classroom atmosphere
- 4) To inform teachers of the new classroom management theories

پاسخ کارشناس ایران استخدام: گزینه 2

مطالعه ای توسط جفرسون در پاراگراف دوم آورده شده بخاطر تایید ادعایی است که پاراگراف اول گفته شده است (ادعای روابط بین معلم و دانش آموزان)

28-The ECB is very important to the euro-zone. Its main function is keeping prices..... in the euro-zone and inflation just under two percent. Www.IranEstekhdam.IR

- | | |
|-----------|-------------|
| 1) Stable | 2) previous |
| 3) light | 4) cautious |

28- ECB برای اورپا بسیار مهم است، عمل اصلی آن، نگهداری قیمت
 1) قابل پیگیری (2) قبلی (3) سبک (4) محتاط
 در اورپا و تورم 2٪ می باشد
 پاسخ کارشناس ایران استخدام: گزینه: 1

29- He's so calm when he answers questions in interviews. I wish I could be that

Www.IranEstekhdam.IR

- | | | | |
|-----------|----------------|-------------|--------------|
| 1) mental | 2) emotionless | 3) coherent | 4) immediate |
|-----------|----------------|-------------|--------------|

29- او زمانی که پاسخ سوال در مصاحبه است بسیار ساکت است. من آرزو داشتم که می توانستم بشوم.
 1) روحی-فکری (2) عاری از احساس (3) دارای ارتباط منطقی (4) فوری
 پاسخ کارشناس ایران استخدام: گزینه: 3

30- The of the wheel changed the world enormously. Www.IranEstekhdam.IR

- | | |
|---------------|---------------|
| 1) invention | 2) attempt |
| 3) investment | 4) discussion |

30.... چرخ به طور شگرفی دنیا را تغییر داد.
 1- اختراع (2) تلاش (3) سرمایه گذاری (4) بحث و بررسی
 پاسخ کارشناس ایران استخدام: گزینه: 1 اختراع چرخ دنیا را متحول کرد.

کاربران گرامی لطفا دقت فرمایید، این فایل تنها بخشی از محصول ویژه نمونه سوالات استخدامی دستگاه های اجرایی میباشد که به صورت رایگان و برای آشنایی شما عزیزان از کیفیت و محتوای فایل معرفی شده ارائه شده است، لطفا جهت خرید و دانلود کامل این محصول، روی لینک زیر کلیک فرمایید.

[لینک دانلود و خرید بسته کامل](#)

ریاضی و آمار

آموزش و پرورش 1394

31- عبارت $x^3 + 11x^2 - 3x + a$ بر $x+1$ بخش پذیر است. مقدار a کدام است؟ (آموزش پرورش. 94)

Www.IranEstekhdam.IR

15 (1) 9 (2) -7 (3) -13 (4)

پاسخ کارشناس ایران استخدام گزینه: 4

چون تابع مورد نظر بر $x+1$ بخش پذیر است پس $x=-1$ یک جواب معادله است که با جایگذاری در معادله مقدار a بدست می آید.

$$x^3 + 11x^2 - 3x + a \xrightarrow{x=-1} (-1)^3 + 11(-1)^2 - 3(-1) + a = 0 \rightarrow a = -13$$

32- اگر $A^{-1} \begin{bmatrix} a & 0 \\ b & c \end{bmatrix} =$ معکوس ماتریس $A = \begin{bmatrix} 1 & 0 \\ x & -1 \end{bmatrix}$ به ازای جميع مقادیر x باشد، حاصل $cb +$ کدام است؟ (آموزش پرورش.

Www.IranEstekhdam.IR (94)

1 (1) $x-1$ (2) $x+1$ (3) $1-x$ (4) $-x-1$

پاسخ کارشناس ایران استخدام گزینه: 1

$$A = \begin{bmatrix} a & b \\ c & d \end{bmatrix} \rightarrow A^{-1} = \frac{1}{ad-bc} \begin{bmatrix} d & -b \\ -c & a \end{bmatrix}$$

$$A^{-1} = \frac{1}{-1-0} \begin{bmatrix} -1 & 0 \\ -x & 1 \end{bmatrix} = \begin{bmatrix} 1 & 0 \\ x & -1 \end{bmatrix}$$

$$b = x$$

$$c = -1$$

آموزش و پرورش 1395

33- در یک خانواده فرزند بزرگتر از میان سه فرزند دختر است، با کدام احتمال دو فرزند دیگر نیز دختر است؟ (آموزش پرورش

95. Www.IranEstekhdam.IR

$$\frac{1}{8}(4)$$

$$\frac{1}{7}(3)$$

$$\frac{1}{2}(2)$$

$$\frac{1}{4}(1)$$

پاسخ کارشناس ایران استخدام: گزینه 1

چون دختر و پسر بودن دوپیشامد مستقل از هم هستند و احتمال دختر و پسر بودن $1/2$ است پس احتمال اینکه دوفرزند دیگر نیز دختر باشد $1/4$ میباشد.

فراگیر دستگاه های اجرایی خرداد 1394

34- قدر نسبت دنباله هندسی a_1, a_2, a_3, \dots برابر 3 است. قدر نسبت دنباله هندسی $a_1^2, a_2^2, a_3^2, \dots$ ، کدام است؟ (دستگاه های

اجرایی. خرداد94) Www.IranEstekhdam.IR

$$12 (4)$$

$$9 (3)$$

$$6 (2)$$

$$3 (1)$$

پاسخ کارشناس ایران استخدام: گزینه: 3

$$\frac{a_2}{a_1} = q = 3 \rightarrow \frac{a_2^2}{a_1^2} = \left(\frac{a_2}{a_1}\right)^2 = q^2 = 9$$

35- برای بررسی رنگ خودروهای ساخته شده توسط یک شرکت خودروساز، از چه نوع متغیری استفاده می شود؟ (دستگاه های

اجرایی. خرداد94) Www.IranEstekhdam.IR

1) کیفی - ترتیبی 2) کمی - ترتیبی 3) کیفی - اسمی 4) کمی - گسسته

پاسخ کارشناس ایران استخدام: گزینه: 3

رنگ خودرو فاقد مقدار هست پس کیفی ، و چون ترتیبی برای رنگ ها نیست پس اسمی میباشد.

کاربران گرامی لطفا دقت فرمایید، این فایل تنها بخشی از محصول ویژه نمونه سوالات استخدامی دستگاه های اجرایی میباشد که به صورت رایگان و برای آشنایی شما عزیزان از کیفیت و محتوای فایل معرفی شده ارائه شده است، لطفا جهت خرید و دانلود کامل این محصول، روی لینک زیر کلیک فرمایید.

[لینک دانلود و خرید بسته کامل](#)

فراگیر دستگاه های اجرایی اسفند 1394

36- تعداد جواب های نامعادله $|x - x^3| \leq x$ در مجموعه اعداد طبیعی، کدام است؟ (دستگاه های اجرایی. اسفند 94)

Www.IranEstekhdam.IR

3(1)

2(2)

1(3)

4(4)

پاسخ کارشناس ایران استخدام گزینه: 3)

$$|x - x^3| \leq x \rightarrow -x \leq (x - x^3) \leq x \rightarrow (x - x^3) \leq x, (x - x^3) \geq -x$$

$$(x - x^3) \leq x \rightarrow -x^3 \leq 0 \rightarrow x \geq 0$$

$$(x - x^3) \geq -x \rightarrow 2x - x^3 \geq 0 \rightarrow x(2 - x^2) \geq 0 \rightarrow x \geq 0, 2 - x^2 \geq 0 \rightarrow x \leq \sqrt{2}$$

مابین x بزرگتر مساوی 0 و x کوچکتر مساوی رادیکال 2 تنها عدد 1 عدد طبیعی است پس جواب گزینه 3 است.

37- انحراف معیار داده های آماری 74، 62، 70، 66 و 78، کدام است؟ (دستگاه های اجرایی. اسفند 94)

Www.IranEstekhdam.IR

$2\sqrt{2}$ (1)

4 (2)

2 (3)

$4\sqrt{2}$ (4)

پاسخ کارشناس ایران استخدام گزینه: 4)

انحراف معیار = جذر واریانس

$$x_{av} = \frac{74 + 62 + 70 + 78 + 66}{5} = 70$$

$$\sigma = \sqrt{\frac{\sum (x_i - x_{av})^2}{n}} = \sqrt{\frac{(78 - 70)^2 + (66 - 70)^2 + (70 - 70)^2 + (62 - 70)^2 + (74 - 70)^2}{5}} = 4\sqrt{2}$$

فراگیر دستگاه های اجرایی سال 1395

38- مربع مجموع دو عدد مثبت، از مجموع مربعات آن دو عدد 108 واحد بیشتر است. اگر اختلاف دو عدد 3 باشد، مجموع ارقام

حاصل ضرب این دو عدد کدام است؟ (دستگاه های اجرایی. سال 95) Www.IranEstekhdam.IR

15 (1) 7 (2) 9 (3) 12 (4)

پاسخ کارشناس ایران استخدام: گزینه 3

مربع مجموع دو عدد $(x+y)^2$:

مجموع مربعات دو عدد: $x^2 + y^2$

$$(x+y)^2 = x^2 + y^2 + 108 \rightarrow x^2 + y^2 + 2xy = x^2 + y^2 + 108 \rightarrow xy = 54$$

$$x - y = 3 \rightarrow x = 3 + y$$

$$xy = 54 \xrightarrow{x=3+y} (3+y)y = 54 \rightarrow y^2 + 3y - 54 = 0$$

$$\Delta = b^2 - 4ac \rightarrow \Delta = 225 \rightarrow y_1, y_2 = \frac{-3 \pm \sqrt{225}}{2} \rightarrow y_1 = 6, y_2 = -9$$

$$y = 6 \rightarrow x = 3 + 6 = 9$$

$$xy = 27 \rightarrow 2 + 7 = 9$$

39- چند عدد شش رقمی می توان با اعداد 3، 5 و 7 نوشت، به طوری که هر عدد حداقل یک بار ظاهر شود؟ (دستگاه های اجرایی.)

سال 95) Www.IranEstekhdam.IR

270 (1) 720 (2) 540 (3) 360 (4)

پاسخ کارشناس ایران استخدام: گزینه 3

$$\binom{6}{3} 3^3 = \frac{6!}{3!3!} \times 3^3 = 54$$

40- رنگ چشم علی قهوه ای است. متغیرهای تصادفی X و Y، رنگ چشم و طول قد هر دو نفری است که به تصادف در سمت چپ

و راست علی قرار می گیرند، نوع متغیرهای تصادفی X و Y، به ترتیب کدام اند؟ (دستگاه های اجرایی. سال 95)

Www.IranEstekhdam.IR

1) کیفی اسمی - کمی پیوسته

2) کیفی ترتیبی - کمی پیوسته

3) کیفی اسمی - کمی گسسته

4) کیفی ترتیبی - کمی گسسته

پاسخ کارشناس ایران استخدام: گزینه 1

کاربران گرامی لطفا دقت فرمایید، این فایل تنها بخشی از محصول ویژه نمونه سوالات استخدامی

دستگاه های اجرایی میباشد که به صورت رایگان و برای آشنایی شما عزیزان از کیفیت و محتوای

فایل معرفی شده ارائه شده است، لطفا جهت خرید و دانلود کامل این محصول، روی لینک زیر

کلیک فرمایید.

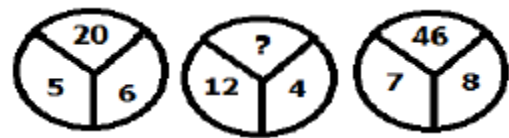
[لینک دانلود و خرید بسته کامل](#)

هوش و استعداد تحصیلی

آموزش و پرورش 1394

41- با توجه به شکل‌های مقابل مقدار را بیابید: (آموزش و پرورش.94) Www.IranEstekhdam.IR

16 (1) 18 (2) 38 (3) 58 (4)



پاسخ کارشناس ایران استخدام گزینه: 3)

چون رابطه به صورت ضرب دو عدد پایین منهای 10 است

$$12 \times 4 = 48 \quad \text{و} \quad 48 - 10 = 38$$

42- در دنباله حروف زیر مجهول چه حرفی است؟ (آموزش و پرورش.94) Www.IranEstekhdam.IR

(ژ، ص، ر، ط، د، ع، ؟)

1) ج 2) چ 3) ح 4) خ

پاسخ کارشناس ایران استخدام گزینه: 3)

در شماره‌های فرد (ژ) 2 حرف الفبا به عقب رفته و نوشته (2 حرف ماقبل (ژ) حرف (ر) است) و در شماره‌های زوج (ص) دو حرف به جلو رفته و نوشته است (دو حرف بعد (ص) حرف (ط) است). علامت سوال شماره فرد بوده و اگر از دو حرف الفبا به عقب

برویم به حرف (ح) می‌رسیم

(ژ، ص، ر، ط، د، ع، ؟)

(1 و 2 و 3 و 4 و 5 و 6 و 7)

آموزش و پرورش 1395

43- در رشته اعداد روبه رو، نسبت Y به X کدام است؟ (آموزش و پرورش.95) Www.IranEstekhdam.IR

$$0 \quad 2 \quad 6 \quad 14 \quad x \quad 62 \quad y \quad 254$$

$$3 \quad (2) \quad 2 \quad (1)$$

$$5/1 \quad (4) \quad 4/2 \quad (3)$$

پاسخ کارشناس ایران استخدام: گزینه 3

به عدد اول دو واحد اضافه شده و با خود عدد (عدد اول) جمع شده و عدد دوم حاصل شده است. در مرحله دوم عددی که در مرحله

اول اضافه شده بود (دو واحد) ضربدر 2 شده است و با عدد دوم جمع شده است یعنی عدد سوم برابر با: $2 \times (2) + 2 = 6$

در مرحله قبل 4 واحد به 2 اضافه شد پس عدد چهارم به صورت زیر شده است:

$$2 \times (4) + 6 = 14$$

به همین ترتیب برای دیگر عددها داریم:

$$x = 2(8) + 14 = 30$$

$$62 = 2(16) + 30$$

$$y = 2(32) + 62 = 126$$

$$254 = 2(64) + 126$$

$$\frac{y}{x} = \frac{126}{30} = 4.2$$

44- محل اولیه عقربه های ساعت شمار و دقیقه شمار یک ساعت عقربه ای، به گونه ای است که ساعت 4 بعد از ظهر را نشان می

دهد. زمانی که عقربه دقیقه شمار برای اولین بار به محل اولیه عقربه ساعت شمار می رسد. زاویه بین آنها چند درجه خواهد بود؟

(آموزش و پرورش.95) Www.IranEstekhdam.IR

$$10 \quad (2) \quad 5 \quad (1)$$

$$12 \quad (4) \quad 11 \quad (3)$$

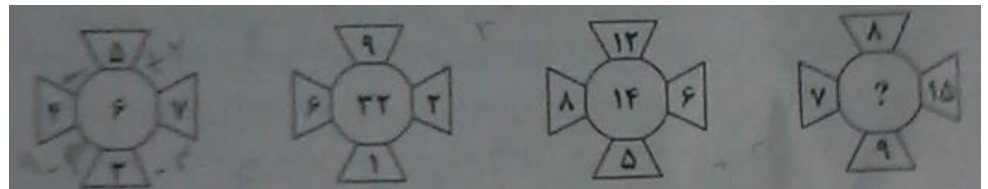
پاسخ کارشناس ایران استخدام: گزینه 2

برای هر ساعت میزان درجه در ساعت $\frac{360}{12}$ می باشد که 30 درجه خواهد شد. حال چون 20 دقیقه بعد مطرح است عقربه ساعت شمار در این 20 دقیقه 10 درجه طی می کند تا 40 دقیقه بعد 30 درجه خود را کامل کند. پس زاویه بین ساعت شما و دقیقه شمار 10 درجه خواهد شد.

فراگیر دستگاه های اجرایی خرداد 1394

45- در هر کدام از شکل های زیر ، بین اعداد ارتباط خاصی برقرار است. به جای علامت سوال، کدام عدد باید قرار بگیرد ؟

(دستگاه های اجرایی. خرداد94) Www.IranEstekhdam.IR



20 (4)

16 (3)

12 (2)

8 (1)

پاسخ کارشناس ایران استخدام: گزینه: 1

دو عدد بالا و پایین از هم و دو عدد سمت چپ و راست از هم کم شده و این دو عدد حاصل برهم ضرب شده و عدد وسط را ایجاد می کنند.

$$8 * 1 = 8 \quad \text{و} \quad (7 - 15) = 8 \quad \text{و} \quad (8 - 9) = 1$$

46- کودکی قرار است 25 تخم مرغ را با یکی از چهار مداد رنگی که در اختیار دارد، طوری رنگ کند که تعداد تخم مرغ های قرمز

، 2 برابر تخم مرغ های زرد و تعداد تخم مرغ های آبی ، 3 عدد بیشتر از تعداد تخم مرغ های سبز باشد، کدام یک از اعداد زیر ،

می تواند تعداد تخم مرغ ها به یکی از رنگ های قرمز ، زرد ، آبی و سبز باشد ؟ (دستگاه های اجرایی. خرداد94)

Www.IranEstekhdam.IR

11 (4)

9 (3)

7 (2)

3 (1)

پاسخ کارشناس ایران استخدام گزینه: 4)

A تعداد قرمز

B تعداد زرد

C تعداد ابی

D تعداد سبز

$$A=2B \quad , \quad C=D+3 \quad , \quad A+B+C+D=25$$

اگر 11 تا سبز باشد آنگاه 8 تا آبی داریم و با معادله بالا

$$2B+B+8+11=25 \quad , \quad B=2 \quad , \quad A=4$$

کاربران گرامی لطفا دقت فرمایید، این فایل تنها بخشی از محصول ویژه نمونه سوالات استخدامی دستگاه های اجرایی میباشد که به صورت رایگان و برای آشنایی شما عزیزان از کیفیت و محتوای فایل معرفی شده ارائه شده است، لطفا جهت خرید و دانلود کامل این محصول، روی لینک زیر کلیک فرمایید.

[لینک دانلود و خرید بسته کامل](#)

فراگیر دستگاه های اجرایی اسفند 1394

راهنمایی: با توجه به اطلاعات و نمودارهای زیر، به سوال های 47 و 48 پاسخ دهید.

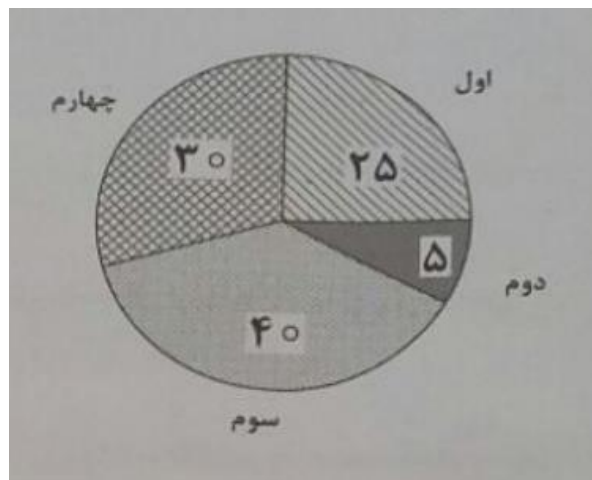
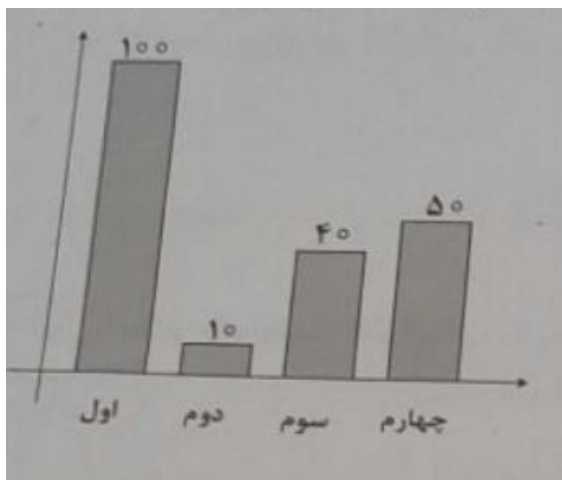
-در یک روز برفی، تعدادی از دانش آموزان دبستان یک روستا که دارای چهار کلاس اول، دوم، سوم و چهارم است، غیبت می کنند. نمودار سمت چپ، درصد تعداد غایبین هر کلاس نسبت به کل تعداد دانش آموزان همان کلاس و نمودار سمت راست، درصد تعداد غایبین هر کلاس نسبت به کل تعداد غایبین آن دبستان را نشان می دهد.

درصد تعداد غایبین هر کلاس نسبت

درصد تعداد غایبین هر کلاس

به کل دانش آموزان همان کلاس

به کل تعداد غایبین دبستان



95- نسبت تعداد حاضرین کلاس دوم به حاضرین کلاس چهارم، کدام است؟

(1) 3 به 1

(2) 3 به 2

(3) 9 به 5

47- نسبت تعداد حاضرین کلاس دوم به حاضرین کلاس چهارم، کدام است؟ (دستگاه های اجرایی. اسفند 94)

www.IranEstekhdam.IR

(2) 3 به 2

(1) 3 به 1

(4) 2 به 1

(3) 9 به 5

پاسخ کارشناس ایران استخدام گزینه: (2)

اگر تعداد کل غایبین 20 نفر باشد با توجه به شکل سمت راست 6 نفر در پایه 4 غایب و 1 نفر در پایه دوم غایب است. که این 6 نفر 50 درصد کلاس بوده یعنی 6 نفر در کلاس چهارم حاضر است و 1 نفر غایب کلاس دوم 10 درصد کلاس است یعنی 9 نفر در کلاس دوم حاضر است. نسبت آنها 9 به 6 یا همان 3 به 2 است.

48- اگر 12 دانش آموز سر کلاس سوم باشند، آن دبستان دارای چند دانش آموز کلاس اولی است؟ (دستگاه های اجرایی.

اسفند 94) Www.IranEstekhdam.IR

6 (1)

12 (2)

15 (3)

5 (4)

پاسخ کارشناس ایران استخدام گزینه: 4)

اگر 12 نفر حاضر باشند یعنی 60 درصد کلاس حاضر است و 40 درصد غایب 8 نفر می شود. اگر کل غایبین 20 نفر باشد 25 درصد آن که غایبین اول است مساوی 5 نفر می شود پس تعداد دانش آموزان اول 5 نفر است.

فراگیر دستگاه های اجرایی سال 95

49- بین اعداد زیر، ارتباط خاصی برقرار است. به جای علامت سوال، کدام عدد باید قرار بگیرد تا این ارتباط، همچنان حفظ شود؟

دستگاه های اجرایی. سال 95) Www.IranEstekhdam.IR ؟ 693 ، 543 ، 423 ، 333 ، 273 ، 213

873 (4)

783 (3)

753 (2)

943 (1)

پاسخ کارشناس ایران استخدام: گزینه 4

رقم صدگان هر عدد ضربدر 30 شده و با خودش جمع میشود

$$(2*30+212=273)$$

$$(2*30+273=333)$$

$$(3*30+333=423)$$

.

.

.

$$(6*30+693=873)$$

50- یک هواپیمای مسافربری در مسیر پروازی خود از شهر A به شهر B، در مسیر رفت، موافق جهت باد و در مسیر برگشت، خلاف جهت باد حرکت می کند. نسبت مدت زمان رفت به مدت زمان برگشت، 2 به 3 است. نسبت سرعت هواپیما به سرعت باد،

کدام است؟ (دستگاه های اجرایی. سال 95) Www.IranEstekhdam.IR

- (1) 3 به 2 (2) 5 به 1 (3) 5 به 2 (4) 3 به 1

پاسخ کارشناس ایران استخدام: گزینه 2

مسیر رفت $V_B + V_H$

مسیر برگشت $V_H - V_B$

$$X = \frac{V}{t}$$

$$\frac{V_B + V_H}{t_1} = \frac{V_B - V_H}{t_2} \rightarrow \frac{V_B + V_H}{V_H - V_B} = \frac{t_1}{t_2}$$

$$\frac{V_B + V_H}{V_H - V_B} = \frac{2}{3} \rightarrow 2V_H - 2V_B = 3V_B + 3V_H \rightarrow V_H = -5V_B$$

کامپیوتر (مهارت هفتگانه)

آموزش و پرورش 1394

51- در علم کامپیوتر، آنتی ویروس به کدام معنی است؟ (آموزش و پرورش. 94) Www.IranEstekhdam.IR

- 1) نرم افزاری که مانع ورود ویروس به کامپیوتر می شود.
- 2) سخت افزاری که مانع ورود ویروس به کامپیوتر میشود.
- 3) نرم افزاری که جهت تشخیص و حذف یا قرنطینه کردن ویروس استفاده می شود.
- 4) سخت افزاری که در صورت وجود ویروس در کامپیوتر به کاربر اطلاع می دهد.

پاسخ کارشناس ایران استخدام: گزینه: 1

گزینه 3 هم شامل وظایف آنتی ویروس می باشد ولی با توجه به تعریف آنتی ویروس گزینه 1 صحیح است.

آنتی ویروس: نرم افزاری است که با مشاهده و بررسی محتوای پرونده ها به دنبال الگوهای آشنای بدافزار شامل ویروس ها یا کرم های اینترنتی می گردند. در صورت مشاهده این الگوها که به آن امضای ویروس گفته می شود، از ورود آن به کامپیوتر شما و اجرا شدن اش جلوگیری می کنند و یا به شما هشدار لازم را می دهند و از شما دستور می گیرند که آیا فایل را حذف کنند و یا سعی نمایند آن را اصلاح و پاکسازی کنند.

52- جهت درج یک کادر در حاشیه یک سند Word2007، به کدام بخش مراجعه می کنید؟ (آموزش و پرورش.94)

Www.IranEstekhdam.IR

Home (1 Insert (2 Mailings (3 Page Layout (4

پاسخ کارشناس ایران استخدام گزینه: 4

این کار در قسمت page layout با استفاده از گزینه Page Borders انجام می شود.

53- کدام مورد جهت مرتب سازی داده های یک کاربرگ از یک فایل Excel، مورد استفاده قرار می گیرد؟ (آموزش و پرورش.94)

Www.IranEstekhdam.IR

Data>Filter (1 Data>Sort (2

Home>Conditional Formatting (4 Insert>Chart (3

پاسخ کارشناس ایران استخدام گزینه: 2

برای مرتب سازی داده ها در excel از قسمت data بخش sort&filter می توان برای مرتب سازی داده های یک کاربرگ استفاده نمود.

آموزش و پرورش 1395

54- کدام دستگاه، قابلیت اتصال از طریق درگاه USB را ندارد؟ (آموزش و پرورش.95) Www.IranEstekhdam.IR

Printer (2 Webcam (1

DVD Drive (4 Monitor (3

پاسخ کارشناس ایران استخدام: گزینه 3

مانیتور با پورت های HDMI DVI و BNC به کامپیوتر وصل می شود.

55- در محیط نرم افزار Aeccss ، کدام مورد صحیح است؟ (آموزش و پرورش.95) Www.IranEstekhdam.IR

(1 کوچک ترین واحد اطلاعاتی در یک پایگاه داده ، رکورد است

(2 اندازه نوع داده Text ، از نوع داده Memo بیشتر است.

(3 امکان ارتباط (Relation) بین جداول وجود ندارد.

(4 رابطه چند به یک در پایگاه داده وجود ندارد.

پاسخ کارشناس ایران استخدام: گزینه 2

- 1 کوچکترین واحد بیت می باشد.
- 2 صحیح است.
- 3 امکان ارتباط بین جداول وجود دارد.
- 4 رابطه چند به یک یا 1:N می توان ایجاد کرد.

56- در یک وب سایت، بر روی لینک یک فایل ، راست کلیک می کنید انتخاب کدام مورد باعث دانلود فایل بر روی سیستم شما

خواهد شد ؟ (آموزش و پرورش.95) Www.IranEstekhdam.IR

- | | |
|-------------|-----------------------|
| Save As (2) | Copy Link Address (1) |
| Copy (4) | Save Target As (3) |

پاسخ کارشناس ایران استخدام: گزینه 3

فراگیر دستگاه های اجرایی خرداد 1394

57- فرض کنید در محل کارتان ، کامپیوترها به یکدیگر متصل شده اند، به طوری که کارمندان می توانند فایل ها و پرینتر را با

یکدیگر به اشتراک بگذارند. در اتصال کامپیوترها به یکدیگر، از کدام نوع شبکه استفاده شده است ؟ (دستگاه های اجرایی).

خرداد94) Www.IranEstekhdam.IR

- | | | | |
|---------|------------|---------|----------|
| WAN (4) | TCP/IP (3) | LAN (2) | ISDN (1) |
|---------|------------|---------|----------|

پاسخ کارشناس ایران استخدام: گزینه: 2)

شبکه محلی (Local Area Network) یک شبکه رایانه ای است که محدوده جغرافیایی کوچکی مانند یک خانه، یک دفتر کار یا گروهی از ساختمان ها را پوشش می دهد و معمولا در ادارجات و ... از این نوع شبکه استفاده می شود.

58- - در یک کاربرگ از یک فایل Excel ، عمل فیلتر کردن بر اساس کدام داده ها ، قابل انجام است ؟ (دستگاه های اجرایی).

خرداد94) Www.IranEstekhdam.IR

- | | |
|--|-----------------|
| (1) هر ستون (2) هر سطر (3) هر ستون با هر سطر | (4) فقط سطر اول |
|--|-----------------|

پاسخ کارشناس ایران استخدام گزینه: 1) ابتدا ستون مورد نظر را انتخابو سپس با کلیک بر روی گزینه Sort & Filter از کادر باز شده زیر آن گزینه Filter را انتخاب کرده و عمل فیلترینگ بر روی ستون ها صورت می گیرد.

59- ابزار Book mark برای صفحه های وب ، به کدام منظور استفاده می شود ؟ (دستگاه های اجرایی. خرداد94)

Www.IranEstekhdam.IR

1) اطمینان از این که این صفحات در آینده قابل دسترسی هستند

2) اطمینان از این که اطلاعات روی صفحه تغییر نمی کنند

3) ذخیره سازی صفحات مورد نظر روی کامپیوتر

4) دسترسی آسان به صفحات مورد نظر در روزهای آینده

پاسخ کارشناس ایران استخدام گزینه: 4)

Bookmark در واقع مثل favorite عمل می کند و منجر به دسترسی آسان و سریع به صفحات مورد نظر در آینده را فراهم می نماید.

کاربران گرامی لطفا دقت فرمایید، این فایل تنها بخشی از محصول ویژه نمونه سوالات استخدامی دستگاه های اجرایی میباشد که به صورت رایگان و برای آشنایی شما عزیزان از کیفیت و محتوای فایل معرفی شده ارائه شده است، لطفا جهت خرید و دانلود کامل این محصول، روی لینک زیر کلیک فرمایید.

[لینک دانلود و خرید بسته کامل](#)

پاسخ کارشناس ایران استخدام: گزینه 4

ایجاد شماره خط در حاشیه در بخش Page Layout سپس page setup و گزینه Line Numbers می باشد.

بانک سپه سال 1393

64- ابزار Transition در محیط Power Point به کدام منظور استفاده می شود؟ (بانک سپه 93) Www.IranEstekhdam.IR

(1) شروع نمایش یک فایل

(2) تبدیل فایل به یک فایل Word

(3) متحرک سازی یک نوشته در یک اسلاید

(4) نحوه محور شدن یک اسلاید و ظاهر شدن اسلاید بعدی

پاسخ کارشناس ایران استخدام گزینه: 4) به نحوه ظاهر شدن اسلایدها در اسلایدشو گذار گفته می شود باری دسترسی به این

موضوع از منوی اسلایدشو این گزینه انتخاب میشود.

65- فرض کنید بخواهید با هر بار باز کردن مرورگر خود، صفحه وب شعبه مرکزی بانک سپه بارگذاری شود به منظور تنظیم، به

کدام بخش مرورگر مراجعه می کنید؟ (بانک سپه 93) Www.IranEstekhdam.IR

(1) Book mark (2) Home Page (3) History (4) Startup

پاسخ کارشناس ایران استخدام گزینه: 2)

کاربران گرامی لطفا دقت فرمایید، این فایل تنها بخشی از محصول ویژه نمونه سوالات استخدامی دستگاه های اجرایی میباشد که به صورت رایگان و برای آشنایی شما عزیزان از کیفیت و محتوای فایل معرفی شده ارائه شده است، لطفا جهت خرید و دانلود کامل این محصول، روی لینک زیر کلیک فرمایید.

[لینک دانلود و خرید بسته کامل](#)

ثبت اسناد سال 1393

66- ساده ترین راه برای نوشتن کلمه Adsl با حروف بزرگ کدام مورد است؟ (ثبت اسناد 93) Www.IranEstekhdam.IR

(1) استفاده از Symbol

(2) استفاده از Caps Lock

(3) پایین نگه داشتن کلید Alt و تایپ کردن کلمه

(4) پایین نگه داشتن کلید ctrl و تایپ کردن کلمه

پاسخ کارشناس ایران استخدام گزینه: (2)

در هنگام نگارش متون انگلیسی روشن بودن دکمه ی caps look باعث تغییر نوع نگارش از حروف کوچک به بزرگ خواهد شد، لذا برای نگارش با حروف بزرگ متون انگلیسی کافی است دکمه ی caps look را روشن نماییم.

67- صفحات وبی که قبلا مشاهده کرده اید در کجا قرار دارد؟ (ثبت اسناد 93) Www.IranEstekhdam.IR

(1) Favorits (2) History (3) Safety (4) Options

پاسخ کارشناس ایران استخدام گزینه: (2)

History در مرورگرها بخشی است که صفحات وبی که تا به حال باز نموده اید در آن ذخیره شده است.

اطلاعات عمومی و سیاسی و تاریخی

آموزش و پرورش 1394

68- ریاست مجلس خبرگان رهبری تا سال 1386 برعهده چه کسی بود؟ (آموزش و پرورش.94) Www.IranEstekhdam.IR

(1) آیت الله مهدویکنی (2) آیت الله هاشمی

(3) آیت الله هشترودی (4) آیت الله مشکینی

پاسخ کارشناس ایران استخدام گزینه: (4) ریاست این مجلس از زمان تأسیس در سال ۱۳۶۱ به عهده علی مشکینی بود، پس

از رحلت ایشان در سال ۱۳۸۶ این پست به اکبر هاشمی رفسنجانی رسید و در سال ۱۳۸۹ محمدرضا مهدوی کنی جانشین وی شد.

پس از فوت او، این پست به محمد یزدی رسید

69- همه پرسى تايبید قانون اساسى جمهورىاسلامىایران، در چه زمانى برگزار شد؟ (آموزش و پرورش.94)

Www.IranEstekhdam.IR

(1) بهمن 1358 (2) آذر 1358 (3) مرداد 1358 (4) فروردین 1358

پاسخ کارشناس ایران استخدام گزینه: 2) همه پرسى قانون اساسى جمهورى اسلامى ایران در ۱۱ و ۱۲ آذر ۱۳۵۸ برگزار شد و با ۵/۹۹٪ آرا تصویب شد.

70- طبق اصل بیست و یکم قانون اساسی جمهوری اسلامی ایران، کدام یک از موارد زیر، جزو وظایف دولت در تضمین حقوق زنان نمی باشد؟ (آموزش و پرورش. 94) Www.IranEstekhdam.IR

- 1) حمایت مادران، بالخصوص در دوران بارداری و حضانت فرزند و حمایت از کودکان بی سرپرست
 - 2) ایجاد بیمه خاص بیوه ها و زنان سالخورده و بی سرپرست
 - 3) ایجاد دادگاه صالح برای حفظ کیان و بقای خانواده
 - 4) اعطای بورس های تحصیلی ویژه، جهت ادامه تحصیل
- پاسخ کارشناس ایران استخدام گزینه: 4)

71- زبان پشتو، از زبان های رسمی کدام همسایه ایران است؟ (آموزش و پرورش. 94) Www.IranEstekhdam.IR

- 1) آذربایجان
- 2) افغانستان
- 3) پاکستان
- 4) ترکمنستان

پاسخ کارشناس ایران استخدام گزینه: 2) پشتو نام یکی از دو زبان رسمی در افغانستان و از شاخه زبان های ایرانی شمال شرقی است. گویشوران آن قوم پشتون می باشند و در افغانستان و پاکستان و هند زندگی می کنند. دو زبان اصلی مردم افغانستان فارسی دری و پشتو، هر دو از شاخه ایرانی خانواده هندواروپایی است و در قانون اساسی جدید افغانستان نیز، هر دوی این زبان رایج، به عنوان زبان های رسمی پذیرفته شده است.

کاربران گرامی لطفا دقت فرمایید، این فایل تنها بخشی از محصول ویژه نمونه سوالات استخدامی دستگاه های اجرایی میباشد که به صورت رایگان و برای آشنایی شما عزیزان از کیفیت و محتوای فایل معرفی شده ارائه شده است، لطفا جهت خرید و دانلود کامل این محصول، روی لینک زیر کلیک فرمایید.

[لینک دانلود و خرید بسته کامل](#)

آموزش و پرورش 1395

72- طاق بستان، در کدام یک از استان های ایران قرار دارد؟ (آموزش و پرورش.95) Www.IranEstekhdam.IR

(1) ایلام (2) کردستان

(3) کرمانشاه (4) همدان

پاسخ کارشناس ایران استخدام: 3

73- کتاب « معاد » از آثار کدام یک از بزرگان انقلاب است؟ (آموزش و پرورش.95) Www.IranEstekhdam.IR

(1) دکتر شریعتی (2) آیت ا ... طالقانی

(3) آیت ا ... مطهری (4) آیت ا ... دستغیب

پاسخ کارشناس ایران استخدام: 4

فراگیر دستگاه های اجرایی خرداد 1394

74- نام کدام نهاد، در قانون اساسی بیان نشده است؟ (دستگاه های اجرایی. خرداد94) Www.IranEstekhdam.IR

(1) شورای عالی انقلاب فرهنگی (2) شورای عالی امنیت ملی

(3) شورای نظارت بر صدا و سیما (4) دیوان عالی کشور

پاسخ کارشناس ایران استخدام گزینه: 1

75- تعامل سازنده با کدام یک از موارد زیر، از ویژگی های جامعه ایرانی در سند 1404 است؟ (دستگاه های اجرایی. خرداد94)

Www.IranEstekhdam.IR

(1) کشورهای آسیای جنوب شرقی (2) کشورهای منطقه

(3) کشورهای حوزه خلیج فارس (4) جهان

پاسخ کارشناس ایران استخدام گزینه: 4 (دارای تعامل سازنده و مؤثر با جهان بر اساس اصول عزت، حکمت و مصلحت.

فراگیر دستگاه های اجرایی اسفند 1394

76- نهج البلاغه توسط کدام یک از افراد زیر، گردآوری شد؟ (دستگاه های اجرایی. اسفند 94) Www.IranEstekhdam.IR

(1) شیخ صدوق (2) شیخ کلینی (3) سیدرضی (4) علامه مجلسی

پاسخ کارشناس ایران استخدام گزینه: (3) نهج البلاغه توسط محمد بن ابی احمد حسین بن طاهر ملقب به شریف رضی معروف به موسوی که از اکابر و مشاهیر علمای امامیه می باشد جمع آوری شده.

77- بازه زمانی سند چشم انداز جمهوری اسلامی ایران، کدام است؟ (دستگاه های اجرایی. اسفند 94)

Www.IranEstekhdam.IR

(1) میان مدت و ۲۵ سال (2) بلند مدت و 20 سال

(3) بلندمدت و 25 سال (4) میان مدت و 20 سال

پاسخ کارشناس ایران استخدام گزینه: (4) سند چشم انداز 20 ساله توسعه که به تعبیری، پس از قانون اساسی، مهم ترین سند و چشم انداز توسعه کشور تا سال 1404 محسوب می شود، مصداق برنامه ریزی بلندمدت برای تحقق توسعه همه جانبه در ایران است که براساس آن، برنامه های میان مدت توسعه طراحی و به اجرا گذاشته می شود.

فراگیر دستگاه های اجرایی سال 1395

78- آثار تاریخی چغازنبیل، متعلق به کدام استان ایران است؟ (دستگاه های اجرایی. سال 95) Www.IranEstekhdam.IR

(1) سمنان (2) خوزستان (3) کردستان (4) گیلان

پاسخ کارشناس ایران استخدام: 2

79- طبق برنامه چهارم توسعه، اختصاص عواید نفت برای توسعه سرمایه گذاری، بر چه اساسی است؟ (دستگاه های اجرایی. سال

95) Www.IranEstekhdam.IR

(1) کارآفرینی و توسعه تامین اجتماعی (2) کارایی و بازدهی

(3) سوددهی و توسعه (4) اشتغال و درآمدزایی

پاسخ کارشناس ایران استخدام: 2

بانک سپه سال 1393

80- مطابق قانون اساسی، شرط اجتهاد برای همه مقامات زیر، الزامی است، بجز (بانک سپه 93)

Www.IranEstekhdam.IR

(1) رئیس سازمان بازرسی کل کشور (2) رئیس دیوان عالی کشور

(3) رئیس قوه قضائیه (4) دادستان کل کشور

پاسخ کارشناس ایران استخدام گزینه: 1 (مطابق قانون اساسی شرط اجتهاد برای رئیس سازمان بازرسی کل کشور الزامی نیست).

81- جمهوری اسلامی ایران، در سیاست خارجی خود در ارتباط با رژیم حقوقی دریای خزر، با کدام کشورهای ساحلی روبرو می

باشد؟ (بانک سپه 93) Www.IranEstekhdam.IR

(1) روسیه - قزاقستان - قرقیزستان - آذربایجان (2) روسیه - قزاقستان - ترکمنستان - آذربایجان

(3) روسیه - قزاقستان - قرقیزستان - تاجیکستان (4) روسیه - قزاقستان - آذربایجان - تاجیکستان

پاسخ کارشناس ایران استخدام گزینه: 2 (روسیه، قزاقستان، ترکمنستان، آذربایجان و ایران 5 کشور همسایه با دریای خزر می

باشند).

82- قیام 29 بهمن 1356 که در بزرگداشت چهلم شهدای قم برگزار شد، در کدام شهر بود؟ (بانک سپه 93)

Www.IranEstekhdam.IR

(1) یزد (2) مشهد (3) تبریز (4) تهران

پاسخ کارشناس ایران استخدام گزینه: 3 (در چهلم شهدای قیام خونین طلاب قم، شهر تبریز به طور ناگهانی و غیرمنتظره ضربه ای

بر سلطنت پنجاه ساله پهلوی وارد ساخت و سرمشقی شد برای مردم شهرهای دیگر ایران. کنسول امریکا در تبریز پس از قیام

تبریز نتیجه گیری کرد که این قیام: «دروازه ها را برای نبردهای مذهبی و اجتماعی که به سادگی آرام نخواهد شد، (تکرار می شود)،

نخواهد شد، باز کرد.»

ثبت اسناد سال 1393

83- مساله «ایران گیت»، راجع به کدام موضوع زیر بود؟ (ثبت اسناد 93) Www.IranEstekhdam.IR

- (1) ماجرای رسوایی واترگیت
(2) تسخیر لانه جاسوسی
(3) خودکشی رابرت مک فارلین
(4) معامله تسلیحاتی ایران با ایالات متحده آمریکا و اسرائیل
پاسخ کارشناس ایران استخدام گزینه: 4

ماجرای ایران-کنترا (به انگلیسی: Iran Contra affair) که به ماجرای مک فارلین و ماجرای ایران گیت نیز معروف است، به معامله تسلیحاتی ایران با ایالات متحده آمریکا و اسرائیل از ۲۰ اوت ۱۹۸۵ تا ۴ مارس ۱۹۸۷ (۲۹ مرداد ۱۳۶۴ - ۱۳ اسفند ۱۳۶۵) بازمی گردد. در این ماجرا آمریکا از طریق نفوذ ایران سعی در آزادسازی گروگان‌های آمریکایی در لبنان کرد و در ازای آن برخی قطعات ادوات جنگی و نظامی را که به واسطه تحریم امکان فروش آنها به ایران نبود، در اختیار ایران قرار داد.

84- نظارت بر اجرای صحیح قوانین در محاکم، برعهده کدام مرجع است؟ (ثبت اسناد 93) Www.IranEstekhdam.IR

- (1) دیوان عالی کشور
(2) دیوان عدالت اداری
(3) قوه قضاییه
(4) سازمان بازرسی کل کشور
پاسخ کارشناس ایران استخدام گزینه: 1 (نظارت بر اجرای صحیح قوانین در کلیه دادگاهها و دادرها به ترتیب برعهده دیوان عالی کشور می باشد).

85- در حال حاضر کدام یک از برنامه های توسعه اقتصادی پنج ساله کشور در حال اجراست؟ (ثبت اسناد 93)

Www.IranEstekhdam.IR

- (1) دوم
(2) پنجم
(3) چهارم
(4) سوم
پاسخ کارشناس ایران استخدام گزینه: 2 (پاسخ به این سوال در سالهای مختلف متغیر خواهد بود، بنابراین توصیه سایت ایران استخدام به شما کارجویان گرامی تحقیق در این خصوص با توجه به دوره ای که در آن به سر می برید می باشد).

کاربران گرامی لطفا دقت فرمایید، این فایل تنها بخشی از محصول ویژه نمونه سوالات استخدامی دستگاه های اجرایی میباشد که به صورت رایگان و برای آشنایی شما عزیزان از کیفیت و محتوای فایل معرفی شده ارائه شده است، لطفا جهت خرید و دانلود کامل این محصول، روی لینک زیر کلیک فرمایید.

[لینک دانلود و خرید بسته کامل](#)