

بخشی از محصول:

بسته اصل سوالات آزمون های استخدامی دستگاه های اجرایی کشور



ایران استخدام
سرویس خصوصی خدمات عام المنفعه اخبار شغل و استخدام

[Www.IranEstekhdam.Ir](http://www.IranEstekhdam.Ir)

! اخطار مهم!

این فایل بخشی از نمونه سوالات اختصاصی و ثبت شده سایت ایران استخدام (شرکت آلتین سیستم) بوده و قوانین مربوط به حوزه حمایت از حقوق مؤلفین و ناشرین جمهوری اسلامی ایران بر آن حاکم می باشد. هرگونه سوء استفاده از این فایل همانند استفاده از محتوا در تهیه کتب و یا قرار دادن تمام یا بخشی از آن در وب سایت های دیگر، چه برای فروش و چه به صورت رایگان شرعاً حرام و قانوناً خلاف مقررات و قوانین کشورمان می باشد. با توجه به هزینه های صرف شده و تلاش صورت گرفته برای تهیه این بسته، در صورت مشاهده یا گزارش هرگونه کپی برداری از آن؛ بدون هیچ گونه تماس قبلی وهشدار اقدام به پیگیری حقوقی و اخذ جریمه خواهیم نمود.

کاربران گرامی لطفا دقت فرمایید، این فایل تنها بخشی از محصول ویژه نمونه سوالات استخدامی فراگیر دستگاه های اجرایی می باشد که به صورت رایگان و برای آشنایی شما عزیزان از کیفیت و محتوای فایل معرفی شده ارائه شده است، لطفاً جهت خرید و دانلود کامل این محصول، روی لینک زیر کلیک فرمایید.

لینک دانلود و خرید بسته کامل

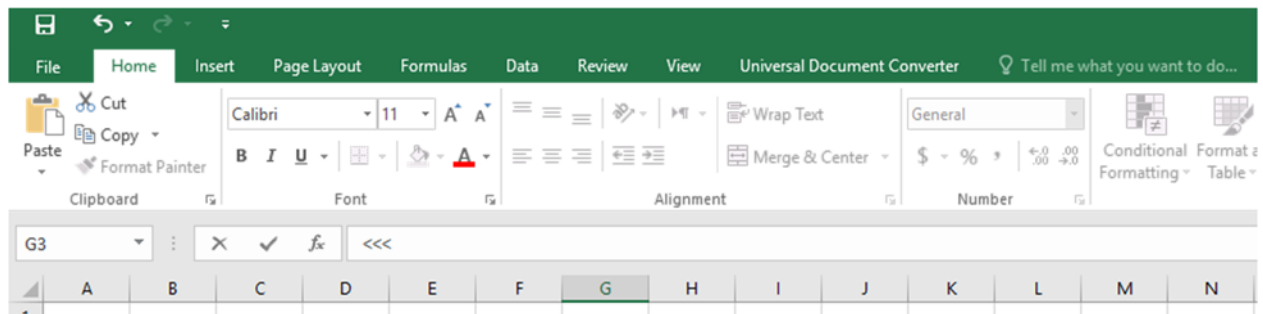


بخش اول:

فناوری اطلاعات و مهارت های هفتگانه I.C.D.L

آزمون استخدامی فراگیر پنجم دستگاههای اجرایی در سال ۹۷

۱- شکل زیر، بخشی از پنجره نرم افزار Excel 2013 را نشان می دهد. در قسمتی که با <<< مشخص شده است، کدام عمل زیر، قابل انجام است؟ (Www.iranestekhdam.ir)



- (۱) درج و ویرایش فرمول ها و توابع
(۲) تغییر فرمت سلول ها
(۳) جست و جو در سلول ها
(۴) درج مقدار پیش فرض برای سلول ها

پاسخ کارشناس ایران استخدام: گزینه ۱

در قسمت نشان داده شده با <<< امکان درج و ویرایش فرمولها و توابع وجود دارد و نوار فرمول نامیده می شود.

آزمون استخدامی فراگیر چهارم دستگاههای اجرایی در سال ۹۶

۲- در نرم افزار Excel، پس از نوشتن 11:23 در یک سلول از نوع Time، مقدار سلول به کدام مورد نمیتواند تغییر پیدا کند؟ (Www.iranestekhdam.ir)

- (۱) November 23, 2017
(۲) Wednesday, November 23, 11:23 AM
(۳) 11:23:00 AM
(۴) Wednesday, November 23, 2017

پاسخ کارشناس سایت ایران استخدام: گزینه ۳

با درج عبارت ۱۱:۲۳ در یک خانه که مقدار آن از نوع TIME یا زمان می باشد و زدن کلید Enter، عبارت به صورت AM ۱۱:۲۳:۰۰ نشان داده می شود. بنابراین سایر گزینه ها درست نمی باشد.

آزمون استخدامی فراگیر سوم دستگاههای اجرایی در سال ۹۵

۳- کدام فایل را می توان جزو فایل های قابل اجرا (Executable Files) دانست؟ (Www.iranestekhdam.ir)

- (۱) Filename.exe.txt
(۲) Filename.txt.exe
(۳) Filename.txt
(۴) Filename.exe

پاسخ کارشناس ایران استخدام: گزینه ۴

فایل های قابل اجرا با پسوند های exe و dll و bat شناخته می شوند. و پسوند ؛ آخرین قسمت نام فایل بعد از نقطه می باشد.

آزمون استخدامی فراگیر دوم دستگاههای اجرایی در سال ۹۴

۴- در یک سند Word، با فشار دادن همزمان کلیدهای Ctrl و Enter، کدام مورد زیر، رخ خواهد داد؟

(www.iranestekhdam.ir)

(۱) انتخاب paragraph

(۲) رفتن به انتهای paragraph

(۳) ایجاد یک صفحه جدید

(۴) رفتن به انتهای سند

پاسخ کارشناس ایران استخدام: گزینه ۳

دکمه‌ی ctrl+enter باعث ایجاد یک صفحه‌ی جدید در داخل word خواهد شد.

آزمون استخدامی فراگیر اول دستگاههای اجرایی در سال ۹۴

۵- در پست الکترونیکی، ابزار Compose، به کدام منظور استفاده می شود؟ (www.iranestekhdam.ir)

(۱) ترکیب کردن دو یا چند نامه الکترونیکی با یکدیگر

(۲) الحاق یک فایل به نامه الکترونیکی جهت ارسال

(۳) آماده کردن یک نامه الکترونیکی جهت ارسال

(۴) دریافت یک نامه الکترونیکی

پاسخ کارشناس ایران استخدام: گزینه ۳

برای آماده‌سازی یک نامه از رایانامه از قسمت compose استفاده می‌شود و برای الحاق یک فایل از قسمت attach استفاده می‌گردد.

کاربران گرامی لطفاً دقت فرمایید، این فایل تنها بخشی از محصول ویژه نمونه سوالات استخدامی فراگیر دستگاه های اجرایی می باشد که به صورت رایگان و برای آشنایی شما عزیزان از کیفیت و محتوای فایل معرفی شده ارائه شده است، لطفاً جهت خرید و دانلود کامل این محصول، روی لینک زیر کلیک فرمایید.

لینک دانلود و خرید بسته کامل



بخش دوم:

زبان و ادبیات فارسی

آزمون استخدامی فراگیر پنجم دستگاههای اجرایی در سال ۹۷

۱- در کدام گروه کلمه، غلط املائی یافت می‌شود؟ (Www.iranestekhdam.ir)

- (۱) عجز و لابه - واثق و معتمد
(۲) محمل و کجاوه - زنجیر و مسلسل
(۳) گزیر و گریز - مدلت و خواری
(۴) باطن و ضمیر - محمل و بیهوده

پاسخ کارشناس ایران استخدام: گزینه ۴

املائی صحیح مهمل با «ه» است. مهمل یعنی لفظی که معنی ندارد، بی استفاده و بیهوده.

آزمون استخدامی فراگیر چهارم دستگاههای اجرایی در سال ۹۶

۲- معنی واژه های «لابه - نعت - تیمار» به ترتیب کدامند؟ (Www.iranestekhdam.ir)

- (۱) تضرع - صفت - اندیشه
(۲) تکاپو - وصف کردن - پرستار
(۳) التماس - مشخص - غم و اندوه
(۴) تلاش - خصلت - غم و اندوه

پاسخ کارشناس سایت ایران استخدام: گزینه ۱

لابه: تضرع و التماس / نعت: صفت و نشان / تیمار: پرستاری، نوازش، غمخواری، دلسوزی، اندیشه، درد و رنج؛ تیمار خوردن: غمخواری و دلسوزی کردن

آزمون استخدامی فراگیر سوم دستگاههای اجرایی در سال ۹۵

۳- منظومه «مروارید مهر» از سروده های کیست؟ (Www.iranestekhdam.ir)

- (۱) سهراب سپهری
(۲) رهی معیری
(۳) حمید سبزواری
(۴) فریدون مشیری

پاسخ کارشناس ایران استخدام: گزینه ۴

«مروارید مهر» از مجموعه ی «شعرهای دریایی»، اثر فریدون مشیری است که در سال ۱۳۶۵ در تهران چاپ شد.

آزمون استخدامی فراگیر دوم دستگاههای اجرایی در سال ۹۴

۴- در کدام گروه کلمه، غلط املائی یافت می‌شود؟ (Www.iranestekhdam.ir)

- (۱) عجز و لابه - واثق و معتمد
(۲) محمل و کجاوه - زنجیر و مسلسل
(۳) گزیر و گریز - مدلت و خواری
(۴) باطن و ضمیر - محمل و بیهوده

پاسخ کارشناس ایران استخدام: گزینه ۴

املائی صحیح مهمل با «ه» است. مهمل یعنی لفظی که معنی ندارد، بی استفاده و بیهوده.

آزمون استخدامی فراگیر اول دستگاههای اجرایی در سال ۹۴

۵- با توجه به بیت زیر، کدام واژه معنای «ایهامی» دارد؟ (Www.iranestekhdam.ir)

- «گفتم غم تو دارم، گفتا غمت سرآید
گفتم که ماه من شو، گفتا اگر برآید»
(۱) ماه
(۲) غم
(۳) سرآید
(۴) برآید

پاسخ کارشناس ایران استخدام: گزینه ۴

برآید: ۱. برآمدن ماه، بالا آمدن ماه / ۲. اگر امکان داشته باشد و بخت با تو یار باشد.

کاربران گرامی لطفاً دقت فرمایید، این فایل تنها بخشی از محصول ویژه نمونه سوالات استخدامی فراگیر دستگاه های اجرایی می باشد که به صورت رایگان و برای آشنایی شما عزیزان از کیفیت و محتوای فایل معرفی شده ارائه شده است، لطفاً جهت خرید و دانلود کامل این محصول، روی لینک زیر کلیک فرمایید.

لینک دانلود و خرید بسته کامل



بخش سوم:

معارف اسلامی

آزمون استخدامی فراگیر پنجم دستگاههای اجرایی در سال ۹۷

۱- پیام حدیث شریف «کیف یعرف غیره من یجهل نفسه»، کدام است؟ (Www.iranestekhdam.ir)

- (۱) خودشناسی، مقدمه خدانشناسی است. (۲) خدانشناسی، مقدمه خودشناسی است.
(۳) خدانشناسی، پیش درآمد کمال انسانی است. (۴) خودشناسی، پیش درآمد جهان شناسی است.

پاسخ کارشناس ایران استخدام: گزینه ۲

انسان باید ابتدا قوا و ابزار شناخت خود و گستره و مرزهای آنها را بشناسد تا بعد به شناخت جهان دست یابد.
حضرت علی(ع) می فرماید: کیف یعرف غیره من یجهل نفسه
کسی که خود را نمی شناسد؛ چگونه غیر خود را تواند شناخت.

آزمون استخدامی فراگیر چهارم دستگاههای اجرایی در سال ۹۶

۲- عبارت زیر؛ بیانگر کدام یک از راه های شناخت صفات الهی است؟ (Www.iranestekhdam.ir)

- «از انسجام و وحدت حاکم بر جهان هستی؛ می توان به وحدت حالق و ناظم پی برد.»
(۱) استدلال عقلی (۲) کشف و شهود
(۳) توفیقی بودن اسماء (۴) سیر در آفاق و انفس

پاسخ کارشناس سایت ایران استخدام: گزینه ۴

از راه سیر در آفاق و انفس استنباط می شود که از انسجام و وحدت حاکم بر جهان هستی؛ می توان به وحدت حالق و ناظم پی برد.

آزمون استخدامی فراگیر سوم دستگاههای اجرایی در سال ۹۵

۳- مهم ترین نیایش اسلامی که آن را در زمره ارکان آیین اسلامی در آورده، کدام است؟ (Www.iranestekhdam.ir)

- (۱) توحید (۲) دعا (۳) روزه (۴) نماز

پاسخ کارشناس ایران استخدام: گزینه ۴

نماز برترین ذکر در اسلام است. نماز پس از اصول دین مهم ترین واجبات و اولین رکن از ارکان پنج گانه ی شریعت محسوب می گردد، که اصل آن در ابتدای بعثت، در مکه بر پیامبر نازل شد و کیفیت و چگونگی آن، چنان که معهود و متعارف است در شب معراج، نازل گردیده است.

آزمون استخدامی فراگیر دوم دستگاههای اجرایی در سال ۹۴

۴- ریشه مشترک غرایز اصلی در انسان، کدام است؟ (Www.iranestekhdam.ir)

- (۱) حب کمال (۲) حب نفس (۳) حب بقا (۴) حب حیات

پاسخ کارشناس ایران استخدام: گزینه ۲

غریزه حب نفس و خود دوستی ریشه جمیع غرایز انسانی بوده، هدایت و ارضای صحیح آن، منشأ اصلاح سایر غرائز گشته، زمینه شایستگی فرد و جامعه را فراهم می آورد، انحراف آن نیز سرچشمه بسیاری از مفاسد فردی و اجتماعی و باعث پیدایش و ظهور صفات ناپسند زیادی در نفس خواهد گشت.

آزمون استخدامی فراگیر اول دستگاه های اجرایی در سال ۹۴

۵- تجلی توحید عملی در فرد و جامعه ، به ترتیب کدامند ؟ (www.iranestekhdam.ir)

(۱) یگانه شدن انسان برای خدا - تحقق قسط و عدالت

(۲) یگانه شدن انسان برای خدا - اطاعت از پیامبر (ص)

(۳) اعتقاد خالص به خدا داشتن - اطاعت از پیامبر (ص)

(۴) اعتقاد خالص به خدا داشتن - تحقق قسط و عدالت

پاسخ کارشناس ایران استخدام: گزینه ۲

بر اساس طبقه بندی توحید عملی در کتاب پیش دانشگاهی

توحید عملی اجتماعی عبارت است از یگانه شدن فرد در جهت یگانه پرستی خدا، اطاعت از رسول اکرم (ص) و اطاعت از جانشینان آن حضرت لازمه توحید عملی یا عبادی است.

کاربران گرامی لطفاً دقت فرمایید، این فایل تنها بخشی از محصول ویژه نمونه سوالات استخدامی فراگیر دستگاه های اجرایی می باشد که به صورت رایگان و برای آشنایی شما عزیزان از کیفیت و محتوای فایل معرفی شده ارائه شده است، لطفاً جهت خرید و دانلود کامل این محصول، روی لینک زیر کلیک فرمایید.

لینک دانلود و خرید بسته کامل



بخش چهارم:

ریاضی و آمار مقدماتی

آزمون استخدامی فراگیر پنجم دستگاه های اجرایی در سال ۹۷

۱- حاصل ضرب وارون عدد $(3 - 3^{-\frac{1}{2}})^{-\frac{1}{2}}$ در عدد $\sqrt[4]{27}(\sqrt{3\sqrt{3}-1})$ کدام است؟ (www.iranestekhdam.ir)

- ۶ (۱) $9 - \sqrt{3}$ (۲) $27(\sqrt{3}-1)$ (۳) ۳ (۴)

پاسخ کارشناس ایران استخدام: گزینه ۴

$$\begin{aligned} &= \frac{1}{\sqrt{3 - \frac{1}{\sqrt{3}}}} \times \sqrt[4]{27} (\sqrt{3\sqrt{3}-1}) = \frac{1}{\sqrt{\frac{3\sqrt{3}-1}{\sqrt{3}}}} \times \sqrt[4]{27} (\sqrt{3\sqrt{3}-1}) \\ &= \frac{1}{\sqrt{\frac{3\sqrt{3}-1}{\sqrt{3}}}} \times \sqrt[4]{3^3} (\sqrt{3\sqrt{3}-1}) = \frac{\sqrt[4]{3}}{\sqrt{3\sqrt{3}-1}} \times \sqrt[4]{3^3} (\sqrt{3\sqrt{3}-1}) = \sqrt[4]{3} \times \sqrt[4]{3^3} = 3 \end{aligned}$$

آزمون استخدامی فراگیر چهارم دستگاه های اجرایی در سال ۹۶

۲- دامنه و برد تابع $y=f(x)$ ، به ترتیب بازه های $[-2,4]$ و $[-5,3]$ است. برد تابع $g(x)=2f(x+3)-1$ ، کدام است؟

(www.iranestekhdam.ir)

- $[-11,5]$ (۱) $[-5,5]$ (۲) $[-5,7]$ (۳) $[1,13]$ (۴)

پاسخ کارشناس سایت ایران استخدام: گزینه ۱

با توجه به اینکه در سوال بیان شده که برد تابع $F(x)$ بین مقادیر $[-5,3]$ قرار دارد لذا برای تعیین برد تابع $g(x)$ به تشکیل برد تابع در این بازه می پردازیم:

$$\begin{aligned} -5 &\leq f(x) \leq 3 \\ -5 &\leq f(x+3) \leq 3 \\ -10 &\leq 2f(x+3) \leq 6 \\ -11 &\leq 2f(x+3) - 1 \leq 5 \\ -11 &\leq g(x) \leq 5 \end{aligned}$$

آزمون استخدامی فراگیر سوم دستگاه های اجرایی در سال ۹۵

۳- در یک جامعه آماری، به هر داده به میزان ۱۵٪ خودش، اضافه شده است. ضریب تغییرات داده های جدید نسبت به داده های

قبل، چه تغییر می کند؟ (www.iranestekhdam.ir)

- (۱) ثابت می ماند $2/25$ برابر می شود (۲)
(۳) $1/85$ برابر می شود (۴) $1/15$ برابر می شود

پاسخ کارشناس ایران استخدام: گزینه ۴

$$\begin{aligned} cv &= \sqrt{\frac{\sum (x_i - x_{av})^2}{n}} = \sqrt{\frac{\sum (x_i + 0.15x_i - 1.15x_{av})^2}{n}} = \sqrt{\frac{\sum (1.15x_i - 1.15x_{av})^2}{n}} = \sqrt{\frac{\sum (1.15)^2 (x_i - x_{av})^2}{n}} \\ &= 1.15 \sqrt{\frac{\sum (x_i - x_{av})^2}{n}} \end{aligned}$$

آزمون استخدامی فراگیر دوم دستگاههای اجرایی در سال ۹۴

۴- تعداد جوابهای نامعادله $|x - x^2| \leq x$ در مجموعه اعداد طبیعی، کدام است؟ (www.iranestekhdam.ir)

۳ (۱)

۲ (۲)

۱ (۳)

۴ (۴)

پاسخ کارشناس ایران استخدام: گزینه ۳

$$|x - x^3| \leq x \rightarrow -x \leq (x - x^3) \leq x \rightarrow (x - x^3) \leq x, (x - x^3) \geq -x$$

$$(x - x^3) \leq x \rightarrow -x^3 \leq 0 \rightarrow x \geq 0$$

$$(x - x^3) \geq -x \rightarrow 2x - x^3 \geq 0 \rightarrow x(2 - x^2) \geq 0 \rightarrow x \geq 0, 2 - x^2 \geq 0 \rightarrow x \leq \sqrt{2}$$

مابین x بزرگتر مساوی ۰ و x کوچکتر مساوی رادیکال ۲؛ تنها عدد ۱ عدد طبیعی است پس جواب گزینه ۳ است.

آزمون استخدامی فراگیر اول دستگاههای اجرایی در سال ۹۴

۵- خط $y = b$ از محل تقاطع دو خط عمود $2x + 3y = 6$ و $ax + 2y = -12$ می گذرد. مقدار b کدام است؟

(www.iranestekhdam.ir)

$$-\frac{5}{11} \quad (۴)$$

$$\frac{8}{15} \quad (۳)$$

$$-\frac{6}{13} \quad (۲)$$

$$\frac{7}{19} \quad (۱)$$

پاسخ کارشناس ایران استخدام: گزینه ۲

از آنجایی که دو خط همدیگر را قطع می کنند و عمود برهم هستند پس داریم:

$$3y_1 = 6 - 2x \rightarrow y_1 = \frac{-2}{3}x + 2 \rightarrow m_1 = \frac{-2}{3}$$

$$2y_2 = -12 - ax \rightarrow y_2 = \frac{-a}{2}x - 6 \rightarrow m_2 = \frac{-a}{2}$$

$$m_1 m_2 = -1 \rightarrow \frac{-2}{3} \times \frac{-a}{2} = -1 \rightarrow a = -3$$

$$y_1 = y_2 \rightarrow \frac{-2}{3}x + 2 = \frac{3}{2}x - 6 \rightarrow x = \frac{48}{13}$$

$$y = b \rightarrow b = \frac{3}{2}x - 6 \xrightarrow{x = \frac{48}{13}} b = \frac{-6}{13}$$

کاربران گرامی لطفاً دقت فرمایید، این فایل تنها بخشی از محصول ویژه نمونه سوالات استخدامی فراگیر دستگاه های اجرایی می باشد که به صورت رایگان و برای آشنایی شما عزیزان از کیفیت و محتوای فایل معرفی شده ارائه شده است، لطفاً جهت خرید و دانلود کامل این محصول، روی لینک زیر کلیک فرمایید.

لینک دانلود و خرید بسته کامل



بخش پنجم:

زبان انگلیسی عمومی

آزمون استخدامی فراگیر پنجم دستگاههای اجرایی در سال ۹۷

1- We will have to cancel the show we sell more tickets at the last minute.
(Www.iranestekhdam.ir)

- 1) so that 2) whether 3) unless 4) since

پاسخ کارشناس ایران استخدام: گزینه ۳

معنی جمله: ما مجبور خواهیم شد که نمایش رو کنسل کنیم "مگر اینکه" در دقیقه آخر بلیط های بیشتری بفروشیم جمله شرطی از نوع دوم می باشد که در ساختار منفی آن به کار رفته است.
در حقیقت جمله به شکل زیر بوده است:

We will have to cancel the show if We dont sell more tickets at the last minute.

آزمون استخدامی فراگیر چهارم دستگاههای اجرایی در سال ۹۶

2- AS A RESULT OF, AN ITEM THAT USED TO COST EIGHTY CENTS NOW COST ON DOLLAR AND FIFTY CENTS. (Www.iranestekhdam.ir)

- 1) INSTRUCTION 2) INHIBITION
3) INFLATION 4) INSPECTION

پاسخ کارشناس سایت ایران استخدام: گزینه ۳

کلمه Inflation به معنی " تورم " می باشد
معنی جمله:

به دلیل وجود تورم؛ چیزی که قبلاً هشتاد سنت می ارزید، الان قیمتش یک دلار و پنجاه سنت شده است.

آزمون استخدامی فراگیر سوم دستگاههای اجرایی در سال ۹۵

3- IN MANY CULTURES WHEN YOU A PRESENT, IT IS IMPORTANT TO SAY "THANK YOU" TO SHOW THAT you ARE GRATEFUL FOR IT. (Www.iranestekhdam.ir)

- 1) RECEIVE 2) RETURN 3) REJECT 4) WRAP

پاسخ کارشناس ایران استخدام: گزینه ۱

آزمون استخدامی فراگیر دوم دستگاههای اجرایی در سال ۹۴

4- THE MAN WAS ARRESTED WHEN HISPASSPORT WAS SPOTTED AT THE AIRPORT. (Www.iranestekhdam.ir)

- 1) INTENSE 2) EVIDENT
3) ANUNCIEN 4) FAKE

وقتی پاسپورت مرد در فرودگاه کشف شد، او را دستگیر کردند.

- ۱- شدید ۲- شاهد ۳- (کلمه اسپانیایی)
۴- جعلی

پاسخ کارشناس ایران استخدام: گزینه ۴

پاسپورت جعلی مرد؛ در ضمن کلمه گزینه ۳ یک کلمه اسپانیایی می باشد و معنی آن مشخص نیست، ولی کاملاً مشخص است که جواب گزینه ۴ می باشد.

آزمون استخدامی فراگیر اول دستگاههای اجرایی در سال ۹۴

5- THOSE ORGANISMS THAT ARE MOST SUITED TO THE ENVIRONMENT WILL BE THOSE THAT WILL

([Www.iranestekhdam.ir](http://www.iranestekhdam.ir))

1) SURVIVE

2) STICK

3) HANDLE

4) PROTECT

موجوداتی که برای محیط زیست بسیار مطالعه شده‌اند آنهایی خواهند بود که خواهند
(۱) زنده ماندن (۲) گیر افتادن (چسبیدن) (۳) سر و کار داشتن با (۴) نگهداری کردن
پاسخ کارشناس ایران استخدام: **گزینه ۱** (زنده خواهند ماند)

کاربران گرامی لطفاً دقت فرمایید، این فایل تنها بخشی از محصول ویژه نمونه سوالات استخدامی فراگیر دستگاه های اجرایی می باشد که به صورت رایگان و برای آشنایی شما عزیزان از کیفیت و محتوای فایل معرفی شده ارائه شده است، لطفاً جهت خرید و دانلود کامل این محصول، روی لینک زیر کلیک فرمایید.

لینک دانلود و خرید بسته کامل



بخش ششم:

**اطلاعات عمومی، دانش اجتماعی
و حقوق اساسی**

آزمون استخدامی فراگیر پنجم دستگاههای اجرایی در سال ۹۷

۱- از میان علوم زیر، جایزه نوبل به کدام یک تعلق نمی گیرد؟ (www.iranestekhdam.ir)

(۱) شیمی (۲) فیزیک (۳) پزشکی (۴) ریاضی

پاسخ کارشناس ایران استخدام: گزینه ۴

جایزه نوبل جایزه‌ای است که طبق وصیت آلفرد نوبل، شیمی‌دان سوئدی هر سال به محققانی که در رشته‌های فیزیک، شیمی، زیست‌شناسی یا پزشکی، صلح و ادبیات موفقیت بزرگی کسب کرده باشند تعلق می‌گیرد. البته پس از گذشت چند سال جایزه نوبل، اقتصاد نیز به مجموع جوایز نوبل افزوده شد. در فهرست جوایز نوبل، ریاضی نادیده گرفته شده است.

آزمون استخدامی فراگیر چهارم دستگاههای اجرایی در سال ۹۶

۲- «شورای عالی حفاظت فنی»: تحت نظر کدام وزارتخانه اداره می‌شود؟ (www.iranestekhdam.ir)

(۱) تعاون، کار و رفاه اجتماعی (۲) صنعت، معدن و تجارت (۳) دفاع و پشتیبانی نیروهای مسلح (۴) نیرو

پاسخ کارشناس سایت ایران استخدام: گزینه ۱

شورای عالی حفاظت فنی زیر نظر وزارت تعاون، کار و رفاه اجتماعی بوده و هر ماه یکبار به ریاست وزیر کار و امور اجتماعی و یا معاون ایشان در وزارت کار و امور اجتماعی تشکیل می‌شود و در صورت لزوم جلسات فوق العاده به تصمیم رئیس شورا برگزار می‌گردد.

آزمون استخدامی فراگیر سوم دستگاههای اجرایی در سال ۹۵

۳- آثار تاریخی چغازنبیل، متعلق به کدام استان ایران است؟ (www.iranestekhdam.ir)

(۱) سمنان (۲) خوزستان (۳) کردستان (۴) گیلان

پاسخ کارشناس ایران استخدام: گزینه ۲

آزمون استخدامی فراگیر دوم دستگاههای اجرایی در سال ۹۴

۴- شهید محمد ابراهیم همت، سردار فاتح ایرانی، در کدام عملیات به درجه رفیع شهادت نائل آمد؟

(www.iranestekhdam.ir)

(۱) خیبر (۲) فتح المبین (۳) بیت المقدس (۴) کربلای ۴

پاسخ کارشناس ایران استخدام: گزینه ۱

در جریان عملیات خیبر، همچنان که نیروهای ایرانی در برابر ارتش عراق مقاومت می‌کردند هنگامی که همت برای بررسی وضعیت جبهه جلو رفته بود بر اثر اصابت گلوله توپ در نزدیکی اش به شهادت رسیدند.

آزمون استخدامی فراگیر اول دستگاه های اجرایی در سال ۹۴

۵- در پی کدام اتفاق ، اولین دولت موقت جمهوری اسلامی ایران استعفا کرد ؟ (www.iranestekhdam.ir)

- (۱) شروع جنگ ایران و عراق
(۲) انقلاب فرهنگی
(۳) تسخیر لانه جاسوسی
(۴) استعفای برخی از اعضاء دولت

پاسخ کارشناس ایران استخدام : گزینه ۳

با پیروزی انقلاب ۱۳۵۷، امام خمینی (ره) حکم نخست وزیری دولت موقت را به نام مهدی بازرگان صادر کرد. او به مدت ۹ ماه (به طور دقیق ۲۷۵ روز) سمت نخست وزیری موقت را بر عهده داشت. پس از تسخیر سفارت آمریکا توسط دانشجویان در ۱۳ آبان وی و دولت او به طور کامل استعفا کردند. بازرگان بعد از استعفا از نخست وزیری در اولین دوره مجلس به نمایندگی مردم تهران انتخاب شد.

کاربران گرامی لطفاً دقت فرمایید، این فایل تنها بخشی از محصول ویژه نمونه سوالات استخدامی فراگیر دستگاه های اجرایی می باشد که به صورت رایگان و برای آشنایی شما عزیزان از کیفیت و محتوای فایل معرفی شده ارائه شده است، لطفاً جهت خرید و دانلود کامل این محصول، روی لینک زیر کلیک فرمایید.

لینک دانلود و خرید بسته کامل



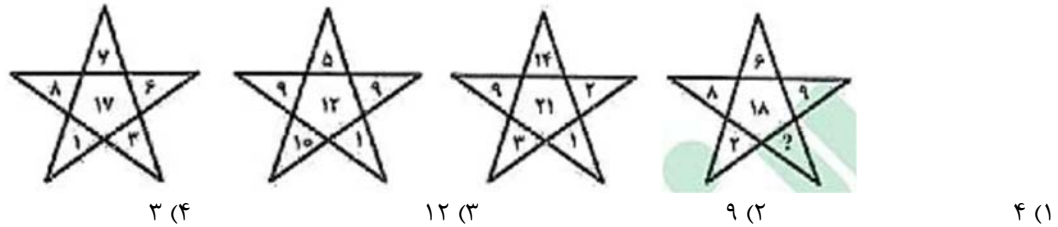
بخش هفتم:

هوش و استعداد تحصیلی و شغلی

آزمون استخدامی فراگیر پنجم دستگاههای اجرایی در سال ۹۷

راهنمایی: سوال زیر را به دقت بخوانید و پاسخ صحیح را انتخاب نموده و در پاسخنامه علامت بزنید. توجه داشته باشید که سوال، فقط یک پاسخ صحیح دارد.

۱- در شکل زیر، به جای علامت سؤال، کدام عدد باید قرار گیرد؟ (www.iranestekhdam.ir)



پاسخ کارشناس ایران استخدام: گزینه ۴

با کمی دقت در اشکال می توان فهمید که در هر حالت از حالت‌های بالا ابتدا اعداد واقع در سه راس بالایی شکل ستاره با هم جمع شده و از دور اس پایین کم می شوند.

برای مثال در اولین حالت از سمت چپ داریم: $(8+7+6)-(1+3)=17$

در دومین حالت از سمت چپ داریم: $(9+5+9)-(1+1)=12$

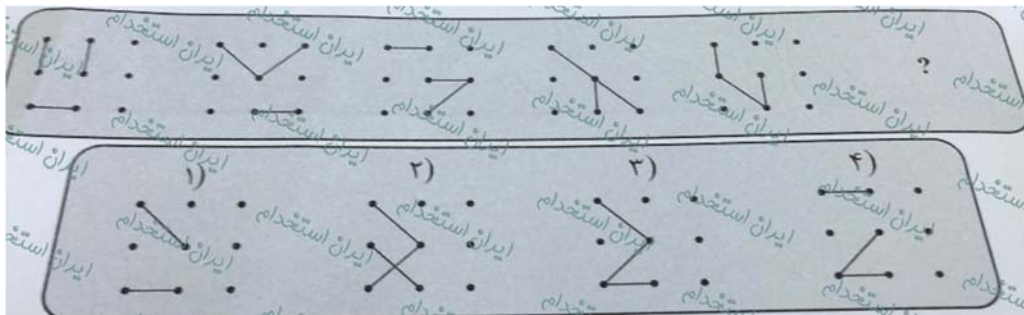
در سومین حالت از سمت چپ داریم: $(9+14+2)-(3+1)=21$

در شکل آخر هم داریم: $(6+9+8)-(X+2)=18 \rightarrow X=3$

آزمون استخدامی فراگیر چهارم دستگاههای اجرایی در سال ۹۶

راهنمایی: در سوال ۲، ارتباط خاصی بین الگوها از چپ به راست وجود دارد. به جای علامت سوال، کدام الگو (موارد ۱ تا ۴) باید قرار بگیرد تا این ارتباط حفظ شود؟ (www.iranestekhdam.ir)

-۲



پاسخ کارشناس سایت ایران استخدام: گزینه ۳

با توجه به حرکت شکل سه جز پاره خط های موجود در شکل که یکی در جهت عقربه های ساعت و هر بار به اندازه ۴۵ درجه و دو تای دیگر از الگوی حرکت تکراری تبعیت می کنند، به گزینه سوم منتج خواهد شد.

آزمون استخدامی فراگیر سوم دستگاههای اجرایی در سال ۹۵

راهنمایی: سوال زیر را به دقت بخوانید و پاسخ صحیح را انتخاب نموده و در پاسخنامه علامت بزنید. توجه داشته باشید که سوال، فقط یک پاسخ صحیح دارد.

۳- یک هواپیمای مسافربری در مسیر پروازی خود از شهر A به شهر B، در مسیر رفت، موافق جهت باد و در مسیر برگشت، خلاف جهت باد حرکت می کند. نسبت مدت زمان رفت به مدت زمان برگشت، ۲ به ۳ است. نسبت سرعت هواپیما به سرعت باد، کدام است؟ (www.iranestekhdam.ir)

(۱) ۲ به ۳ (۲) ۵ به ۱ (۳) ۵ به ۲ (۴) ۳ به ۱

پاسخ کارشناس ایران استخدام: گزینه ۲

مسیر رفت $V_B + V_H$

مسیر برگشت $V_H - V_B$

$$X = \frac{V}{t}$$

$$\frac{V_B + V_H}{t_1} = \frac{V_B - V_H}{t_2} \rightarrow \frac{V_B + V_H}{V_H - V_B} = \frac{t_1}{t_2}$$

$$\frac{V_B + V_H}{V_H - V_B} = \frac{2}{3} \rightarrow 2V_H - 2V_B = 3V_B + 3V_H \rightarrow V_H = -5V_B$$

آزمون استخدامی فراگیر دوم دستگاههای اجرایی در سال ۹۴

راهنمایی: برای پاسخگویی به سوال زیر لازم است موقعیتی را که در سوال مطرح شده، مورد تجزیه و تحلیل قرار دهید و سپس گزینه ای را که فکر می کنید پاسخ مناسب تری برای سوال است، انتخاب کنید. سوال را با دقت بخوانید و با توجه به واقعیت های مطرح شده در سوال و نتایجی که بیان شده و بیان نشده ولی قابل استنتاج است، پاسخی را که صحیح تر به نظر می رسد، انتخاب و در پاسخنامه علامت بزنید.

۴- اگر داشتید از پیاده رویی رد می شدید و دیدید که گروهی، کنار خیابان، موسیقی زنده اجرا می کنند، صبر کنید بایستید و به صدای سازشان گوش کنید. آنها برای شما می زنند.....

کدام مورد، به منطقی ترین شکل، جای خالی در متن فوق را کامل می کند؟ (www.iranestekhdam.ir)

(۱) چون شما و آنها از یک جنس هستید.

(۲) ولی خود نیز این را نمی دانند.

(۳) و این کنسرتی، برای شما یک نفر است.

(۴) و به تعبیری ساعتها برای این کار تمرین کرده اند.

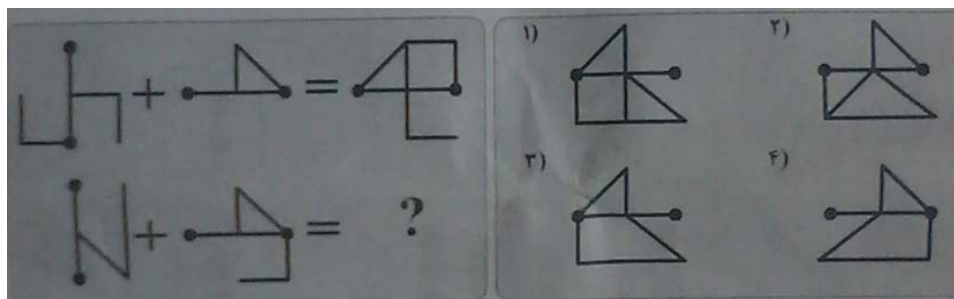
پاسخ کارشناس ایران استخدام: گزینه ۴

چون برای این کار تمرین کرده اند و زحمت کشیده اند.

آزمون استخدامی فراگیر اول دستگاههای اجرایی در سال ۹۴

راهنمایی: در سوال ۵، ارتباط خاصی بین الگوهای بالایی برقرار است. به جای علامت سوال، کدام الگو (موارد ۱ تا ۴) باید قرار بگیرد تا این ارتباط، در الگوی های پایینی نیز حفظ شود؟

۵- (www.iranestekhdam.ir)



پاسخ کارشناس ایران استخدام: گزینه ۳

شکل اول ۹۰ درجه در جهت عکس ساعت چرخیده و بعد نسبت به خط افق قرینه شده است و بعد با شکل دوم که آن هم نسبت به خط افق قرینه شده جمع شده است
با اعمال این تغییرات به شکل پایین؛ گزینه ۳ به دست می آید.

کاربران گرامی لطفاً دقت فرمایید، این فایل تنها بخشی از محصول ویژه نمونه سوالات استخدامی فراگیر دستگاه های اجرایی می باشد که به صورت رایگان و برای آشنایی شما عزیزان از کیفیت و محتوای فایل معرفی شده ارائه شده است، لطفاً جهت خرید و دانلود کامل این محصول، روی لینک زیر کلیک فرمایید.

لینک دانلود و خرید بسته کامل