



سوالات عمومی رشته مهندسی شیمی آزمون استخدامی شرکت توسعه پلیمر پادجم سال ۹۷




سرویس خصوصی خدمات عام المنفعه اخبار شغل و استخدام

[Www.IranEstekhdam.Ir](http://www.IranEstekhdam.Ir)

خواننده گرامی؛ در جهت بهبود کیفیت این فایل؛ لطفاً هرگونه انتقاد و پیشنهاد خود در مورد مطالب آن

و یا گزارش مشکل را به آدرس ایمیل و یا با شماره تلفن زیر مطرح نمایید:

آدرس ایمیل: soal@iranestekhdam.ir 

شماره تلفن تماس: ۰۴۱-۴۲۲۷۳۶۷۳ 

توجه

هرگونه حذف آرم یا لوگوی سایت ایران استخدام و یا اضافه کردن آرم؛ نوشته و محتوای دیگر از نظر
سایت ایران استخدام غیر مجاز می باشد.

[Www.IranEstekhdam.Ir](http://www.IranEstekhdam.Ir)



«توجه مهم»

جهت تهیه کتابهای آموزشی و دانلود سایر نمونه سوالات استخدامی به همراه پاسخنامه
به آدرس زیر مراجعه بفرمایید:

اینجا کلیک نمایید

۶۱- در عبارت «پس به سحر و مسادره از وی بازستانی و در خزینه نهی، درویش و رعیت را چه سود دارد؟» کدام کلمه نادرست است؟
 (۱) رعیت (۲) خزینه (۳) سحر (۴) مسادره

۶۲- املائی کدام کلمه با توجه به معنی (لفزش و خطا) درست است؟
 (۱) ذلت (۲) زلت (۳) ضلت (۴) نذلت

۶۳- کتاب «فیہ مافیہ» اثر کیست؟

(۱) شمس‌الدین تبریزی (۲) بهاء‌الدین ولد (۳) حسام‌الدین چلبی (۴) جلال‌الدین محمد بلخی

۶۴- در عبارت «او مثل این که فترش در رفته باشد دست دراز کرد...» چه آرایه‌ای به کار رفته است؟

(۱) استعاره (۲) حسن آمیزی (۳) کنایه (۴) ایهام

۶۵- مفهوم بیت: «بی‌کمالی‌های انسان از سخن پیدا شود / پسته بی‌مغز چون لب واکند رسوا شود» در کدام گزینه آمده است؟

(۱) پرگویی، دلیل نادانی است. (۲) رفتار نیک، ناشی از گفتار نیک است. (۳) گفتار هر شخص، معرف شخصیت و خرد اوست. (۴) نانوایی‌های جسمانی، سبب نقص در گفتار است.

۶۶- توصیه شاعر، در بیت «برو طواف دلی کن که کعبه مخفی است / که آن خلیل بنا کرد این خدا خود ساخت» چیست؟

(۱) رازداری (۲) مهربانی و دوستی (۳) زیارت خانه خدا (۴) پنهان نگه داشتن احسان

۶۷- در بیت «تستهم در انتظار این غبار بی‌سوار / درین کز شبی چنین سبیده سر نمی‌زند» «در انتظار این غبار بی‌سوار» کنایه از چیست؟

(۱) انتظار بیهوده و واهی کشیدن (۲) انتظار بی‌اعتبار و ناشناخته را دنبال کردن (۳) انتظار تاریکی و ستمگری را کشیدن (۴) منتظر یک حادثه پنهانی بودن

۶۸- «برآهیختن» در بیت «برآهیخت رهام گرز گران / غمی شد ز بیکار دست سران» یعنی ...

(۱) بیرون کشیدن (۲) آه کشیدن (۳) آهسته حرکت کردن (۴) به دست گرفتن

۶۹- مفهوم بیت «لعل را گر مهر نبود پاک نیست / عشق را دریای غم، غمناک نیست» در کدام گزینه آمده است؟

(۱) آدمی ثروت مادی نداشته باشد، ایرادی ندارد و عشق نیز از دیگران هراسی ندارد. (۲) لعل اگر نقش مهر نداشته باشد، اهمیتی ندارد و عاشق راستین به خاطر مادیات غصه نمی‌خورد. (۳) لعل به ذات خود ارزشمند است و نیازی به نقش مهر ندارد و عشق نیز از همراهی با دریای غم، هراسی ندارد. (۴) هر وقتی، می‌توان بر روی لعل، نقش و نگار کشید و هر زمانی می‌توان عاشق را از غم و اندوه نجات بخشید.

۷۰- بیت «من از بالانشینی خس دیوار دانستم / که ناکس کس نمی‌گردد از این بالانشینی‌ها» با کدام بیت ارتباط معنایی دارد؟

(۱) پروانه نیستم که به یک شعله جان دهم / شممم که جان گذارم و دودی نیآورم
 (۲) دود اگر بالا نشیند کسر شأن شعله نیست / جای چشم ابرو نگیرد، گر چه او بالاتر است
 (۳) دردت چه درد بود که چون من تمام شب / سر را به سنگ می‌زدی و می‌گریستی
 (۴) سعدی از سرزنش غیر ترسد هیعات / غرقه در نیل چه اندیشه کند باران را

۷۱- بیت «چه مانی بهر مرداری چو زانغان اندرین پستی؟ / قفس بشکن چو طاووسان، یکی بر بر این بالا» با کدام بیت تناسب معنایی دارد؟

(۱) دلا تا کی در این زندان، فریب این و آن بینی؟ / یکی زین چاه ظلمانی برون شو، تا جهان بینی
 (۲) جهانی، کاندرو هر دل که یابی، پادشا یابی / جهانی کاندرو هر جان که بینی، شادمان بینی
 (۳) نه بر اوج هوا او را عقابی دل‌شکر یابی / نه اندر قعر بحر، او را نهنگی جان‌ستان بینی
 (۴) اگر در باغ عشق آبی همه فراش دل بینی / وگر در راه دین آبی همه نقاش جان بینی

۷۲- کدام گزینه با بیت «کم گوی و گزیده گوی چون در / تا زانک تو جهان شود بر» تناسب معنایی ندارد؟

(۱) یک دسته گل دماغ پرور / از خرمن صد گیاه بهتر (۲) کم آواز هرگز نبینی خجل / جوی مشک بهتر که یک توده گل
 (۳) صدفوار گوهرشناسان راز / دهان جز به لؤلؤ نکردند باز (۴) سخن گفته دگر باز نیاید به دهن / اول اندیشه کند مرد که عاقل باشد

۷۳- مضمون و مفهوم کدام بیت با ایات دیگر متفاوت است؟

- (۱) یک کرشمه کرد با خود، آن چنانک / فتهای در پیر و در برنا نهاد
- (۲) شور و غوغایی برآمد از جهان / حسن او چون دست در یغما نهاد
- (۳) از خمستان جرعه‌ای بر خاک ریخت / جنبشی در آدم و حوا نهاد
- (۴) برجهد و زود در سجده فتاد / در زمان شد، تیغ قهر از کف نهاد

۷۴- مفهوم بیت «در سخن مخفی شدم مانند بو در برگ گل / هر که خواهد دیدنم گو در سخن بیند مرا» با کدام بیت نزدیک‌تر است؟

- (۱) بی‌کمالی‌های انسان از سخن پیدا شود / پسته بی‌منز چون لب وا کند رسوا شود
- (۲) رنگین‌سخنان در سخن خویش نهان‌اند / از نکبت خود نیست به هر حال جدا گل
- (۳) سخن را سر است ای خردمند و بن / میاور سخن در میان سخن
- (۴) سخن کاو از سر اندیشه ناید / نوشتن را و گفتن را نشاید

۷۵- مفهوم بیت «آن چه ما کردیم با خود هیچ نابینا نکرد / در میان خانه گم کردیم صاحب‌خانه را» با کدام گزینه ارتباط ندارد؟

- (۱) آن که ما سرگشته اویم در دل بوده است / دوری ما لاجرم از قرب منزل بوده است
- (۲) سال‌ها دل طلب جام جم از ما می‌کرد / آن چه خود داشت ز بیگانه تمنا می‌کرد
- (۳) کس ندانست که منزلکه معشوق کجاست / این قدر هست که بانگ جرسی می‌آید
- (۴) ما عبث در سینه دریا نفس را سوختیم / گوهر مقسود در دامان ساحل بوده است

۷۶- خواربارفروشی از برنج‌هایش، یک بار یکسوم و بار دیگر یکدوم باقیمانده را فروخت. حال اگر ۳۰ کیلوگرم برنج داشته باشد، قبل از فروش چند کیلو داشته است؟

- (۱) ۱۲۰
- (۲) ۹۰
- (۳) ۷۵
- (۴) ۱۰۵

۷۷- به جای علامت ؟ چه عددی باید نوشت؟

$$2\frac{1}{3}, 5\frac{1}{6}, 10\frac{1}{11}, 17\frac{1}{18}, ?$$

- (۱) $22\frac{1}{25}$
- (۲) $26\frac{1}{27}$
- (۳) $19\frac{1}{20}$
- (۴) $22\frac{1}{22}$

۷۸- یک توده برف که در یک سرایشی می‌غلند، چنین به نظر می‌رسد که پس از طی هر ۱۲ متر حجمش $\frac{1}{5}$ برابر می‌شود. اگر پس از طی ۶۰ متر حجم توده برف تقریباً $5\frac{1}{16}$ متر مکعب باشد، حجم آن در ابتدای سرایشی چند متر مکعب بوده است؟

- (۱) ۱
- (۲) $1\frac{1}{8}$
- (۳) $\frac{2}{3}$
- (۴) $\frac{2}{3}$

۷۹- در روی مکعبی مانند شکل زیر، موجه‌ای طوری از نقطه A به B می‌رود که کوتاه‌ترین مسافت را بینماید. اگر ضلع مکعب را ۱۰ سانتی‌متر فرض کنیم، مورچه چند سانتی‌متر پیموده است؟



- (۱) تقریباً ۲۴
- (۲) ۳۰
- (۳) ۲۰
- (۴) تقریباً ۲۲

۸۰- یحیی، ناهید، جمشید و نوشین دور یک میز نشسته‌اند. جمشید پهلوی نوشین نشسته است. ناهید پهلوی جمشید نشسته است. در این صورت مقابل جمشید چه کسی نشسته است؟

- (۱) یحیی
- (۲) جمشید
- (۳) ناهید
- (۴) نوشین

۸۱- دو ماه مصنوعی دور زمین می‌چرخند. اولی در هر ۹۰ دقیقه یک بار و دومی در هر ۱۲۰ دقیقه یک بار زمین را دور می‌زنند. اگر این دو ماه و مرکز زمین در یک امتداد باشند، بعد از چند دقیقه دوباره به همین وضع خواهند بود؟

- (۱) ۱۲۰
- (۲) ۱۸۰
- (۳) ۲۷۰
- (۴) ۳۶۰

۸۲- میانگین نمره ۱۴ درس دانش‌آموزی ۱۵/۵ است. اگر یک نمره او ۲۰ و نمره دیگرش ۱۷ باشد، میانگین ۱۲ درس دیگر او چند است؟


- ۱۵/۵ (۱) ۱۵ (۲) ۱۵/۷ (۳) ۱۴/۹ (۴)

۸۳- در عددهای ۳۳، ۲۹، ۱۳، ۱۱، ۹، ۷ چند عدد اول وجود دارد؟

- هیچ (۱) ۴ (۲) ۵ (۳) ۳ (۴)

۸۴- در شکل زیر، اندازه هر یک از مکعب‌ها ۵/۵ سانتی‌متر است. هر یک از وجه‌های مکعب بزرگ به یکی از رنگ‌های قرمز، آبی، سبز، زرد، نارنجی و بنفش، رنگ شده است. چند مکعب کوچک وجود دارد که سه وجه آن رنگ شده است؟

- ۱۶ (۱)
۶ (۲)
۸ (۳)
۴ (۴)



(۴) هیچکدام

۸۵- در سوال ۸۴، چند مکعب کوچک وجود دارد که فقط یک وجه آن رنگ شده باشد؟

- ۳۶ (۱) ۵۳ (۲) ۲۸ (۳) ۲۱ (۴)

۸۶- در رشته عددهای (۱۳، ?)، (۱۶، ۱۹)، (۱۷، ۱۸)، یک نظم خاص وجود دارد. آن را یافته و سپس به جای علامت سؤال، جواب درست را انتخاب کنید.

- ۲۱ (۱) ۲۵ (۲) ۲۳ (۳) ۲۰ (۴)

۸۷- یک قطعه چوب، مکعب‌شکل $\frac{3}{16} \times \frac{3}{5} \times \frac{2}{4}$ کیلوگرم وزن دارد. قطعه دیگری از همین چوب که هر بعدش $\frac{2}{3}$ این قطعه باشد، چند گرم وزن دارد؟

- ۲۲۵ (۱) ۲۵۰ (۲) ۳۷۵ (۳) ۴۵۰ (۴)

۸۸- داستان‌نویس به داستان کوتاه، مثل

- (۱) معلم است به شاگرد (۲) خیاط است به دوختن (۳) نجار است به کابینت (۴) پزشک است به مداوا

۸۹- تعدادی سکه‌های ۱۰ ریالی بین چند نفر به ترتیبی که در ادامه می‌آید، تقسیم شده است. نفر اول یک سکه، نفر دو سه سکه، نفر سوم پنج سکه و به همین ترتیب تا نفر آخر. اگر سکه‌ها بین گیرندگان به طور مساوی تقسیم می‌شد، به هر نفر ۵۰ ریال می‌رسید. تعداد نفرات کدام است؟

- ۵ (۱) ۴ (۲) ۲۰ (۳) ۱۵ (۴)

۹۰- بعضی از ساکنان این کوی، ایرانی هستند احمد ساکن این کوی است. احمد ایرانی است. اگر جمله سوم نتیجه‌گیری از جمله‌های اول و دوم باشد، این نتیجه‌گیری

- (۱) منطقی است. (۲) بدیهی است. (۳) نادرست است. (۴) ممکن است درست باشد.

۹۱- لیست آخرین استادی را که مشاهده کرده‌ایم، در کجا قرار می‌گیرد؟

- (۱) My Document (۲) My Network Places (۳) My Recent Documents (۴) Favorites

۹۲- سیستم عامل چیست؟

- (۱) نرم‌افزاری است برای ایجاد نرم‌افزارهای کاربردی جهت به کارگیری سخت‌افزار کامپیوتر
(۲) نرم‌افزاری است برای انجام امور اداری
(۳) نرم‌افزاری است برای استفاده از اینترنت
(۴) نرم‌افزاری است که مدیریت تمام منابع سخت‌افزاری و نرم‌افزاری سیستم را بر عهده دارد

۹۳- کدام گزینه در ویندوز، سیستم اعلان DOS را راهاندازی می‌کند؟

- Calculator (۴) Start (۳) Run as (۲) CMD (۱)

۹۴- جهت ارسال نامه دریافتی به شخصی غیر از فرستنده، از چه گزینه‌ای استفاده می‌کنیم؟

- Reply (۱) Reply All (۲) Forward (۳) Answer (۴)

۹۵- صفحه‌ای که در هنگام اجرای Internet Explorer به طور اتوماتیک نمایش داده می‌شود، چه نامیده می‌شود؟

- Homepage (۱) Startup page (۲) Last page (۳) Final page (۴)

۹۶- فایل‌های محیط word ۲۰۱۶ با چه پسوندی ذخیره می‌شوند؟

- doc (۱) dot (۲) docx (۳) dotx (۴)

۹۷- کدام گزینه در Page Layout کاغذ را بصورت عمودی تنظیم می‌کند؟

- Page Setup (۱) Portrait (۲) Landscape (۳) Layout (۴)

۹۸- برای کپی قالب‌بندی یک متن کدام گزینه را انتخاب می‌کنند؟

- Copy (۱) Paste (۲) Cut (۳) Format painter (۴)

۹۹- دابل کلیک روی نوار عنوان یا Title bar چه عملی را انجام می‌دهد؟

- Minimize و Maximize (۱) Restore و Maximize (۲) Close و Maximize (۳) Restore و Minimize (۴)

۱۰۰- کدام نما برای مرتب کردن اسلایدها استفاده می‌شود؟

- Slide Show (۱) Slide Sorter (۲) Normal (۳) Slide Show (۴)

۱۰۱- کدامیک از مسیرهای زیر به یک شکل یا جدول حرکت می‌دهد؟

- سر برگ Insert گروه Animations (۱) سر برگ Animations گروه Animations (۲) سر برگ Animations گروه Animations (۳) سر برگ Animations گروه Animations (۴)

۱۰۲- کدامیک از گزینه‌های موجود در زبانه Number از کادر محاوره Format cells امکان اضافه کردن % (درصد) را به اعداد می‌دهد؟

- Currency (۱) Percentage (۲) Special (۳) Number (۴)

۱۰۳- اگر مقادیر D_1 تا D^* به ترتیب ۸، ۱۴، ۱۶، ۱۰، ۱۸ و ۴ باشند، تابع $\min(D_1 : D_5) =$ چه عددی را برمی‌گرداند؟

- ۴ (۱) ۸ (۲) ۱۸ (۳) ۱۰ (۴)

۱۰۴- کدام گزینه برای کپی کردن فرمت خانه‌های انتخاب شده در خانه‌های دیگر به کار می‌رود؟

- Paste (۱) Cut (۲) Format Painter (۳) Copy (۴)

۱۰۵- نام فایل اکسل به طور پیش فرض چیست؟

- Book^۱ (۱) Doc^۱ (۲) Sheet^۱ (۳) Data^۱ (۴)

۱۰۶- We will leave we are ready.
 ۱) as ۲) since ۳) because ۴) when

۱۰۷- It is impossible a poem.
 ۱) that he memorizing ۲) that his memorizing ۳) for him to memorize ۴) for him memorizing

۱۰۸- The Godfather is a movie very popular for a long time.
 ۱) has been ۲) which been ۳) which has been ۴) which

۱۰۹- These shoes are small that I can't wear them.
 ۱) so ۲) too ۳) very ۴) such

۱۱۰- It turned out that one of the children I thought was a girl was a boy.
 ۱) efficiently ۲) actually ۳) personally ۴) similarly

- ۱۱۱- Her parents were quite that she could make the right choices for herself.
 ۱) confident ۲) anxious ۳) nervous ۴) available
- ۱۱۲- John is about the result of his blood test.
 ۱) willing ۲) superior ۳) anxious ۴) destructive
- ۱۱۳- Art books are expensive to produce, especially if they colorful pictures.
 ۱) consist ۲) contain ۳) survive ۴) shake
- ۱۱۴- Keeping classroom is the first task of every teacher.
 ۱) income ۲) issue ۳) poverty ۴) discipline
- ۱۱۵- We are the possibility of providing a new class for advanced students.
 ۱) discovering ۲) considering ۳) observing ۴) surviving

Close Test:

Try ... (۱۱۶) ... make your oral report too long include only the most important points. Work hard on your introduction and conclusion. These are what your ... (۱۱۷) ... will remember most.

The most important thing is to practice. read your report out loud. if it is long, ... (۱۱۸) ... it carefully to realize how to make it shorter. Try changing the tone of your voice and the speed of your speaking. next, read it to a small group of friends. ask them to ... (۱۱۹) ... what they think you can do to make it better.

If you want to be successful, these are the steps you need to take whether you like it ... (۱۲۰) ...

- ۱۱۶- ۱) you not ۲) to not ۳) not to
- ۱۱۷- ۱) do not ۲) issues ۳) sample ۴) realities
- ۱۱۸- ۱) audience ۲) predict ۳) examine ۴) magnify
- ۱۱۹- ۱) release ۲) suggest ۳) enhance ۴) concentrate
- ۱۲۰- ۱) bother ۲) or not ۳) does not
- ۱) or you not ۲) not



«توجه مهم»

جهت تهیه کتابهای آموزشی و دانلود سایر نمونه سوالات استخدامی به همراه پاسخنامه
به آدرس زیر مراجعه بفرمایید:

اینجا کلیک نمایید




ایران استخدا م
سرویس خصوصی خدمات عام المنفعه اخبار شغل و استخدام

[Www.IranEstekhdam.Ir](http://www.IranEstekhdam.Ir)

خواننده گرامی؛ در جهت بهبود کیفیت این فایل؛ لطفاً هرگونه انتقاد و پیشنهاد خود در مورد مطالب آن

و یا گزارش مشکل را به آدرس ایمیل و یا با شماره تلفن زیر مطرح نمایید:

آدرس ایمیل: soal@iranestekhdam.ir 

شماره تلفن تماس: ۰۴۱-۴۲۲۷۳۶۷۳ 

توجه

هرگونه حذف آرم یا لوگوی سایت ایران استخدام و یا اضافه کردن آرم؛ نوشته و محتوای دیگر از نظر سایت ایران استخدام غیر مجاز می باشد.