

## بخشی از محصول:

بسته اصل سوالات عمومی و تخصصی آزمون های استخدامی سازمان آتش نشانی و شهرداری های کشور  
و سوالات ۷ درس عمومی آزمون های استخدامی به همراه پاسخنامه



# ایران استخدام

سرویس خصوصی خدمات عام المنفعه اخبار شغل و استخدام

[Www.IranEstekhdam.Ir](http://www.IranEstekhdam.Ir)

### ! اخطار مهم!

این فایل بخشی از نمونه سوالات اختصاصی و ثبت شده سایت ایران استخدام (شرکت آلتین سیستم) بوده و قوانین مربوط به حوزه حمایت از حقوق مؤلفین و ناشرین جمهوری اسلامی ایران بر آن حاکم می باشد.  
هرگونه سوء استفاده از این فایل همانند استفاده از محتوا در تهیه کتب و یا قرار دادن تمام یا بخشی از آن در وب سایت های دیگر، چه برای فروش و چه به صورت رایگان شرعاً حرام و قانوناً خلاف مقررات و قوانین کشورمان می باشد.  
با توجه به هزینه های صرف شده و تلاش صورت گرفته برای تهیه این بسته، در صورت مشاهده یا گزارش هرگونه کپی برداری از آن؛ بدون هیچ گونه تماس قبلی وهشدار اقدام به پیگیری حقوقی خواهیم نمود.

کاربران گرامی لطفا دقت فرمایید، این فایل تنها بخشی از محصول ویژه بسته اصل سوالات عمومی و تخصصی آزمون های استخدامی سازمان آتش نشانی و شهرداری های کشور و سوالات ۷ درس عمومی آزمون های استخدامی به همراه پاسخنامه میباشد که به صورت رایگان و برای آشنایی شما عزیزان از کیفیت و محتوای فایل معرفی شده ارائه شده است، لطفاً جهت خرید و دانلود کامل این محصول، روی لینک زیر کلیک فرمایید.

**لینک دانلود و خرید بسته کامل**



**بخش اول:**

---

**اصول مدیریت بحران**

## آزمون استخدامی سازمان شهرداری ها و دهیاری های کشور در سال ۹۴

۱- اقدامات مربوط به نیروی انسانی قبل از ورود به صحنه بحران، کدام است؟ ([Www.iranestekhdam.ir](http://www.iranestekhdam.ir))

- ۱) سازماندهی، نظم و انضباط، روحیه و رفاه، آموزش
- ۲) سازماندهی، پشتیبانی، روحیه، آموزش، عملیات
- ۳) سازماندهی، استعداد نیروی انسانی، روحیه و رفاه، بهداری
- ۴) سازماندهی، اقدامات آموزشی، آمادگی روحی و روانی، تجهیزات مناسب

## آزمون استخدامی سازمان شهرداری ها و دهیاری های کشور در سال ۹۲

۲- حوادث و سوانح صنعتی کدامند؟ ([Www.iranestekhdam.ir](http://www.iranestekhdam.ir))

- ۱) سوانحی که پس از انجام کلیه تمهیدات ایمنی در صنایع واقع می شوند.
- ۲) حوادثی که در اثر بی نظمی غیرعادی یا رفتار طبیعی عناصر اصلی زمین، هوا، آتش و آب به وجود می آیند.
- ۳) سوانحی که در اثر یک عامل طبیعی و بدون دخالت انسان در تأسیسات و اماکن انسان ساخت واقع می شوند.
- ۴) حوادثی که در اثر محاسبه اشتباه، غفلت و بی توجهی افراد جامعه در اماکن و صنایع یا در محیط زیست روی می دهند.

## آزمون استخدامی سازمان شهرداری ها و دهیاری های کشور در سال ۹۱

۳- انتخاب روش دسترسی به مصدومین سوانح در عملیات جستجو، باید دارای کدام ویژگی ها باشد؟

([Www.iranestekhdam.ir](http://www.iranestekhdam.ir))

- ۱) سریع ترین روش - ایمن ترین مسیر - کوتاه ترین مسافت
- ۲) آسان ترین روش - سریع ترین عملیات - حداقل نیروی انسانی
- ۳) سرعت در دستیابی - تثبیت وضعیت مصدوم - انتقال به بیمارستان
- ۴) رهاسازی - زنده نگهداشتن مصدوم - تقویت توان روحی - روانی

## آزمون استخدامی سازمان شهرداری ها و دهیاری های کشور در سال ۹۰

۴- مراحل مدیریت سوانح، به چه ترتیب و توأم با کدام اقدامات است؟ ([Www.iranestekhdam.ir](http://www.iranestekhdam.ir))

- ۱) قبل از حادثه (پیش بینی و پیشگیری و آمادگی)؛ هنگام حادثه (مقابله و امداد رسانی)؛ پس از حادثه (بازسازی و ترمیم خرابی ها)
- ۲) مقابله (امداد رسانی و کنترل حادثه)؛ بازسازی (ترمیم خرابی ها)؛ آمادگی (جهت کنترل حوادث مجدد)
- ۳) شناسایی (تعیین و ارزیابی خطرات)؛ بازیابی (برآورد پیامدها)؛ بازتوالی (بازسازی و بهبود)
- ۴) ارزیابی (برآورد خطرات)؛ بازنگری (تعیین خسارات)؛ بازتوانی (بازسازی و استقرار مجدد)

کاربران گرامی لطفا دقت فرمایید، این فایل تنها بخشی از محصول ویژه بسته اصل سوالات عمومی و تخصصی آزمون های استخدامی سازمان آتش نشانی و شهرداری های کشور و سوالات ۷ درس عمومی آزمون های استخدامی به همراه پاسخنامه میباشد که به صورت رایگان و برای آشنایی شما عزیزان از کیفیت و محتوای فایل معرفی شده ارائه شده است، لطفاً جهت خرید و دانلود کامل این محصول، روی لینک زیر کلیک فرمایید.

**لینک دانلود و خرید بسته کامل**



**بخش دوم:**

**ایمنی و بهداشت حرفه ای**

## آزمون استخدامی سازمان شهرداری ها و دهیاری های کشور در سال ۹۴

۱- در مدیریت ایمنی، ترتیب انجام امور کدام است؟ ([Www.iranestekhdam.ir](http://www.iranestekhdam.ir))

- (۱) برنامه ریزی، هدایت، کنترل عملکرد، سازماندهی
- (۲) برنامه ریزی، سازماندهی، هدایت، کنترل عملکرد و نتایج
- (۳) کنترل عملکرد، برنامه ریزی، سازماندهی، هدایت
- (۴) کنترل عملکرد، سازماندهی، برنامه ریزی، هدایت

## آزمون استخدامی سازمان شهرداری ها و دهیاری های کشور در سال ۹۲

۲- شدت بروز مسمومیت های شغلی، به کدام عوامل بستگی دارد؟ ([Www.iranestekhdam.ir](http://www.iranestekhdam.ir))

- (۱) راه ورود ماده سمی به بدن
- (۲) مقدار جذب، مدت تماس و نوع ماده سمی
- (۳) نوع کار و فعالیت و حیطه شناخت افراد
- (۴) خصوصیات فردی و میزان حساسیت کارگران به ماده سمی

## آزمون استخدامی سازمان شهرداری ها و دهیاری های کشور در سال ۹۱

۳- هر یک از عوامل زیان آور دود، قارچ، فشار کاری و ارتعاش، به ترتیب مربوط به کدام مورد است؟ ([Www.iranestekhdam.ir](http://www.iranestekhdam.ir))

- (۱) بیولوژیک، شیمیایی، ارگونومیک، فیزیکی
- (۲) بیولوژیک، شیمیایی، ارگونومیک، روانی
- (۳) ارگونومیک، بیولوژیک، فیزیکی، روانی
- (۴) شیمیایی، بیولوژیک، روانی، فیزیکی

## آزمون استخدامی سازمان شهرداری ها و دهیاری های کشور در سال ۹۰

۴- چشم شوی ها و دوش ها چه کاربردی در بهداشت حرفه ای دارند؟ ([Www.iranestekhdam.ir](http://www.iranestekhdam.ir))

- (۱) کاربرد پزشکی داشته و در واحدهای درمانی و بهداشتی صنایع کاربرد دارند.
- (۲) در مواقع شروع به کار و خاتمه کار در مراکز صنعتی، مورد استفاده کارکنان قرار می گیرد.
- (۳) در بیمارستان ها یا اماکن نگهداری معلولین دارای محدودیت های حرکات دست استفاده می گردد.
- (۴) جهت رفع آلودگی سریع چشم ها و اندام های کارگران از مواد شیمیایی خطرناک مورد استفاده قرار می گیرند.

کاربران گرامی لطفا دقت فرمایید، این فایل تنها بخشی از محصول ویژه بسته اصل سوالات عمومی و تخصصی آزمون های استخدامی سازمان آتش نشانی و شهرداری های کشور و سوالات ۷ درس عمومی آزمون های استخدامی به همراه پاسخنامه میباشد که به صورت رایگان و برای آشنایی شما عزیزان از کیفیت و محتوای فایل معرفی شده ارائه شده است، لطفاً جهت خرید و دانلود کامل این محصول، روی لینک زیر کلیک فرمایید.

**لینک دانلود و خرید بسته کامل**





بخش سوم:

شیمی حریق

### آزمون استخدامی سازمان شهرداری ها و دهیاری های کشور در سال ۹۴

۱- دمایی که یک سوخت باید به آن برسد تا گازهای حاصل از آن در مجاورت یک منبع آفرزش مشتعل شوند ..... و دمایی که سوخت باید به آن برسد تا بخارات حاصل از آن به طور پایدار به سوختن ادامه دهند ..... نامیده می شود.

([www.iranestekhdam.ir](http://www.iranestekhdam.ir))

- (۱) نقطه آتش- نقطه اشتعال  
 (۲) نقطه اشتعال- نقطه آتش  
 (۳) نقطه حریق- واکنش شیمیایی  
 (۴) نقطه هدایت- نقطه همرفت

### آزمون استخدامی سازمان شهرداری ها و دهیاری های کشور در سال ۹۲

۲- کدام یک از دسته مواد زیر، از محصولات خطرناک آتش سوزی ها به شمار می روند؟ ([www.iranestekhdam.ir](http://www.iranestekhdam.ir))

- (۱)  $H_2S$  و  $NO_2$  و  $HCN$   
 (۲)  $CH_4$  و  $O_2$  و  $C_2H_6$   
 (۳)  $NH_3$  و  $CL_2$  و  $CO_2$   
 (۴)  $NaOH$  و  $SO_2$  و  $NH_3$

### آزمون استخدامی سازمان شهرداری ها و دهیاری های کشور در سال ۹۱

۳- کدام یک از علائم زیر، مربوط به مواد اکسید کننده است؟ ([www.iranestekhdam.ir](http://www.iranestekhdam.ir))



(۲)



(۱)



(۴)



(۳)

### آزمون استخدامی سازمان شهرداری ها و دهیاری های کشور در سال ۹۰


۴- لوزی های شناسایی خطر زیر، به ترتیب مربوط به کدام مواد است؟ ([www.iranestekhdam.ir](http://www.iranestekhdam.ir))



- (۱) اکسیژن - کلرو فوم - آمونیاک - کلسیم  
 (۲) سدیم - اکسیژن - پتاسیم - گوگرد  
 (۳) گوگرد - هیدروژن - سدیم - مس  
 (۴) هیدروژن - کلر - نیترات آمونیوم - سدیم

کاربران گرامی لطفا دقت فرمایید، این فایل تنها بخشی از محصول ویژه بسته اصل سوالات عمومی و تخصصی آزمون های استخدامی سازمان آتش نشانی و شهرداری های کشور و سوالات ۷ درس عمومی آزمون های استخدامی به همراه پاسخنامه میباشد که به صورت رایگان و برای آشنایی شما عزیزان از کیفیت و محتوای فایل معرفی شده ارائه شده است، لطفاً جهت خرید و دانلود کامل این محصول، روی لینک زیر کلیک فرمایید.

**لینک دانلود و خرید بسته کامل**



بخش چهارم:

---

فناوری اطلاعات و مهارت های هفتگانه *I.C.D.L*

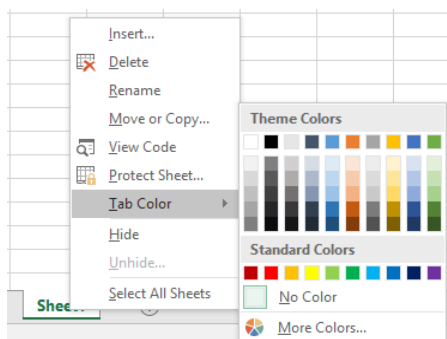
۱- کدام مورد در خصوص درستی یا نادرستی گزاره های زیر در نرم افزار Excel، به ترتیب، صحیح است؟  
(www.iranestekhdam.ir)

- برای سربرگ کاربرد ها (Worksheet Tabs)، می توان رنگ های دلخواه تعیین کرد.  
- می توان تصویری را به عنوان زمینه یک کاربرد انتخاب کرد.

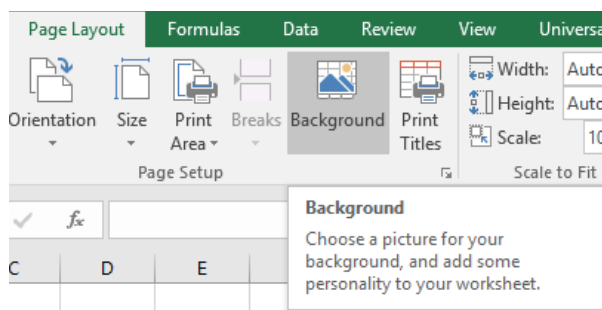
(۱) درست - نادرست (۲) نادرست - درست (۳) نادرست - نادرست (۴) درست - درست

پاسخ کارشناس ایران استخدام: گزینه ۴

امکان تعیین رنگ برای سربرگ کاربرد ها در نرم افزار Excel با کلیک راست بر روی عنوان سربرگ و انتخاب رنگ ها از طریق قسمت tab color وجود دارد.



در نرم افزار اکسل ۲۰۱۶ پس از انتخاب کاربرگی که می خواهیم برای آن تصویر پس زمینه انتخاب کنیم، با ابزار پس زمینه (Background) که در گروه تنظیمات صفحه (Page Setup) از سربرگ طرح بندی صفحات (Page Layout) قرار دارد و سپس باز شدن کادر های محاوره ای درج کردن عکس (Insert Picture) و پس زمینه کاربرد (Sheet Background) می توانیم برای یک کاربرد تصویر پس زمینه انتخاب نماییم.



۲- در نرم افزار Excel، فرض کنید در فرمول خود، از مقدار سلول C5 استفاده کرده اید. این فرمول را به صورت ستونی در سلول های مجاور کپی می کنید. اگر بخواهید در فرمول های بعدی، C ثابت و فقط ۵ افزایش پیدا کند، کدام مورد را در فرمول خود استفاده می کنید؟ (www.iranestekhdam.ir)

(۱) C!5 (۲) C\$5 (۳) !C5 (۴) \$C5

پاسخ کارشناس سایت ایران استخدام: گزینه ۴

در نرم افزار Excel دو نوع آدرس دهی وجود دارند که عبارتند از: آدرس دهی نسبی و آدرس دهی مطلق. چنانکه بخواهیم در نرم افزار Excel در فرمول بکار برده شده، آدرس دهی از نوع مطلق باشد که با کپی کردن در خانه های مجاور مقدار آن پرامتر تغییر نکند با درج عبارت "\$" قبل از عنوان سطر یا ستونی که می خواهیم مقدار آن در هنگام کپی کردن تغییر نکند، این کار انجام می شود. حال با توجه به این سوال که خواسته مقادیر ستون C تغییر نکند و تنها مقادیر اعداد سطرها کند، باید علامت ذکر شده رو قبل از نام ستون بکار برد یعنی به صورت: "\$C5"

کاربران گرامی لطفا دقت فرمایید، این فایل تنها بخشی از محصول ویژه بسته اصل سوالات عمومی و تخصصی آزمون های استخدامی سازمان آتش نشانی و شهرداری های کشور و سوالات ۷ درس عمومی آزمون های استخدامی به همراه پاسخنامه میباشد که به صورت رایگان و برای آشنایی شما عزیزان از کیفیت و محتوای فایل معرفی شده ارائه شده است، لطفاً جهت خرید و دانلود کامل این محصول، روی لینک زیر کلیک فرمایید.

**لینک دانلود و خرید بسته کامل**



**بخش پنجم:**

**ریاضی و آمار مقدماتی**

۱- اگر ۲۰٪ نمره درس آمار هر دانشجو به نمره اولیه او اضافه شود، ضریب تغییرات نمرات جدید، چند برابر ضریب تغییرات نمرات اولیه است؟ (www.iranestekhdam.ir)

- ۱ (۱)      ۲ (۲)      ۳ (۳)      ۴ (۴)

پاسخ کارشناس سایت ایران استخدام: گزینه ۱

در حالت اول نمره دانش آموز را با  $x_1$  و انحراف معیار را با  $\delta_1$  و میانگین را با  $\bar{x}_1$  ضریب تغییرات را با  $C.V_1$  نشان دهیم در حالت دوم و با اضافه شدن ۲۰ درصد به نمره اولیه خواهیم داشت:

(باید به این نکته توجه داشت که اگر همه داد ها در یک مقدار عددی ضرب یا تقسیم شوند، مقدار میانگین و انحراف معیار در حالت جدید هم به هم عدد ضرب یا تقسیم خواهند شد)

$$\begin{cases} x_2 = x_1 + 0.2x_1 = 1.2x_1 \\ \bar{x}_2 = 1.2 \bar{x}_1 \\ \delta_2 = 1.2 \delta_1 \end{cases} \rightarrow C.V_2 = \frac{\delta_2}{\bar{x}_2} = \frac{1.2 \bar{x}_1}{1.2 \delta_1} = \frac{\bar{x}_1}{\delta_1} = C.V_1$$

پس در نتیجه مقدار ضریب تغییرات در حال جدید نسبت به ضریب تغییرات در حالت قبلی تغییری نخواهد داشت.

۲- حاصل عبارت  $\frac{1+t+t^2+\dots+t^8}{1+t^3+t^6}$  به ازای  $t = \frac{\sqrt{5}-1}{2}$  کدام است؟ (www.iranestekhdam.ir)

- ۱ (۲)      ۲ (۳)      ۳ (۴)      ۴ (۵)

پاسخ کارشناس سایت ایران استخدام: گزینه ۴

اگر به صورت سوال توجه کنید به راحتی می فهمید که صورت کسر یک مجموع ۹ جمله اول یک تصاعد هندسی با قدر نسبت  $t$  و مخرج کسر حاصل جمع ۳ جمله اول یک تصاعد هندسی با قدر نسبت  $t^3$  می باشد. با توجه به فرمول حاصل جمع  $n$  جمله از یک تصاعد هندسی داریم:

$$\sum_{k=0}^{n-1} (ar^k) = a \left( \frac{1-r^n}{1-r} \right)$$

که در فرمول بالا:

$a$  اولین جمله است /  $r$  برابر "قدر نسبت" بین جملات است /  $n$  نیز تعداد جملات است.

حال به محاسبه مقادیر صورت و مخرج کسر بصورت مجزا می پردازیم:

$$X = \frac{1+t+t^2+\dots+t^8}{1+t^3+t^6}$$

$$x = \frac{\frac{1-t^9}{1-t}}{\frac{1-t^9}{1-t^3}} = \frac{1-t^3}{1-t} = \frac{(1-t)(1+t+t^2)}{1-t} = 1+t+t^2$$

با جایگذاری مقدار  $t = \frac{\sqrt{5}-1}{2}$  در معادله بالا بدست می آید:

$$x = 1 + \frac{\sqrt{5}-1}{2} + \left( \frac{\sqrt{5}-1}{2} \right)^2 = \frac{2+\sqrt{5}-1}{2} + \frac{5-2\sqrt{5}+1}{4}$$

$$x = \frac{4+2\sqrt{5}-2+5-2\sqrt{5}+1}{4} = \frac{8}{4} = 2$$



کاربران گرامی لطفا دقت فرمایید، این فایل تنها بخشی از محصول ویژه بسته اصل سوالات عمومی و تخصصی آزمون های استخدامی سازمان آتش نشانی و شهرداری های کشور و سوالات ۷ درس عمومی آزمون های استخدامی به همراه پاسخنامه میباشد که به صورت رایگان و برای آشنایی شما عزیزان از کیفیت و محتوای فایل معرفی شده ارائه شده است، لطفاً جهت خرید و دانلود کامل این محصول، روی لینک زیر کلیک فرمایید.

**لینک دانلود و خرید بسته کامل**



**بخش ششم:**

---

## **زبان و ادبیات فارسی و آیین نگارش**

۱- بیت زیر، با کدام بیت قرابت مفهومی دارد؟ (Www.iranestekhdam.ir)

- |                                  |                                 |
|----------------------------------|---------------------------------|
| «فراوان سخن باشد آکنده گوش»      | نصیحت نگیرد مگر در خموش»        |
| (۱) نباید سخن گفت ناساخته        | نشاید بریدن نینداخته            |
| (۲) کمال است در نفس انسان، سخن   | تو خود را به گفتار، ناقص مکن    |
| (۳) چو خواهی که گویی نفس بر نفس  | نخواهی شنیدن مگر گفت کس         |
| (۴) از آن مرد دانا دهان دوخته ست | که بیند که شمع از زبان سوخته ست |

پاسخ کارشناس سایت ایران استخدام : گزینه ۳

بیت صورت سؤال: فراوان سخن: پُر حرف / آکنده گوش بودن: کنایه از حرف شنو نبودن / نگیرد: تأثیر نمی کند. / انسان پرحرف، سخن دیگران را نمی شنود و نصیحت، جز در آنان که خاموش هستند و به گفتار دیگران گوش فرا می دهند، اثر نمی کند.

- گزینه ی ۱: معنی: نباید سخن نسنجیده بر زبان آورد؛ همچنان که هنگام بریدن پارچه، ابتدا باید آن را اندازه گرفت و سپس برید.

- گزینه ی ۲: معنی: قدرت تکلم و سخن گویی یکی از برتری های وجود انسان است، پس تو خود را با سخنان بیهوده، پست و حقیر نکن.

- گزینه ی ۳: معنی: اگر بخواهی تنها خود، پی در پی سخن بگویی، مسلماً نمی توانی سخنان دیگران را بشنوی.

- گزینه ی ۴: معنی: شخص خردمند به این دلیل دهان به سخن نمی گشاید که می بیند زبان شمع سبب سوختنش است.

۲- کدام بیت، فاقد «غلط املایی» است؟ (Www.iranestekhdam.ir)

- |   |                                       |
|---|---------------------------------------|
| (۱) به قدر غیرت همکار گیرد اوج هر کاری    | ز من دارند صائب عندلیبان خوش سفیری را |
| (۲) چون سایه که سر در قدم سرو گزارد       | محو است سراپا به سراپای تو ما را      |
| (۳) بیار باده که عمری است تا من از سر امن | به کنج عافیت از بحر عیش ننشستم        |
| (۴) عشق سازد حسن عالم سوز را در خون دلیر  | ذوالفقار شمع باشد بال و پر پروانه را  |

پاسخ کارشناس ایران استخدام : گزینه ۴

در گزینه اول واژه سفیری درست نیست و شکل صحیح آن بصورت زیر است:

به قدر غیرت همکار گیرد اوج هر کاری ز من دارند صائب عندلیبان خوش سفیری را

در گزینه دوم واژه گزارد درست نیست و شکل صحیح آن بصورت زیر است:

چون سایه که سر در قدم سرو گذارد محو است سراپا به سراپای تو ما را

در گزینه سوم واژه بحر درست نیست و شکل صحیح آن بصورت زیر است:

بیار باده که عمری است تا من از سر امن به کنج عافیت از بهر عیش ننشستم

کاربران گرامی لطفاً دقت فرمایید، این فایل تنها بخشی از محصول ویژه بسته اصل سوالات عمومی و تخصصی آزمون های استخدامی سازمان آتش نشانی و شهرداری های کشور و سوالات ۷ درس عمومی آزمون های استخدامی به همراه پاسخنامه میباشد که به صورت رایگان و برای آشنایی شما عزیزان از کیفیت و محتوای فایل معرفی شده ارائه شده است، لطفاً جهت خرید و دانلود کامل این محصول، روی لینک زیر کلیک فرمایید.

**لینک دانلود و خرید بسته کامل**



**بخش هفتم:**

**معارف اسلامی**

۱- عبارات «خداوند هیچ انسانی را بیش از توان و ظرفیتش مکلف نساخته است» و «جهان بر عدالت استوار است»، به ترتیب، بیانگر کدام یک از اقسام عدل است؟ (Www.iranestekhdam.ir)

(۱) تکوینی - تشریحی (۲) تشریحی - تکوینی (۳) تکوینی - جزایی (۴) تشریحی - جزایی

**پاسخ کارشناس سایت ایران استخدام: گزینه ۲**

عدل تشریحی بدین معناست که تکالیفی که خدا به وسیله پیامبران بر مردم نازل کرده است، بر پایه عدل و دادگری است، یعنی اولاً همه احکام لازم برای سعادت انسان را فرو فرستاده است و ثانیاً هیچ انسانی را بیش از توان و ظرفیتش مکلف نساخته است. عدل تکوینی: معنای عدل در نظام تکوین یا جهان خلقت آن است که خدا در چنین نظامی هر موجودی را به اندازه شایستگی و قابلیت او نعمت داده است و به تعبیری خدا به اندازه ظرفیت و شایستگی هر شیء به او وجود و کمال افاضه کرده است و اجزای جهان در یک هماهنگی دقیق بر اساس قوانین ثابت با هم پیوند دارند به گونه ای که نظم حاکم بر موجودات و کل نظام خلقت گواه روشنی بر چنین عدلی است. در روایات نیز آمده است که جهان بر عدالت استوار شده است که این معنا به عدالت تکوینی اشاره دارد.

۲- از آیه شریفه (ما کُنتَ تَتْلُو مِن قَبْلِهِ مِن كِتَابٍ)، کدام مفهوم دریافت می شود؟ (Www.iranestekhdam.ir)

(۱) تأثیرپذیری قرآن کریم از فرهنگ جاهلی در هر زمان

(۲) جامعیت و همه‌جانبه بودن هدایت ویژه و پاسخ‌گویی آن

(۳) آمادگی جامعه بشری برای دریافت برنامه کلی در عرصه زندگی

(۴) عدم تعارض و ناسازگاری میان آیات قرآن کریم

**پاسخ کارشناس ایران استخدام: گزینه ۲**

با توجه به آیه زیر، خداوند معجزه جاوید خود را توسط پیامبری به دست مردم رساند که نزد هیچکس درس نخوانده بود اگر این کتاب توسط یکی از درس‌خواندگان و دانشمندان جامعه آورده میشد، ممکن بود چه شک و شبهه‌های ایجاد شود؟

« ما کُنتَ تَتْلُو مِن قَبْلِهِ مِن كِتَابٍ...»

و پیش از آن هیچ نوشته‌ای را نمیخواندی و با دست خود، آن را نمی‌نوشتی که در آنصورت، کجروان به شک می‌افتادند. اگر این کتاب توسط یکی از درس‌خواندگان و دانشمندان جامعه آورده میشد، یعنی اگر پیامبر فردی باسواد بود این شائبه پیش می‌آمد که قرآن نوشته اوست و او فقط نویسنده و شاعری بزرگ است. به همین دلیل ایشان قبل از دریافت قرآن درس نخوانده بود و قرآن هم بارها از مشرکان و منکران قرآن دعوت میکند تا سوره‌های مانند سوره‌های قرآن بیاورند.

کاربران گرامی لطفاً دقت فرمایید، این فایل تنها بخشی از محصول ویژه بسته اصل سوالات عمومی و تخصصی آزمون های استخدامی سازمان آتش نشانی و شهرداری های کشور و سوالات ۷ درس عمومی آزمون های استخدامی به همراه پاسخنامه میباشد که به صورت رایگان و برای آشنایی شما عزیزان از کیفیت و محتوای فایل معرفی شده ارائه شده است، لطفاً جهت خرید و دانلود کامل این محصول، روی لینک زیر کلیک فرمایید.

**لینک دانلود و خرید بسته کامل**



**بخش هشتم:**

**زبان انگلیسی – عمومی**



1- They are trying to ..... people of the need for higher taxes. (Www.iranestekhdam.ir)

- |             |           |
|-------------|-----------|
| 1) convince | 2) employ |
| 3) qualify  | 4) allow  |

پاسخ کارشناس سایت ایران استخدام : گزینه ۱

معنی جمله:

آن‌ها در تلاش هستند تا مردم را درباره نیاز به مالیات سنگین ...

- |              |                 |                   |               |
|--------------|-----------------|-------------------|---------------|
| ۱- قانع کردن | ۲- استخدام کردن | ۳- واجد شرایط شدن | ۴- اجازه دادن |
|--------------|-----------------|-------------------|---------------|

آن‌ها در تلاش هستند تا مردم را قانع کنند (Convince) که به مالیات سنگین نیاز دارند.

2- "Would you mind ..... in the nonsmoking section?" the security guard said politely.

(Www.iranestekhdam.ir)

- |                |                 |
|----------------|-----------------|
| 1) don't smoke | 2) not to smoke |
| 3) not smoke   | 4) not smoking  |

پاسخ کارشناس سایت ایران استخدام : گزینه ۴

بعد از ساختار Would you mind چنانچه فعلی باید قرار بگیرد ؛ اگر جمله مثبت باشد فعل دوم به صورت ing دار و چنانچه جمله منفی باشد فعل دوم به صورت ( فرم ing دار فعل + not ) قرار می گیرد.

معنی جمله:

نیروهای امنیتی با احترام گفتند که: «آیا امکان دارد که در قسمت سیگار کشیدن ممنوع؛ سیگار نکشید.»

کاربران گرامی لطفاً دقت فرمایید، این فایل تنها بخشی از محصول ویژه بسته اصل سوالات عمومی و تخصصی آزمون های استخدامی سازمان آتش نشانی و شهرداری های کشور و سوالات ۷ درس عمومی آزمون های استخدامی به همراه پاسخنامه میباشد که به صورت رایگان و برای آشنایی شما عزیزان از کیفیت و محتوای فایل معرفی شده ارائه شده است، لطفاً جهت خرید و دانلود کامل این محصول، روی لینک زیر کلیک فرمایید.

**لینک دانلود و خرید بسته کامل**



**بخش نهم:**

**اطلاعات عمومی ، دانش اجتماعی و قانون اساسی**



۱- اعضای اصلی سازمان همکاری شانگهای، کدام کشورها هستند؟ (www.iranestekhdam.ir)

- ۱) روسیه، چین، قزاقستان، قرقیزستان، ازبکستان، تاجیکستان
- ۲) روسیه، چین، قزاقستان، قرقیزستان، ازبکستان، آذربایجان
- ۳) روسیه، چین، هند، پاکستان، ایران، قزاقستان، قرقیزستان
- ۴) روسیه، چین، هند، ایران، پاکستان، ترکمنستان

**پاسخ کارشناس سایت ایران استخدام: گزینه ۱**

سازمان همکاری شانگهای سازمانی میان دولتی است که برای همکاری های چندجانبه امنیتی، اقتصادی و فرهنگی تشکیل شده است. این سازمان در سال ۲۰۰۱ توسط رهبران چین، روسیه، قزاقستان، قرقیزستان، تاجیکستان و ازبکستان پایه گذاری شد. علاوه بر اعضای اصلی، ابتدا مغولستان در سال ۲۰۰۴ و یک سال بعد ایران، پاکستان، هند و افغانستان در سال ۲۰۱۲ به عنوان عضو ناظر به سازمان ملحق شدند

۲- طبق برنامه پنج ساله ششم توسعه، دولت مکلف شده است گزارش کدام بند از ماده ۴ بخش اقتصادی کلان را در سه ماهه اول هر سال به کمیسیون های برنامه و بودجه و محاسبات و آموزش، تحقیقات و فناوری مجلس شورای اسلامی ارائه کند؟

(www.iranestekhdam.ir)

- ۱) جذب سرمایه خارجی
- ۲) سود تسهیلات و سپرده های بانکی
- ۳) اهداف اقتصادی ساسیت خارجی کشور
- ۴) افزایش مهارت و تخصص نیروی کار

**پاسخ کارشناس سایت ایران استخدام: گزینه ۴**

در بند «ت» ماده ۴ برنامه پنج ساله ششم آمده است:

ت- افزایش مهارت و تخصص نیروی کار به ویژه فارغ التحصیلان دبیرستان ها، هنرستان ها تا مقطع کارشناسی دانشگاهها و مؤسسات آموزش عالی با ارائه آموزشهای مهارتی، تخصصی و فنی و حرفه ای با استفاده از ظرفیت های خدمت زیر پرچم و کارورزی دانشجویان دولت مکلف است در سه ماهه اول هر سال گزارش اجرای این بند را به کمیسیون های برنامه و بودجه و محاسبات و آموزش، تحقیقات و فناوری مجلس شورای اسلامی ارائه نماید

کاربران گرامی لطفاً دقت فرمایید، این فایل تنها بخشی از محصول ویژه بسته اصل سوالات عمومی و تخصصی آزمون های استخدامی سازمان آتش نشانی و شهرداری های کشور و سوالات ۷ درس عمومی آزمون های استخدامی به همراه پاسخنامه میباشد که به صورت رایگان و برای آشنایی شما عزیزان از کیفیت و محتوای فایل معرفی شده ارائه شده است، لطفاً جهت خرید و دانلود کامل این محصول، روی لینک زیر کلیک فرمایید.

**لینک دانلود و خرید بسته کامل**



**بخش دهم:**

---

**هوش و استعداد تحصیلی و شغلی**

راهنمایی: متن زیر را به دقت بخوانید و صحیح ترین پاسخ را برای سوال زیر انتخاب کنید و در پاسخنامه علامت بزنید.  
(www.iranestekhdam.ir)

متقاعد سازی به عنوان یکی از ابعاد اساسی روابط بین شخصی، بیش از پیش در پژوهش های کارآفرینی، مدیریت و کسب و کار بین المللی مورد توجه قرار گرفته است. از منظر نظریه عمومی سیستم ها، کارآفرینی به عنوان یک سیستم، از مجموعه فعالیت های مرتبط به هم و هدفمند تشکیل شده و دارای ورودی ها، فرایند پردازش، ستاده ها، محیط و بازخورد است. یافته های پژوهش ها نشان می دهد که در محیط سرشار از عدم قطعیت، افراد به طور معمول از مهارت متقاعد سازی برای فروش ایده ها، نقطه نظرها، کالاها و خدمات استفاده می کنند. به رغم اینکه مهارت متقاعد سازی نقش مهمی در پشبرد فعالیت های کسب و کارها دارد، اما متاسفانه پژوهش های محدودی، موضوع محورهای توسعه متقاعدسازی در کارآفرینان را مورد توجه قرار داده اند. تعمق درباره پژوهش های موصوف نشان می دهد که محورهای توسعه متقاعدسازی در قلمرو فعالان کسب و کار، تاکنون مورد توجه قرار نگرفته است.

تاریخچه متقاعدسازی را می توان به دو برهه زمانی تقسیم کرد: برهه اول، یعنی دوره یونان باستان که در آن از این مفهوم در چارچوب مفاهیم نفوذ و تاثیرگذاری کلامی استفاده و اصطلاح «معانی و بیان» به آن اطلاق می شد. برهه دوم که از حدود اوایل قرن بیستم شروع شد و در آن مفهوم متقاعدسازی به عنوان کوششی برای تغییر باورها، نگرش ها و رفتار مردم در شاخه روان شناسی اجتماعی به گونه ای نظام یافته بررسی و مطالعه شده است. در بسیاری از منابع؛ تاریخچه توجه به مباحث متقاعد سازی به ۲۴۰۰ سال پیش و به کوشش های ارسطو نسبت داده شده است. ارسطو حدود چهار قرن پیش از میلاد از هنر متقاعد کردن سخن به میان آورده و آن را ارتباطی دانسته است که به منظور نفوذ و تاثیرگذاری بر انتخاب (و تصمیم گیری) دیگران طراحی می شود. ارسطو متقاعدسازی را هنری دانسته که طی آن، منبع می کوشد از دستاویزهایی استفاده کند که به طور معمول، مردم را متقاعد می کند. در چارچوب روان شناسی، «متقاعد سازی» یکی از مفاهیم اصطلاحات جا افتاده ای است که چیزی حدود ۷۴ سال از طرح و بررسی علمی آن در شاخه مهمی از روان شناسی عمومی به نام روان شناسی اجتماعی می گذرد و به مطالعه متغیر و فرایندهایی اختصاص دارد که به تشکیل و تغییر نگرش ها مربوط می شود و به خاطر ساختاری که نگرش ها دارند، همواره به عنوان یکی از اصول روان شناسی اجتماعی شمرده شده است. نظریه های متقاعد سازی به دنبال تبیین چگونگی فرایند متقاعد شدن مردم هستند. با مروری بر دیگر تعریف هایی که درباره متقاعد سازی مطرح شده است، می توان گفت که همه مولفان، به نسبت یکسانی از آن فهم داشته اند که در آن، مفهوم ارتباط به منظور تاثیرگذاری مستتر است.

#### ۱- کدام مورد، موضوع احتمالی پاراگراف بعدی خواهد بود ؟ (www.iranestekhdam.ir)

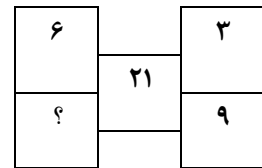
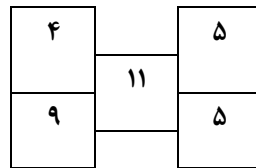
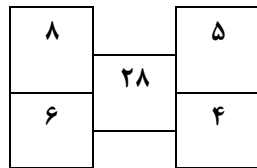
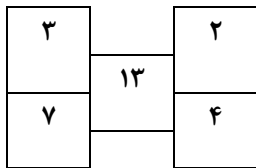
- (۱) اصول دیگر روان شناسی اجتماعی
- (۲) چگونه می توان به تعریف واحدی از متقاعدسازی رسید
- (۳) یک ویژگی مهم مشترک موجود در تعاریف متقاعدسازی .
- (۴) چرا متقاعد سازی همواره مورد توجه محافل اجتماعی بوده است.

#### پاسخ کارشناس سایت ایران استخدام: گزینه ۳

با توجه به اینکه در پاراگراف اول متن به اهمیت متقاعد سازی اشاره شده و در پاراگراف دوم به بررسی تاریخی این موضوع پرداخته شده است، و با توجه به اینکه در جمله آخر پاراگراف دوم ذکر شده است که: با مروری بر دیگر تعریف هایی که درباره متقاعدسازی مطرح شده است، می توان گفت که همه مولفان، به نسبت یکسانی از آن فهم داشته اند که در آن، مفهوم ارتباط به منظور تاثیرگذاری مستتر است. لذا گزینه سوم می تواند موضوع احتمالی پاراگراف بعدی متن باشد.

راهنمایی: سؤال های زیر را به دقت بخوانید و جواب سؤال را در پاسخنامه علامت بزنید. ([www.iranestekhdam.ir](http://www.iranestekhdam.ir))

۲- در هر کدام از اشکال زیر، بین اعداد هر شکل، ارتباط خاص و یکسانی وجود دارد. به جای علامت سؤال، کدام عدد باید قرار بگیرد؟ ([www.iranestekhdam.ir](http://www.iranestekhdam.ir))



۸ (۴)

۷ (۳)

۶ (۲)

۵ (۱)

پاسخ کارشناس سایت ایران استخدام: گزینه ۴

در تمام حالات فوق؛ عدد وسط از حاصلضرب دو عدد سمت چپ منهای حاصلضرب دو عدد سمت راست حاصل می شود. برای مثال در حالتی اول و دوم و سوم از سمت چپ داریم:

$$(3 \times 7) - (2 \times 4) = 13$$

$$(8 \times 6) - (5 \times 4) = 28$$

$$(4 \times 9) - (5 \times 5) = 11$$

در نهایت برای شکل مورد سوال خواهیم داشت:

$$(6 \times ?) - (3 \times 9) = 21 \rightarrow ? = 8$$



کاربران گرامی لطفاً دقت فرمایید، این فایل تنها بخشی از محصول ویژه بسته اصل سوالات عمومی و تخصصی آزمون های استخدامی سازمان آتش نشانی و شهرداری های کشور و سوالات ۷ درس عمومی آزمون های استخدامی به همراه پاسخنامه میباشد که به صورت رایگان و برای آشنایی شما عزیزان از کیفیت و محتوای فایل معرفی شده ارائه شده است، لطفاً جهت خرید و دانلود کامل این محصول، روی لینک زیر کلیک فرمایید.

**لینک دانلود و خرید بسته کامل**