

بخشی از محصول:

سوالات عمومی آزمون استخدامی شرکت های نفت، گاز و پتروشیمی به همراه پاسخنامه
و سوالات ۷ درس عمومی آزمون های استخدامی



ایران استخدام
سرویس خصوصی خدمات عام المنفعه اخبار شغل و استخدام

[Www.IranEstekhdam.Ir](http://www.IranEstekhdam.Ir)

! اخطار مهم!

این فایل بخشی از نمونه سوالات اختصاصی و ثبت شده سایت ایران استخدام (شرکت آلتین سیستم) بوده و قوانین مربوط به حوزه حمایت از حقوق مؤلفین و ناشرین جمهوری اسلامی ایران بر آن حاکم می باشد.
هرگونه سوء استفاده از این فایل همانند استفاده از محتوا در تهیه کتب و یا قرار دادن تمام یا بخشی از آن در وب سایت های دیگر، چه برای فروش و چه به صورت رایگان شرعاً حرام و قانوناً خلاف مقررات و قوانین کشورمان می باشد.
با توجه به هزینه های صرف شده و تلاش صورت گرفته برای تهیه این بسته، در صورت مشاهده یا گزارش هرگونه کپی برداری از آن؛ بدون هیچ گونه تماس قبلی و هشدار اقدام به پیگیری حقوقی خواهیم نمود.

کاربران گرامی لطفا دقت فرمایید، این فایل تنها بخشی از محصول ویژه بسته سوالات عمومی آزمون استخدامی شرکت های نفت، گاز و پتروشیمی به همراه پاسخنامه و سوالات ۷ درس عمومی آزمون های استخدامی می باشد که به صورت رایگان و برای آشنایی شما عزیزان از کیفیت و محتوای فایل معرفی شده ارائه شده است، لطفاً جهت خرید و دانلود کامل این محصول، روی لینک زیر کلیک فرمایید.

لینک دانلود و خرید بسته کامل



بخش اول:

فناوری اطلاعات و مهارت های هفتگانه I.C.D.L

سوالات عمومی آزمون استخدامی شرکت های نفت، گاز و پتروشیمی به همراه پاسخنامه تستی (مقطع کارشناسی و کارشناسی ارشد)

۱- با استفاده از کدام کادر محاوره‌ای در نرم‌افزار word می‌توان فاصله بین خطوط یک پاراگراف را تغییر داد؟

(Www.iranestekhdam.ir)

paragraph (۱)

font (۲)

character spacing (۳)

line expanded (۴)

۲- در excel کدامیک از موارد زیر فرمول محسوب نمی‌شود؟ (Www.iranestekhdam.ir)

= B1+A1 (۱) = ۷+۵ (۲) = sum (A1:A5) (۳) = max (A1:A5) (۴)

۳- اگر عمل Drag روی نام sheet به همراه فشار کلید ... باشد، عمل کپی انجام می‌شود. (Www.iranestekhdam.ir)

ctrl (۱) tab (۲) shift (۳) alt (۴)

۴- کلید میان‌بر فرمان undo چیست و به کمک آن تا چند فرمان را می‌توان لغو کرد؟ (Www.iranestekhdam.ir)

ctrl+Y,14 (۱) ctrl+z,16 (۲) ctrl+Y,16 (۳) ctrl+z,14 (۴)

۵- برای متحرک‌سازی اجزای درون اسلاید در نرم‌افزار power point از کدام فرمان استفاده می‌شود؟

(Www.iranestekhdam.ir)

animate slide (۲) custom animation (۱)

custom transition (۴) slide transition (۳)

پاسخنامه تستی سوالات

شماره سوال	گزینه صحیح
سوال ۱	۳
سوال ۲	۲
سوال ۳	۱
سوال ۴	۲
سوال ۵	۱

سوالات عمومی آزمون استخدامی شرکت های نفت، گاز و پتروشیمی به همراه پاسخنامه تستی (مقطع کاردانی)

۱- کدامیک از گزینه های زیر به معنی پست الکترونیکی است؟ (Www.iranestekhdam.ir)

- (۱) www (۲) G-Mail (۳) E-main (۴) E-mail

۲- کدام یک از گزینه های زیر صحیح است؟ (Www.iranestekhdam.ir)

- (۱) کامپیوتر دارای قدرت اندیشه و تفکر است.
 (۲) کامپیوتر دارای اراده و اختیار است.
 (۳) کامپیوتر می تواند تمام مشکلات انسان را حل نماید.
 (۴) کامپیوتر ابزار کار و ساخته دست بشر است.

۳- کدام یک از موارد زیر صحیح است؟ (Www.iranestekhdam.ir)

- (۱) حافظه کامپیوتر برای ضبط اطلاعات نامحدود است.
 (۲) کامپیوتر قادر به درک زبان انگلیسی است.
 (۳) هنگام کار با کامپیوتر اکثر اشتباهات از طرف کاربر صورت می گیرد.
 (۴) کامپیوتر خطای انسان را درک و اصلاح می کند.

۴- در ساخت توسعه و تکمیل کامپیوترها کدام یک از رشته های علمی نقش بسزایی داشته اند؟ (Www.iranestekhdam.ir)

- (۱) برق، الکترونیک (۲) ریاضیات، ارتباطات
 (۳) الکترونیک، ارتباطات (۴) ریاضیات، الکترونیک

۵- حافظه ROM: (Www.iranestekhdam.ir)

- (۱) فقط خواندنی و ناپایدار است
 (۲) فقط خواندنی و پایدار است
 (۳) فقط نوشتنی و پایدار است
 (۴) فقط نوشتنی و ناپایدار است

پاسخنامه تستی سوالات

شماره سوال	گزینه صحیح
سوال ۱	۴
سوال ۲	۴
سوال ۳	۳
سوال ۴	۴
سوال ۵	۴

سوالات عمومی آزمون های استخدامی به همراه پاسخ تشریحی

۱- کدام مورد در خصوص نرم افزار Excel 2013 صحیح است ؟ (www.iranestekhdam.ir)

(۱) ذخیره فایل های book 1.xls و book 1.xlsx در یک پوشه امکان پذیر است.

(۲) حذف یک فایل Excel باعث حذف تمام Reference های موجود در فایل های دیگر می شود.

(۳) انتقال یک فایل Excel از یک پوشه به پوشه دیگر، تاثیری در External Reference ندارد.

(۴) ذخیره دو فایل با نام book 1.xls و اندازه های (File Size) مختلف در یک پوشه امکان پذیر است.

پاسخ کارشناس سایت ایران استخدام : گزینه ۱

امکان ذخیره یک فایل با یک نام و با دو پسوند متفاوت .xls و .xlsx که اولی برای ذخیره فایل اکسل نسخه 97 تا 2003 و فرمت دومی برای نسخه 2003 به بعد این نرم افزار در نظر گرفته شده است، وجود دارد.

در سایر گزینه ها:

در گزینه ۲: با حذف یک فایل excel تمامی رفرنس های موجود در فایل های دیگر حذف نخواهد شد.

در گزینه ۳: انتقال یک فایل excel از پوشه ای به پوشه دیگر باعث تغییر در رفرنس های خارجی (بیرونی) فایل خواهد شد.

در گزینه ۴: امکان ذخیره دو فایل با نام یکسان و با اندازه های مختلف یا یکسان در یک پوشه واحد وجود ندارد.

۲- شکل زیر، بخشی از یک کاربرد را در نرم افزار Excel نشان می دهد. نتیجه تابع زیر، کدام است؟

(www.iranestekhdam.ir)

IFERROR (A3/B3, "Error in calculation")

	A	B
1	3	2
2	3	1
3	2	0

#Value! (۴)

Error in calculation (۳)

#Error (۲)

2 (۱)

پاسخ کارشناس ایران استخدام : گزینه ۳

از تابع IFERROR برای کنترل خطاهای معادله و فرمول ها در اکسل استفاده می شود. با تابع IFERROR می توانید برای توابع یا فرمول های مورد استفاده در صورتی که منجر به خطاهای

#N/A, #VALUE!, #REF!, #DIV/0!, #NUM!, #NAME? or #NULL

می شوند، یک مقدار جایگزین تعیین نمایید.

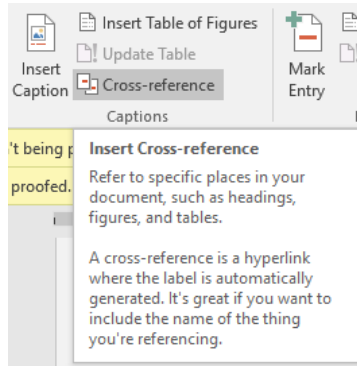
در این مثال سوال، از آنجا که تقسیم مقدار سلول A3 بر مقدار سلول B3 که برابر است با تقسیم عدد ۲ بر عدد صفر که مقدار تعریف نشده هست و یک خطای معادله به حساب می آید، لذا عبارت تعیین شده در داخل تابع فرمول یعنی عبارت Error in calculation نمایش داده خواهد شد.

۳- در نرم افزار Word، کدام مورد به عنوان Cross-Reference در یک سند استفاده نمی شود؟

(Www.iranestekhdam.ir)

(۱) سند دیگر (۲) متن (۳) نمودار (۴) تصویر

پاسخ کارشناس ایران استخدام: گزینه ۱



اگر سند شما یک سند بلند (مانند مقاله علمی) باشد ممکن است بخواهید خوانندگان را به بخش های دیگری از سند ارجاع دهید. با استفاده از گزینه Cross reference می توان این کار را انجام داد. تفاوت گزینه Cross reference با Bookmark در این است که در گزینه Cross reference می توان بخش مورد نظر را به یک بخش؛ یا شکل یا جدول و یا متن و نیز انواع بوک مارک ها ارجاع داد اما در Bookmark، واژه ها ارجاع دهنده هستند.

سوالات عمومی خودآزمای آزمون های استخدامی به همراه پاسخنامه تستی

۱- Quick launch در کدام قسمت قرار دارد؟ (Www.iranestekhdam.ir)

(۱) نوار وضعیت (۲) نوار عنوان (۳) نوار منو (۴) نوار وظیفه

۲- کدام روش مرتب سازی آیکون ها را بر اساس پسوند (نوع فایل) مرتب می کند؟ (Www.iranestekhdam.ir)

(۱) Type (۲) size (۳) Comments (۴) Name

پاسخنامه تستی سوالات

شماره سوال	گزینه صحیح
سوال ۱	۴
سوال ۲	۱

کاربران گرامی لطفا دقت فرمایید، این فایل تنها بخشی از محصول ویژه بسته سوالات عمومی آزمون استخدامی شرکت های نفت، گاز و پتروشیمی به همراه پاسخنامه و سوالات ۷ درس عمومی آزمون های استخدامی می باشد که به صورت رایگان و برای آشنایی شما عزیزان از کیفیت و محتوای فایل معرفی شده ارائه شده است، لطفاً جهت خرید و دانلود کامل این محصول، روی لینک زیر کلیک فرمایید.

لینک دانلود و خرید بسته کامل



بخش دوم:

ریاضی و آمار مقدماتی

سوالات عمومی آزمون های استخدامی به همراه پاسخ تشریحی

۱- حاصل $\sqrt{0/14 + \sqrt{0/016}} - \sqrt{\left(\frac{24}{7}\right)\left(\frac{56}{1920}\right)}$ کدام است؟ (Www.iranestekhdam.ir)
 (۱) ۰/۱ (۲) ۰/۴ (۳) ۰/۳ (۴) ۰/۲

پاسخ کارشناس ایران استخدام: گزینه ۴

$$\sqrt{0.14 + \sqrt{0.016}} = \sqrt{\frac{14}{100} + \frac{4}{10\sqrt{10}}} = \frac{1}{10}(\sqrt{14 + 4\sqrt{10}})$$

$$\sqrt{\frac{24}{7} \times \frac{8 \times 7}{24 \times 80}} = \frac{1}{\sqrt{10}}$$

$$\rightarrow \frac{1}{10}(\sqrt{14 + 4\sqrt{10}} - \sqrt{10}) \xrightarrow{\sqrt{10}=3.33} \sqrt{14 + 4(3.33)} = 5.3$$

$$5.33 - 3.3 \approx 2$$

$$\frac{1}{10}(2) = \frac{2}{10}$$

۲- خط d دو خط عمود $5x - 7y = -4$ و $mx + ny = 1$ را در نقاط $(-1, 1)$ و $(2, 2)$ قطع می کند. مقدار n کدام است؟ (Www.iranestekhdam.ir)

(۱) $-\frac{5}{2}$ (۲) $\frac{5}{24}$ (۳) $-\frac{1}{3}$ (۴) $\frac{1}{36}$

پاسخ کارشناس ایران استخدام: گزینه ۱

دو خط در صورتی بر هم عمودند که: $m_1 \times m_2 = -1$

$$7y = 5x + 4 \rightarrow y = \frac{5}{7}x + \frac{4}{7} \rightarrow m_1 = \frac{5}{7}$$

$$mx + ny = 1 \rightarrow y = \frac{-m}{n}x + \frac{1}{n} \rightarrow m_2 = \frac{-m}{n}$$

$$m_1 \times m_2 = -1 \rightarrow \frac{5}{7} \times \frac{-m}{n} = -1 \rightarrow -5m + 7n = 0 \rightarrow m = \frac{7}{5}n$$

دو نقطه داده شده است که نقطه ی (۲و۲) در معادله اولی $(5x - 7y = -4)$ صدق میکند پس باید (۱و-۱) در دومی

$(mx + ny = 1)$ صدق کند:

$$-m + n = 1 \rightarrow n = 1 + m = 1 + \frac{7}{5}n \rightarrow \frac{2}{5}n = -1 \rightarrow n = -\frac{5}{2}$$

۳- در جدول فراوانی تجمعی زیر، میانگین داده ها کدام است؟ (Www.iranestekhdam.ir)

مرکز دسته	۲۵	۲۶	۲۷	۲۸	۲۹
فراوانی تجمعی	۸	۲۴	۴۴	۶۸	۸۰

(۱) ۲۶/۸

(۲) ۲۷/۱

(۳) ۲۷/۲

(۴) ۲۶/۷

پاسخ کارشناس ایران استخدام: گزینه ۳

فراوانی تجمعی دسته قبل - فراوانی تجمعی دسته بعد = فراوانی یک دسته مجموع فراوانی های همه ی دسته ها / نماینده آن دسته فراوانی یک دسته = میانگین

$$x_{av} = \frac{((8) \times 25) + ((24 - 8) \times 26) + (44 - 24) \times 27 + (68 - 44) \times 28 + (80 - 68) \times 29}{80} = 27.2$$

سوالات عمومی خودآزمای آزمون های استخدامی به همراه پاسخنامه تستی

۱- از میان مثلث‌هایی که مجموع طول قاعده و ارتفاع وارد بر آن ۱۶ سانتی‌متر است مثلثی را انتخاب کرده‌ایم که مساحت آن ماکزیمم است. مساحت این مثلث چند سانتی‌متر مربع است؟ (www.iranestekhdam.ir)

- (۱) ۳۰ (۲) ۳۴ (۳) ۳۳ (۴) ۳۲

۲- نقطه A روی منحنی $y = \frac{2}{x}$ حرکت می کند. کمترین فاصله A تا مبدأ مختصات کدام است؟ (www.iranestekhdam.ir)

- (۱) ۲ (۲) $\sqrt{2}$ (۳) ۱ (۴) $\frac{1}{2}$

پاسخنامه تستی سوالات

شماره سوال	گزینه صحیح
سوال ۱	۴
سوال ۲	۱

کاربران گرامی لطفا دقت فرمایید، این فایل تنها بخشی از محصول ویژه بسته سوالات عمومی آزمون استخدامی شرکت های نفت، گاز و پتروشیمی به همراه پاسخنامه و سوالات ۷ درس عمومی آزمون های استخدامی می باشد که به صورت رایگان و برای آشنایی شما عزیزان از کیفیت و محتوای فایل معرفی شده ارائه شده است، لطفاً جهت خرید و دانلود کامل این محصول، روی لینک زیر کلیک فرمایید.

لینک دانلود و خرید بسته کامل



بخش سوم:

زبان و ادبیات فارسی و آیین نگارش

سوالات عمومی آزمون استخدامی شرکت های نفت، گاز و پتروشیمی به همراه پاسخنامه تستی (مقطع کارشناسی و کارشناسی ارشد)

۱- توصیف «زمان» در کدام گزینه با بقیه یکسان نیست؟ (www.iranestekhdam.ir)

(۱) زمان که بخشنده بود، موهبت‌های خویش را تباه می‌سازد

(۲) زمان فره جوانی را می‌پژمرد

(۳) زمان گوهرهای نادر طبیعت را در کام می‌کشد

(۴) از گزند داس دروگر وقت هیچ روینده را زنهار نیست

۲- در شعر «همانند امواج که به شن زار ساحل راه می‌جویند / دقایق عمر ما نیز به سوی فرجام خویش می‌شتابند» وجه شبه

کدام گزینه است؟ (www.iranestekhdam.ir)

(۱) امواج (۲) دقایق عمر (۳) همانند (۴) شتاب

۳- کدام گزینه از شعر «خدا/ نه برای خورشید/ و نه برای زمین/ بلکه برای گل‌هایی که برایمان می‌فرستد/ چشم به راه پاسخ

است» دریافت می‌شود؟ (www.iranestekhdam.ir)

(۱) آدمی چه رنج‌ها بر خود هموار می‌کند تا گل‌های زیبا و دل‌انگیز سر از خاک برآرند.

(۲) زمین و توان آن در باروری گل‌های زیبا، غیر قابل انکار است.

(۳) گل‌ها، دعوت‌نامه‌هایی به بندگان، جهت روی آوردن و بازگشتشان به سوی آفریدگار است

(۴) گرما و روشنایی خورشید عالم تاب، برای ادامه حیات بس گرانبه است.

۴- مجد خوافی روضه خلد را به تقلید از کدام اثر نوشته است؟ (www.iranestekhdam.ir)

(۱) تاریخ بیهقی (۲) قابوس نامه (۳) گلستان سعدی (۴) کلیله و دمنه

۵- مفهوم کدام بیت «زر عزیز آفریده است خدای / هر که خوارش بکرد خوار بشد» با بیت متناسب است؟

(www.iranestekhdam.ir)

(۱) نه آبروی که گر خون دل بخواهی ریخت / مخالفت نکنم، آن که فرمان است

(۲) اگر چو سرو تهی دست، می‌روی بر او / مرو که او متنفر ز تنگدستان است

(۳) به درستکاری فعلش در اوفتند از پای / هر آن که سرکش و پر دل چو پور دستان است

(۴) هزار سختی اگر بر من آید آسان است / که دوستی و ارادت هزار چندان است

پاسخنامه تستی سوالات

شماره سوال	گزینه صحیح
سوال ۱	۱
سوال ۲	۴
سوال ۳	۳
سوال ۴	۳
سوال ۵	۳

سوالات عمومی آزمون استخدامی شرکت های نفت، گاز و پتروشیمی به همراه پاسخنامه تستی (مقطع کاردانی)

۱- مفهوم کامل بیت زیر چیست ؟ (www.iranestekhdam.ir)

«بیدل این کم همتان ، بر غز و جاه فخرها دارند و عاری بیش نیست»

(۱) اینها که خواهان احترام اند نمی دانند که کار ننگین می کنند.

(۲) این بیچاره ها نمی دانند که زندگی نکبت باری دارند .

(۳) سرفرازی و سربلندی این ساده اندیشان، شرم آور است.

(۴) ناز این افراد سست اراده، به مال و منال دنیایی تنگ آور است.

۲- منظور از «چوک» در مصراع «چوک ز شاخ درخت خویشتن آویخته» کدام پرنده است؟ (www.iranestekhdam.ir)

(۱) زاغ (۲) شباویز (۳) عندهلیب (۴) قمری

۳- کدام اثر به تقلید از «گلستان سعدی» نوشته شده است؟ (www.iranestekhdam.ir)

(۱) روضه خلد (۲) اسرارالتوحید (۳) کشف المحجوب (۴) چشمه روشن

۴- املای کدام کلمه غلط است ؟ (www.iranestekhdam.ir)

(۱) سمات: دسته (۲) اشباح: سیاهی که از دور به نظر می رسد

(۳) ارغند: خشمگین و قهر آلود (۴) حصین : محکم

۵- منظور شاعر از «سوخته جان» در بیت زیر چیست؟ (Www.iranestekhdam.ir)

پنهان مکن آتش درون را زین سوخته جان شنو یکی پند

(۱) کوه دماوند (۲) عاشق (۳) خود او (۴) مردم ستمدیده

پاسخنامه تستی سوالات

شماره سوال	گزینه صحیح
سوال ۱	۲
سوال ۲	۲
سوال ۳	۴
سوال ۴	۱
سوال ۵	۳

سوالات عمومی آزمون های استخدامی به همراه پاسخ تشریحی

۱- کدام گروه کلمه ها، فاقد «غلط املایی» است؟ (Www.iranestekhdam.ir)

(۱) جملات تأثیرگذار - افراط و تفریط - سلامت و روانی (۲) حظّ زیباشناسی - بیت معمور ادب - مظهر اعتدال
(۳) اغتنام فرصت - حسن خطام - مخلّ اعتدال (۴) مدح و زم - تفقد و دلجویی - آرایش صوری

پاسخ کارشناس سایت ایران استخدام: گزینه ۲

بیت معمور: خانه ی آباد (معمور از عمارت [آبادانی] می آید).

در گزینه ی ۱ «تأثیرگذار» غلط است. املای صحیح با «ذ» است. یعنی می شود تأثیرگذار.

در گزینه ی ۳ «خطام» غلط است. املای صحیح با «ت» است. ختام یعنی پایان و سرانجام.

در گزینه ی ۴ «زم» غلط است. املای صحیح با «ذ» است. ذم یعنی نکوهش، نکوهیدن، بدگویی. (متضاد مدح).

۲- بیت زیر، با کدام بیت قرابت مفهومی دارد؟ (Www.iranestekhdam.ir)

«دریاب کنون که نعمت هست به دست کاین دولت و ملک می رود دست به دست»
(۱) توانگرا چو دل و دست کامرانت هست بخور، ببخش که دنیا و آخرت بردی
(۲) توانگران که به جنب سرای درویشند ضرورت است که گاهی از او بیندیشند
(۳) هزاران توان یافت خنجر، به دانش یکی علم نتوان گرفتن، به خنجر
(۴) توانگر شد آن کس که خرسند گشت ازو آز و تیمار در بند گشت

پاسخ کارشناس سایت ایران استخدام: گزینه ۱

معنی بیت صورت سؤال: این دم را غنیمت شمار. اکنون که نعمت حکومت به دست توست، به عدالت حکم کن که این دولت و سلطنت بر تو نیز وفا نخواهد کرد و پس از تو برای دیگری خواهد بود.

مفهوم ابیات دیگر:

- گزینه ی ۲: هم بسیار نزدیک است؛ اما کلید در کنایه ی «اندیشیدن از درویشان» است. اندیشیدن از کسی: ترسیدن و متوهم شدن از آن، مهم شمردن آن، محل نهادن بدان. گزینه ی ۲ به احتیاط و ترسیدن اشاره دارد.
- گزینه ی ۳: به فایده و قدرت دانش اشاره دارد.
- گزینه ی ۴: به رضایت و شاکر بودن اشاره دارد که انسان را از ناخشنودی و طمع بازمی دارد. (تیمار: درد و رنج)

۳- آرایه های بیت زیر ، کدام اند ؟ (Www.iranestekhdam.ir)

« همچو نرگس بگشا چشم و ببین کاندرا خاک چند روی چو گل و قامت چون شمشاد است »

- (۱) استعاره - تلمیح - حسن تعلیل
(۲) تشبیه - استعاره - مجاز
(۳) استعاره - حسن تعلیل - مجاز
(۴) تشبیه - تلمیح - کنایه

پاسخ کارشناس سایت ایران استخدام: گزینه ۲

همچو نرگس (تشبیه) / چشم گشودن گل نرگس (تشخیص) / روی چو گل (تشبیه)
قامت چو شمشاد (تشبیه) / نرگس و گل و شمشاد (تناسب)

واج آرایه حروف الف و چ

گشودن چشم کنایه است از دقت کردن.

شمشاد: استعاره از قامت راست

روی مجاز است از انسان. (جز ذکر شده و اراده کل کرده است)

معنی: وقتی با دقت نگاه کنی، می بینی که چقدر انسان های زیبارو و بلند قامتی در زیر خاک خوابیده اند (اشاره به سرانجام همه ی انسان ها که مرگ است)

سوالات عمومی خودآزمای آزمون های استخدامی به همراه پاسخنامه تستی

۱- کدام عبارت از نظر ویرایش و نگارش، درست است؟ (Www.iranestekhdam.ir)

- (۱) افضل تر آن است که در هیچ شرایطی نقض پیمان نکنیم.
(۲) آیا تمامی دانش آموزان مشمول این طرح شده اند؟
(۳) در این نشریه ی علمی، دو کتاب و مقاله از استاد جعفری به چاپ رسید.
(۴) هم اولیای دانش آموزان این طرح را پذیرفتند و هم مدیر مدرسه.

۲- با توجه به معنی، املای کدام واژه درست است؟ (Www.iranestekhdam.ir)

- (۱) عطاب: غضب (۲) عسرت: لغزش (۳) تهجد: شب بیداری (۴) فرتوط: فرسوده

پاسخنامه تستی سوالات

شماره سوال	گزینه صحیح
سوال ۱	۲
سوال ۲	۳

کاربران گرامی لطفا دقت فرمایید، این فایل تنها بخشی از محصول ویژه بسته سوالات عمومی آزمون استخدامی شرکت های نفت، گاز و پتروشیمی به همراه پاسخنامه و سوالات ۷ درس عمومی آزمون های استخدامی می باشد که به صورت رایگان و برای آشنایی شما عزیزان از کیفیت و محتوای فایل معرفی شده ارائه شده است، لطفاً جهت خرید و دانلود کامل این محصول، روی لینک زیر کلیک فرمایید.

لینک دانلود و خرید بسته کامل



بخش چهارم:

معارف اسلامی

سوالات عمومی آزمون های استخدامی به همراه پاسخ تشریحی

۱- از آیه شریفه (ما کُنْتُمْ تَتْلُو مِنْ قَبْلِهِ مِنْ كِتَابٍ)، کدام مفهوم دریافت می شود؟ (Www.iranestekhdam.ir)

- (۱) تأثیرپذیری قرآن کریم از فرهنگ جاهلی در هر زمان
- (۲) جامعیت و همه جانبه بودن هدایت ویژه و پاسخ گویی آن
- (۳) آمادگی جامعه بشری برای دریافت برنامه کلی در عرصه زندگی
- (۴) عدم تعارض و ناسازگاری میان آیات قرآن کریم

پاسخ کارشناس ایران استخدام: گزینه ۲

با توجه به آیه زیر، خداوند معجزه جاوید خود را توسط پیامبری به دست مردم رساند که نزد هیچکس درس نخوانده بود اگر این کتاب توسط یکی از درس خواندگان و دانشمندان جامعه آورده میشد، ممکن بود چه شک و شبهه های ایجاد شود؟
« ما کُنْتُمْ تَتْلُو مِنْ قَبْلِهِ مِنْ كِتَابٍ...»

و پیش از آن هیچ نوشته ای را نمیخواندی و با دست خود، آن را نمینوشتی که در آنصورت، کجروان به شک میافتادند. اگر این کتاب توسط یکی از درس خواندگان و دانشمندان جامعه آورده میشد، یعنی اگر پیامبر فردی باسواد بود این شائبه پیش میآمد که قرآن نوشته اوست و او فقط نویسنده و شاعری بزرگ است. به همین دلیل ایشان قبل از دریافت قرآن درس نخوانده بود و قرآن هم بارها از مشرکان و منکران قرآن دعوت میکند تا سوره های مانند سوره های قرآن بیاورند.

۲- کدام آیه شریفه، ما را متوجه حقیقت زیر می کند؟ (Www.iranestekhdam.ir)

« انسان ها در هنگام مواجه با حوادث بسیار سخت، با همه وجود، به سوی خدای خویش متوجه می شوند و از او کمک می خواهند.»

- (۱) (یا ایها الناس انتم الفقراء إلى الله و الله هو الغنی)
- (۲) (فاذا ركبوا فی الفلك دعوا الله مخلصین له الدین)
- (۳) (افحسبتم انما خلقناکم عبثاً و انکم الینا لایرجعون)
- (۴) (و فی الرض آیات للموقنین و فی انفسکم افلا تبصرون)

پاسخ کارشناس سایت ایران استخدام: گزینه ۱

با توجه به معنی آیه گزینه اول داریم:

"ای مردم شما به خدا نیازمندید و خداست که بی نیاز ستوده است."

از توجه در این آیه به روشنی برمیآید که انسان ها همواره دارای نقصان و کمبود در زندگی هستند که نوعی فقر محسوب می شود نسبت به خدای متعالی که کمال مطلق و بی نیاز از هر چیزی می باشد.

پس در هنگام رخ داد حوادث هم نوعی احساس فقر برای به دست آوردن آرامش و آسایش احساس می شود که تنها منبع این آرامش و احساس آسایش مطلق؛ خداوند متعال است که انسان به او پناه می برد و از او کمک می خواهد.

۳- آیه شریفه (أَفَحَسِبْتُمْ أَنَّمَا خَلَقْنَاكُمْ عَبَثًا وَأَنَّكُمْ إِلَيْنَا لَا تُرْجَعُونَ)؛ بیانگر کدام برهان عقلی معاد است؟

(Www.iranestekhdam.ir)

- (۱) معقولیت
- (۲) عدالت
- (۳) فطرت
- (۴) حکمت

پاسخ کارشناس سایت ایران استخدام: گزینه ۳

آیه فوق بیان می کند که: (آیا گمان کردید شما را بیهوده آفریده ایم، و بسوی ما باز نمی گردید؟)

در انسان میل به جاودانگی و همچنین قابلیت جاودانگی و بقا برای روح غیر مادی او وجود دارد. حال اگر شرایط و بستر این گونه زندگی برای او فراهم نباشد؛ آفرینش او لغو و بیهوده خواهد بود. از آنجا که خداوند غنی و بی نیاز، خالق انسان و جهان است و هیچ کار لغو و بیهوده ای انجام نمی دهد؛ بی گنم شرایط و بستر مناسب را برای جاودانگی انسان مهیا نموده است. بنابراین؛ غیر از دنیای مادی و موقت سرای جاویدان نیز وجود دارد که آدمی در آنجا جاویدان زندگی می کند. این امر بیانگر دلالت برهان فطرت بر اثبات معاد است. (کاربران گرامی می توانند با مراجعه به کتاب اندیشه اسلامی آیت الله سبحانی موارد بیشتری در این مورد را مطالعه بفرمایند).

سوالات عمومی خودآزمای آزمون های استخدامی به همراه پاسخنامه تستی

- ۱- با توجه به اینکه خداوند یک برنامه را برای زندگی انسا نها برگزید، همه موارد به استثناء مطلب... علت آمدن پیامبران متعدد می باشد. (www.iranestekhdam.ir)
- (۱) پایین بودن سطح درک انسا نه‌ای اولیه
 (۲) گسترش برخی از احکام و دستورات فرعی دین
 (۳) استمرار در دعوت و ترویج پیوسته ی آن
 (۴) از بین رفتن تعلیمات پیامبر قبل یا تحریف کلی آن تعلیمات

- ۲- حدیث امام باقر (ع) که فرمودند " بنی الاسلام علی خمس علی الصلاة و الزکاة و الصوم و الحج و الولاية و لم یناد بشی ء کما نودی بالولاية " ناظر بر کدام قلمرو رسالت می باشد؟ (www.iranestekhdam.ir)
- (۱) ولایت ظاهری (۲) مرجعیت علمی (۳) ولایت معنوی (۴) جامعیت دین اسلام

پاسخنامه تستی سوالات

شماره سوال	گزینه صحیح
سوال ۱	۲
سوال ۲	۱

کاربران گرامی لطفا دقت فرمایید، این فایل تنها بخشی از محصول ویژه بسته سوالات عمومی آزمون استخدامی شرکت های نفت، گاز و پتروشیمی به همراه پاسخنامه و سوالات ۷ درس عمومی آزمون های استخدامی می باشد که به صورت رایگان و برای آشنایی شما عزیزان از کیفیت و محتوای فایل معرفی شده ارائه شده است، لطفاً جهت خرید و دانلود کامل این محصول، روی لینک زیر کلیک فرمایید.

لینک دانلود و خرید بسته کامل



بخش پنجم:

زبان انگلیسی - عمومی

سوالات عمومی آزمون استخدامی شرکت های نفت، گاز و پتروشیمی به همراه پاسخنامه تستی (مقطع کارشناسی و کارشناسی ارشد)

Grammar and vocabulary

Direction: choose the number of the answer choice (1), (2), (3) or (4) that best completes the blank. Then mark it on your answer sheet. ([Www.iranestekhdam.ir](http://www.iranestekhdam.ir))

1- Branched polymers, unlike linear – chain polymer, have branched chains in their molecular Structure, due to side reactions during..... ([Www.iranestekhdam.ir](http://www.iranestekhdam.ir))

- 1) Purification 2) polymerization
3) Vulcanization 4) Copolymerization

2-The building block or monomer of poly (vinyl chloride), PVC, IS..... ([Www.iranestekhdam.ir](http://www.iranestekhdam.ir))

- 1) $CH_2 = CHCL$ 2) $CHCL = CHCL$
3) $CH_2 = CCL_2$ 4) $CCL_2 = CCL_2$

3- Polymers soften on heating and are unaltered chemically. On other han polymers degrade or decompose on heating. ([Www.iranestekhdam.ir](http://www.iranestekhdam.ir))

- 1) soft, hard 2) hard, soft
3) thermoplastic 4) thermosetting, thermoplastic

Part B. Reading Comprehension

Directions: Read the following passage and choose the number of the answer choice (1), (2), (3), or (4) that best answer each question. Then mark it on your answer sheet. ([Www.iranestekhdam.ir](http://www.iranestekhdam.ir))

People who have the capacity for intense concentration have a great advantage. Such people have the ability to ignore the stimuli (sights, sounds, or anything that can distract a person) and more likely are to stay with the task at hand and to solve it. This ability can make all the difference between winning and losing in certain situations-for example, the championship runner competing for the gold medal at the Olympic.

4- In this passage "concentration" refers to a person's ability to ([Www.iranestekhdam.ir](http://www.iranestekhdam.ir))

- 1) stay in on place 2) focus on a task
3) hear certain sounds 4) ignore stimuli

5-Sportsmen who can concentrate are more likely to (Www.iranestekhdam.ir)

- 1) compete 2) win 3) relax 4) run

پاسخنامه تستی سوالات

شماره سوال	گزینه صحیح
سوال ۱	۲
سوال ۲	۱
سوال ۳	۱
سوال ۴	۴
سوال ۵	۲

سوالات عمومی آزمون استخدامی شرکت های نفت، گاز و پتروشیمی به همراه پاسخنامه تستی (مقطع کاردانی)

Part A. vocabulary

Direction: choose the number of the answer choice (1), (2), (3) or (4) that best completes the blank. Then mark it on your answer sheet. (Www.iranestekhdam.ir)

1-Photographic films are to light. (Www.iranestekhdam.ir)

- 1) visible 2) exact
3) sensitive 4) important

2-Some elements are not easily; therefore, they are expensive. (Www.iranestekhdam.ir)

- 1) extended 2) available
3) stored 4) capable

3-Metal ropes around pulley at a very high velocity. (Www.iranestekhdam.ir)

- 1) revolve 2) involve
3) dissolve 4) solve

Part B. Reading Comprehension

Directions: Read the following passage and choose the number of the answer choice (1), (2), (3), or (4) that best answer each question. Then mark it on your answer sheet. ([Www.iranestekhdam.ir](http://www.iranestekhdam.ir))

The Law Student

After four years of study young John passed his law examinations and in 1890 returned to his country. When he landed he was met by friends who told him of his mother's death. This was an even greater shock to him that the death of his father before he went to England. The next few years were not happy ones. He found his work as a lawyer not at all interesting, and came to feel that he was not fitted for this kind of job. He had trouble on one occasion when he was in court. He almost fainted, and when his turn came to speak he could not say a word. He would welcome a change. This came when he was invited to go to South Africa to advise a rich Indian merchant who was trying to collect a large amount of money from a member of his family.

4-John received his law degree toward the ([Www.iranestekhdam.ir](http://www.iranestekhdam.ir))

- 1) beginning of the nineteenth century 2) end of the nineteenth century
3) beginning of the twentieth century 4) end of the twentieth century

5- From the paragraph it seems that John's mother died..... ([Www.iranestekhdam.ir](http://www.iranestekhdam.ir))

- 1) before he went to England 2) when his friends come to greet him
3) while he was away at school 4) after he returned home

پاسخنامه تستی سوالات

شماره سوال	گزینه صحیح
سوال ۱	۳
سوال ۲	۲
سوال ۳	۱
سوال ۴	۲
سوال ۵	۳

سوالات عمومی آزمون های استخدامی به همراه پاسخ تشریحی

1- They wanted to build a factory there, but the local people said that it the country side; hence they discarded their plan. ([Www.iranestekhdam.ir](http://www.iranestekhdam.ir))

- 1) destroys
2) destroyed
3) would have destroyed
4) would destroy

پاسخ کارشناس سایت ایران استخدام: گزینه ۴

با توجه به معنی جمله داریم:

آنها می خواستند که کارخانه ای را آنجا بسازند، اما مردم محلی گفتند که آن کارخانه حومه شهر (روستاها) را نابود خواهد کرد؛ از این رو کارخانه سازان برنامه خود را کنار گذاشتند.
برای بیان آینده در گذشته از ساختار would + verb استفاده می گردد.

2- the scientist, the engineer is not free to select the problem that interests him; he must solve problems as they arise. ([Www.iranestekhdam.ir](http://www.iranestekhdam.ir))

- 1) That unlike
2) Dislike
3) Alike
4) Unlike

پاسخ کارشناس ایران استخدام: گزینه ۴

توضیح: با توجه معنی جمله، برخلاف دانشمندان، مهندسان در انتخاب مشکلی که آن ها را علاقه مند می سازد، آزاد نیستند؛ آن ها باید در صدد رفع مشکلات بوجود آمده باشند. Unlike به معنی برخلاف بهترین پاسخ می باشد.

3- The teacher asked the student ... lesson 5. ([Www.iranestekhdam.ir](http://www.iranestekhdam.ir))

- 1) That she had studied
2) That she has studied
3) If she had studied
4) Has she studied

پاسخ کارشناس ایران استخدام: گزینه ۳

معنی جمله:

معلم از دانش آموز سوال نمود که آیا او درس ۵ را مطالعه کرده بود.

- (۱) که او مطالعه کرده بود
(۲) که او مطالعه کرده است
(۳) اگر او مطالعه کرده بود
(۴) آیا او مطالعه کرده است.

در این گزینه if بعد از ask به معنی "که آیا" است.

سوالات عمومی خود آزمای آزمون های استخدامی به همراه پاسخنامه تستی

1- Today we didn't have class The teacher was absent. ([Www.iranestekhdam.ir](http://www.iranestekhdam.ir))

- 1) so
2) whenever
3) because
4) however

2- Scientists used the best telescope They could observe other objects in the space. ([Www.iranestekhdam.ir](http://www.iranestekhdam.ir))

- 1) so that
2) because
3) whereas
4) in order to

پاسخنامه تستی سوالات

شماره سوال	گزینه صحیح
سوال ۱	۳
سوال ۲	۱

پایان آزمون

کاربران گرامی لطفا دقت فرمایید، این فایل تنها بخشی از محصول ویژه بسته سوالات عمومی آزمون استخدامی شرکت های نفت، گاز و پتروشیمی به همراه پاسخنامه و سوالات ۷ درس عمومی آزمون های استخدامی می باشد که به صورت رایگان و برای آشنایی شما عزیزان از کیفیت و محتوای فایل معرفی شده ارائه شده است، لطفاً جهت خرید و دانلود کامل این محصول، روی لینک زیر کلیک فرمایید.

لینک دانلود و خرید بسته کامل



بخش ششم:

اطلاعات عمومی ، دانش اجتماعی و قانون اساسی

سوالات عمومی آزمون های استخدامی به همراه پاسخ تشریحی

۱- در نظام ریاستی؛ مجلس چگونه می تواند وزرا را استیضاح کند؟ (Www.iranestekhdam.ir)

- (۱) اساساً چنین اختیاری ندارد
- (۲) پس از کسب موافقت مجلس دوم و با اکثریت نسبی
- (۳) با اکثریت مطلق دو سوم نمایندگان
- (۴) با اکثریت نسبی کل نمایندگان

پاسخ کارشناس سایت ایران استخدام: گزینه ۱

نظام ریاستی یک نظام حکومتی است که نتیجه تفکیک کامل قواست. در رژیم های ریاستی قوه مجریه در استقلال از پارلمان (قوه مقننه) فعالیت می کند. از آنجا که تعیین وزیران در این نظام برعهده رئیس کشور است و پارلمان در آن دخالتی ولو در حد رای اعتماد ندارد، وزیران در برابر پارلمان مسئولیت سیاسی ندارند و نمایندگان نمی توانند آن ها را استیضاح کرده یا با رأی عدم اعتماد برکنار کنند.

۲- آخرین پادشاه صفوی که به دست محمود افغان به قتل رسید، که بود؟ (Www.iranestekhdam.ir)

- (۱) شاه تهماسب
- (۲) شاه سلطان حسین
- (۳) شاه اسماعیل دوم
- (۴) شاه عباس دوم

پاسخ کارشناس سایت ایران استخدام: گزینه ۲

محمود در ۱۱۳۴ قصد تسخیر ایران کرد و به کرمان رسید لیکن لطف علی خان والی فارس عموی فتح علی خان وزیر اعظم او را سخت شکست داد و به قندهار فرار داد. در سال ۱۱۳۴ ه. ق. بار دیگر از راه سیستان، کرمان و یزد به اصفهان حمله نمود و در ۱۱۳۴ آنجا را متصرف شد و شاه سلطان حسین صفوی سلطنت و تاج خود را به او تقدیم کرد.

۳- اعضای اصلی سازمان همکاری شانگهای، کدام کشورها هستند؟ (Www.iranestekhdam.ir)

- (۱) روسیه، چین، قزاقستان، قرقیزستان، ازبکستان، تاجیکستان
- (۲) روسیه، چین، قزاقستان، قرقیزستان، ازبکستان، آذربایجان
- (۳) روسیه، چین، هند، پاکستان، ایران، قزاقستان، قرقیزستان
- (۴) روسیه، چین، هند، ایران، پاکستان، ترکمنستان

پاسخ کارشناس سایت ایران استخدام: گزینه ۱

سازمان همکاری شانگهای سازمانی میان دولتی است که برای همکاری های چندجانبه امنیتی، اقتصادی و فرهنگی تشکیل شده است. این سازمان در سال ۲۰۰۱ توسط رهبران چین، روسیه، قزاقستان، قرقیزستان، تاجیکستان و ازبکستان پایه گذاری شد. علاوه بر اعضای اصلی، ابتدا مغولستان در سال ۲۰۰۴ و یک سال بعد ایران، پاکستان، هند و افغانستان در سال ۲۰۱۲ به عنوان عضو ناظر به سازمان ملحق شدند.

سوالات عمومی خودآزمای آزمون های استخدامی به همراه پاسخنامه تستی

۱- پس از مرگ استالین چه فردی نخست وزیر شوروی شد؟ (Www.iranestekhdam.ir)

- (۱) بوخارین
- (۲) مالنکوف
- (۳) خروشچف
- (۴) ژوکف

۲- مرکز فعالیت «سپاه صحابه» در کدام کشور است؟ (Www.iranestekhdam.ir)

(۱) هندوستان (۲) عربستان (۳) پاکستان (۴) بحرین

پاسخنامه تستی سوالات

شماره سوال	گزینه صحیح
سوال ۱	۲
سوال ۲	۳

کاربران گرامی لطفا دقت فرمایید، این فایل تنها بخشی از محصول ویژه بسته سوالات عمومی آزمون استخدامی شرکت های نفت، گاز و پتروشیمی به همراه پاسخنامه و سوالات ۷ درس عمومی آزمون های استخدامی می باشد که به صورت رایگان و برای آشنایی شما عزیزان از کیفیت و محتوای فایل معرفی شده ارائه شده است، لطفاً جهت خرید و دانلود کامل این محصول، روی لینک زیر کلیک فرمایید.

لینک دانلود و خرید بسته کامل



بخش هفتم:

هوش و استعداد تحصیلی و شغلی

سوالات عمومی آزمون های استخدامی به همراه پاسخ تشریحی

راهنمایی: متن زیر را به دقت بخوانید و صحیح ترین پاسخ را برای سوال ۱ انتخاب کنید و در پاسخنامه علامت بزنید.

ترانسفورماتورهای قدرت، نقشی اساسی در سیستم های الکتریکی دارند، به نحوی که عملکرد صحیح آنها بر قابلیت اطمینان و امنیت سیستم قدرت اثر مستقیم دارد از این رو، بررسی عملکرد ترانسفورماتورهای قدرت برای شناسایی خطای سیم پیچی در مراحل آغازین اهمیت می یابد. (۱) خطاهای سیم پیچی ماهیتی تشدید شونده دارد و معمولا در اثر ضعف عایقی ایجاد می شود. با بروز نخستین نقاط اتصال کوتاه سیم بندی، حرارت موضعی شدیدی در محل اتصال کوتاه ایجاد می شود. گرمای ناشی از این حرارت، موجب تضعیف عایق سیم بندی و گسترش خطا می گردد. (۲) به دلیل اینکه تاثیر این نوع خطاها در مراحل آغازین در جریان های خط اولیه و ثانویه ترانسفورماتور بسیار کم است، امکان استفاده از فیوز و یا رله دیفرانسیل برای شناسایی این خطاها وجود ندارد. (۳)

روش های مبتنی بر تجزیه و تحلیل گازهای نامحلول، به منظور تعیین عملکرد ترانسفورماتور، به طور گسترده مورد استفاده قرار می گیرند. نسبت گازهای ناشی از تجزیه عایق و روغن ایجاد شده در دماهای مختلف می تواند برای شناسایی خطای ترانسفورماتور مورد استفاده قرار گیرد. (۴) روش نسبت راجرز و دمبرگ برای ایجاد نسبت گازها مورد استفاده قرار می گیرند. با آموزش شناساگرهای هوشمند و با استفاده از این نسبت ها می توان بسیاری از خطاها را رصد کرد. ایراد اصلی روش های مبتنی بر تجزیه و تحلیل گازهای نامحلول، آفلاین بودن و هزینه بالای این روش هاست چرا که پس از گسترش خطاهای سیم پیچی اولیه و عملکرد وسایل حفاظتی چنین روش هایی کارایی نخواهند داشت.

۱- موضوع اصلی متن فوق، کدام است؟ (Www.iranestekhdam.ir)

- (۱) خطاهای سیم پیچی در ترانسفورماتورهای قدرت
 (۲) روش های نوین بهبود کیفیت عملکرد ترانسفورماتورها
 (۳) نقش ترانسفورماتورها در توزیع و انتقال انرژی الکتریکی
 (۴) دلایل چند گانه بروز خطاهای سیم پیچی ترانسفورماتورهای قدرت

پاسخ کارشناس سایت ایران استخدام: گزینه ۲

در کل متن آنچه که به ضوح مورد بحث واقع شده، در مورد روش های بهبود کیفیت عملکرد ترانسفورماتور ها بحث شده است.

۲- با توجه به شکل رو به رو به جای علامت سوال، کدام عدد باید قرار بگیرد؟ (Www.iranestekhdam.ir)

	۶	۵	۴		۹(۱)
۱	۱	۶	۷	۳	۷(۲)
۲	۴	۱۰	۵	۹	۶(۳)
	۸	؟	۶		۳(۴)

پاسخ کارشناس سایت ایران استخدام: گزینه ۲

با دقت در الگوی تولید اعداد درج شده در ستون وسط عمودی به این نتیجه دست پیدا می کنیم که اعداد ستون عمودی وسط از جمع نمودن اعداد سطری آن عدد و تقسیم آنها بر عدد دو تولید می شود. به نحوه تولید اعداد ستون وسط دقت نمایید:

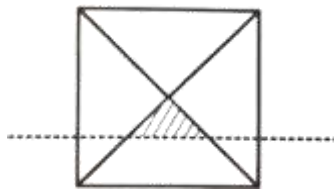
$$\frac{6+4}{2} = 5$$

$$\frac{1+1+7+3}{2} = 6$$

$$\frac{2+4+5+9}{2} = 10$$

$$\frac{8+6}{2} = 7$$

۳- اگر مساحت ناحیه هاشور خورده در شکل زیر، ۴ درصد مساحت مربع بزرگ باشد، فاصله خط چین تا مرکز مربع، چند برابر طول ضلع مربع است؟ (Www.iranestekhdam.ir)



$0.2\sqrt{2}$ (۴)

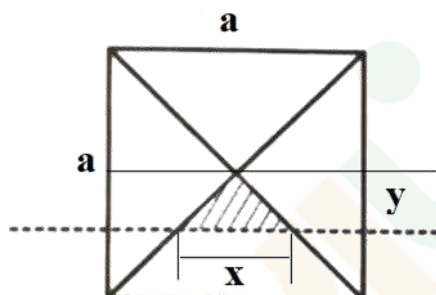
0.۲ (۳)

$0.1\sqrt{2}$ (۲)

0.۱ (۱)

پاسخ کارشناس سایت ایران استخدام: **گزینه ۳**

برای حل مساله داریم با فرض اینکه ضلع مربع به طول a بوده و فاصله خط چین تا مرکز مربع را y در نظر بگیریم. آنگاه داریم:



با توجه به اصل تسابه مثلث ها برای مثلث هاشور خورده و مثلث بزرگتر داریم:

$$\frac{x}{a} = \frac{y}{\frac{a}{2}} \rightarrow \frac{x}{a} = \frac{2y}{a} \rightarrow x = 2y \quad (1)$$

با توجه به اینکه در سوال گفته شده است که مساحت ناحیه هاشور خورده در شکل زیر، ۴ درصد مساحت مربع بزرگ باشد؛ لذا داریم:

$$\frac{x \times y}{2} = (0.04)a^2 \quad (2)$$

آنگاه با جایگذاری معادله اول در معادله دوم خواهیم داشت:

$$\frac{2y \times y}{2} = (0.04)a^2 \rightarrow y^2 = (0.04)a^2 \rightarrow y^2 = (0.2a)^2 \rightarrow y = 0.2a$$

لذا فاصله خط چین تا مرکز مربع، دو برابر طول ضلع مربع می باشد.

سوالات عمومی خودآزمای آزمون های استخدامی به همراه پاسخنامه تستی

۱- سن پدری ۴ سال قبل، از ۴ برابر سن فرزندش ۲ سال بیشتر بوده است. ۶ سال بعد چه رابطه‌ای بین سن پدر و فرزند وجود

دارد؟ (Www.iranestekhdam.ir)

الف) سن پدر چهار برابر سن پسر است

ب) سن پدر از چهار برابر سن پسر کمتر است

ج) سن پدر از چهار برابر سن پسر بیشتر است

د) نمی توان تعیین کرد

۲- کدامیک از واژه های زیر با بقیه متفاوت است؟ (Www.iranestekhdam.ir)

الف) اصرار

ب) ابزار

ج) ابراز

د) امرار

پاسخنامه تستی سوالات

شماره سوال	گزینه صحیح
سوال ۱	ب
سوال ۲	ب

کاربران گرامی لطفا دقت فرمایید، این فایل تنها بخشی از محصول ویژه بسته سوالات عمومی آزمون استخدامی شرکت های نفت، گاز و پتروشیمی به همراه پاسخنامه و سوالات ۷ درس عمومی آزمون های استخدامی می باشد که به صورت رایگان و برای آشنایی شما عزیزان از کیفیت و محتوای فایل معرفی شده ارائه شده است، لطفاً جهت خرید و دانلود کامل این محصول، روی لینک زیر کلیک فرمایید.

لینک دانلود و خرید بسته کامل