



دفترچه سوالات آزمون استخدامی

بانک قرض الحسنه مهر ایران سال ۹۸

(ارسالی کاربران)




سرویس خصوصی خدمات عام المنفعه اخبار شغل و استخدام

[Www.IranEstekhdam.Ir](http://www.IranEstekhdam.Ir)

خواننده گرامی؛ در جهت بهبود کیفیت این فایل؛ لطفاً هرگونه انتقاد و پیشنهاد خود در مورد مطالب آن
و یا گزارش مشکل را به آدرس ایمیل و یا با شماره تلفن زیر مطرح نمایید:

آدرس ایمیل: soal@iranestekhdam.ir 

شماره تلفن تماس: ۰۴۱-۴۲۲۷۳۶۷۳ 

اخطار مهم

هرگونه حذف آرم یا لوگوی سایت ایران استخدام و یا اضافه کردن آرم؛ نوشته و محتوای دیگر از نظر
سایت ایران استخدام غیر مجاز می باشد.

[Www.IranEstekhdam.Ir](http://www.IranEstekhdam.Ir)



«توجه مهم»

جهت تهیه کتابهای آموزشی و دانلود سایر نمونه سوالات استخدامی به همراه پاسخنامه
به آدرس زیر مراجعه بفرمایید:

اینجا کلیک نمایید

سوالات آزمون بانک فرض الحسنة مهر ایران

۶۱- سه زن و شش مرد به نوبت در هر هفته کار می‌کنند. هر یک از فرزندان آنها در یک بارک هستند. حداقل تعداد افراد این فامیل که در بارک

$$4 + 4 + 4 + 12 = 32$$

$$4 + 4 + 4 + 12 = 32$$

۱	۲	۳	۴	۵	۶	۷	۸	۹	۱۰	۱۱	۱۲
۱۱	۱۲	۱۳	۱۴	۱۵	۱۶	۱۷	۱۸	۱۹	۲۰	۲۱	۲۲

۶۲- در کلاس، هیچ دو پسری در یک روز هفته تولد ندارند و هیچ دو دختری در یک ماه از سال به دنیا نیامده‌اند. اگر پسر یا دختر جدیدی وارد این کلاس شوند دست کم یکی از دو شرط بالا درست نخواهد بود. چند بچه در این کلاس هستند؟

۱۸	۱۹	۲۰	۲۱	۲۲
----	----	----	----	----

۶۳- همه دانش‌آموزان یک دبیرستان بیش از ۱۲ سال دارند. فرهاد دانش‌آموز این دبیرستان است. اگر حمله اولی و دوم درست باشند، حمله سوم

- ۱) حتماً درست است
- ۲) حتماً درست است
- ۳) ممکن است درست باشد
- ۴) ممکن است نادرست باشد

۶۴- اصلاح مکعبی ۰/۱ برابر شده است. سطح آن چند برابر می‌شود؟

۱) ۱	۲) ۱/۱	۳) ۱/۰	۴) تغییری نمی‌کند
------	--------	--------	-------------------

$$0 \rightarrow 70$$

$$24 = 18$$

$$28 + 7 + 10 + 24 = 69$$

$$48$$

$$61$$

$$94$$

۶۵- قرصی به عدد ۳ است به عدد ۱ چه عددی است؟

۶۶- میانگین دو عدد ۲۰ و میانگین سه عدد دیگر ۲۰ است. میانگین این ۵ عدد چند است؟

$$120 = 24 \times 5$$

$$120 = 24 \times 5$$

۶۷- در سری اعداد ۱، ۱/۲، ۱/۴، ۱/۸، ۱/۱۶ به جای علامت سوال چه عددی باید قرار گیرد؟

۶۸- روی یک کاغذ ۲۵ سانت و مربع چاق‌رنگ رسم شده است. اگر تعداد اضلاع ۹۲ باشد چند تا مربع خواهیم داشت؟

$$25 = \frac{12}{4} = 3$$

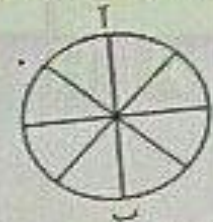
۶۹- وقتی ۲۰٪ از دهای غلی است آن ۳۰ لیتر بیشتر از وقتی که ۳۰٪ آن بر است آب می‌گردد. کاهش به چند لیتر است؟

۲۰	۲۵	۳۰
----	----	----

۷۰- بر روی یک تپه‌خنده تعداد ۱۰ قلمه گذاشته‌ایم. چند پارمخت بر روی آن تشکیل می‌شود؟

۲۵	۳۰	۳۵
----	----	----

۷۱- در شکل زیر، تعداد کل حالت‌هایی که می‌توان از خانه به خانه رسید کدام است؟ تنها حرکت رو به پایین مجاز است (حرکتی که شما را نسبت به وضعیت قبلی در جای پایین‌تری قرار دهد)



۷۲- در یک مرغزاری تعدادی سنگ برای محافظت از مرغ‌ها وجود دارد. در یک حمله گرگ‌ها توانستند $\frac{2}{3}$ مرغ‌ها و $\frac{1}{4}$ سنگ‌ها را یا خود ببرند. صبح روز بعد که حیوانات روبرو شده باشند مشخص کند در این مرغزاری کلاً چند سنگ و چند مرغ باقی مانده است؟

۱) ۲۴ مرغ و ۲۰ سنگ	۲) ۶۰ مرغ و ۲ سنگ	۳) ۱۶۸ مرغ و ۲ سنگ	۴) ۸۲ مرغ و ۲۰ سنگ
--------------------	-------------------	--------------------	--------------------

۷۳- مجموع روپنه‌های یک چشلمی ۳۱۶۰ درجه است. این چشلمی به ترتیب چند قطر و چند رأس دارد؟

۱) ۱۳ و ۲۰	۲) ۱۲ و ۲۵	۳) ۱۴ و ۲۲
------------	------------	------------

با توجه به توضیحات زیر به سوالات ۷۵ تا ۷۷ پاسخ دهید.

پنج لامپ که کنار هم به درستی از چپ به راست با شماره‌های ۱ تا ۵ شماره‌گذاری شده‌اند (مطابق شکل). با رعایت قوانین زیر می‌تواند به حالت روشن و خاموش



- اگر لامپ شماره یک روشن باشد، لامپ‌های ۲ و ۳ باید خاموش باشند.
- اگر لامپ‌های ۲ و ۳ با هم روشن باشند، لامپ دیگر باید خاموش باشد.
- اگر لامپ شماره ۵ خاموش باشد، از چهار لامپ دیگر، فقط دو لامپ مجاور هم باید روشن باشد.

۷۵- اگر لامپ ۲ روشن باشد، کدام لامپ (یا لامپ‌ها) لزوماً باید خاموش باشد؟
 ۱) فقط ۱ ۲) فقط ۲ ۳) ۱ و ۲ ۴) ۲، ۳ و ۵

۷۶- اگر لامپ ۲ روشن باشد، کدام لامپ (یا لامپ‌ها) لزوماً باید خاموش باشد؟
 ۱) فقط ۱ ۲) فقط ۲ ۳) ۱ و ۲ ۴) ۲ و ۳

۷۷- اگر همه لامپ‌ها خاموش باشند با تغییر حالت (روشن کردن) حداقل چند لامپ، می‌توان شرایطی را فراهم نمود که که هیچ یکی از قوانین فوق نقض نشود؟
 ۱) ۱ ۲) ۲ ۳) ۳ ۴) ۴

- سوالات ۷۸ تا ۸۰ هر یک حاوی دو اطلاع (تحت عنوان اطلاع I و اطلاع II) می‌باشد مطابق دستورالعمل زیر، پاسخ صحیح را مشخص کنید.
- اگر اطلاع I به تنهایی برای پاسخگویی به سوال مطرح شده کافی باشد ولی اطلاع II به تنهایی کافی نباشد (یا برعکس) گزینه ۱ را علامت بزنید.
 - اگر دو اطلاع I و II با هم برای پاسخگویی به سوال کافی باشند ولی هر کدام از این دو اطلاع به تنهایی برای پاسخگویی کافی نباشند، گزینه ۲ را علامت بزنید.
 - اگر هر کدام از دو اطلاع I و II به تنهایی برای پاسخگویی به سوال کافی باشند، گزینه ۳ را علامت بزنید.
 - اگر دو اطلاع I و II با هم نیز برای پاسخگویی به سوال کافی نباشند، گزینه ۴ را علامت بزنید.

۷۸- در مورد یک سری داده که شامل n عدد است ($n > 1$)، آیا می‌توانیم داده‌ها برابر مقدار n باشد؟
 I) اگر این n عدد را به صورت صعودی مرتب کنیم اختلاف میان هر دو عدد صافی برابر ۲ است.
 II) اختلاف میان بزرگترین و کوچکترین عدد سری برابر $2(n-1)$ می‌باشد.

۷۹- اگر x یک عدد صحیح مثبت و y یک عدد صحیح منفی باشد مقدار x^y چقدر است؟
 I) $x^y = \frac{1}{x^y}$
 II) $x^y = -x^y$

۸۰- در کسر $\frac{x}{y}$ ، اگر x و y اعداد صحیح مثبت باشند، مقدار $\frac{x}{y}$ چقدر است؟
 I) کوچکترین مخرج مشترک کسر $\frac{x}{y}$ و $\frac{1}{y}$ برابر ۶ است.
 II) $x^2 = ۹$

۸۱- برای استفاده از صوت و موزیک در کامپیوتر، تکنیک از گزینه‌های زیر ضروری نیست؟
 ۱) کارت صدا ۲) مودم ۳) فایل صوتی یا ویدیویی ۴) بلندگو

۸۲- کوچکترین عنصری که تصاویر از آن تشکیل می‌شوند، چه نام دارد؟
 ۱) بیت ۲) بایت ۳) پیکسل ۴) اینچ

۸۳- برای اتصال اینترنت به کامپیوتر از چه کارایی استفاده می‌شود؟
 ۱) صدا ۲) مودم ۳) گرافیکی ۴) نور

۸۴- انتخاب کدام گزینه باعث می‌شود تا آپکون‌ها بر اساس تعداد بایت‌های مرتب شوند؟
 ۱) By Name ۲) By Type ۳) By Date ۴) By Size

۸۵- دکمه برنامه‌های در حال اجرا روی کدام نوار قرار می‌گیرد؟
 ۱) Tool Bar ۲) Address Bar ۳) Task Bar ۴) Menu Bar

سوالات آزمون بانک قرض الحسنه مهر ایران

۸۶- پنجره My Computer

(۱) حافظه‌ای برای نگهداری اطلاعات است

(۳) برنامه‌ای برای مدیریت سخت‌افزار است

(۲) پنجره‌ای برای مدیریت و سازماندهی فایل‌ها، پوشه‌ها و درایوها است

(۲) برنامه‌ای برای سازماندهی تمام امور کامپیوتر است

۸۷- کدامیک از موارد زیر توسط منوی Start انجام می‌گردد؟

(۱) اجرای برنامه‌ها و بار کردن فایل‌ها

(۳) خروج از ویندوز و خاموش کردن کامپیوتر

(۲) تغییر تنظیمات سیستم و پیدا کردن فایل‌ها و پوشه‌ها

(۲) همه موارد

۸۸- اگر بر روی یک آیکون کلیک کرده و دکمه چپ ماوس را رها نکنیم و آن را به سمت دلخواه خود بکشیم و سپس مجدداً کلید سمت چپ را رها کنیم چه عملی انجام داده‌ایم؟

(۱) Drag and Drop

(۲) Double Click

(۳) Tool Bar

(۴) Click

۸۹- برای ارسال یک پیام به چندین گیرنده در بین آدرس آنها از چه علامتی استفاده می‌شود؟

(۱) @

(۲) :

(۳) .

(۴) -

۹۰- برای نمایش صفحه پیش‌فرض مرورگر از کدام گزینه نوار ابزار استاندارد استفاده می‌کنیم؟

(۱) Favorites

(۲) Home

(۳) History

(۴) Research

۹۱- موضوع پیام در کدام قسمت نوشته می‌شود؟

(۱) To

(۲) CC

(۳) Subject

(۴) BCC

۹۲- کدام مفهوم برای کلمه رمز به کار نمی‌رود؟

(۱) DNS

(۲) Password

(۳) Access Number

(۴) Username

۹۳- جهت جابه‌جایی بین پنجره‌های باز از ترکیب کلیدهای _____ استفاده می‌شود

(۱) Alt+Esc

(۲) Ctrl+Z

(۳) Alt+Tab

(۴) Ctrl+V

۹۴- هنگام چاپ اطلاعات یک فایل متنی از کدام گزینه برای مشخص کردن محدوده چاپ استفاده می‌شود؟

(۱) To

(۲) Until

(۳) :

(۴) -

۹۵- برای توجیه یادرفی در Word از چه گزینه‌ای استفاده می‌شود؟

(۱) Header از سربرگ Review

(۳) Reference از سربرگ Insert Endnote

(۲) Footnote از سربرگ Reference

(۴) موارد ۲ و ۳

۹۶- برای تغییر اندازه کاغذ در Word از چه گزینه‌ای استفاده می‌شود؟

(۱) گزینه Size از سربرگ Insert

(۳) گزینه Size از سربرگ View

(۲) گزینه Page Scale از سربرگ Page Layout

(۴) گزینه Size از سربرگ Page Layout

۹۷- چنانچه دکمه Ctrl را در حین Drag کردن یک شکل فشار داده و پایین نگه دارید آن شکل به جای اینکه _____ شود _____ می‌گردد

(۱) کمی - جابه‌جا

(۲) جابه‌جایی - کمی

(۳) جابه‌جایی - قویتر

(۴) همه موارد ممکن است

۹۸- کدام فرمان برای لغو آخرین عمل انجام شده به کار می‌رود؟

(۱) Redo

(۲) Cut

(۳) Undo

(۴) Paste

۹۹- برای مرتب کردن یک لیست در اکسل، _____

(۱) گزینه Sort را از منوی Data انتخاب می‌کنیم

(۳) گزینه Arrange را از منوی Data انتخاب می‌کنیم

(۲) گزینه Form را از منوی Data انتخاب می‌کنیم

(۴) گزینه Auto Filter را از منوی Data انتخاب می‌کنیم

۱۰۰- در Excel گزینه Shrink To Fit _____

(۱) سلول را کوچک می‌کند

(۳) متن را بزرگ می‌کند

(۲) سلول را بزرگ می‌کند تا متن در آن بگنجد

(۴) متن را کوچک می‌کند تا در سلول بگنجد

- 101- Othar is not in class. Does anyone know where
 1) he went 2) did he go 3) went he 4) he did go
- 102- the economy is uncertain, people tend to spend less.
 1) but 2) when 3) while 4) whereas
- 103- I saw an accident last night. Somebody called an ambulance but nobody
 1) was injured 2) injured 3) will be injured 4) had injured
- 104- The photos of the match were all black and white.
 1) to take 2) taking 3) taken 4) were taken
- 105- It is important for her a good job after graduation from university.
 1) to find 2) finding 3) that find 4) to finding
- 106- He had worked his parents were proud of him.
 1) serious enough 2) so serious that 3) too serious 4) so seriously that
- 107- When she opened her eyes, she saw a white standing by her side.
 1) object 2) event 3) member 4) view
- 108- I opened the door and walked in so that nobody noticed my getting in.
 1) actually 2) patiently 3) silently 4) ignorantly
- 109- According to doctors, exercise and good diet are the means of living a life.
 1) worried 2) healthy 3) skilled 4) rapid
- 110- My classmates and I try to a close friendship that can last for years in the future.
 1) allow 2) educate 3) build 4) value
- 111- Do you really think that you'll be to pass your driving test.
 1) able 2) honest 3) blind 4) useful
- 112- After a long they finally decided to move to another city.
 1) possibility 2) preference 3) discussion 4) observation
- 113- The shop was very crowded and a large of people was standing in line.
 1) skill 2) fact 3) audience 4) number
- 114- He didn't work on the problem enough to get the result, so he changed the method.
 1) strongly 2) heavily 3) efficiently 4) firmly
- 115- If you want to make your speech effective, try to have eye with your listeners.
 1) goal 2) design 3) touch 4) contact

Close Test:

People in different countries may use different sign languages. An Englishman who could ... (116)... little Italian was once in Italy. One day he went into a restaurant to eat. When the waiter came, the Englishman ... (117)... his mouth, put his fingers into it and took them out again and moved his lips. In this way, he ... (118)... to say, "Bring me something to eat." The waiter brought him a lot of things to drink, but no food! The Englishman was ... (119)... that he was not able to tell the waiter he was hungry. He was to leave the restaurant when another man came in and put his hands on his stomach. And this sign was ... (120)... enough for the waiter and in a few minutes, the waiter brought him food. At once, the Englishman could get his meal in the same way.

- 116-
 1) speak 2) discuss 3) produce 4) say
- 117-
 1) reached for 2) touched 3) opened 4) pointed to
- 118-
 1) meant 2) needed 3) decided 4) refused
- 119-
 1) strange 2) proud 3) sorry 4) needy
- 120-
 1) quick 2) modern 3) strong 4) clear

۱۳۱- اگر A مجموعه اعداد طبیعی دو رقمی باشد، آنگاه زیرمجموعه‌ای از A که عضوهای آن به صورت $5k$ و $k \in A$ است، چند عضو دارد؟
 ۱۲ (۴) ۱۱ (۳) ۱۰ (۳) ۹ (۱)

۱۳۲- اگر A و B دو مجموعه تهی نباشند، مجموعه $(A - B) \cup B$ کدام است؟
 $A \cup B$ (۴) $A \cap B$ (۳) B (۲) $A \setminus B$ (۱)

سوالات آزمون بانک فرض الحسد شهر ایران

۱۵/۷

۱۲۲- اگر $\log_2 a = \log_2 b = \log_2 c$ باشد و a, b, c کتبی است؟

۱-۲

۱۲۳-۲

۱۲۳- قطر داخلی $5^2 + 12^2 = 13^2$ و $13^2 + 14^2 = 17^2$ و $17^2 + 18^2 = 23^2$ و $23^2 + 24^2 = 29^2$ کتبی است؟

۲۲-۲

۱۲۴-۲

۱۲۴- اگر $x^2 + 2x - 1 = 0$ و $x^2 - 2x - 1 = 0$ حلش را با هم جمع کنیم عبارت درجه اول کتبی است؟

$(x+2)(x-1)$ ۲

$(x+1)(x-2)$ ۲

$(x-1)(x+1)$ ۲

$(x-1)(x-1)$ ۲

۱۲۵- مثلث ABC و D نقطه AB است طوری که $AD = 2$ و $DB = 3$ و $CD = 4$ و $AC = 5$ و $BC = 6$ و $AB = 5$ و CD بر AB عمود است؟

$\sqrt{2}$ ۲

$\sqrt{3}$ ۲

$\sqrt{5}$ ۲

۱۲۶- کتبی است که $x^2 + y^2 = 1$ و $x + y = 1$ را حل کند؟

$x + y + 1 = 0$ ۲

$x + y + \sqrt{2} = 0$ ۲

$x + y - \sqrt{2} = 0$ ۲

$x + y - 1 = 0$ ۲


۱۲۷- حاصل ضرب $(\sqrt{2} - \sqrt{3} + \sqrt{5}) - \sqrt{2}$ کتبی است؟

$\sqrt{2}$ ۲

$\sqrt{3}$ ۲

۱۲

۱۲۸- با توجه به شکل مقابل $\sin A$ چقدر است؟



$\frac{2}{5}$ ۲

$\frac{3}{5}$ ۲

۱۲۹- کدامیک از زوج مرتبهای زیر، صرفاً زوج است؟

$\{(2, 2), (2, 2), (2, 2), (2, 2)\}$ ۲

$\{(2, 2), (2, 2), (2, 2), (2, 2)\}$ ۲

$\{(2, 2), (2, 2), (2, 2), (2, 2)\}$ ۲

$\{(2, 2), (2, 2), (2, 2), (2, 2)\}$ ۲

۱۳۰- اگر مجموع دو عدد ۵۵ و حاصل ضرب آنها ۴ باشد است عدد بزرگتر به کوچکتر کتبی است؟

$\frac{11}{2}$ ۲

۲۲

$\frac{4}{2}$ ۲

۱۳۱- نمودار تابع $y = x^2 + 2x + 2$ را در مبدأ محاسبات می‌گذرد؟

محور x را قطع نمی‌کند ۲

محور y را به عرض ۲ قطع می‌کند ۲

محور x را به عرض ۲ قطع می‌کند ۲

محور y را به عرض ۲ قطع می‌کند ۲

۱۳۲- نمودار کتبی تابع زیر، دارای ماکزیمم و خط $x = 1$ محور تقارن آن است؟

$y = -2x - x^2$ ۲

$y = 2x + x^2$ ۲

$y = 2x - x^2$ ۲

$y = x^2 - 2x$ ۲

۱۳۳- اگر جمله نوازیسم یک تصاعد حسابی با قدر نسبت ۲ برابر ۳۴ باشد جمله هجدهم آن کتبی است؟

۵۲ ۲

۵۰ ۲

۲۸ ۲

۲۶ ۲

۱۳۴- اگر $\log_2 a = \log_2 b = \log_2 c$ باشد $\log_2 a + \log_2 b + \log_2 c$ کتبی است؟

$a + b - 2$ ۲

$a + b - 1$ ۲

$a + b - 2$ ۲

$a + b - 1$ ۲

۱۳۵- در یک جدول 10×10 بیشترین داده ۵۰ است. تعداد دستهای 10 و طول دستهای 5 است. کمترین داده کتبی است؟

۱۰ ۲

۲۰ ۲

۳۰ ۲

۴۰ ۲

سوالات آزمون بانک فرض الحسنه مهر ایران

$$16 + 16 + 16 + 16 + 16 + 16 + 16 + 16 + 16 + 16 = 160$$

137- توزیع گروههای حوضی تعدادی از افراد به صورت جدول مقابل است. فرض کنید هر فرد در هر گروه یک نفر است.

15 (1)	10 (3)	15 (1)
15 (2)	20 (2)	15 (2)

138- میانه دادههای 15 و 14 و 13 و 11 و 10 و 15 و 13 و 11 و 13 و 14 و 13 است.

13/5 (1)	13 (2)	13/5 (3)
----------	--------	----------

139- اگر $\sum_{i=1}^n (x_i - \bar{x})^2$ باشد مقدار عبارت $\sum_{i=1}^n (x_i - \bar{x})$ کدام است؟

10 (1)	1 (3)	0 (2)
--------	-------	-------

140- واریانس دادههای $2, 3, 1, 1, 2$ کدام است؟

8 (1)	16 (3)	2 (2)
-------	--------	-------

141- بر اساس آخرین مقررات ابلاغی بانک مرکزی سود سپردههای بانکی در چه اساس محاسبه می‌شود؟

1 (1)	2 (2)	3 (3)
-------	-------	-------

142- کدامیک جزء اهداف بانک فرض الحسنه مهر ایران می‌باشد؟

1 (1)	2 (2)	3 (3)
-------	-------	-------

143- سپردهای به مبلغ 1000000 ریال با نرخ سود سالانه 20 درصد بدون تقابل مبلغ سپرده در پایان یک سال از لحاظ ارزش است.

1000000 (1)	1200000 (3)	1170000 (2)
-------------	-------------	-------------

144- کدامیک از انواع چکهای زیر قابل انتقال به غیر می‌باشد؟

1 (1)	2 (2)	3 (3)
-------	-------	-------

145- کدامیک از بانکهای کشور بیشترین تعداد سهام را دارد؟

1 (1)	2 (2)	3 (3)
-------	-------	-------

146- ارزش بازار کدامیک از بانکهای کشور در بورس اوراق بهادار بیش است؟

1 (1)	2 (2)	3 (3)
-------	-------	-------

147- اگر نرخ ذخیره قانونی سپردههای بانکی کاهش یابد ذخایر نقدی بانکها و قدرت وامدهی آنها چگونه خواهد بود؟

1 (1)	2 (2)	3 (3)
-------	-------	-------

148- کدامیک از موارد زیر اساساً توسط هر بانک تعیین و اعلام می‌شود؟

1 (1)	2 (2)	3 (3)
-------	-------	-------

149- در شرایطی که به دلیل بحران اقتصادی نرخ بهره و ذخایر کاهش یافته باشد و سطح قیمتها در حال کاهش است کدام یک از موارد زیر صحیح است؟

1 (1)	2 (2)	3 (3)
-------	-------	-------

150- ارزش منسبتی است؟

1 (1)	2 (2)	3 (3)
-------	-------	-------

151- اگر نرخ ذخیره قانونی سپردههای بانکی کاهش یابد ذخایر نقدی بانکها و قدرت وامدهی آنها چگونه خواهد بود؟

1 (1)	2 (2)	3 (3)
-------	-------	-------

سوالات آزمون بانک قرض الحسنه مهر ایران

۱۵۰- اعمال سپاسنامه‌های پولی در عهده کدامیک از نهادهای حاکمیتی کشور می‌باشد؟
 (۱) بانک مرکزی (۲) دولت

(۳) شورای پول و اعتبار

(۴) وزارت اقتصاد

۱۵۱- کدامیک از ابزارهای زیر برای انتقال وجه، دارای سرعت بیشتری است؟
 (۱) سانا (۲) کارت به کارت (۳) پایا

(۴) چک بانکی

۱۵۲- کدامیک از سیستم‌های سنجش سلامت عملکرد و ثبات مالی، ویژه بانکها و موسسات مالی - اعتباری می‌باشد؟
 (۱) سیستم‌های سوئداری (۲) سیستم‌های فعالیت (۳) سیستم‌های نقدینگی (۴) نسبت کفایت سرمایه

(۴) نسبت کفایت سرمایه

۱۵۳- علی‌ترین نهاد بین‌المللی برای نظارت بانکی، کدام است؟
 (۱) اتاق بازرگانی بین‌المللی (۲) صندوق بین‌المللی پول (۳) بانک جهانی (۴) کمیته بال

(۴) کمیته بال

(۳) بانک جهانی

۱۵۴- کدامیک از ارکان چک، لزماً باید هم به عدد و هم به حروف نوشته شود؟
 (۱) تاریخ چک (۲) مبلغ چک (۳) هم تاریخ و هم مبلغ چک (۴) هیچکدام

(۴) هیچکدام

(۳) هم تاریخ و هم مبلغ چک

۱۵۵- تفاوت دستگاه خودپرداز و کیوسک‌ملک در چیست؟
 (۱) پرداخت وجه (۲) انتقال وجه

(۴) پرداخت قبض

(۳) خرید شارژ

۱۵۶- در کدامیک از شیوه‌های انتقال وجه بین بانکی، از شماره شای حساب در بانک مقصد استفاده می‌شود؟
 (۱) سانا و پایا (۲) کارت به کارت در دستگاه خودپرداز، چک رمزدار بین بانکی (۳) پایا، کارت به کارت در دستگاه خودپرداز (۴) سانا، چک رمزدار بین بانکی

(۴) سانا، چک رمزدار بین بانکی

۱۵۷- در حال حاضر، حداکثر مدت و نرخ سود سیردهما که توسط بانک مرکزی ابلاغ شده، به ترتیب چقدر است؟
 (۱) پنج ساله، ۲۰ درصد (۲) یک ساله، ۱۵ درصد (۳) پنج ساله، ۱۸ درصد (۴) یک ساله، ۱۸ درصد

(۴) یک ساله، ۱۸ درصد

(۳) پنج ساله، ۱۸ درصد

(۲) یک ساله، ۱۵ درصد

۱۵۸- در صورتی که به هر دلیلی امکان واریز وجه به حساب ذینفع مندرج در دستور پرداخت سانا وجود نداشته باشد، وجه مورد نظر حداکثر تا چه زمانی به حساب انتقال‌دهنده عودت می‌گردد؟
 (۱) ۲۲ ساعت بعد (۲) ۴۸ ساعت بعد (۳) همان روز کاری (۴) پایان روز کاری بعد

(۴) پایان روز کاری بعد

(۳) همان روز کاری

۱۵۹- کدامیک از موارد زیر، موجب کاهش نقدینگی در جامعه می‌گردد؟
 (۱) پرداخت تسهیلات توسط بانکها (۲) افزایش بارانهای نقدی (۳) فروش ارز به مردم (۴) استقرار دولت از بانک مرکزی

(۴) استقرار دولت از بانک مرکزی

(۴) افزایش بارانهای نقدی

۱۶۰- ایجاد وحدت فرماندهی و مدیریت و نظارت هستند بر صنعت پرداخت الکترونیکی کشور، بر عهده کیست؟
 (۱) شرکت‌های PSP (۲) شرکت شاپری (۳) شرکت ملی مخابرات (۴) وزارت ارتباطات و فن آوری اطلاعات

(۴) وزارت ارتباطات و فن آوری اطلاعات

۱۶۱- منظور از وجوه اناره شده چیست؟
 (۱) تسهیلاتی است که با یک یا چند مورد از شواهد اعتباری بانکها مناسبتی نداشته و بانکها بر اساس مصوبات مراجع خارج از سیستم بانکی، مسئول اعطای این گونه تسهیلات می‌باشند. (۲) وجوهی است که طبق قرارداد یا قانون، برای مصارف مشخص در اختیار بانک قرار داده می‌شود و بانک به نیت از واگذارنده وجوه، آن را به مصارف تعیین شده می‌رساند. (۳) وجوهی است که تحت عنوانی نظیر انوجه قانونی، ذخیره قانونی، ذخیره احتیاطی و ... در حسابهای خاصی قرار گرفته و از اداره بانک خارج شده و از محل آنها امکان پرداخت تسهیلات وجود ندارد. (۴) همان وجوه موجود در صندوق توسعه ملی و صندوق ذخیره ارزی می‌باشد.

۱۶۲- توسعه بازار ارز و ایجاد قراردادهای جدید ارزی نظیر سلف، آن و اختیار برای چیست؟
 (۱) رونق دادن به بازار ارز (۲) کاهش هزینه مبادلات ارزی (۳) کاهش ریسک‌های مربوط به بازار ارز (۴) تسریع در جلب سرمایه‌گذاری‌های خارجی

(۲) کاهش هزینه مبادلات ارزی

(۴) تسریع در جلب سرمایه‌گذاری‌های خارجی

(۳) تسریع در جلب سرمایه‌گذاری‌های خارجی

سوالات آزمون بانک قرض الحسنه مهر ایران

۸

۱۶۲- کدامیک از موارد زیر از تفاوت‌های صندوق بین‌المللی پول و بانک جهانی می‌باشد؟

- ۱) تسهیلات صندوق بین‌المللی پول صرفاً به اعضاء و با تأیید اکثریت تعلق می‌گیرد ولی تسهیلات بانک جهانی مشمول کلیه کشورهای در حال توسعه می‌شود.
- ۲) هدف از تأسیس بانک جهانی، تسهیل و گسترش همکاری‌های پولی و تجارت بین‌الملل است در حالی که هدف از تأسیس صندوق بین‌المللی پول کاهش فقر و بهبود سطح استاندارد زندگی در دنیا می‌باشد.
- ۳) پرداخت‌های بانک جهانی در راستای کمک به کشورهای دارای کسری تراز پرداخت‌ها است در حالی که منابع صندوق بین‌المللی پول در راه گسترش بهداشت، آموزش و ... در کشورهای فقیر می‌باشد.
- ۴) بانک جهانی وظیفه استانداردسازی سیاست‌ها و مقررات بانکداری بین‌المللی را بر عهده دارد در حالی که صندوق بین‌المللی پول قوانین جهانی تجارت را تنظیم می‌کند.

۱۶۳- پایه پولی چیست؟

- ۱) مجموع دارایی‌های داخلی و خارجی بانک مرکزی
 - ۲) میزان ذخایر طلا
 - ۳) مجموع سیرده‌های قانونی بانکها نزد بانک مرکزی
 - ۴) میزان اسکناس و مسکوکات نزد مردم
- ۱۶۵- سپرده قانونی، مهم‌ترین ابزار سیاست _____ و تغییر نرخ بهره، مهم‌ترین ابزار سیاست _____ است.
- ۱) مالی، پولی ۲) پولی، مالی ۳) پولی، پولی ۴) مالی، مالی

۱۶۶- اگر مجموع ذخایر قانونی ۳۰ واحد و مجموع وام‌های دریافتی ۱۶۰ واحد باشد، حجم سیرده‌ها چقدر خواهد بود؟

۱) ۱۴۰ ۲) ۱۰۰ ۳) ۲۰۰ ۴) ۸۰

۱۶۷- کدامیک از موارد زیر، از پیش‌شرط‌های تحقق سیاست ارز تکمیل نییافته است؟

- ۱) کاستن از تقاضای سفته‌بازی ارز
- ۲) دارا بودن منابع ارزی کادری
- ۳) برقراری روابط کارگزاری با بانک‌های خارجی
- ۴) ثبات در بازار ارز

۱۶۸- وظیفه اعمال سیاست پولی بر عهده _____ و وظیفه اعمال سیاست مالی بر عهده _____ است.

۱) دولت، بانک مرکزی ۲) دولت، دولت ۳) بانک مرکزی، دولت ۴) بانک مرکزی، بانک مرکزی

۱۶۹- در کدام روش کلاهبرداری، قربانیان به صورت مستقیم اطلاعات محرمانه و حساس خود را در وبسایت‌های جعلی که در ظاهر کاملاً شبیه وبسایت‌های سالم و قانونی می‌باشد وارد می‌نمایند؟

۱) Trojan ۲) Skimmer ۳) DDos ۴) phishing

۱۷۰- در آغاز به کار بانک قرض الحسنه مهر ایران، علاوه بر شعب مستقل واگذار شده توسط بانک‌های سهام‌دار، واحدهای آن در شعب منتخب کدام بانکها قرار داشت؟

۱) ملی و سپه ۲) ملی و صادرات ۳) صادرات و سپه ۴) توسعه صادرات ایران و تجارت



«توجه مهم»

جهت تهیه کتابهای آموزشی و دانلود سایر نمونه سوالات استخدامی به همراه پاسخنامه
به آدرس زیر مراجعه بفرمایید:

اینجا کلیک نمایید



ایران استخدا م

سرویس خصوصی خدمات عام المنفعه اخبار شغل و استخدام

[Www.IranEstekhdam.Ir](http://www.IranEstekhdam.Ir)

خواننده گرامی؛ در جهت بهبود کیفیت این فایل؛ لطفاً هرگونه انتقاد و پیشنهاد خود در مورد مطالب آن
و یا گزارش مشکل را به آدرس ایمیل و یا با شماره تلفن زیر مطرح نمایید:

آدرس ایمیل: soal@iranestekhdam.ir

شماره تلفن تماس: ۴۱-۴۲۲۷۳۶۷۳



اخطار مهم

هرگونه حذف آرم یا لوگوی سایت ایران استخدام و یا اضافه کردن آرم؛ نوشته و محتوای دیگر از نظر
سایت ایران استخدام غیر مجاز می باشد.