

## بخشی از محصول:

سوالات ۷ درس عمومی آزمون های استخدامی به همراه پاسخ تشریحی - تستی



# ایران استخدام

سرویس خصوصی خدمات عام المنفعه اخبار شغل و استخدام

[Www.IranEstekhdam.Ir](http://www.IranEstekhdam.Ir)

### ! اخطار مهم!

این فایل بخشی از نمونه سوالات اختصاصی و ثبت شده سایت ایران استخدام (شرکت آلتین سیستم) بوده و قوانین مربوط به حوزه حمایت از حقوق مؤلفین و ناشرین جمهوری اسلامی ایران بر آن حاکم می باشد. هرگونه سوء استفاده از این فایل همانند استفاده از محتوا در تهیه کتب و یا قرار دادن تمام یا بخشی از آن در وب سایت های دیگر، چه برای فروش و چه به صورت رایگان شرعاً حرام و قانوناً خلاف مقررات و قوانین کشورمان می باشد. با توجه به هزینه های صرف شده و تلاش صورت گرفته برای تهیه این بسته، در صورت مشاهده یا گزارش هرگونه کپی برداری از آن: بدون هیچ گونه تماس قبلی و هشدار اقدام به پیگیری حقوقی خواهیم نمود.

کاربران گرامی لطفا دقت فرمایید، این فایل تنها بخشی از محصول ویژه سوالات ۷ درس عمومی آزمون های استخدامی به همراه پاسخ تشریحی - تستی می باشد که به صورت رایگان و برای آشنایی شما عزیزان از کیفیت و محتوای فایل معرفی شده ارائه شده است، لطفاً جهت خرید و دانلود کامل این محصول، روی لینک زیر کلیک فرمایید.

**لینک دانلود و خرید بسته کامل**



**بخش اول:**

**فناوری اطلاعات و مهارت های هفتگانه I.C.D.L**

## سوالات عمومی آزمون های استخدامی به همراه پاسخ تشریحی سوالات

۱- در نرم افزار **Power Point**، با استفاده از کدام یک از ابزارهای زیر، می توان زمان بندی ارائه را قبل از انجام آن، تنظیم کرد؟  
([www.iranestekhdam.ir](http://www.iranestekhdam.ir))

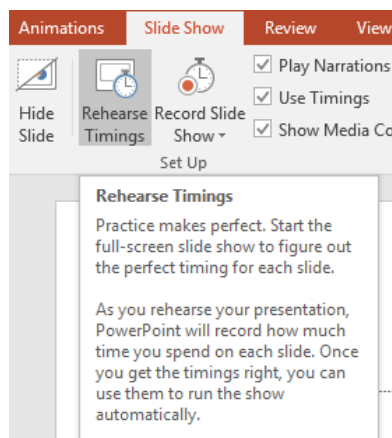
Present online (۱)

Animation Duration (۲)

Rehearse Timings (۳)

Animation Timing (۴)

پاسخ کارشناس ایران استخدام: گزینه ۴



گزینه **Rehearse Timings** برای تنظیم زمان بندی بین اسلاید ها بکار می رود. با کلیک بر روی این گزینه اسلاید ها به صورت تمام صفحه اجرا خواهند شد و در گوشه ی کادر نمایش، نوار ابزار **Rehearse Timings** قابل نمایش است که زمان نمایش هر اسلاید را ضبط خواهد کرد، در آخر نمایش تمامی اسلاید ها از شما سوال خواهد شد که آیا دوست دارید که زمان بندی اجرای اسلاید های شما به همین زمان ضبط شده نمایش داده شود یا خیر؟ که در صورت مثبت بودن پاسخ اسلاید هایتان طبق همین وضعیتی که الان زمان بندی کردید، نمایش داده خواهد شد.

۲- عملیات **Restore** در سیستم عامل **Windows 7**، چه تعداد از موارد زیر را انجام می دهد؟ ([www.iranestekhdam.ir](http://www.iranestekhdam.ir))

- برگرداندن فایل های پاک شده

- حذف کردن برنامه های نصب شده پس از **Restore Point**

- برگرداندن تنظیمات سیستم به هنگام ایجاد **Restore Point**

۳ (۴)

۲ (۳)

۱ (۲)

صفر (۱)

پاسخ کارشناس ایران استخدام: گزینه ۲

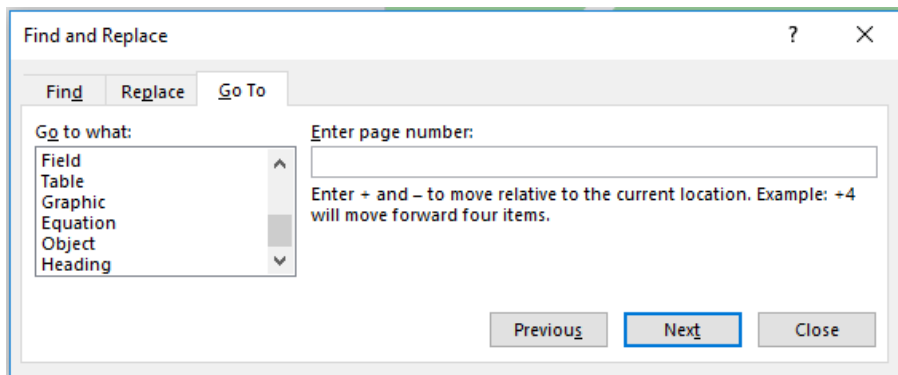
گاهی اوقات بروز یک رویداد غیرمنتظره باعث اختلال در عملکرد سیستم عامل می شود. در چنین شرایطی ممکن است اطلاعات کلیدی سیستم مانند نرم افزارهای راه انداز دستگاه های جانبی، تنظیمات محیط سیستم عامل ویندوز و تنظیمات سفارشی کاربران از بین برود. برای رفع این مشکل، سیستم عامل ویندوز **System Restore**، را معرفی کرده است. این ابزار پرونده های سیستمی سیستم عامل ویندوز 7 را به وضعیت مطلوب گذشته برمی گرداند. این ابزار ضمن برگرداندن سیستم به وضعیت ذخیره شده ی قبلی، پرونده های کاربر (مانند، ایمیلها، اسناد، تصاویر و ...) را تغییر نمی دهد.

**System Restore** برنامه ها و راه اندازهایی را که پس از تاریخ نقطه بازگشت مورد نظر، نصب شده باشند نادیده می گیرد.

۳- کدام مورد درخصوص ابزار **Go to** در نرم افزار **Word**، صحیح است؟ ([www.iranestekhdam.ir](http://www.iranestekhdam.ir))

- (۱) برای رفتن به **Comment** ایجاد شده قبل از مکان فعلی نشانگر، قابل استفاده نیست.
- (۲) تنها کاربرد این ابزار، برای باز کردن و رفتن به سندهای دیگر است.
- (۳) از این ابزار می توان برای رفتن به **Heading** های مختلف استفاده کرد.
- (۴) برای رفتن به صفحات موجود قبل از مکان فعلی نشانگر، قابل استفاده نیست.

پاسخ کارشناس ایران استخدام: گزینه ۳



از ابزار **Go To** برای مرور قسمت های مختلف سند استفاده می شود. جهت استفاده از این ابزار لازم است از سربرگ **Home** گروه **Editing** فلش رو به پایین عبارت **Find** کلیک چپ کنید و بر روی گزینه **Go To** کلیک کنید. کلید میانبر این گزینه استفاده از کلید های ترکیبی **Ctrl + G** می باشد. با کلیک بر روی گزینه **Go To** کادر محاوره ای **Find Replace** باز می شود. با توجه به گزینه های موجود در قسمت **Go to What** شما هر کدام از آن موارد را میتوانید کلیک کنید و بین آن ها جابجا شود. از این ابزار برای رفتن به **Comment** های قبلی و بعدی و نیز صفحات قبلی و بعدی استفاده می شود.

## سوالات عمومی آزمون های استخدامی به همراه پاسخنامه تستی سوالات

۱- در حافظه **ROM** ..... نگهداری می شود. ([www.iranestekhdam.ir](http://www.iranestekhdam.ir))

- (۱) برنامه های لازم برای راه اندازی کامپیوتر
- (۲) اطلاعات و فایل های کاربر
- (۳) اطلاعات به صورت موقت
- (۴) ۱ و ۳

۲- اگر بخواهیم یک فایل را بدون فرستادن به سطل زباله (**Recycle bin**) از بین ببریم، از چه فرمانی استفاده می کنیم؟

([www.iranestekhdam.ir](http://www.iranestekhdam.ir))

- (۱) Delete      (۲) Alt + Delete      (۳) Ctrl + Delete      (۴) Shift + Delete

۳- کدام گزینه یک واحد خروجی نیست؟ ([www.iranestekhdam.ir](http://www.iranestekhdam.ir))

- (۱) Keyboard      (۲) Scanner      (۳) Mouse      (۴) همه موارد

## پاسخنامه تستی سوالات

شماره سوال	گزینه صحیح
سوال ۱	۱
سوال ۲	۴
سوال ۳	۴



کاربران گرامی لطفا دقت فرمایید، این فایل تنها بخشی از محصول ویژه سوالات ۷ درس عمومی آزمون های استخدامی به همراه پاسخ تشریحی - تستی می باشد که به صورت رایگان و برای آشنایی شما عزیزان از کیفیت و محتوای فایل معرفی شده ارائه شده است، لطفاً جهت خرید و دانلود کامل این محصول، روی لینک زیر کلیک فرمایید.

**لینک دانلود و خرید بسته کامل**



**بخش دوم:**

**ریاضی و آمار مقدماتی**



سوالات عمومی آزمون های استخدامی به همراه پاسخ تشریحی سوالات

۱- حاصل  $\sqrt{0/14} + \sqrt{0/016} - \sqrt{(\frac{24}{7})(\frac{56}{1920})}$  کدام است؟ (www.iranestekhdam.ir)  
 (۱) ۰/۱ (۲) ۰/۴ (۳) ۰/۳ (۴) ۰/۲

پاسخ کارشناس ایران استخدام: گزینه ۴

$$\begin{aligned} \sqrt{0.14} + \sqrt{0.016} &= \sqrt{\frac{14}{100} + \frac{4}{10\sqrt{10}}} = \frac{1}{10}(\sqrt{14 + 4\sqrt{10}}) \\ \sqrt{\frac{24}{7} \times \frac{8 \times 7}{24 \times 80}} &= \frac{1}{\sqrt{10}} \\ \rightarrow \frac{1}{10}(\sqrt{14 + 4\sqrt{10}} - \sqrt{10}) &\xrightarrow{\sqrt{10}=3.33} \sqrt{14 + 4(3.33)} = 5.3 \\ 5.33 - 3.3 &\approx 2 \\ \frac{1}{10}(2) &= \frac{2}{10} \end{aligned}$$

۲- طول یک مثلث قائم الزاویه، تشکیل دنباله حسابی می دهند. اگر محیط این مثلث ۴۸ واحد باشد، مساحت مثلث بر حسب واحد مربع کدام است؟ (www.iranestekhdam.ir)

(۱) ۵۴ (۲) ۷۲ (۳) ۹۶ (۴) ۱۲۰

پاسخ کارشناس ایران استخدام: گزینه ۳

اگر سه عدد  $x, y, z$  با هم تشکیل تصاعد حسابی بدهند بین آنها رابطه زیر برقرار است:

$$2y = x + z$$

از طرفی در مثلث قائم الزاویه رابطه زیر برقرار است

$$z^2 = x^2 + y^2$$

محیط مثلث هم ۴۸ گفته پس:

$$x + y + z = 48 \xrightarrow{2y=x+z} y + 2y = 48 \rightarrow y = 16 \rightarrow x + z = 32$$

$$z^2 = x^2 + y^2 \xrightarrow{y=16, x=32-z} z^2 = (32 - z)^2 + 16^2 = 1024 + z^2 - 64z + 256$$

$$64z = 1024 + 256 = 1280 \rightarrow z = 20$$

$$x = 12$$

$$s = \frac{1}{2} xy = \frac{1}{2}(12)(16) = 96$$

۳- برای داده های نمودار ساقه و برگ زیر، اختلاف زاویه ی مربوطه به داده ۱۵ و ۲۵ در نمودار دایره ای چند درجه است؟  
(Www.iranestekhdam.ir)

ساقه	برگ				
.	4	7	9		
۱	0	1	2	5	5 9
۱	2	3	5	7	9

۲۸ (۱)      ۳۸ (۲)      ۴۸ (۳)      ۵۸ (۴)

پاسخ کارشناس ایران استخدام: گزینه ۳

راه حل اول:

با توجه به نمودار شاخه و برگ تعداد داده ها ۱۵ می باشد و فراوانی عدد ۱۵ برابر ۳ و فراوانی عدد ۲۵ نیز برابر ۱ است. پس با توجه به اطلاعات فوق زاویه هر کدام در نمودار دایره ای برابر است با :

$$\frac{360}{n} \times f_i = \theta$$

$$\theta_{15} = \frac{360}{15} \times 3 = 72$$

$$\theta_{25} = \frac{360}{15} \times 1 = 24$$

$$72 - 24 = 48$$

راه حل دوم:

در کل ۱۵ داده داریم ، عدد ۱۵ سه بار تکرار شده و عدد ۲۵ تنها یکبار زاویه مناسب با هر عضو در نمودار دایره ای برابر  $\frac{360}{15}$  است پس داریم:

$$\Delta\theta = 3 \times \frac{360}{15} - 1 \times \frac{360}{15} = 48 \rightarrow \Delta\theta = 48$$

## سوالات عمومی آزمون های استخدامی به همراه پاسخنامه تستی سوالات

۱- اگر  $i = \begin{bmatrix} 1 \\ 0 \end{bmatrix}$  و  $j = \begin{bmatrix} 0 \\ 1 \end{bmatrix}$  آنگاه مختصات بردار  $3(i - 2j) - 2(2i + j)$  کدام است؟ (Www.iranestekhdam.ir)

$\begin{bmatrix} -1 \\ -8 \end{bmatrix}$  (۴)

$\begin{bmatrix} 1 \\ -8 \end{bmatrix}$  (۳)

$\begin{bmatrix} -1 \\ 4 \end{bmatrix}$  (۲)

$\begin{bmatrix} 1 \\ 4 \end{bmatrix}$  (۱)

۲- احتمال وقوع پیشامد A برابر  $\frac{1}{4}$  و احتمال وقوع پیشامد  $A \cup B$  برابر  $\frac{1}{3}$  و  $A \subset B$  است. احتمال وقوع پیشامد B کدام است؟

(Www.iranestekhdam.ir)

$\frac{7}{12}$  (۴)

$\frac{1}{12}$  (۳)

$\frac{1}{4}$  (۲)

$\frac{1}{3}$  (۱)

۳- حاصل انتگرال  $\int \frac{x^2}{x^2+1} dx$  برابر است با: (www.iranestekhdam.ir)

(۱)  $x - \arctan(x) + c$       (۲)  $x + 2\arctan(x) + c$       (۳)  $\tan(x) - x + c$       (۴)  $x - \tan(x) + c$

### پاسخنامه تستی سوالات

شماره سوال	گزینه صحیح
سوال ۱	۴
سوال ۲	۱
سوال ۳	۴

کاربران گرامی لطفا دقت فرمایید، این فایل تنها بخشی از محصول ویژه سوالات ۷ درس عمومی آزمون های استخدامی به همراه پاسخ تشریحی - تستی می باشد که به صورت رایگان و برای آشنایی شما عزیزان از کیفیت و محتوای فایل معرفی شده ارائه شده است، لطفاً جهت خرید و دانلود کامل این محصول، روی لینک زیر کلیک فرمایید.

**لینک دانلود و خرید بسته کامل**



**بخش سوم:**

---

**زبان و ادبیات فارسی و آیین نگارش**

## سوالات عمومی آزمون های استخدامی به همراه پاسخ تشریحی سوالات

۱- در متن زیر، چند «غلط املایی» یافت می شود؟ (Www.iranestekhdam.ir)  
 «اگر پیش از این نسیم این راحت به دماغ من رسیده بودی و لذت فراغت و حلاوت قناعت به کام من پیوسته بودی، هرگز خویشتن بدان ملک بسیار طبیعت اندک منفعت آلوده نگردانیدی.»

(۱) دو (۲) سه (۳) چهار (۴) یک

### پاسخ کارشناس سایت ایران استخدام: گزینه ۴

در متن بالا املای واژه طبیعت غلط بوده و شکل صحیح نوشتاری آن بصورت «تبعث» می باشد. تبعث به معنی نتیجه ناگوار، نتیجه بد؛ رنج و سختی می باشد.

۲- بیت زیر، با کدام بیت قرابت مفهومی دارد؟ (Www.iranestekhdam.ir)

«دریاب کنون که نعمت هست به دست  
 (۱) توانگرا چو دل و دست کامرانت هست  
 (۲) توانگران که به جنب سرای درویشند  
 (۳) هزاران توان یافت خنجر، به دانش  
 (۴) توانگر شد آن کس که خرسند گشت  
 کاین دولت و ملک می رود دست به دست»  
 بخور، ببخش که دنیا و آخرت بردی  
 ضرورت است که گاهی از او بیندیشند  
 یکی علم نتوان گرفتن، به خنجر  
 ازو آز و تیمار در بند گشت

### پاسخ کارشناس سایت ایران استخدام: گزینه ۱

معنی بیت صورت سؤال: این دم را غنیمت شمار. اکنون که نعمت حکومت به دست توست، به عدالت حکم کن که این دولت و سلطنت بر تو نیز وفا نخواهد کرد و پس از تو برای دیگری خواهد بود.  
 مفهوم ابیات دیگر:

گزینه ی ۲: هم بسیار نزدیک است؛ اما کلید در کنایه ی «اندیشیدن از درویشان» است. اندیشیدن از کسی: ترسیدن و متوهم شدن از آن، مهم شمردن آن، محل نهادن بدان. گزینه ی ۲ به احتیاط و ترسیدن اشاره دارد.  
 گزینه ی ۳: به فایده و قدرت دانش اشاره دارد.  
 گزینه ی ۴: به رضایت و شاکر بودن اشاره دارد که انسان را از ناخشنودی و طمع بازمی دارد. (تیمار: درد و رنج)

۳- در عبارت زیر، بعد از «دید»، کدام علامت نگارشی کاربرد دارد؟ (Www.iranestekhdam.ir)

«هنگام نگارش باید خوب دید یعنی، دقت داشت و هوشیار بود.»

(۱) ویرگول (،) (۲) نقطه ویرگول (؛)  
 (۳) دو نقطه (:) (۴) نقطه (.)

### پاسخ کارشناس سایت ایران استخدام: گزینه ۲

از کاربردهای نقطه ویرگول که در این سؤال مورد نظر بوده است:

۱- برای جدا کردن جمله هایی که از جهت ساختمان و مفهوم مستقل به نظر می رسند ولی در یک عبارت طولانی، با یکدیگر وابستگی معنایی دارند.  
 ۲- قبل از واژه هایی مانند «مثلاً، فرضاً، یعنی».  
 مثال دیگر: دانش آموز باید درس بخواند؛ منظم باشد و به سخنان معلم گوش فرا دهد.

## سوالات عمومی آزمون های استخدامی به همراه پاسخنامه تستی سوالات

۱- معنای بیت «چنان دید بر روی دشمن ز خشم / که شد ساخته کارش از زخم چشم» کدام است؟

([www.iranestekhdam.ir](http://www.iranestekhdam.ir))

- ۱) نگاه خصمانه‌ای به روی دشمن کرد که دشمن را از ادامه کار بازداشت.
- ۲) با نگرستن به روی حریف، فهمید که خصم بسیار خشمگین و خطرناک است.
- ۳) دشمن را آن چنان عصبانی دید که حساب کار خود را کرد و روی برگرداند.
- ۴) از روی خشم، چنان نگاهی به حریف کرد که کار خصم در اثر همان نگاه به پایان رسید.

۲- آدمی را زبان فزیه کند \*\*\* جوز بی مغز را سبکساری ([www.iranestekhdam.ir](http://www.iranestekhdam.ir))

درباره بیت بالا همه گزینه ها جز گزینه ..... نادرست نیستند.

- ۱) «فزیحه کند» فعلی است مرکب، سوم شخص مفرد مضارع التزامی
- ۲) «زبان» و «سبکساری» فاعل های جملات بیت هستند.
- ۳) «جوز بی مغز» و «آدمی» هر دو مفعول جمله ها هستند.
- ۴) بیت دو جمله دارد با یک فعل محذوف از وجه اخباری.

۳- در کدام گزینه «باد» فعل ربطی و دعایی است؟ ([www.iranestekhdam.ir](http://www.iranestekhdam.ir))

- ۱) آتش است این بانگ نای و نیست باد
- ۲) هر که این آتش ندارد، نیست باد
- ۳) خسروا! گوی فلک در خم چوگان تو باد
- ۴) حلقه بندگی زلف تر در گوشش باد

## پاسخنامه تستی سوالات

شماره سوال	گزینه صحیح
سوال ۱	۴
سوال ۲	۱
سوال ۳	۲

کاربران گرامی لطفاً دقت فرمایید، این فایل تنها بخشی از محصول ویژه سوالات ۷ درس عمومی آزمون های استخدامی به همراه پاسخ تشریحی - تستی می باشد که به صورت رایگان و برای آشنایی شما عزیزان از کیفیت و محتوای فایل معرفی شده ارائه شده است، لطفاً جهت خرید و دانلود کامل این محصول، روی لینک زیر کلیک فرمایید.

**لینک دانلود و خرید بسته کامل**





بخش چهارم:

---

معارف اسلامی

## سوالات عمومی آزمون های استخدامی به همراه پاسخ تشریحی سوالات

۱- آیات شریفه «ان فی السموات و الارض لآیات للمؤمنین» و «لو کان فیهما الهه الا الله لفسدتا» به ترتیب بر کدام یک از نفر برهان نظم دلالت می کند؟ (www.iranestekhdam.ir)

- ۱) بداهت عقلی از ناظمی مدیر - از موارد جزئی نظم، به ناظم حکیم پی می بریم.
- ۲) هماهنگی در کل عالم - از موارد جزئی نظم، به ناظم حکیم پی می بریم.
- ۳) بداهت عقلی از ناظمی مدیر - بر هدفمندی موجودات منظم تاکید دارد
- ۴) هماهنگی در کل عالم - بر هدفمندی موجودات منظم تاکید دارد.

### پاسخ کارشناس ایران استخدام: گزینه ۱

«ان فی السموات و الارض لآیات للمؤمنین» به راستی درآسمانها و زمین، برای مؤمنان نشانه هایی است دراین تقریر، از موارد جزئی نظم به ناظم حکیم پی برده میشود. هنگامی که به موجودات این عالم نگاه میکنیم، سازماندهی حساب شده و برنامه ریزی دقیق را در آن موجود، احساس میکنیم اما چنین نظمی به طور خود به خودی رخ نمیدهد؛ بنابراین، دروای چنین موجودات منظمی، ناظم حکیم وعلیمی وجود دارد که ازسر حکمت و آگاهی چنین موجودات منظمی را پدید آورده است. همچنین می توانیم با برهان غایی یعنی از هماهنگی و رابطه متقابل بخشهای مختلف جهان چونان یک ساختار مصنوع پی به یگانگی ناظم آن ببریم چنانچه در قرآن می خوانیم: «لَوْ كَانَ فِيهِمَا آلِهَةٌ إِلَّا اللَّهُ لَفَسَدَتَا». (۳۲) اگر در آسمان و زمین، خدایانی جز الله وجود داشت، تباه می شدند. اما با برهان نظم نمی توان به یگانگی ناظم پی برد. اما ناظم حکیم این مجموعه های منظم کسی جز خداوند نیست که با تدبیر حکیمانه خود این جهان را منظم آفریده است.

۲- عبارت «عبادت مستلزم شناخت معبود در حد توان انسان است»، ناظر بر فهم کدام آیه شریفه است؟ (www.iranestekhdam.ir)

- ۱) (سُرِّيهِمْ آيَاتِنَا فِي الْأَفَاقِ وَ فِي أَنْفُسِهِمْ)
- ۲) (وَ مَا خَلَقْتُ الْجِنَّ وَالْإِنْسَ إِلَّا لِيَعْبُدُونِ)
- ۳) (أَفَحَسِبْتُمْ أَنَّمَا خَلَقْنَاكُمْ عَبَثًا وَأَنَّكُمْ إِلَيْنَا لَا تُرْجَعُونَ)
- ۴) (أَطِيعُوا اللَّهَ وَ أَطِيعُوا الرَّسُولَ وَ أُولِي الْأَمْرِ مِنْكُمْ)

### پاسخ کارشناس ایران استخدام: گزینه ۲

خدا از یک سو انسان را به عبودیت دعوت می کند. چنان چه در آیات می فرماید: «مَا خَلَقْتُ الْجِنَّ وَالْإِنْسَ إِلَّا لِيَعْبُدُونِ» «من جن و انس را نیافریدم جز برای این که عبادتم کنند.» از سوی دیگر عبادت، مستلزم معرفت و شناخت به معبود است. البته تا اندازه ای که در توانایی انسان باشد؛ زیرا عبادت، بدون شناخت به معبود ارزشی ندارد.

۳- با توجه به اینکه هر چیزی از خدا صادر می شود، خیر است، چرا خداوند مانع شر در عالم نشد تا جهانی که خیر محض است، محقق شود؟ (www.iranestekhdam.ir)

- ۱) زیرا شر، ناشی از جزئی نگری است.
- ۲) زیرا شر، ناشی از جهل انسان است.
- ۳) چون شر، لازمه جهان مادی است.
- ۴) چون شر، ناشی از آزادی انسان است.

### پاسخ کارشناس سایت ایران استخدام: گزینه ۳

ابن سینا در کتاب «الهیات شفا» درباره موضوع شر بودن عالم می گوید: «اگر سوال شود که چرا خدا مانع شر در عالم نشد تا جهانی محقق شود که خیر محض است، در پاسخ باید گفت: اگر عالم مادی که تلازم اجتناب ناپذیر با شرور دارد، به گونه ای خلق می شد که در آن شری محقق نمی شد، دیگر، مادی نبود؛ بلکه عالم دیگری می شد که خیر محض است؛ در حالی که خداوند، چنین عالمی را پیش از این خلق کرده است.» پس موضوع شر؛ لازمه مادی بودن جهان است.

## سوالات عمومی آزمون های استخدامی به همراه پاسخنامه تستی سوالات

۱- پاسخ کامل پیرامون «طغیان غریزه» کدام است؟ (Www.iranestekhdam.ir)

- ۱) محرومیت از برآورده شدن مشروع میل جنسی سبب طغیان نفس است.
- ۲) محرومیت ها و نیز تسلیم مطلق شدن سبب طغیان نفس می شود.
- ۳) عدم مبارزه و نیز تسلیم مطلق شدن موجب طغیان شهوات است.
- ۴) ارضاء جنبه های جسمی میل جنسی بدون توجه به جنبه های روحی آن موجب طغیان شهوات است.

۲- بالاترین مرتبه معرفت خداوند است؟ (Www.iranestekhdam.ir)

- ۱) معرفت قلبی
- ۲) معرفت عقلی
- ۳) معرفت او از راه وحی و اعجاز
- ۴) معرفت از طریق برهان نظم

۳- علی (ع) اولین شرط توبه کامل را در چه امری بیان فرموده اند؟ (Www.iranestekhdam.ir)

- ۱) عزم به ترک گناه
- ۲) پشیمانی از گناه
- ۳) ادای حقوق دیگران
- ۴) جبران کردن فرایض ترک شده

### پاسخنامه تستی سوالات

شماره سوال	گزینه صحیح
سوال ۱	۴
سوال ۲	۱
سوال ۳	۲

کاربران گرامی لطفاً دقت فرمایید، این فایل تنها بخشی از محصول ویژه سوالات ۷ درس عمومی آزمون های استخدامی به همراه پاسخ تشریحی - تستی می باشد که به صورت رایگان و برای آشنایی شما عزیزان از کیفیت و محتوای فایل معرفی شده ارائه شده است، لطفاً جهت خرید و دانلود کامل این محصول، روی لینک زیر کلیک فرمایید.

**لینک دانلود و خرید بسته کامل**



**بخش پنجم:**

**زبان انگلیسی - عمومی**

## سوالات عمومی آزمون های استخدامی به همراه پاسخ تشریحی سوالات

1- The world is changing all the time, so are words. This sentence means that...

(Www.iranestekhdam.ir)

- 1) The world is changing, not words
- 2) Words are changing, not worlds
- 3) Only worlds are changing all the time
- 4) Not only the world but also words are always changing

پاسخ کارشناس ایران استخدام: گزینه ۴

معنی جمله:

جهان همیشه در حال تغییر است، بنابراین واژه ها در حال تغییرند، این جمله به مفهوم این است که..

(۱) جهان در حال تغییر است، نه واژه ها

(۲) واژه ها در حال تغییر است نه جهان

(۳) فقط جهان همیشه در حال تغییر است

(۴) نه فقط جهان بلکه همچنین واژه ها همیشه در حال تغییر هستند

وقتی SO در یک جمله و به دنبال جمله ای دیگر و پس از ویرگول می آید به مفهوم "بنابراین" است، که به عنوان دلیلی برای چیزی که اتفاق می افتد استفاده می شود.

2- We will have to cancel the show ..... we sell more tickets at the last minute.

(Www.iranestekhdam.ir)

- 1) so that                      2) whether                      3) unless                      4) since

پاسخ کارشناس ایران استخدام: گزینه ۳

معنی جمله: ما مجبور خواهیم شد که نمایش رو کنسل کنیم "مگر اینکه" در دقیقه آخر بلیط های بیشتری بفروشیم جمله شرطی از نوع دوم می باشد که در ساختار منفی آن به کار رفته است. در حقیقت جمله به شکل زیر بوده است:

We will have to cancel the show if We don't sell more tickets at the last minute.

3- They are trying to ..... people of the need for higher taxes. (Www.iranestekhdam.ir)

- 1) convince                      2) employ  
3) qualify                      4) allow

پاسخ کارشناس ایران استخدام: گزینه ۱

معنی جمله:

آن ها در تلاش هستند تا مردم را درباره نیاز به مالیات سنگین ...

۱- قانع کردن                      ۲- استخدام کردن                      ۳- واجد شرایط شدن                      ۴- اجازه دادن

آن ها در تلاش هستند تا مردم را قانع کنند (Convince) که به مالیات سنگین نیاز دارند.

## سوالات عمومی آزمون های استخدامی به همراه پاسخنامه تستی سوالات

1- We have enhanced the quality of the picture. "Enhance" means: .....

(Www.iranestekhdam.ir)

- 1) instruct                      2) produce                      3) improve                      4) distract

2- It is cold in the mountains and it is important to make sure you are wearing

..... clothing. (Www.iranestekhdam.ir)

- 1) safe                              2) common                      3) sufficient                      4) fashionable

3- Did you turn off the television before you went to bed? Yes, I .....

(Www.iranestekhdam.ir)

- 1) turned off it                      2) turned it off  
3) turned television off                      4) turned off television

### پاسخنامه تستی سوالات

گزینه صحیح	شماره سوال
۳	سوال ۱
۳	سوال ۲
۲	سوال ۳

کاربران گرامی لطفا دقت فرمایید، این فایل تنها بخشی از محصول ویژه سوالات ۷ درس عمومی آزمون های استخدامی به همراه پاسخ تشریحی - تستی می باشد که به صورت رایگان و برای آشنایی شما عزیزان از کیفیت و محتوای فایل معرفی شده ارائه شده است، لطفاً جهت خرید و دانلود کامل این محصول، روی لینک زیر کلیک فرمایید.

**لینک دانلود و خرید بسته کامل**





**بخش ششم:**

**اطلاعات عمومی ، دانش اجتماعی و قانون اساسی**

## سوالات عمومی آزمون های استخدامی به همراه پاسخ تشریحی سوالات

۱- «شورای عالی حفاظت فنی»؛ تحت نظر کدام وزارتخانه اداره می شود؟ (Www.iranestekhdam.ir)

- (۱) تعاون، کار و رفاه اجتماعی  
(۲) صنعت، معدن و تجارت  
(۳) دفاع و پشتیبانی نیروهای مسلح  
(۴) نیرو

**پاسخ کارشناس سایت ایران استخدام: گزینه ۱**

شورای عالی حفاظت فنی زیر نظر وزارت تعاون، کار و رفاه اجتماعی بوده و هر ماه یکبار به ریاست وزیر کار و امور اجتماعی و یا معاون ایشان در وزارت کار و امور اجتماعی تشکیل می شود و در صورت لزوم جلسات فوق العاده به تصمیم رئیس شورا برگزار می گردد.

۲- «قلعه طبرک» که به امر طغرل سوم خراب شده، در کدام شهر ایران واقع بوده است؟ (Www.iranestekhdam.ir)

- (۱) قزوین (۲) زنجان (۳) ری (۴) قم

**پاسخ کارشناس ایران استخدام: گزینه ۳**

برفراز کارخانه آجر نسوز امین آباد در شهر ری کوه کوچکی واقع بوده که در ادوار کهن به آن طبرک می گفتند و آن به سبب وجود قلعه ای با همین نام بود که به امر طغرل سوم خراب و با زمین یکسان شد و دیگر اثری از آن بجای نمانده است. قلعه طبرک از نظر قدمت به استناد متون تاریخی ظاهراً از بناهای قرون نخستین اسلامی بوده است

۳- اعضای اصلی سازمان همکاری شانگهای، کدام کشورها هستند؟ (Www.iranestekhdam.ir)

- (۱) روسیه، چین، قزاقستان، قرقیزستان، ازبکستان، تاجیکستان  
(۲) روسیه، چین، قزاقستان، قرقیزستان، ازبکستان، آذربایجان  
(۳) روسیه، چین، هند، پاکستان، ایران، قزاقستان، قرقیزستان  
(۴) روسیه، چین، هند، ایران، پاکستان، ترکمنستان

**پاسخ کارشناس سایت ایران استخدام: گزینه ۱**

سازمان همکاری شانگهای سازمانی میان دولتی است که برای همکاری های چندجانبه امنیتی، اقتصادی و فرهنگی تشکیل شده است. این سازمان در سال ۲۰۰۱ توسط رهبران چین، روسیه، قزاقستان، قرقیزستان، تاجیکستان و ازبکستان پایه گذاری شد. علاوه بر اعضای اصلی، ابتدا مغولستان در سال ۲۰۰۴ و یک سال بعد ایران، پاکستان، هند و افغانستان در سال ۲۰۱۲ به عنوان عضو ناظر به سازمان ملحق شدند.

## سوالات عمومی آزمون های استخدامی به همراه پاسخنامه تستی سوالات

۱- مصوبات جلسه غیرعلنی مجلس شورای اسلامی در چه صورتی معتبر خواهد بود؟ (Www.iranestekhdam.ir)

- (۱) در صورتی که به تصویب دو سوم مجموع نمایندگان برسد.  
(۲) در صورتی که با حضور شورای نگهبان به تصویب سه چهارم مجموع نمایندگان برسد.  
(۳) در صورتی که به تصویب سه چهارم مجموع نمایندگان برسد.  
(۴) در صورتی که با حضور شورای نگهبان به تصویب دو سوم نمایندگان برسد.

۲- قانون اساسی جمهوری اسلامی در چه تاریخی به فراندوم گذاشته شد؟ ([www.iranestekhdam.ir](http://www.iranestekhdam.ir))

- (۱) ۱۲ آذرماه پنجاه و هشت  
 (۲) ۱۲ مردادماه پنجاه و هشت  
 (۳) ۱۱ اسفندماه پنجاه و هفت  
 (۴) ۱۰ فروردین ماه پنجاه و هشت

۳- کتاب «امام در عینیت جامعه» از کیست؟ ([www.iranestekhdam.ir](http://www.iranestekhdam.ir))

- (۱) جعفر سبحانی  
 (۲) سیدجعفر شهیدی  
 (۳) محمدحسین طباطبائی  
 (۴) محمدرضا حکیمی

### پاسخنامه تستی سوالات

شماره سوال	گزینه صحیح
سوال ۱	۲
سوال ۲	۱
سوال ۳	۴

کاربران گرامی لطفاً دقت فرمایید، این فایل تنها بخشی از محصول ویژه سوالات ۷ درس عمومی آزمون های استخدامی به همراه پاسخ تشریحی - تستی می باشد که به صورت رایگان و برای آشنایی شما عزیزان از کیفیت و محتوای فایل معرفی شده ارائه شده است، لطفاً جهت خرید و دانلود کامل این محصول، روی لینک زیر کلیک فرمایید.

**لینک دانلود و خرید بسته کامل**



**بخش هفتم:**

---

**هوش و استعداد تحصیلی و شغلی**

## سوالات عمومی آزمون های استخدامی به همراه پاسخ تشریحی سوالات

راهنمایی: متن زیر را به دقت بخوانید و صحیح‌ترین پاسخ را برای سؤال ۱ انتخاب کنید و در پاسخنامه علامت بزنید.  
(www.iranestekhdam.ir)

واژه تفقد و نقد کردن، در قدیم به معنای تعیین عیار سکه طلا و تشخیص سکه واقعی از سکه قلب بوده است، اما در تداول امروز در یک مفهوم کلی به معنای قضاوت و ارزیابی درباره اعمال، افکار و آثار دیگران است و آنچه بیشتر از نقد به طور اخص مد نظر است سنجش و ارزشیابی دقیق و علمی درباره آثار و دستاوردهای علمی نویسندگان، هنرمندان و دانشمندان در تمامی حوزه های دانش بشری است. آنچه از نقد در نظر اول به ذهن متبادر می شود، ایراد و اشکال گرفتن از یک کار یا اثر علمی و هنری است، اما در واقع نقد نه ایراد و خرده‌گیری است نه اشکال تراشی، بلکه علم ارزیابی و سنجش میزان اعتبار علمی یک اثر است که مانند سایر رشته های علمی، قواعد و اصول خاص خود را دارد که به آن «روش‌شناسی نقد» گفته می شود. امروزه نقد در تمامی عرصه های علمی، هنری و ادبی وجود دارد و با پیشرفت روزافزون علوم از دیدگاه های مختلف به آن نگرسته می شود. مانند نقد از دیدگاه هرمنوتیک، مدرنیسم، پست‌مدرنیسم و غیره، لذا آگاهی از اصول نقد، علاوه بر اینکه به ما کمک می کند تا از خرده‌گیری های غیراصولی و بعضاً به دور از اخلاق علمی درباره آثار دیگران بزرزدار باشیم، سبب می شود که به دیدی کارشناسانه مسلح شویم، آنگاه درباره آثار دیگران قضاوت کنیم و امیدوار باشیم که با انتقاد اصولی و ضابطه‌مند است که می توان زمینه توسعه علمی جامعه را فراهم آورد و روزنه های جدیدی به روی علم و تحقیق گشود.

به کمک نقد است که یک اثر اعتبار می یابد و نقاط ضعف و قوت آن عیان و موجب اصلاح مداوم الگوهای دانش بشری می شود. به عنوان مثال، نقدهای فرانسیس بیکن در قرن هفدهم بر منطق قیاسی ارسطو، سبب نسخ آن و استقرار منطق جدید استقرایی شد، لذا اهمیت نقد در انقلابات علمی انکارناپذیر است. اما نقد نیز چون سایر رشته های علمی، اصول و قواعد خاص خود را دارد. اطلاع و بصیرت از این اصول، به همراه تجربه و برخورداری از ذهنی پویا و نقاد، به ما کمک می کند تا گزارشی نقادانه و سازنده از یک اثر به دست دهیم و اما اصول مذکور کدام‌اند؟ [۱]

نگاه ناقد به یک اثر، باید همچون نگاه کارآگاه به یک صحنه پلیسی باشد تا بتواند ارتباط منطقی بین اجزای یک اثر را کشف و تحلیل کند. نقد یک حمله و دفاع است، حمله به نقاط ضعف و دفاع از نقاط قوت. [۲] چه در حمله و چه در دفاع، وجدان علمی و وجدان انسانی باید حاکم باشد و قلم و شخصیت در وادی غیرعلمی حرکت نکنند. هر امری را باید با دلایل بپذیریم یا رد کنیم، هرچند که ممکن است برای دیگران مکدر کننده باشد، اما وجدان ناقد اقتضایی جز حقیقت‌گویی ندارد. [۳]

اصولاً اساس یک اثر یا کار خوب، در ایجاد ارتباط است. ارتباط بین اجزای مختلف یک اثر و هرچه این ارتباط منطقی‌تر و منسجم‌تر باشد، ارزش و اعتبار اثر نیز بیشتر است. اجزای این فضای ارتباطی، شامل «مؤلف»، «خواننده»، «بافت و زمینه های اجتماعی، فرهنگی، سیاسی و اقتصادی تولید اثر» و «متن اثر» است. [۴]

### ۱- کدام مورد، به بهترین شکل، ساختار متن را توصیف می کند؟ (www.iranestekhdam.ir)

- ۱) روند تشکیل یک سیستم ارزشیابی در واکنوی کارهای ادبی و هنری توصیف و نقاط ضعف و قوت آن مشخص می شود.
- ۲) پدیده‌ای تعریف و درباره اهمیت و لزوم انجام قاعده‌مند آن بحث می شود.
- ۳) نقش نقد در تولید و گسترش تولیدات فکری بشری در گذشته و عصر حاضر، تعریف و مقایسه می شود.
- ۴) تعریفی ارائه و دیدگاه های مختلف نسبت به این تعریف مطرح و در نهایت یک تعریف جامع‌تر عنوان می شود.

### پاسخ کارشناس ایران استخدام: گزینه ۳

با توجه به قسمت هایی از متن می توان به این نتیجه گیری دست یافت:

به کمک نقد است که یک اثر اعتبار می یابد و نقاط ضعف و قوت آن عیان و موجب اصلاح مداوم الگوهای دانش بشری می شود. به عنوان مثال، نقد های فرانسیس بیکن در قرن هفدهم بر منطق قیاسی ارسطو، سبب نسخ آن و استقرار منطق جدید استقرایی شد.

راهنمایی: برای پاسخگویی به سؤال ۲، لازم است موقعیتی را که در سؤال مطرح شده، مورد تجزیه و تحلیل قرار دهید و سپس گزینه‌ای را که فکر می‌کنید پاسخ مناسب‌تری برای سؤال است، انتخاب کنید. سؤال را با دقت بخوانید و با توجه به واقعیت‌های مطرح شده در سؤال و نتایجی که بیان شده و بیان نشده ولی قابل استنتاج است، پاسخی را که صحیح‌تر به نظر می‌رسد، انتخاب و در پاسخنامه علامت بزنید. ([Www.iranestekhdam.ir](http://Www.iranestekhdam.ir))

۲- باستان‌شناسان اعتقاد دارند موضوع شکار برای انسان‌های اولیه، بسیار حیاتی بوده و به همین دلیل، شاهد شکل‌گیری نوعی آیین اولیه در این رابطه هستیم که در آن، انسان‌های غارنشین در شب پیش از شروع شکار، تصویر حیوانی که قصد شکار آن را داشتند، روی دیواره بخش‌های داخلی غارها ترسیم کرده و ضمن انجام آیینی ویژه، با سلاح‌های خود به این نقوش ضربه زده و به صورت نمادین و مجازی، حیوان را می‌کشتند. این موضوع در آنها باوری جادویی ایجاد می‌کرد که در شکار پیش‌رو، موفق بوده و می‌توانند حیوان مورد نظر خود را شکار کنند.

کدام مورد، در صورتی که صحیح فرض شود، استدلال فوق را تضعیف می‌کند؟ ([Www.iranestekhdam.ir](http://Www.iranestekhdam.ir))

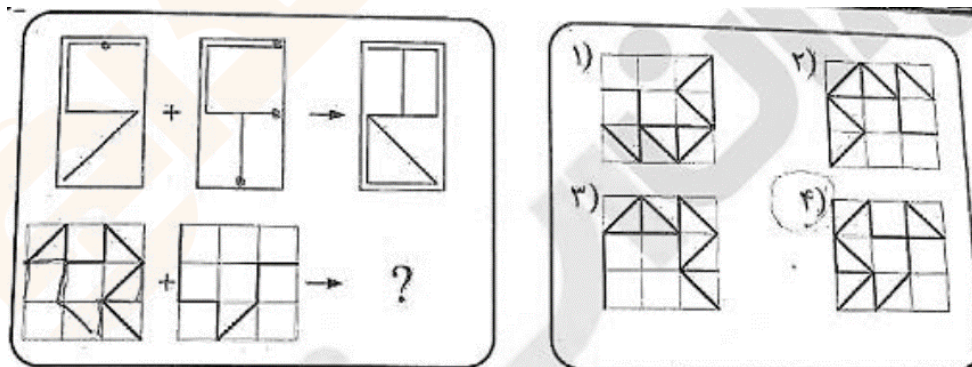
- (۱) بر روی بسیاری از غارها، نقوش حیواناتی دیده می‌شود که هرگز آن موقع شکار نمی‌شده‌اند.
- (۲) انسان‌های اولیه، علاوه بر نقوش حیوانات، قادر به ترسیم نقوش غیرحیوانی هم بوده‌اند.
- (۳) در برخی نقاط جهان، انسان‌های اولیه، بیشتر نیاز غذایی خود را از طریق جمع‌آوری دانه‌ها و میوه‌جات و یا باقیمانده شکار حیوانات دیگر تأمین می‌کرده‌اند.
- (۴) عده‌ای از متفکران بر این باورند که میل ذاتی انسان در خلق پدیده‌های جدید، در ایجاد و رشد قریحه نقاشی بی‌تأثیر نبوده است.

**پاسخ کارشناس ایران استخدام: گزینه ۱**

با توجه به استدلال گزینه اول و اینکه بر روی بسیاری از غارها، نقوش حیواناتی دیده می‌شود که هرگز آن موقع شکار نمی‌شد، پس می‌توان استنباط کرد که این کار آنها تنها به دلیل اهمیت شکار نبوده است.

راهنمایی: در سؤال ۳، الگوهای بالا سمت چپ، به طریقی با یکدیگر ترکیب و به الگوی بالا سمت راست تبدیل شده‌اند. طی فرایند تبدیل مشابه، الگوهای پایین سمت چپ به کدام الگو (موارد ۱ تا ۴) تبدیل خواهند شد؟ ([Www.iranestekhdam.ir](http://Www.iranestekhdam.ir))

۳- ([Www.iranestekhdam.ir](http://Www.iranestekhdam.ir))



**پاسخ کارشناس ایران استخدام: گزینه ۲**

با توجه به ساختار اول، مشخص می‌شود که شکل اول نسبت به محور  $y$  (عمودی) قرینه شده و با قرینه شده شکل دوم نسبت به محور  $x$  (افقی) ترکیب می‌شود تا شکل نهایی بدست آید. آنگاه با اعمال این حالت برای شکل‌های پایین به گزینه ۲ خواهیم رسید.

## سوالات عمومی آزمون های استخدامی به همراه پاسخنامه تستی سوالات

۱- در ادامه رشته اعداد زیر چه عددی باید نوشت؟ ([www.iranestekhdam.ir](http://www.iranestekhdam.ir))

۱، ۲، ۶، ۷، ۲۱، ؟

۴۲ (د)

۳۵ (ج)

۶۳ (ب)

۲۲ (الف)

۲- برای نمایندگی مدرسه‌ای سه نفر داوطلب شده‌اند، مجموع آرای نفرات اول و دوم، ۲۳۰ و مجموع آرای نفرات دوم و سوم، ۲۸۰ و مجموع آرای اول و سوم، ۲۵۰ است. اگر در روز رأی‌گیری ۵٪ از دانش‌آموزان غایب باشند آن مدرسه چند شاگرد دارد؟

([www.iranestekhdam.ir](http://www.iranestekhdam.ir))

۴۲۰ (د)

۴۰۰ (ج)

۳۸۰ (ب)

۳۶۰ (الف)

۳- کدام واژه زیر با سه واژه دیگر تفاوت بسیار دارد؟ ([www.iranestekhdam.ir](http://www.iranestekhdam.ir))

د) بریر

ج) دلبر

ب) عنبر

الف) سیمبر

## پاسخنامه تستی سوالات

شماره سوال	گزینه صحیح
سوال ۱	الف
سوال ۲	ج
سوال ۳	الف



کاربران گرامی لطفاً دقت فرمایید، این فایل تنها بخشی از محصول ویژه سوالات ۷ درس عمومی آزمون های استخدامی به همراه پاسخ تشریحی - تستی می باشد که به صورت رایگان و برای آشنایی شما عزیزان از کیفیت و محتوای فایل معرفی شده ارائه شده است، لطفاً جهت خرید و دانلود کامل این محصول، روی لینک زیر کلیک فرمایید.

**لینک دانلود و خرید بسته کامل**